

تم تحميل هذا الملف من موقع المناهج الإماراتية



## أسئلة الامتحان النهائي

[موقع المناهج](#) ← [المناهج الإماراتية](#) ← [الصف الأول](#) ← [رياضيات](#) ← [الفصل الثالث](#) ← [الملف](#)

تاريخ إضافة الملف على موقع المناهج: 2024-05-23 06:14:16

## التواصل الاجتماعي بحسب الصف الأول



اضغط هنا للحصول على جميع روابط "الصف الأول"

## روابط مواد الصف الأول على تلغرام

[الرياضيات](#)

[اللغة الانجليزية](#)

[اللغة العربية](#)

[التربية الاسلامية](#)

## المزيد من الملفات بحسب الصف الأول والمادة رياضيات في الفصل الثالث

[بطاقات للطباعة الساعة التناظرية والساعة الرقمية](#)

1

[مذكرة الوحدة الثامنة القياس والوقت](#)

2

[بوربوينت حل درس التمثيلات البيانية بالأعمدة](#)

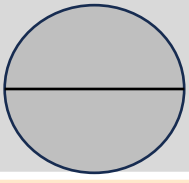
3

[مذكرة الوحدة السابعة تنظيم التمثيلات البيانية واستخدامها](#)

4

[التوزيع الزمني للخطة الفصلية للمقرر](#)

5



الدرجة

تعليم

مؤسسة الإمارات  
للتعليم المدرسي  
EMIRATES SCHOOLS  
ESTABLISHMENT

17 - 5 - 2024

الاسم : .....

الصف الأول

اختبار نهاية الفصل الدراسي الثالث - الرياضيات

السؤال الأول اختر الإجابة الصحيحة . \_\_\_\_\_ 40 درجة

الخضروات	علامات الاحصاء
 جزر	
 فاصوليا	
 ذرة	

1 نوع الخضار الأكثر تفضيلاً

 جزر	.A
 فاصوليا	.B
 ذرة	.C

اللون	علامات الاحصاء
 الأحمر	
 الأزرق	
 البنفسجي	

2 عدد الطلاب الذين صوتوا للبنفسجي







8	.A
3	.B
5	.C

الوجبة الخفيفة	علامات الاحصاء
بسكويت	
موز	
جزر	

3 كم عدد الطلاب الذي شاركوا في الإستطلاع؟



6	.A
12	.B
2	.C

4 بكم يزيد عدد الطلاب الذين يذهبون إلى المدرسة بالحافلة عن الذين يذهبون بالدراجة؟

 حافلة	
 دراجة	
 مشي	

5	.A
2	.B
4	.C

5 ما الفاكهة الأقل تفضيلاً؟

 فراولة	
 برتقال	
 تفاح	

 فراولة	.A
 برتقال	.B
 تفاح	.C



الوقت الموضح على الساعة التناظرية هو

12



3 : 30	.A
3 : 00	.B
4 : 30	.C

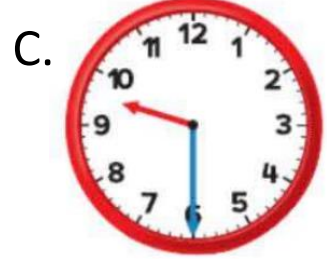
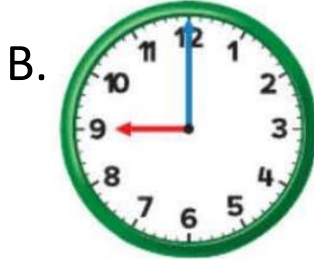
الساعة الرقمية التي تظهر الساعة 8

13



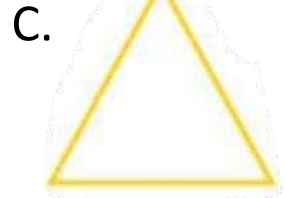

الساعة التناظرية التي تظهر الساعة 9 والنصف

14





شكل ثنائي الأبعاد له 4 أضلاع بنفس الطول

15



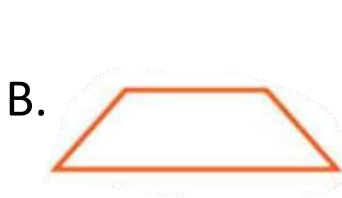
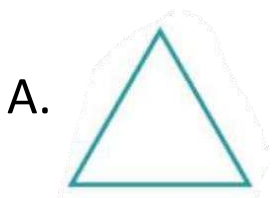
شكل ثنائي الأبعاد يطابق هذا الشيء

16





شبه المنحرف



17




18 الشكل الذي يوضح الأجزاء المتساوية



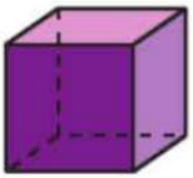
19 الشكل الذي يوضح أنصاف



20 الشكل المغلق



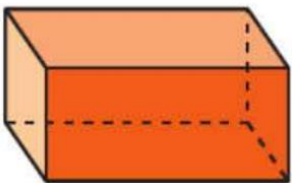
السؤال الثاني صل المفردة الصحيحة بالصورة المناسبة \_\_\_\_\_ \ 4 درجات



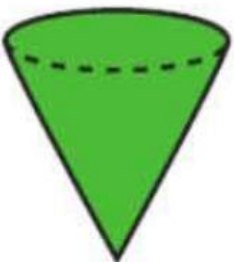
A. مخروط



B. مكعب



C. أسطوانة




D. منشور مستطيل

## السؤال الثالث

قسم الأشكال التالية إلى


2 | درجة

A.



أنصاف

B.




4 أجزاء متساوية

## السؤال الرابع

ارسم عقرب الدقائق الموضح في الساعة الرقمية 2 | درجة

A.



B.





2 | درجة

ارسم التمثيل البياني بالصور

## السؤال الخامس

الطقس المفضل	
الطقس	علامات الاحصاء
 مشمس	
 ممطر	

 مشمس							
 ممطر							