

## شكراً لتحميلك هذا الملف من موقع المناهج الإماراتية



## أوراق عمل حول الأعداد

[موقع المناهج](#) ⇨ [المناهج الإماراتية](#) ⇨ [الصف الأول](#) ⇨ [رياضيات](#) ⇨ [الفصل الأول](#) ⇨ [الملف](#)

تاريخ إضافة الملف على موقع المناهج: 19-04-2019 19:28:32

[إعداد: فرح عطية](#)

## التواصل الاجتماعي بحسب الصف الأول



[اضغط هنا للحصول على جميع روابط "الصف الأول"](#)

## روابط مواد الصف الأول على تلغرام

[الرياضيات](#)

[اللغة الانجليزية](#)

[اللغة العربية](#)

[التربية الاسلامية](#)

## المزيد من الملفات بحسب الصف الأول والمادة رياضيات في الفصل الأول

[مذكرة وحدة مفاهيم الطرح](#)

1

[تدريبات لمهارات الجمع حتى 20](#)

2

[مذكرة وحدة استراتيجيات الجمع حتى 20](#)

3

[مذكرة وحدة الجمع طرائق تكوين الأعداد](#)

4

# المزيد من الملفات بحسب الصف الأول والمادة رياضيات في الفصل الأول

أوراق عمل مراجعة لاختبار درس الطرح

5



مادة: الرياضيات

ورقة عمل




لفصل الدراسي الأول للعام الدراسي 2016 / 2017

لصف: الأول





لشعبة: .....

اسم الطالب: .....

السؤال الأول: اقرأ العدد و لون المطلوب:

		
4	3	5

عد و اكتب العدد داخل المربع يا عبقرى:

	
<input type="text"/>	<input type="text"/>
	
<input type="text"/>	<input type="text"/>

[www.syCourse.com/uae](http://www.syCourse.com/uae)

موقع المناهج

معلمك فرح عطية



مادة: الرياضيات

ورقة عمل

لفصل الدراسي الأول للعام الدراسي 2016 / 2017

لصف: الأول

لشعبة: .....

اسم الطالب: .....

السؤال الأول: لون اربعة (4) كتب:



اكتب:

4	4	4	4	4
4	4	4	4	4
4	4	4	4	4

السؤال الثاني:

احصر اربعة (4) بالونات:



ارسم اربعة (4) مثلثات:



مادة: الرياضيات

ورقة عمل

لفصل الدراسي الأول للعام الدراسي 2016 / 2017

لصف: الأول

لشعبة: .....

اسم الطالب: .....

السؤال الأول:

لون سمكتين



2	2	2	2	2
2	2	2	2	2
2	2	2	2	2

اكتب:

السؤال الثاني:

احصر سمكتين:

ارسم شجرتين والونهما:



[www.syCourse.com/uae](http://www.syCourse.com/uae)

موقع المناهج

معلمتك فرح عطية



مادة: الرياضيات

ورقة عمل

لفصل الدراسي الأول للعام الدراسي 2016 / 2017

لصف: الأول

لشعبة: .....

اسم الطالب: .....

السؤال الأول:

نور ثلاثة (3) قوارب يا صغيري:

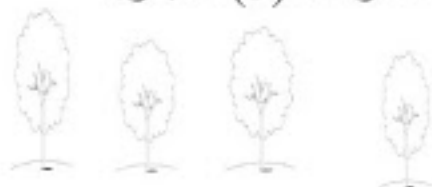


3	3	3	3	3
3	3	3	3	3
3	3	3	3	3

اكتب

السؤال الثاني

احصر ثلاثة (3) اشجار:



ارسم ثلاثة (3) كرات:

[www.syCourse.com/uae](http://www.syCourse.com/uae)

موقع المناهج

معلمتك فرح عطية



مادة: الرياضيات

ورقة عمل

لفصل الدراسي الأول للعام الدراسي 2016 / 2017

لصف: الأول

لشعبة: .....

اسم الطالب: .....

سؤال الأول: لون سيارة واحدة:



اكتب:


السؤال الثاني:

احصر نجلة واحدة:

ارسم وردة واحدة والونها:



مادة: الرياضيات

ورقة عمل

لفصل الدراسي الأول للعام الدراسي 2016 / 2017

لصف: الأول

لشعبة: .....

اسم الطالب: .....

السؤال الأول: لون خمسة (5) تفاحات



5	5	5	5	5
5	5	5	5	5
5	5	5	5	5

\*\*\*\*\*


السؤال الثاني:

احصر خمسة (5) نجوم:



ارسم خمسة (5) موزات:

[www.syCourse.com/uae](http://www.syCourse.com/uae)



معلمتك فرح عطية