

تم تحميل هذا الملف من موقع المناهج الإماراتية



مذكرة الوحدة الثانية مفاهيم الطرح

موقع المناهج ← المناهج الإماراتية ← الصف الأول ← رياضيات ← الفصل الأول ← ملفات متنوعة ← الملف

تاريخ إضافة الملف على موقع المناهج: 2024-09-30 21:16:49

ملفات اكتب للمعلم اكتب للطالب الاختبارات الكترونية | اختبارات | حلول | عروض بوربوينت | أوراق عمل
منهج انجليزي | ملخصات وتقارير | مذكرات وبنوك | الامتحان النهائي للمدرس

المزيد من مادة
رياضيات:

إعداد: نهلة المزروعي

التواصل الاجتماعي بحسب الصف الأول



صفحة المناهج
الإماراتية على
فيسبوك

الرياضيات

اللغة الانجليزية

اللغة العربية

التربية الاسلامية

المواد على تلغرام

المزيد من الملفات بحسب الصف الأول والمادة رياضيات في الفصل الأول

كتاب دليل المعلم المجلد الأول

1

إدارة تقييم وقياس أداء الطلبة في الاختبار التشخيصي

2

ورقة عمل الدرس الثاني تمثيل الجمع من الوحدة الأولى

3

بوربوينت حل درس قراءة وكتابة الأعداد 9 و 10

4

بوربوينت تحضير مادة الرياضيات

5

الصف الأول الأساسي



مؤسسة الإمارات
للتعليم المدرسي
EMIRATES SCHOOLS
ESTABLISHMENT

مذكرة الوحدة 2
مفاهيم الطرح



الاسم
الشعبة

إعداد المعلمة : نهلة المزروعى

اكتب الجزء الناقص

جزء	جزء
_____	5
الكل	
8	

جزء	جزء
_____	2
الكل	
5	

جزء	جزء
4	_____
الكل	
6	

جزء	جزء
1	_____
الكل	
4	

جزء	جزء
_____	7
الكل	
10	

جزء	جزء
_____	5
الكل	
7	

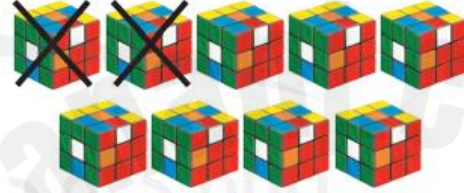
جزء	جزء
5	_____
الكل	
6	

جزء	جزء
3	_____
الكل	
9	

اكتب جملة الطرح العددية



___ ○ ___ ○ ___



___ ○ ___ ○ ___



___ ○ ___ ○ ___



___ ○ ___ ○ ___



___ ○ ___ ○ ___




___ ○ ___ ○ ___

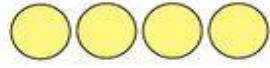
اشطب واكتب الفرق

Name: _____

Date: _____



$$2 - 1 = \underline{1}$$



$$4 - 2 = \underline{\quad}$$



$$4 - 1 = \underline{\quad}$$



$$3 - 2 = \underline{\quad}$$



$$5 - 1 = \underline{\quad}$$




$$5 - 3 = \underline{\quad}$$



$$5 - 2 = \underline{\quad}$$



$$3 - 1 = \underline{\quad}$$



$$4 - 3 = \underline{\quad}$$



$$5 - 4 = \underline{\quad}$$

twistynoodle.com



اكتب الفرق

BASIC SUBTRACTION WORKSHEET

Fill out the box with the right answer.



$$4 - 1 = \square$$



$$3 - 1 = \square$$



$$5 - 4 = \square$$



$$4 - 0 = \square$$



$$2 - 2 = \square$$

2

3

1

4

0

LIVEWORKSHEETS

اشطب واكتب الفرق



Name _____

Spring Insects Subtraction

Solve. Draw an X on the pictures that are subtracted.

$$10 - 4 = \underline{\quad}$$

$$8 - 3 = \underline{\quad}$$

$$6 - 5 = \underline{\quad}$$

$$10 - 8 = \underline{\quad}$$

$$7 - 4 = \underline{\quad}$$

$$9 - 6 = \underline{\quad}$$

© Kool Kinder

اشطب واكتب الفرق



Name _____

Bee Garden Subtraction

Solve. Draw an X on the pictures that are subtracted.

$$10 - 2 = \underline{\quad}$$

$$5 - 2 = \underline{\quad}$$

$$10 - 5 = \underline{\quad}$$

$$8 - 7 = \underline{\quad}$$

$$9 - 4 = \underline{\quad}$$

$$6 - 5 = \underline{\quad}$$

© Kool Kinder

اختر جملة الطرح العددية التي تمثل النموذج

Name

Date



SUBTRACTION SENTENCES TO 10 SHEET 1

Circle the correct subtraction problem that matches the picture.

1)		6 - 1	5 - 2	7 - 3	4 - 3
2)		4 - 2	5 - 1	6 - 3	7 - 2
3)		8 - 1	5 - 3	6 - 5	4 - 2
4)		6 - 2	4 - 1	7 - 3	5 - 2
5)		7 - 2	8 - 3	6 - 4	5 - 3
6)		9 - 5	5 - 2	8 - 4	6 - 5



اختر جملة الطرح العددية التي تمثل النموذج

Name

Date



SUBTRACTION SENTENCES TO 10 SHEET 3

Circle the correct subtraction problem that matches the picture.

1)		6 - 3	7 - 2	8 - 3	7 - 3
2)		6 - 3	7 - 4	6 - 4	5 - 4
3)		8 - 5	7 - 6	8 - 7	7 - 5
4)		8 - 5	7 - 5	9 - 6	8 - 4
5)		8 - 4	6 - 3	9 - 3	7 - 4
6)		10 - 5	9 - 4	9 - 3	10 - 4

جد الفرق



$$5 - 5 = \underline{\quad}$$



$$3 - 0 = \underline{\quad}$$



$$6 - 6 = \underline{\quad}$$



$$3 - 3 = \underline{\quad}$$



$$7 - 0 = \underline{\quad}$$



$$5 - 0 = \underline{\quad}$$

جد الفرق

Subtracting Zero (0) (A)

Name: _____ Date: _____ Score: ___/25

Calculate each difference.

$$\begin{array}{r} 2 \\ -0 \\ \hline \end{array}$$

$$\begin{array}{r} 7 \\ -0 \\ \hline \end{array}$$

$$\begin{array}{r} 3 \\ -0 \\ \hline \end{array}$$

$$\begin{array}{r} 9 \\ -0 \\ \hline \end{array}$$

$$\begin{array}{r} 4 \\ -0 \\ \hline \end{array}$$

$$\begin{array}{r} 1 \\ -0 \\ \hline \end{array}$$

$$\begin{array}{r} 6 \\ -0 \\ \hline \end{array}$$

$$\begin{array}{r} 5 \\ -0 \\ \hline \end{array}$$

$$\begin{array}{r} 8 \\ -0 \\ \hline \end{array}$$

$$\begin{array}{r} 0 \\ -0 \\ \hline \end{array}$$

$$\begin{array}{r} 0 \\ -0 \\ \hline \end{array}$$

$$\begin{array}{r} 4 \\ -0 \\ \hline \end{array}$$

$$\begin{array}{r} 3 \\ -0 \\ \hline \end{array}$$

$$\begin{array}{r} 9 \\ -0 \\ \hline \end{array}$$

$$\begin{array}{r} 5 \\ -0 \\ \hline \end{array}$$

$$\begin{array}{r} 1 \\ -0 \\ \hline \end{array}$$

$$\begin{array}{r} 6 \\ -0 \\ \hline \end{array}$$

$$\begin{array}{r} 7 \\ -0 \\ \hline \end{array}$$

$$\begin{array}{r} 2 \\ -0 \\ \hline \end{array}$$

$$\begin{array}{r} 8 \\ -0 \\ \hline \end{array}$$

$$\begin{array}{r} 2 \\ -0 \\ \hline \end{array}$$

$$\begin{array}{r} 5 \\ -0 \\ \hline \end{array}$$

$$\begin{array}{r} 8 \\ -0 \\ \hline \end{array}$$

$$\begin{array}{r} 0 \\ -0 \\ \hline \end{array}$$

$$\begin{array}{r} 3 \\ -0 \\ \hline \end{array}$$

جد الفرق

Name

Date



SUBTRACTION TO 5 SHEET 1

0	1	2	3	4	5
---	---	---	---	---	---

1) $3 - 1 = \underline{\quad}$

11) $5 - 2 = \underline{\quad}$

2) $2 - 2 = \underline{\quad}$

12) $4 - 4 = \underline{\quad}$

3) $4 - 0 = \underline{\quad}$

13) $3 - 2 = \underline{\quad}$

4) $5 - 1 = \underline{\quad}$

14) $1 - 1 = \underline{\quad}$

5) $3 - 3 = \underline{\quad}$

15) $4 - 3 = \underline{\quad}$

6) $2 - 1 = \underline{\quad}$

16) $5 - 4 = \underline{\quad}$

7) $4 - 2 = \underline{\quad}$

17) $4 - 1 = \underline{\quad}$

8) $3 - 2 = \underline{\quad}$

18) $5 - 3 = \underline{\quad}$


9) $1 - 0 = \underline{\quad}$

19) $2 - 2 = \underline{\quad}$

10) $4 - 3 = \underline{\quad}$

20) $5 - 2 = \underline{\quad}$

جد الفرق



$$\begin{array}{r} 9 \\ - 2 \\ \hline \square \end{array}$$




$$\begin{array}{r} 8 \\ - 6 \\ \hline \square \end{array}$$



$$\begin{array}{r} 4 \\ - 2 \\ \hline \square \end{array}$$



$$\begin{array}{r} 4 \\ - 2 \\ \hline \square \end{array}$$



$$9 - 4 = \underline{\quad}$$



$$6 - 2 = \underline{\quad}$$



$$7 - 5 = \underline{\quad}$$



$$8 - 2 = \underline{\quad}$$



Kindergarten Subtraction Worksheet

Name _____



$$5 - 1 = \underline{\quad}$$



$$6 - 2 = \underline{\quad}$$



$$4 - 3 = \underline{\quad}$$




$$7 - 5 = \underline{\quad}$$



Bird Subtraction Worksheet

Name _____


$$\begin{array}{r} 3 \\ - 2 \\ \hline \end{array}$$


$$\begin{array}{r} 4 \\ - 3 \\ \hline \end{array}$$


$$\begin{array}{r} 3 \\ - 1 \\ \hline \end{array}$$


$$\begin{array}{r} 2 \\ - 1 \\ \hline \end{array}$$


$$\begin{array}{r} 5 \\ - 2 \\ \hline \end{array}$$


$$\begin{array}{r} 4 \\ - 2 \\ \hline \end{array}$$


حل المسائل التالية

أَمَسَكَتْ فَاطِمَةُ 4 ضَفَادِعَ، قَفَزَتْ 3 ضَفَادِعَ
بَعِيدًا، فَكَمْ عَدَدُ الضَّفَادِعِ الْمُبَقَّيَةِ لَدَى فَاطِمَةَ؟

___ ○ ___ ○ ___

لَدَى عَائِشَةَ 6 كُتُبٍ، أَعْطَتْ أُخْتَهَا 2،
فَكَمْ عَدَدُ الْكُتُبِ الْمُبَقَّيَةِ لَدَى عَائِشَةَ؟

___ ○ ___ ○ ___

لَدَى عَلِيِّ 6 ثَمَرَاتِ كَرَزٍ،
أَكَلَ 3 ثَمَرَاتٍ مِنْهَا،
فَكَمْ عَدَدُ ثَمَرَاتِ الْكَرَزِ الْمُبَقَّيَةِ؟

___ ○ ___ ○ ___

هُنَاكَ 4 ثَعَابِينَ، وَهُنَاكَ 1 قِرْدٌ شِمْبَانِزِي.
فَكَمْ يَقِلُّ عَدَدُ قُرُودِ الشِّمْبَانِزِيِّ عَنِ الثَّعَابِينَ؟

___ ○ ___ ○ ___


يُوجَدُ 9 فَرَاشَاتٍ سُودٍ، وَ 5 فَرَاشَاتٍ صُفْرِ،
فَكَمْ يَقِلُّ عَدَدُ الْفَرَاشَاتِ الصُّفْرِ عَنِ السُّودِ؟

___ ○ ___ ○ ___

هُنَاكَ 5 فُهُودٍ، وَهُنَاكَ 3 غُورِيَلَاتٍ،
فَكَمْ يَقِلُّ عَدَدُ الْغُورِيَلَاتِ عَنِ الْفُهُودِ؟

___ ○ ___ ○ ___

اكتب طرق الطرح من العدد 4




$$4 - \underline{\quad} = \underline{\quad}$$

$$4 - \underline{\quad} = \underline{\quad}$$

$$4 - \underline{\quad} = \underline{\quad}$$

$$4 - \underline{\quad} = \underline{\quad}$$

اكتب طرق الطرح من العدد 5



$$5 - \underline{\quad} = \underline{\quad}$$

$$5 - \underline{\quad} = \underline{\quad}$$

$$5 - \underline{\quad} = \underline{\quad}$$

$$5 - \underline{\quad} = \underline{\quad}$$

$$5 - \underline{\quad} = \underline{\quad}$$

جد الفرق

SUBTRACTION UP TO 5

Cut out the pieces to help you subtract. Write the total in the box.

$4 - 3 =$

$4 - 2 =$

$3 - 3 =$

$5 - 2 =$

$5 - 4 =$

$5 - 1 =$

$3 - 1 =$

$2 - 1 =$

$3 - 2 =$

Name: _____

© 2022 K5 Learning.org All rights reserved.
Made with Canva, stripstips, printspreading.com

جد الفرق

K5 Learning

Subtract within 5

Kindergarten Subtraction Worksheet

Find the differences.

¹⁾ $3 - 0 =$ _____

⁷⁾ $4 - 1 =$ _____

²⁾ $4 - 2 =$ _____

⁸⁾ $3 - 1 =$ _____

³⁾ $2 - 0 =$ _____

⁹⁾ $4 - 0 =$ _____

⁴⁾ $2 - 2 =$ _____

¹⁰⁾ $4 - 3 =$ _____

⁵⁾ $5 - 2 =$ _____

¹¹⁾ $1 - 0 =$ _____

⁶⁾ $0 - 0 =$ _____

¹²⁾ $1 - 1 =$ _____





Osmo

SIMPLE SUBTRACTION WORKSHEETS

Subtractions within number five.

1) $\begin{array}{r} 3 \\ - 3 \\ \hline \end{array}$	5) $\begin{array}{r} 5 \\ - 0 \\ \hline \end{array}$	9) $\begin{array}{r} 2 \\ - 1 \\ \hline \end{array}$
2) $\begin{array}{r} 4 \\ - 1 \\ \hline \end{array}$	6) $\begin{array}{r} 5 \\ - 2 \\ \hline \end{array}$	10) $\begin{array}{r} 4 \\ - 0 \\ \hline \end{array}$
3) $\begin{array}{r} 1 \\ - 0 \\ \hline \end{array}$	7) $\begin{array}{r} 3 \\ - 0 \\ \hline \end{array}$	11) $\begin{array}{r} 3 \\ - 2 \\ \hline \end{array}$
4) $\begin{array}{r} 2 \\ - 2 \\ \hline \end{array}$	8) $\begin{array}{r} 4 \\ - 2 \\ \hline \end{array}$	12) $\begin{array}{r} 2 \\ - 0 \\ \hline \end{array}$

Student Name: _____ Teacher: _____
Class: _____ Date: _____


Subtraction(0-10)

Let's subtract the numbers!

$\begin{array}{r} 2 \\ - 1 \\ \hline \end{array}$	$\begin{array}{r} 3 \\ - 2 \\ \hline \end{array}$	$\begin{array}{r} 4 \\ - 2 \\ \hline \end{array}$	$\begin{array}{r} 3 \\ - 1 \\ \hline \end{array}$
$\begin{array}{r} 4 \\ - 3 \\ \hline \end{array}$	$\begin{array}{r} 6 \\ - 4 \\ \hline \end{array}$	$\begin{array}{r} 5 \\ - 1 \\ \hline \end{array}$	$\begin{array}{r} 6 \\ - 2 \\ \hline \end{array}$
$\begin{array}{r} 5 \\ - 2 \\ \hline \end{array}$	$\begin{array}{r} 6 \\ - 3 \\ \hline \end{array}$	$\begin{array}{r} 7 \\ - 2 \\ \hline \end{array}$	$\begin{array}{r} 5 \\ - 3 \\ \hline \end{array}$
$\begin{array}{r} 6 \\ - 6 \\ \hline \end{array}$	$\begin{array}{r} 5 \\ - 4 \\ \hline \end{array}$	$\begin{array}{r} 6 \\ - 1 \\ \hline \end{array}$	$\begin{array}{r} 7 \\ - 5 \\ \hline \end{array}$

facebook.com/Aboutpreschool.net
 www.aboutpreschool.net

اكتب طرق الطرح من العدد 7



$$7 - \underline{\quad} = \underline{\quad}$$

$$7 - \underline{\quad} = \underline{\quad}$$

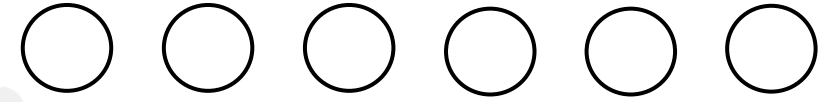
$$7 - \underline{\quad} = \underline{\quad}$$

$$7 - \underline{\quad} = \underline{\quad}$$

$$7 - \underline{\quad} = \underline{\quad}$$

$$7 - \underline{\quad} = \underline{\quad}$$

اكتب طرق الطرح من العدد 6



$$6 - \underline{\quad} = \underline{\quad}$$

$$6 - \underline{\quad} = \underline{\quad}$$

$$6 - \underline{\quad} = \underline{\quad}$$

$$6 - \underline{\quad} = \underline{\quad}$$

$$6 - \underline{\quad} = \underline{\quad}$$

$$6 - \underline{\quad} = \underline{\quad}$$

Super Subtraction

Complete the subtraction problems.



$$\begin{array}{r} 2 \\ - 1 \\ \hline \end{array}$$

$$\begin{array}{r} 4 \\ - 3 \\ \hline \end{array}$$

$$\begin{array}{r} 8 \\ - 3 \\ \hline \end{array}$$

$$\begin{array}{r} 5 \\ - 2 \\ \hline \end{array}$$

$$\begin{array}{r} 3 \\ - 0 \\ \hline \end{array}$$

$$\begin{array}{r} 8 \\ - 5 \\ \hline \end{array}$$

$$\begin{array}{r} 7 \\ - 2 \\ \hline \end{array}$$

$$\begin{array}{r} 4 \\ - 1 \\ \hline \end{array}$$

$$\begin{array}{r} 9 \\ - 4 \\ \hline \end{array}$$

$$\begin{array}{r} 6 \\ - 3 \\ \hline \end{array}$$

$$\begin{array}{r} 5 \\ - 4 \\ \hline \end{array}$$

$$\begin{array}{r} 6 \\ - 1 \\ \hline \end{array}$$

$$\begin{array}{r} 2 \\ - 0 \\ \hline \end{array}$$

$$\begin{array}{r} 9 \\ - 3 \\ \hline \end{array}$$

$$\begin{array}{r} 7 \\ - 7 \\ \hline \end{array}$$

$$\begin{array}{r} 3 \\ - 1 \\ \hline \end{array}$$

$$\begin{array}{r} 8 \\ - 4 \\ \hline \end{array}$$

$$\begin{array}{r} 5 \\ - 0 \\ \hline \end{array}$$

$$\begin{array}{r} 7 \\ - 3 \\ \hline \end{array}$$

$$\begin{array}{r} 9 \\ - 2 \\ \hline \end{array}$$



Single Digit Subtraction

Kindergarten Subtraction Worksheet

$$\begin{array}{r} 1) \quad 6 \\ - 2 \\ \hline \end{array}$$

$$\begin{array}{r} 4) \quad 5 \\ - 2 \\ \hline \end{array}$$

$$\begin{array}{r} 7) \quad 8 \\ - 2 \\ \hline \end{array}$$

$$\begin{array}{r} 10) \quad 7 \\ - 3 \\ \hline \end{array}$$

$$\begin{array}{r} 2) \quad 4 \\ - 3 \\ \hline \end{array}$$

$$\begin{array}{r} 5) \quad 6 \\ - 3 \\ \hline \end{array}$$

$$\begin{array}{r} 6) \quad 4 \\ - 1 \\ \hline \end{array}$$

$$\begin{array}{r} 11) \quad 4 \\ - 2 \\ \hline \end{array}$$

$$\begin{array}{r} 3) \quad 2 \\ - 1 \\ \hline \end{array}$$

$$\begin{array}{r} 6) \quad 3 \\ - 2 \\ \hline \end{array}$$

$$\begin{array}{r} 9) \quad 6 \\ - 5 \\ \hline \end{array}$$

$$\begin{array}{r} 12) \quad 1 \\ - 1 \\ \hline \end{array}$$

اكتب طرق الطرح من العدد 8



$$8 - \underline{\quad} = \underline{\quad}$$

$$8 - \underline{\quad} = \underline{\quad}$$

$$8 - \underline{\quad} = \underline{\quad}$$

$$8 - \underline{\quad} = \underline{\quad}$$

$$8 - \underline{\quad} = \underline{\quad}$$

$$8 - \underline{\quad} = \underline{\quad}$$

$$8 - \underline{\quad} = \underline{\quad}$$

$$8 - \underline{\quad} = \underline{\quad}$$



Skill - Single Digit Subtraction

Name: _____



Christmas Subtraction Worksheet



$$\begin{array}{r} 7 \\ - 1 \\ \hline \end{array}$$

$$\begin{array}{r} 9 \\ - 0 \\ \hline \end{array}$$

$$\begin{array}{r} 3 \\ - 1 \\ \hline \end{array}$$

$$\begin{array}{r} 6 \\ - 0 \\ \hline \end{array}$$

$$\begin{array}{r} 8 \\ - 7 \\ \hline \end{array}$$

$$\begin{array}{r} 8 \\ - 1 \\ \hline \end{array}$$

$$\begin{array}{r} 4 \\ - 1 \\ \hline \end{array}$$

$$\begin{array}{r} 7 \\ - 5 \\ \hline \end{array}$$

$$\begin{array}{r} 7 \\ - 2 \\ \hline \end{array}$$

$$\begin{array}{r} 4 \\ - 0 \\ \hline \end{array}$$

$$\begin{array}{r} 9 \\ - 3 \\ \hline \end{array}$$

$$\begin{array}{r} 7 \\ - 6 \\ \hline \end{array}$$

$$\begin{array}{r} 4 \\ - 0 \\ \hline \end{array}$$

$$\begin{array}{r} 8 \\ - 6 \\ \hline \end{array}$$

$$\begin{array}{r} 8 \\ - 8 \\ \hline \end{array}$$

$$\begin{array}{r} 7 \\ - 0 \\ \hline \end{array}$$

$$\begin{array}{r} 6 \\ - 6 \\ \hline \end{array}$$

$$\begin{array}{r} 8 \\ - 5 \\ \hline \end{array}$$

$$\begin{array}{r} 4 \\ - 4 \\ \hline \end{array}$$

$$\begin{array}{r} 3 \\ - 0 \\ \hline \end{array}$$

$$\begin{array}{r} 1 \\ - 0 \\ \hline \end{array}$$


$$\begin{array}{r} 3 \\ - 3 \\ \hline \end{array}$$

$$\begin{array}{r} 8 \\ - 5 \\ \hline \end{array}$$

$$\begin{array}{r} 7 \\ - 1 \\ \hline \end{array}$$

$$\begin{array}{r} 4 \\ - 3 \\ \hline \end{array}$$

اكتب طرق الطرح من العدد 9



$$9 - \underline{\quad} = \underline{\quad}$$

$$9 - \underline{\quad} = \underline{\quad}$$

$$9 - \underline{\quad} = \underline{\quad}$$

$$9 - \underline{\quad} = \underline{\quad}$$

$$9 - \underline{\quad} = \underline{\quad}$$

$$9 - \underline{\quad} = \underline{\quad}$$

$$9 - \underline{\quad} = \underline{\quad}$$

$$9 - \underline{\quad} = \underline{\quad}$$

Name

Date



SUBTRACTION TO 10 SHEET 4

1

2

3

4

5

6

7

8

9

10

Work out these subtraction facts.

1) $6 - 1 =$

10) $8 - 3 =$

2) $3 - 1 =$

11) $5 - 3 =$

3) $5 - 2 =$

12) $7 - 1 =$

4) $8 - 2 =$

13) $4 - 3 =$

5) $4 - 1 =$

14) $6 - 3 =$

6) $7 - 2 =$

15) $9 - 4 =$

7) $9 - 2 =$

16) $7 - 4 =$

8) $10 - 1 =$

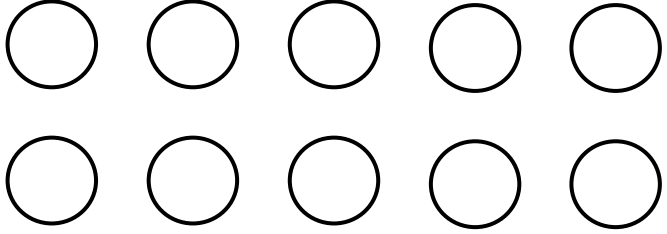
17) $10 - 3 =$

9) $7 - 3 =$

18) $8 - 5 =$



اكتب طرق الطرح من العدد 10



$$10 - \underline{\quad} = \underline{\quad}$$

$$10 - \underline{\quad} = \underline{\quad}$$

$$10 - \underline{\quad} = \underline{\quad}$$

$$10 - \underline{\quad} = \underline{\quad}$$

$$10 - \underline{\quad} = \underline{\quad}$$

$$10 - \underline{\quad} = \underline{\quad}$$

$$10 - \underline{\quad} = \underline{\quad}$$

$$10 - \underline{\quad} = \underline{\quad}$$

$$10 - \underline{\quad} = \underline{\quad}$$

$$10 - \underline{\quad} = \underline{\quad}$$

Subtraction (1-10)



10	-	3	=	<input type="text"/>
6	-	4	=	<input type="text"/>
8	-	5	=	<input type="text"/>
9	-	2	=	<input type="text"/>
7	-	5	=	<input type="text"/>
8	-	4	=	<input type="text"/>
9	-	5	=	<input type="text"/>
4	-	2	=	<input type="text"/>
6	-	0	=	<input type="text"/>
7	-	7	=	<input type="text"/>
7	-	3	=	<input type="text"/>

اكتب الحقائق المترابطة

جزء	جزء
3	6
الكل	
9	

$$\underline{\quad} + \underline{\quad} = \underline{\quad}$$

$$\underline{\quad} - \underline{\quad} = \underline{\quad}$$

جزء	جزء
2	4
الكل	
6	

$$\underline{\quad} + \underline{\quad} = \underline{\quad}$$

$$\underline{\quad} - \underline{\quad} = \underline{\quad}$$

جزء	جزء
4	3
الكل	
7	

$$\underline{\quad} + \underline{\quad} = \underline{\quad}$$

$$\underline{\quad} - \underline{\quad} = \underline{\quad}$$

جزء	جزء
3	5
الكل	
8	

$$\underline{\quad} + \underline{\quad} = \underline{\quad}$$

$$\underline{\quad} - \underline{\quad} = \underline{\quad}$$

$$1 + 4 = 5$$

$$\underline{\quad} - \underline{\quad} = \underline{\quad}$$

$$\underline{\quad} - \underline{\quad} = \underline{\quad}$$

$$5 + 3 = 8$$

$$\underline{\quad} - \underline{\quad} = \underline{\quad}$$

$$\underline{\quad} - \underline{\quad} = \underline{\quad}$$

$$4 + 2 = 6$$

$$\underline{\quad} - \underline{\quad} = \underline{\quad}$$

$$\underline{\quad} - \underline{\quad} = \underline{\quad}$$

Single-Digit Subtraction

1
$$\begin{array}{r} 3 \\ - 2 \\ \hline \end{array}$$

2
$$\begin{array}{r} 9 \\ - 3 \\ \hline \end{array}$$

3
$$\begin{array}{r} 7 \\ - 3 \\ \hline \end{array}$$

4
$$\begin{array}{r} 22 \\ - 22 \\ \hline \end{array}$$

5
$$\begin{array}{r} 8 \\ - 0 \\ \hline \end{array}$$

6
$$\begin{array}{r} 5 \\ - 5 \\ \hline \end{array}$$

7
$$\begin{array}{r} 6 \\ - 2 \\ \hline \end{array}$$

8
$$\begin{array}{r} 22 \\ - 1 \\ \hline \end{array}$$

9
$$\begin{array}{r} 5 \\ - 4 \\ \hline \end{array}$$

10
$$\begin{array}{r} 5 \\ - 3 \\ \hline \end{array}$$

11
$$\begin{array}{r} 7 \\ - 4 \\ \hline \end{array}$$

12
$$\begin{array}{r} 3 \\ - 1 \\ \hline \end{array}$$

13
$$\begin{array}{r} 1 \\ - 0 \\ \hline \end{array}$$

14
$$\begin{array}{r} 6 \\ - 3 \\ \hline \end{array}$$

15
$$\begin{array}{r} 9 \\ - 7 \\ \hline \end{array}$$

16
$$\begin{array}{r} 9 \\ - 6 \\ \hline \end{array}$$

17
$$\begin{array}{r} 9 \\ - 9 \\ \hline \end{array}$$

18
$$\begin{array}{r} 7 \\ - 6 \\ \hline \end{array}$$

19
$$\begin{array}{r} 4 \\ - 3 \\ \hline \end{array}$$

20
$$\begin{array}{r} 4 \\ - 2 \\ \hline \end{array}$$



Name: _____

Class: _____ Date: _____

SUBTRACTION WORKSHEETS

$$\begin{array}{r} 9 \\ - 7 \\ \hline \end{array} \quad \begin{array}{r} 4 \\ - 3 \\ \hline \end{array} \quad \begin{array}{r} 6 \\ - 2 \\ \hline \end{array} \quad \begin{array}{r} 3 \\ - 1 \\ \hline \end{array} \quad \begin{array}{r} 8 \\ - 5 \\ \hline \end{array}$$

$$\begin{array}{r} 5 \\ - 2 \\ \hline \end{array} \quad \begin{array}{r} 6 \\ - 6 \\ \hline \end{array} \quad \begin{array}{r} 7 \\ - 4 \\ \hline \end{array} \quad \begin{array}{r} 9 \\ - 3 \\ \hline \end{array} \quad \begin{array}{r} 2 \\ - 0 \\ \hline \end{array}$$

$$\begin{array}{r} 3 \\ - 2 \\ \hline \end{array} \quad \begin{array}{r} 7 \\ - 3 \\ \hline \end{array} \quad \begin{array}{r} 9 \\ - 4 \\ \hline \end{array} \quad \begin{array}{r} 4 \\ - 2 \\ \hline \end{array} \quad \begin{array}{r} 6 \\ - 4 \\ \hline \end{array}$$

$$\begin{array}{r} 8 \\ - 6 \\ \hline \end{array} \quad \begin{array}{r} 9 \\ - 2 \\ \hline \end{array} \quad \begin{array}{r} 6 \\ - 3 \\ \hline \end{array} \quad \begin{array}{r} 9 \\ - 6 \\ \hline \end{array} \quad \begin{array}{r} 7 \\ - 5 \\ \hline \end{array}$$

$$\begin{array}{r} 8 \\ - 8 \\ \hline \end{array} \quad \begin{array}{r} 5 \\ - 4 \\ \hline \end{array} \quad \begin{array}{r} 7 \\ - 6 \\ \hline \end{array} \quad \begin{array}{r} 7 \\ - 2 \\ \hline \end{array} \quad \begin{array}{r} 5 \\ - 3 \\ \hline \end{array}$$

تمارين إضافية



CLASS PLAYGROUND

Subtraction within 10

Name _____ Date _____

Subtract the numbers.

$$\begin{array}{r} 8 \\ - 2 \\ \hline \end{array}$$

$$\begin{array}{r} 7 \\ - 4 \\ \hline \end{array}$$

$$\begin{array}{r} 6 \\ - 5 \\ \hline \end{array}$$

$$\begin{array}{r} 7 \\ - 5 \\ \hline \end{array}$$

$$\begin{array}{r} 5 \\ - 2 \\ \hline \end{array}$$

$$\begin{array}{r} 5 \\ - 3 \\ \hline \end{array}$$

$$\begin{array}{r} 9 \\ - 5 \\ \hline \end{array}$$

$$\begin{array}{r} 2 \\ - 1 \\ \hline \end{array}$$

$$\begin{array}{r} 4 \\ - 4 \\ \hline \end{array}$$

$$\begin{array}{r} 7 \\ - 1 \\ \hline \end{array}$$

$$\begin{array}{r} 5 \\ - 3 \\ \hline \end{array}$$

$$\begin{array}{r} 3 \\ - 0 \\ \hline \end{array}$$

$$\begin{array}{r} 6 \\ - 2 \\ \hline \end{array}$$

$$\begin{array}{r} 6 \\ - 4 \\ \hline \end{array}$$

$$\begin{array}{r} 3 \\ - 3 \\ \hline \end{array}$$

$$\begin{array}{r} 8 \\ - 1 \\ \hline \end{array}$$

Name _____

Subtraction Up to 10

$$\begin{array}{r} 4 \\ - 1 \\ \hline \end{array}$$

$$\begin{array}{r} 7 \\ - 3 \\ \hline \end{array}$$

$$\begin{array}{r} 2 \\ - 2 \\ \hline \end{array}$$

$$\begin{array}{r} 9 \\ - 1 \\ \hline \end{array}$$

$$\begin{array}{r} 8 \\ - 0 \\ \hline \end{array}$$

$$\begin{array}{r} 3 \\ - 2 \\ \hline \end{array}$$

$$\begin{array}{r} 10 \\ - 4 \\ \hline \end{array}$$

$$\begin{array}{r} 5 \\ - 3 \\ \hline \end{array}$$

$$\begin{array}{r} 6 \\ - 2 \\ \hline \end{array}$$

$$\begin{array}{r} 9 \\ - 3 \\ \hline \end{array}$$

$$\begin{array}{r} 1 \\ - 1 \\ \hline \end{array}$$

$$\begin{array}{r} 4 \\ - 3 \\ \hline \end{array}$$

$$\begin{array}{r} 8 \\ - 3 \\ \hline \end{array}$$

$$\begin{array}{r} 10 \\ - 5 \\ \hline \end{array}$$

$$\begin{array}{r} 7 \\ - 1 \\ \hline \end{array}$$

$$\begin{array}{r} 2 \\ - 1 \\ \hline \end{array}$$

$$\begin{array}{r} 10 \\ - 3 \\ \hline \end{array}$$

$$\begin{array}{r} 9 \\ - 8 \\ \hline \end{array}$$

$$\begin{array}{r} 6 \\ - 0 \\ \hline \end{array}$$

$$\begin{array}{r} 5 \\ - 4 \\ \hline \end{array}$$

Copyright © Free4Classrooms.com