

تم تحميل هذا الملف من موقع المناهج الإماراتية



\*للحصول على أوراق عمل لجميع الصفوف وجميع المواد اضغط هنا

<https://almanahj.com/ae>

\* للحصول على أوراق عمل لجميع مواد الصف الأول اضغط هنا

<https://almanahj.com/ae/1>

\* للحصول على جميع أوراق الصف الأول في مادة علوم وجميع الفصول, اضغط هنا

<https://almanahj.com/ae/1>

\* للحصول على أوراق عمل لجميع مواد الصف الأول في مادة علوم الخاصة بـ اضغط هنا

<https://almanahj.com/ae/1>

\* لتحميل كتب جميع المواد في جميع الفصول للـ الصف الأول اضغط هنا

<https://almanahj.com/ae/grade1>

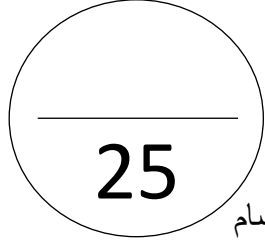
للتحدث إلى بوت المناهج على تلغرام: اضغط هنا

[https://t.me/almanahj\\_bot](https://t.me/almanahj_bot)

اختبار التقييم الأول في مادة العلوم للفصل الدراسي الثالث للعام الدراسي 2018 / 2019 م

(16 درجة)

السؤال الأول : ضع دائرة حول الإجابة الصحيحة .



C- ملمس المواد

B- وزن المواد

A- تركيب المواد

2- المادة هي :

C- ما تزنه كل الأجسام

B- ما تتكون منه كل الأجسام

A- ما تحمله كل الأجسام

3- الخشونة والنعومة صفتان لـ :

C- التركيب

B- الوزن

A- النسيج

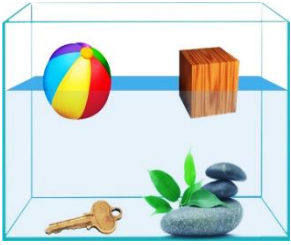
4- في الصورة، ما المواد الصلبة التي تغوص في الماء ؟

C- الكرة والمفتاح

B- الحجر والمفتاح

A- المكعب والحجر

5- ما الأداة التي تجعل الأجسام تبدو أكبر حجماً ؟



6- ما الأداة التي تُستخدم لقياس الكتلة ؟

7- ما طول قطعة الطباشير في الصورة ؟



C- 15 سنتيمتر

B- 12 سنتيمتر

A- 6 سنتيمتر

8- درجة الحرارة تقيس :

C- مدى كتلة الجسم

B- مدى سخونة الجسم أو برودته

A- كمية ما يحتويه الجسم

9- أي مما يلي من خصائص الجسم الصلب ؟

C- له شكل محدد

B- تتغير كمية المادة الموجودة فيه

A- يتغير شكله بعد تحريكه

10- كلما كان مصدر الضوء أكثر ارتفاعاً :

C- لا يتكون ظل

B- قل طول الظل

A- ازداد طول الظل

11- لماذا لا يُكوّن الزجاج الشفاف ظلاً ؟

C- لأنه سميك

B- لأن الضوء يمر من خلاله


A- لأن الضوء ينعكس عليه

12- أي مما يلي يصف ما تشعر به عند لمس المعجون الذي في الصورة ؟

C- غير لين

B- طويل ورفيع

A- مسنن



13- أي مما يلي ينساب ببطء؟



-C



-B



-A

14- يقيس كأس القياس مقدار ... الذي يشغله السائل .



-A- الوزن

-B- الحيز

-C- الهواء

15- في أي شيء يشبه الغاز السائل؟

-A- ينساب عند سكبها

-B- ينتشر بنسب متساوية

-C- ليس له شكل محدد

16- يتكون الهواء من ... مختلفة .

-A- سوائل

-B- غازات

-C- غيوم

السؤال الثاني : **ضع علامة ( ✓ )** أمام الجملة الصحيحة وعلامة ( ✗ ) أمام الجملة الخاطئة . ( 6 درجات )



( ..... )

( ..... )

( ..... )

( ..... )

( ..... )

( ..... )

1- لا يمكن لجسمين أن يشغلا الحيز نفسه في الوقت نفسه.

2- الكتلة هي نوع المادة التي يحويها الجسم.

3- الأجسام الأثقل تكون أكبر من الأجسام الأخف في الطول.

4- في الشكل المقابل تكون كتلة الدب أكبر من كتلة البطة.

5- المنطقة المظلمة التي لا يصل إليها الضوء تسمى الظل.

6- الأجسام الصلبة كلها معتمدة.

( 3 درجات )

السؤال الثالث : **ضع دائرة** على السوائل مما يلي .



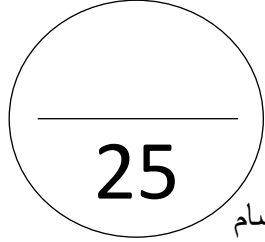
\*\*\*\*\*

انتهت الأسئلة

اجابة اختبار التقويم الأول في مادة العلوم للفصل الدراسي الثالث للعام الدراسي 2018 / 2019 م

(16 درجة)

السؤال الأول : **ضع دائرة** حول الإجابة الصحيحة .



C- **لملمس المواد**

B- وزن المواد

A- تركيب المواد

2- المادة هي :

C- ما تزنه كل الأجسام

B- **ما تتكون منه كل الأجسام**

A- ما تحمله كل الأجسام

3- الخشونة والنعومة صفتان لـ :

C- التركيب

B- الوزن

A- **النسيج**



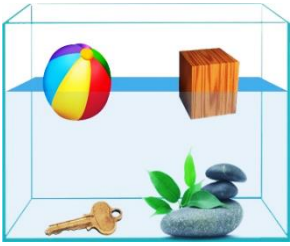
4- في الصورة، ما المواد الصلبة التي تغوص في الماء ؟

C- الكرة والمفتاح

B- **الحجر والمفتاح**

A- المكعب والحجر

5- ما الأداة التي تجعل الأجسام تبدو أكبر حجماً ؟



6- ما الأداة التي تُستخدم لقياس الكتلة ؟

C- 15 سنتيمتر

B- **12 سنتيمتر**

A- 6 سنتيمتر

8- درجة الحرارة تقيس :

C- مدى كتلة الجسم

B- **مدى سخونة الجسم أو برودته**

A- كمية ما يحتويه الجسم

9- أي مما يلي من خصائص الجسم الصلب ؟

C- **له شكل محدد**

B- تتغير كمية المادة الموجودة فيه

A- يتغير شكله بعد تحريكه

10- كلما كان مصدر الضوء أكثر ارتفاعاً :

C- لا يتكون ظل

B- **قل طول الظل**

A- ازداد طول الظل

11- لماذا لا يُكوّن الزجاج الشفاف ظلاً ؟

C- لأنه سميك

B- **لأن الضوء يمر من خلاله**


A- لأن الضوء ينعكس عليه

12- أي مما يلي يصف ما تشعر به عند لمس المعجون الذي في الصورة ؟


C- غير لين

B- **طويل ورفيع**

A- مسنن



13- أي مما يلي ينساب ببطء؟



14- يقيس كأس القياس مقدار ... الذي يشغله السائل .



A- الوزن

B- **الحيز**

C- الهواء

15- في أي شيء يشبه الغاز السائل؟

A- ينساب عند سكبها

B- ينتشر بنسب متساوية

C- **ليس له شكل محدد**

16- يتكون الهواء من ... مختلفة .

A- سوائل

B- **غازات**

C- غيوم

السؤال الثاني : **ضع علامة ( ✓ )** أمام الجملة الصحيحة وعلامة ( ✗ ) أمام الجملة الخاطئة . ( 6 درجات )



( ✓ )

( ✗ )

( ✗ )

( ✗ )

( ✓ )

( ✗ )

1- **لا يمكن** لجسمين أن يشغلا الحيز نفسه في الوقت نفسه.

2- الكتلة هي **نوع** المادة التي يحويها الجسم.

3- الأجسام الأثقل تكون أكبر من الأجسام الأخف في **الطول**.

4- في الشكل المقابل تكون كتلة الدب **أكبر** من كتلة البطة.

5- المنطقة المظلمة التي لا يصل إليها الضوء تسمى الظل.

6- الأجسام الصلبة **كلها** معتمدة.

السؤال الثالث : **ضع دائرة** على السوائل مما يلي . ( 3 درجات )



\*\*\*\*\*

انتهت الأسئلة