

تم تحميل هذا الملف من موقع المناهج الإماراتية



الملف الخطة الأسبوعية للأسبوع الخامس الحلقة الثانية في مدرسة أبو أيوب الأنصاري

موقع المناهج ← المناهج الإماراتية ← ملفات مدرسية ← المدارس ← الفصل الأول

روابط مواقع التواصل الاجتماعي بحسب ملفات مدرسية



روابط مواد ملفات مدرسية على تلغرام

[الرياضيات](#)

[اللغة الانجليزية](#)

[اللغة العربية](#)

[التربية الاسلامية](#)

المزيد من الملفات بحسب ملفات مدرسية والمادة المدارس في الفصل الأول

[توجيهات بدء الدراسة للعام الدراسي الجديد](#)

1

[امتحانات منتصف الفصل الأول للصفين الحادي عشر والثاني عشر في مدرسة الشعلة الخاصة](#)

2

[امتحانات منتصف الفصل الأول للصفين التاسع والعاشر في مدرسة الشعلة الخاصة](#)

3

[امتحانات منتصف الفصل الأول للصفوف الخامس حتى الثامن في مدرسة الشعلة الخاصة](#)















4

[امتحانات منتصف الفصل الأول للصفوف الأول حتى الرابع في مدرسة الشعلة الخاصة](#)

5



السؤال الرابع : استخدم التمثيل البياني في الاجابة عن الاسئلة

الفاكهة المفضلة						
 برتقال						
 تفاح						
 موز						

- 1- كم شخصا اختار التفاح ؟ -----
- 2- هل من اختاروا البرتقال أكثر أم من اختاروا الموز ؟ -----
- 3- كم ينقص عدد من اختاروا البرتقال عن من اختاروا الموز ؟ -----
- 4- كم شخصا شارك في استطلاع الرأي ؟ -----


السؤال الخامس : ضع خطا تحت ما تعرفه و ارسم دائرة حول ما تريد إيجاد

لدينا 4 أطباق . في كل منها تفاحتين . كم تفاحة لدينا إجمالا ؟

تفاحات -----

السؤال الخامس : استخدم تمثيل البياني بالأعمدة في الإجابة عن الأسئلة

النشاط الرياضي المفضل



تم تحميل هذا الملف من

موقع المناهج الإماراتية

1) كم شخصا اختار الركض ؟ -----

2) كم يزيد عدد من اختاروا القفز عن من اختاروا الضغط ؟ -----

3) كم شخصا شارك في استطلاع الرأي؟ -----