

تم تحميل هذا الملف من موقع المناهج الإماراتية



الملف أسئلة الاختبار التشخيصي

[موقع المناهج](#) ← [المناهج الإماراتية](#) ← [الصف الأول](#) ← [علوم](#) ← [الفصل الأول](#)

روابط مواقع التواصل الاجتماعي بحسب الصف الأول



روابط مواد الصف الأول على تلغرام

[الرياضيات](#)

[اللغة الانجليزية](#)

[اللغة العربية](#)

[التربية الاسلامية](#)

المزيد من الملفات بحسب الصف الأول والمادة علوم في الفصل الأول

أوراق عمل الوحدة الثالثة الدرس الأول والثاني	1
ورقة عمل الوحدة الرابعة كل مايتعلق بالحيوانات الدرس الأول	2
أوراق عمل الوحدة الرابعة كل مايتعلق بالحيوانات الدرس الأول	3
أوراق عمل مراجعة شاملة	4
ورقة عمل مراجعة للاختبار القصير الأول	5

اختبار تشخيصي 2023 - 2024

مادة العلوم (الصف الأول)

الفصل الدراسي الأول

الاسم: _____ الأول: _____



1. أي من الأجسام التالية خفيفة الوزن (مهارة الاستدلال)



2. أي من حالات الطقس التالية طقس مثلج ؟ (مهارة الملاحظة)



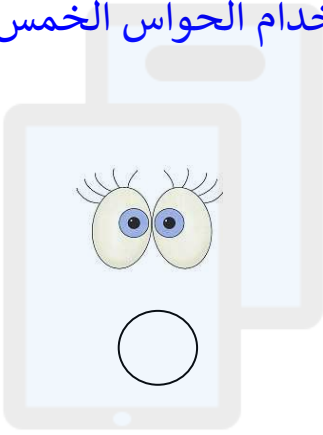
3. أحوط الحيوان الذي ينتج الحليب؟ (مهارة الاكتشاف)



4. أين تعيش الطيور ؟ (مهارة التوقع والاستدلال)



4. ما الحاسة التي تساعدني على القراءة ؟ (مهارة استخدام الحواس الخمس)



5. ماذا سيحدث للبيضة (أرسم) - (مهارة التوقع واصنع نموذج)

