

تم تحميل هذا الملف من موقع المناهج الإماراتية



almanahj.com

موقع  
المناهج الإماراتية

\*للحصول على أوراق عمل لجميع الصفوف وجميع المواد اضغط هنا

<https://almanahj.com/ae>

\* للحصول على أوراق عمل لجميع مواد الصف الأول اضغط هنا [1/ae/com.almanahj//:https](https://almanahj.com/ae/1)

\* للحصول على جميع أوراق الصف الأول في مادة رياضيات ولجميع الفصول, اضغط هنا [1math/ae/com.almanahj//:https](https://almanahj.com/ae/1math)

\* للحصول على أوراق عمل لجميع مواد الصف الأول في مادة رياضيات الخاصة بـ الفصل الثاني اضغط هنا

<https://almanahj.com/ae/1math2>

\* لتحميل كتب جميع المواد في جميع الفصول للـ الصف الأول اضغط هنا [grade1/ae/com.almanahj//:https](https://almanahj.com/ae/grade1)

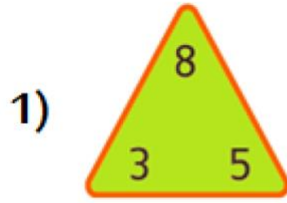
\* لتحميل جميع ملفات المدرس هند كامل وصفاء خير اضغط هنا

للتحدث إلى بوت المناهج على تلغرام: اضغط هنا [bot\\_almanahj/me.t//:https](https://t.me/bot_almanahj)

ورق عمل رياضيات  
الفصل الدراسي الثاني العام الدراسي 2018-2019

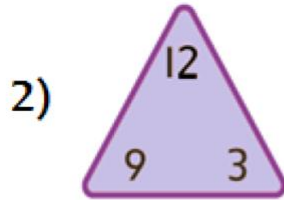
السؤال الاول باستخدام عائلات الحقائق

أولاً: أكمل مجموعة الحقائق المترابطة في كل ممايلي :



$$3 + 5 = \square \quad 8 - 3 = \square$$

$$5 + 3 = \square \quad 8 - 5 = \square$$




$$9 + 3 = \square \quad 12 - 9 = \square$$

$$3 + 9 = \square \quad 12 - 3 = \square$$

3) 
$$6 + 9 = \square \quad 15 - 9 = \square$$
$$9 + 6 = \square \quad 15 - 6 = \square$$

## جودة - تميز - قيم أصيلة

1\_ مهارة العشرات والآحاد : حوِّط مجموعة العشرات . ثم اكتب عدد العشرات والآحاد واكتب مقدارهما إجمالاً .





18 من الآحاد = \_\_\_\_\_ عشرات و \_\_\_\_\_ من الآحاد = \_\_\_\_\_

2\_ اكتب العشرات والآحاد للأعداد التالية :

13 من الآحاد = \_\_\_\_\_ عشرات و \_\_\_\_\_ الآحاد = \_\_\_\_\_

74 من الآحاد = \_\_\_\_\_ عشرات و \_\_\_\_\_ الآحاد = \_\_\_\_\_

3\_ مهارة الأعداد حتى 100 اكتب الآحاد والعشرات ثم اكتب العدد :

العشرات	الآحاد	العشرات	الآحاد
			

.....  
أربعة و ثلاثون

العشرات	الآحاد	العشرات	الآحاد
			

.....  
ثلاثة و سبعون

4\_ مسألة كلامية :  
لدى مهرة 3 مجموعات من 10 كرات . فما عدد الكرات التي تمتلكها مهرة إجمالاً ؟

المجموعة	الكرات

\_\_\_\_\_ عشرات = \_\_\_\_\_

كرة \_\_\_\_\_

جودة - تميز - قيم أصيلة

مهارة الزيادة بالعشرات والنقصان بالعشرات :

اكتب العدد الأكبر والعدد الأقل بمقدار 10 :

\_\_\_\_\_ ، 21 ، \_\_\_\_\_ ، 78 ، \_\_\_\_\_ ، 34 ، \_\_\_\_\_

ملاحظة : العدد الأكبر يكون باتجاه اليمين  $10 +$   $\longrightarrow$   
العدد الأصغر باتجاه اليسار  $10 -$   $\longleftarrow$

مهارة العد بالخمسة : عد بالخمسات ، ثم اكتب مقدار الفلوس إجمالاً:



\_\_\_\_\_ =  
فلسا إجمالاً



4 \_ مسألة كلامية :

عدد أكبر من 62 وأصغر من 64 فما هذا العدد؟

\_\_\_\_\_

لدى فهد 57 ديناصور ، ولديه ألعاب على شكل سيارة وعددها يزيد بمقدار 10 عن الديناصورات

فما عدد ألعاب السيارات لدى فهد ؟



ديناصور \_\_\_\_\_