

تم تحميل هذا الملف من موقع المناهج الإماراتية



\*للحصول على أوراق عمل لجميع الصفوف وجميع المواد اضغط هنا

<https://almanahj.com/ae>

\* للحصول على أوراق عمل لجميع مواد الصف الأول اضغط هنا

<https://almanahj.com/ae/1>

\* للحصول على جميع أوراق الصف الأول في مادة رياضيات وجميع الفصول, اضغط هنا

<https://almanahj.com/ae/1>

\* للحصول على أوراق عمل لجميع مواد الصف الأول في مادة رياضيات الخاصة بـ اضغط هنا

<https://almanahj.com/ae/1>

\* لتحميل كتب جميع المواد في جميع الفصول للـ الصف الأول اضغط هنا

<https://almanahj.com/ae/grade1>


للتحدث إلى بوت المناهج على تلغرام: اضغط هنا

[https://t.me/almanahj\\_bot](https://t.me/almanahj_bot)

United Arab Emirates  
Ministry of Education  
Al Bahar School for Basic  
Education c1



الإمارات العربية المتحدة  
وزارة التربية والتعليم  
مدرسة البحر للتعليم الأساسي ح1



# مراجعة

( مادة الرياضيات )

الفصل الدراسي الثالث  
للصف الأول

العام الدراسي 2017/2018

إعداد المعلمة : هيفاء سعيد

## حوظ الإجابة الصحيحة

(1) قارن بين الطائرة والدراجة ؟





متساويان في الطول

الدراجة أطول


الطائرة أطول



(2) أي الأشياء أقصر من هذا الشكل ؟



(3) كتاب يبلغ طوله 10 مكعبات. علبة أقلام التلوين أقصر من الكتاب بمقدار 4 مكعبات. فكم يبلغ طول علبة أقلام التلوين؟



6 مكعبات

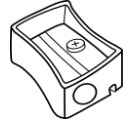
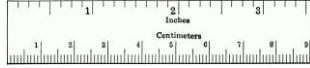

4 مكعبات

14 مكعبات

إعداد المعلمة : هيفاء سعيد

## حوط الإجابة الصحيحة

4) ما الشيء الأطول من القلم  ؟



5) تصل خولة إلى منزلها الساعة 3. وتصل أختها ريم إلى المنزل بعد ساعة واحدة. في أي ساعة تصل ريم إلى منزلها ؟



6) يبدأ راشد قراءة القصص في الساعة 6:00. يقرأ لمدة ساعة واحدة. فمتى يتوقف عن القراءة؟



إعداد المعلمة : هيفاء سعيد

## حوط الإجابة الصحيحة

(7) الساعة 8 و نصف ؟



(8) يبدأ حمد تمرين القفز في تمام الساعة 5 وينتهي بعد 30 دقيقة. ففي أي ساعة ينتهي التمرين ؟



(9) أي ساعة تظهر 12 و 30 دقيقة ؟



## حوط الإجابة الصحيحة

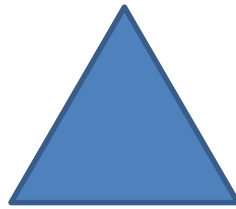

10) يقف عقرب الساعات بين 9 و 10 وعقرب الدقائق يقف على 6 فأي ساعة هذه ؟



11) شكل ثنائي الأبعاد لديه 4 أضلاع لها نفس الطول ؟

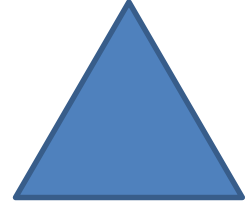



12) شكل ثنائي الأبعاد لديه 3 أضلاع و 3 رؤوس ؟




## حوط الإجابة الصحيحة

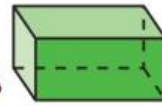
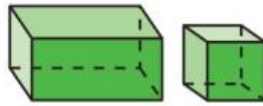
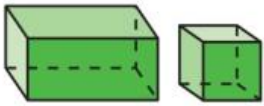
(13) شكل ثنائي الأبعاد لديه 4 أضلاع و 4 رؤوس.  
اثنان فقط من أضلاعه لهما نفس الطول؟



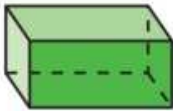
(14) شكل ثنائي الأبعاد لا أضلاع له ولا رؤوس؟



(15) كونت سارة هذا النمط؟






ما الشكل الناقص؟




إعداد المعطمة : هيفاء سعيد

# أكمل كلاً مما يلي

(16) اكتب الوقت الموضح على الساعة الرقمية :-

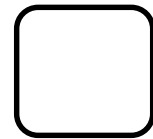




(17) اكتب الوقت الموضح بالدقائق على الساعة الرقمية :-






18) رتب الأشياء تبعاً للطول. اكتب 1 للجسم الطويل  
و 2 للأطول و 3 للأطول على الإطلاق.



19) ارسم عقرب الدقائق الموضح على الساعة التناظرية :-




20) تبدأ حصة الرياضيات في تمام الساعة 10:30 وتنتهي  
بعد ساعة . ففي أي ساعة تنتهي حصة الرياضيات ؟





إعداد المعلمة : هيفاء سعيد

الأشكال التي لها  
0 رؤوس (22)



الأشكال التي لها  
4 أضلاع مستقيمة (21)



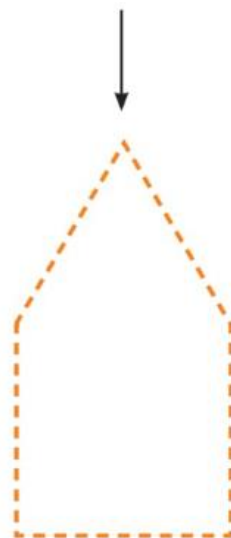
الأشكال التي لها  
3 رؤوس و 3 أضلاع (24)



الأشكال المنحنية (23)



25) ارسم دائرة حول الأشكال الهندسية المستخدمة في تكوين الشكل . ارسم خطاً مستقيماً لعرض نموذجك.



26) اكتب عدد الأضلاع والرؤوس.



أضلاع \_\_\_\_\_



رؤوس \_\_\_\_\_



أضلاع \_\_\_\_\_

رؤوس \_\_\_\_\_

27) ارسم دائرة حول الأشياء المطابقة للشكل الهندسي.




28) أنا شكل ثنائي الأبعاد لدى أقل من 4 أضلاع ، وكل أضلاعي مستقيمة. فأني شكل أنا ؟

مربع

مثلث

مستطيل



29) جمعت سارة شكلين معاً. فكونت الشكل التالي. فما الشكلان اللذان جمعتهما بدرية معاً ؟

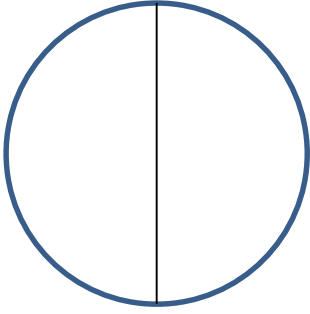
شبهها منحرف

مربعان

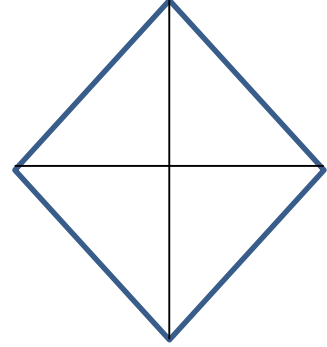
مثلثان

اعداد المعطمة : هيفاء سعيد

30) اكتب عدد الأجزاء المتساوية



أجزاء متساوية \_\_\_\_\_

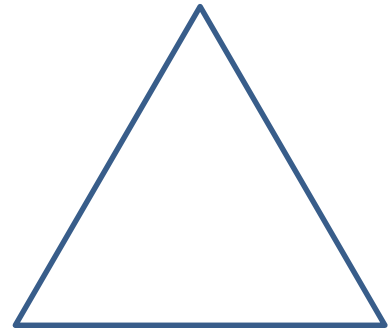


أجزاء متساوية \_\_\_\_\_

31) ارسم خطوطاً مستقيمة لعرض الأجزاء المتساوية.



4 أجزاء متساوية



جزءان متساويان

إعداد المعطمة : هيفاء سعيد


33) ارسم النصف الناقص



32) ارسم الربع الناقص

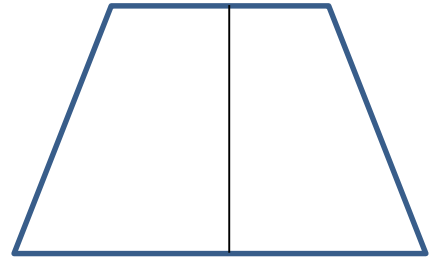


35) لون ربع الشكل  
واكتب عدد الأجزاء  
المظللة.




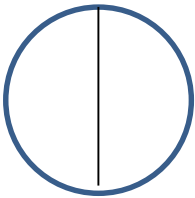
\_\_\_\_\_ من \_\_\_\_\_ أجزاء

34) لون نصف الشكل  
واكتب عدد الأجزاء  
المظللة.



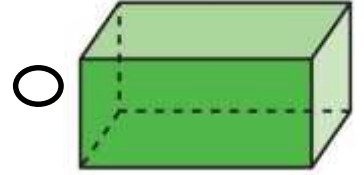
\_\_\_\_\_ من \_\_\_\_\_ أجزاء

36) ارسم دائرة حول الشكل الذي يظهر الأنصاف :

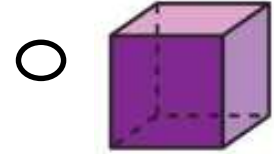


37) صل الأشكال بمسمياتها الصحيحة

المكعب



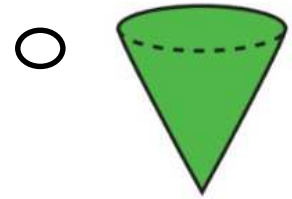
منشور مستطيل



مخروط



الإسطوانة



38) أخذت مريم أسطوانة .  
ما عدد الدوائر التي لديها ؟



2



4





6



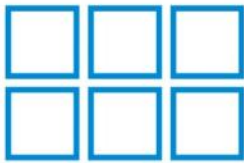
8



(39) ارسم دائرة حول شكل الأوجه التي تكون الجسم.



(40) ارسم دائرة حول الجسم الذي يمكن تكوينه من الأوجه.



إعداد المعلمة : هيفاء سعيد