

تم تحميل هذا الملف من موقع المناهج الإماراتية



الملف أسئلة الاختبار التشخيصي

موقع المناهج ← المناهج الإماراتية ← الصف الأول ← رياضيات ← الفصل الأول

روابط مواقع التواصل الاجتماعي بحسب الصف الأول



روابط مواد الصف الأول على تلغرام

[الرياضيات](#)

[اللغة الانجليزية](#)

[اللغة العربية](#)

[التربية الاسلامية](#)

المزيد من الملفات بحسب الصف الأول والمادة رياضيات في الفصل الأول

[قراءة وكتابة الأعداد من 1 إلى 20](#)

1

[كتاب الطالب Reveal ريفيل المجلد الأول](#)

2

[أسئلة اختبار التقويم الثاني](#)

3

[التوزيع الزمني للخطة الفصلية الفصل الأول للعام 2022-2023](#)

4

[أوراق عمل مراجعة شاملة رائعة](#)

5

الاسم : أول :

أولاً : تتبع الخطوط



تم تحميل هذا الملف من موقع المناهج الإماراتية

© 2012 Nonna and Me. All Rights Reserved.

GO → STOP

GO → STOP

GO → STOP



GO → STOP

GO → STOP

GO → STOP

GO → STOP

ثانياً : أعد و اكتب العدد



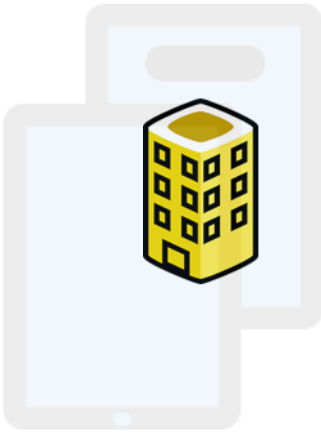
.....

.....

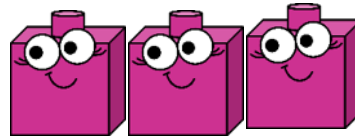

ثالثاً: أحوط الشكل الذي يوضح الكرة (فوق) الطاولة



رابعاً: أحوط الشكل الأطول



خامساً: أحوط جملة الجمع العددية الموضحة




$$5 - 3 = 2$$

$$2 + 3 = 5$$

$$3 - 3 = 0$$

سادساً: أحوط جملة الطرح العددية الموضحة


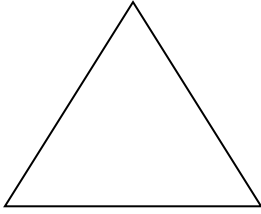


$$6 + 2 = 8$$

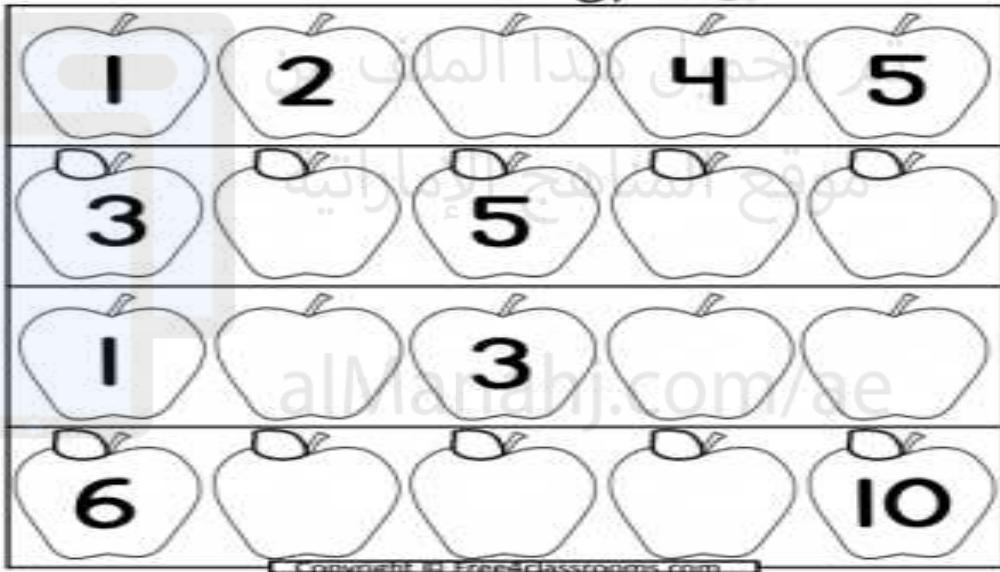
$$8 - 6 = 2$$

$$8 - 2 = 6$$

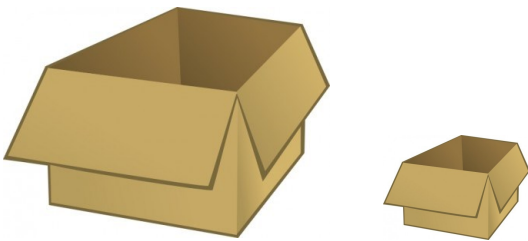
سابعاً : ألون المثلث باللون الأحمر ، والمستطيل باللون الأزرق



ثامناً : أكمل السلسلة العددية



تاسعاً : حوط الصورة المناسبة للمفردة



أكبر



أقل

