

تم تحميل هذا الملف من موقع المناهج الإماراتية



الملف ورقة عمل درس السماء

[موقع المناهج](#) ← [المناهج الإماراتية](#) ← [الصف الأول](#) ← [علوم](#) ← [الفصل الثاني](#)

روابط مواقع التواصل الاجتماعي بحسب الصف الأول



روابط مواد الصف الأول على تلغرام

[الرياضيات](#)

[اللغة الانجليزية](#)

[اللغة العربية](#)

[التربية الاسلامية](#)

المزيد من الملفات بحسب الصف الأول والمادة علوم في الفصل الثاني



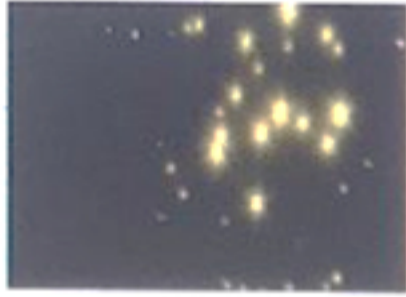
كل ما يخص الاختبار التكويني لمادة العلوم للصف الأول يوم الثلاثاء 11/2/2020	1
أسئلة الامتحان التكويني الأول	2
حلول وحدة تغيرات الطقس 2017	3
جميع أوراق عمل الوحدة الخامسة pdf	4
أجابات الوحدة السادسة السماء	5

أنا المتميزة :

من الصف: الأول /

almanahj.com/ae
المنهج الإماراتية

السؤال الأول : أحوط الأشياء التي أراها بالسماء ليلاً:



السؤال الثاني: أرسم الأشياء التي أراها ليلاً ونهاراً :

الأجسام التي نراها ليلاً في السماء

الأجسام التي نراها نهاراً في السماء

--	--

--	--

أحوط الإجابة الصحيحة :

- 1- النجم هو نراه في السماء .
أ - جسم لامع ب - جسم معتم ج - جسم ثابت

almanahj.com/ae

المنهج الإماراتية

- 2- نستخدم لمراقبة الأجسام البعيدة في السماء .
أ - العدسة المكبرة ب - التلسكوب ج - الترمومتر

- 3- أقرب النجوم إلى الأرض هي
أ - القمر ب - المريخ ج - الشمس

- 4- تكون درجة الحرارة في أكثر منها في الليل .
أ - الليل ب - النهار ج - الصباح