

تم تحميل هذا الملف من موقع المناهج الإماراتية



الملف نماذج أسئلة اختبارات الوحدة السادسة تغيرات الطقس

[موقع المناهج](#) ← [المناهج الإماراتية](#) ← [الصف الأول](#) ← [علوم](#) ← [الفصل الثاني](#)

روابط مواقع التواصل الاجتماعي بحسب الصف الأول



روابط مواد الصف الأول على تلغرام

[الرياضيات](#)

[اللغة الانجليزية](#)

[اللغة العربية](#)

[التربية الاسلامية](#)

المزيد من الملفات بحسب الصف الأول والمادة علوم في الفصل الثاني

[كل ما يخص الاختبار التكويني لمادة العلوم للصف الأول يوم الثلاثاء 11/2/2020](#)

1

[أسئلة الامتحان التكويني الأول](#)

2

[حلول وحدة تغيرات الطقس 2017](#)

3

[جميع أوراق عمل الوحدة الخامسة pdf](#)










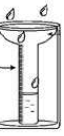

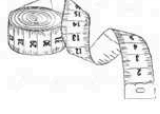
4

[أجابات الوحدة السادسة السماء](#)

5

نماذج أسئلة اختبارات: الوحدة السادسة: تغيرات الطقس

ضع دائرة على الأداة المناسبة:

			سرعة الرياح
			كمية المطر
			درجة الحرارة
			اتجاه الرياح


صل الكلمات بالصورة المناسبة:

ثلجي

ممطر

غائم



مشمس



ضع دائرة على الصورة المناسبة

			المزن الركامي
			البرد
			طقس حار
			طقس بارد
			طقس عاصف

من خلال الصورة توقع ما هي طبيعة الطقس

	ما اتوقعه
	ما يحدث
	ما اتوقعه
	ما يحدث

صل الكلمة بالصورة المناسبة




الربيع



الصيف



الخريف



الشتاء



اكتب الحرف الدال على مراحل دورة الماء




	بخار الماء	
	السحاب	
	الهطول	
	يدل الشكل المجاور على _____	

ضع إشارة صح أو خطأ بما يناسب كل من العبارات التالية :


- بخار الماء هو ماء يتبخر في الهواء بسبب حرارة الشمس
- بخار الماء هو ماء صغير جداً لذا لا نستطيع رؤيته
- السحب قطرات ماء أو ثلج
- السحب تتكون عندما يسخن بخار الماء في السماء
- الهطول يحدث عندما يكون حجم حبات المطر غيراً
- أشكال الهطول هي المطر والثلج والبرد
- جميع السحب لها نفس الشكل
- الريشي والركام والمزن الركامي من أشكال السحب
- الركام سحاب يشبه الريش يتكون من قطع ثلج رقيقة
- المزن الركامي سحب رعدية تجلب العواصف والأمطار
- الريشي يتكون من قطرات الماء
- السحاب يتكون عندما يبرد بخار الماء في السماء
- تتكون السحب في كل مكان، ليس فقط فوق الماء
- السحب الركامية تعني أن الجو جيد للذهاب في نزهة
- السحب الركامية بيضاء وممتلئة قد تظهر السحب الركامية في صفوف طويلة متموجة
- السحب الركامية الكبيرة الممتلئة تعني الطقس جيد
- في فصل الشتاء الطقس بارد وممطر ومثلج
- في فصل الشتاء يصبح الليل طويل
- في فصل الشتاء الحيوانات تتكاثر وتلد صغارها
- في فصل الشتاء تسقط جميع أوراق الأشجار
- في فصل الشتاء يرتدي الناس نظارات شمسية
- في فصل الربيع الطقس دافئ ويتساقط القليل من المطر
- في فصل الربيع الحيوانات تهاجر لبلاد دافئة
- في فصل الربيع تنفتح أهار وأوراق الأشجار

- في فصل الربيع يرتدي الناس ملابس سميكة
- الفصل هو وقت من أوقات السنة
- في فصل الصيف يكون الطقس حار
- في فصل الصيف الحيوانات تلد صغارها وتتكاثر
- في فصل الصيف يرتدي الناس ملابس سميكة
- في فصل الصيف يرتدي الناس القبعات والنظارات الشمسية
- في فصل الخريف يكون الطقس بارداً قليلاً
- في فصل الخريف الحيوانات تهاجر إلى بلاد دافئة
- في فصل الخريف تتفتح الأوراق والأزهار
- في فصل الخريف يرتدي الناس ملابس سميكة
- جهاز مقياس الرياح يقيس سرعة الرياح
- الثيرموتر جهاز يستخدم لقياس كمية المطر

رقم مراحل دورة الماء بالترتيب

صل الشجرة بالفصل المناسب لها



الشتاء

الخريف

الصيف

الربيع

صل أشكال السحب بأسمائها:



سحاب الركام



سحاب المزن الركامي



السحاب الريشي

اختر الإجابة الصحيحة

دافئ	بارد	في فصل الشتاء يكون الطقس
قصير	طويل	في فصل الشتاء يصبح النهار
بني	أبيض	ينمو للحيوانات في فصل الشتاء فرو
الساخنة	الباردة	في فصل الشتاء نشرب المشروبات
صوفية	خفيفة	في فصل الشتاء يرتدي الناس ملابس
صافية	غائمة	في فصل الشتاء تكون السماء غالباً
تتفتح أزهارها	تسقط أوراقها	الأشجار في فصل الشتاء
دافئ	عاصف	في فصل الربيع يكون الطقس
بني	أبيض	ينمو للحيوانات في فصل الربيع فرو
صوفية	خفيفة	في فصل الربيع يرتدي الناس ملابس
صافية	غائمة	في فصل الربيع تكون السماء غالباً
تتفتح أزهارها	تسقط أوراقها	الأشجار في فصل الربيع

الصيف	الخريف	الفصل الذي يأتي بعد فصل الربيع
ماطر	حار	في فصل الصيف يكون الطقس
قصير	طويل	في فصل الصيف يصبح النهار
الساخنة	الباردة	في فصل الصيف نشرب المشروبات
صوفية	خفيفة	في فصل الصيف يرتدي الناس ملابس
صافية	غائمة	في فصل الصيف تكون السماء غالباً
الغابة	البحر	في فصل الصيف يذهب الناس كثيراً إلى
حار	عاصف	في فصل الخريف يكون الطقس
شديدة	خفيفة	في فصل الخريف تكون الرياح
سميكة	خفيفة	في فصل الخريف يرتدي الناس ملابس
صافية	غائمة	في فصل الخريف تكون السماء غالباً
بالتفتح	بالتساقط	في فصل الخريف تبدأ أوراق الأشجار
أخضر	أصفر	في فصل الخريف لون أوراق الأشجار
دافئة	باردة	في فصل الخريف تهجر الحيوانات إلى بلاد



الطقس في هذه الصورة هو طقس

عاصف	حار	غائم
------	-----	------



الفصل في هذه الصورة هو فصل

الربيع	الصيف	الشتاء
--------	-------	--------


أي الصور فصل الصيف



حدد قراءة درجة الحرارة التي يظهرها الثيرموميتر

20-	60	10
-----	----	----

يرتدي الناس في فصل الصيف



هو حالة السماء والهواس كل يوم

الطقس	الجو	الصيف	مطر
-------	------	-------	-----

الثرمومتر جهاز يستخدم لقياس

سرعة الرياح	كمية المطر	درجة الحرارة	اتجاه الرياح
-------------	------------	--------------	--------------

يطلق على الهواء المتحرك

المطر	الثلج	البرد	الرياح
-------	-------	-------	--------

الشيء الذي يجعل درجة حرارة الهواء تتغير

الرياح	المطر	الشمس	الرعد
--------	-------	-------	-------



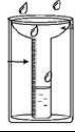

يريد سيف أن يعرف مدى سخونة الجو في الخارج . ما الأداة التي ينبغي أن يستخدمها؟

الثيرموميتر	ميزان الكتروني	دوارة الرياح	مقياس المطر
-------------	----------------	--------------	-------------

يريد زايد أن يعرف اتجاه هبوب الرياح. ما الأداة التي ينبغي أن يستخدمها؟

مقياس المطر	دوارة الرياح	ميزان الكتروني	الثيرموميتر
-------------	--------------	----------------	-------------

حدد الصورة الغير منسجمة مع البقية

			
---	---	---	---