

## شكراً لتحميلك هذا الملف من موقع المناهج الإماراتية



## أوراق عمل مراجعة لاختبار درس الطرح

[موقع المناهج](#) ⇨ [المناهج الإماراتية](#) ⇨ [الصف الأول](#) ⇨ [رياضيات](#) ⇨ [الفصل الأول](#) ⇨ [الملف](#)

تاريخ نشر الملف على موقع المناهج: 09:48:25 2023-11-02

## التواصل الاجتماعي بحسب الصف الأول



## روابط مواد الصف الأول على تلغرام

[الرياضيات](#)

[اللغة الانجليزية](#)

[اللغة العربية](#)

[التربية الاسلامية](#)

## المزيد من الملفات بحسب الصف الأول والمادة رياضيات في الفصل الأول

<a href="#">مذكرة الجمع والطرح</a>	1
<a href="#">مراجعة الاختبار التكويني الثاني</a>	2
<a href="#">استعداد للاختبار الثاني مفاهيم الجمع من الدرس الأول إلى السادس</a>	3
<a href="#">الاختبار التكويني الأول</a>	4
<a href="#">مذكرة كتابة الأعداد</a>	5

أوجد الجزء ، اكتب العدد

الطرح

جزء	جزء
_____	5
الكل	
10	

جزء	جزء
_____	7
الكل	
10	

جزء	جزء
_____	2
الكل	
10	

جزء	جزء
_____	8
الكل	
8	

جزء	جزء
_____	5
الكل	
6	

جزء	جزء
_____	1
الكل	
4	

جزء	جزء
_____	7
الكل	
9	

جزء	جزء
_____	2
الكل	
5	

جزء	جزء
_____	6
الكل	
9	

جزء	جزء
_____	5
الكل	
7	

جزء	جزء
_____	2
الكل	
7	

جزء	جزء
_____	1
الكل	
6	

Scanned with CamScanner

Scanned with CamScanner

الطرح

عبر عن الصور بجملة طرح عددية



\_\_\_\_\_ ○ \_\_\_\_\_ ○ \_\_\_\_\_



\_\_\_\_\_ ○ \_\_\_\_\_ ○ \_\_\_\_\_



\_\_\_\_\_ ○ \_\_\_\_\_ ○ \_\_\_\_\_



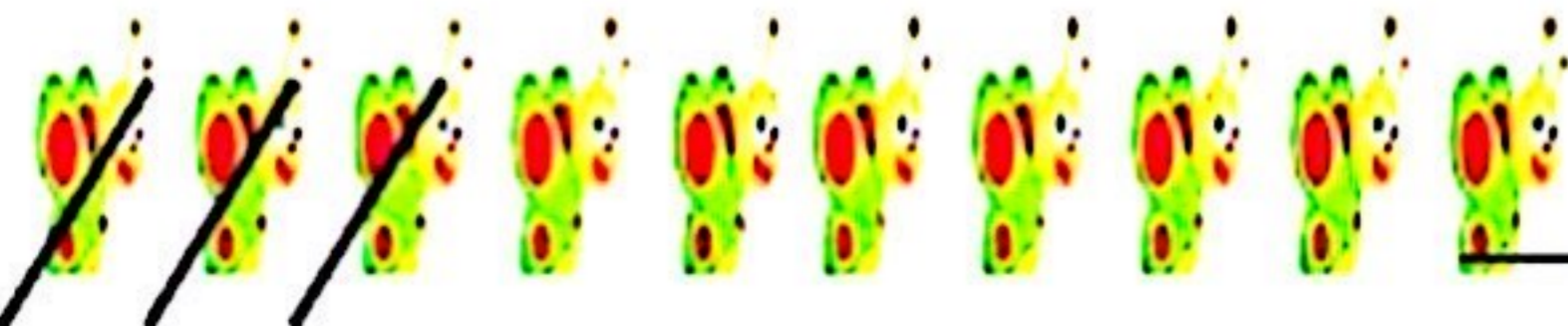
\_\_\_\_\_ ○ \_\_\_\_\_ ○ \_\_\_\_\_



\_\_\_\_\_ ○ \_\_\_\_\_ ○ \_\_\_\_\_




\_\_\_\_\_ ○ \_\_\_\_\_ ○ \_\_\_\_\_




\_\_\_\_\_ ○ \_\_\_\_\_ ○ \_\_\_\_\_


# اكتبي جملة طرح عددية :




— ○ — ○ —




— ○ — ○ —




— ○ — ○ —



— ○ — ○ —



— ○ — ○ —



— ○ — ○ —

هيا يا صديقي المتميز .. ركز جيداً على الجمل التالية واكتب العدد المتبقي؟

رسمت نورة في لوحاتها 9

ومن ثم مسحت هند منها 4

فكم بقى ؟

بقى ---

في البحيرة 8

خرجت منها 5

فكم بقى في البحيرة ؟

بقى ---

كان في الثلجة 8

تناولت منها فاطمة 5

فما عدد الباقية ؟

بقى ---

كان لدى أحمد 7

أكل منها 4


فما عدد الباقية ؟

بقى ---

Scanned with CamScanner

Scanned with CamScanner

اطرحي ( رأسياً وأفقياً ) كلاً مما يلي :



$$\begin{array}{r} 7 \\ -3 \\ \hline \end{array}$$

$$\begin{array}{r} 9 \\ -2 \\ \hline \end{array}$$

$$\begin{array}{r} 6 \\ -4 \\ \hline \end{array}$$

$$\begin{array}{r} 5 \\ -2 \\ \hline \end{array}$$

$$\begin{array}{r} 8 \\ -3 \\ \hline \end{array}$$

$$\begin{array}{r} 9 \\ -3 \\ \hline \end{array}$$

$$\begin{array}{r} 6 \\ -3 \\ \hline \end{array}$$

$$\begin{array}{r} 7 \\ -5 \\ \hline \end{array}$$

$$\begin{array}{r} 8 \\ -2 \\ \hline \end{array}$$

$$\begin{array}{r} 5 \\ -1 \\ \hline \end{array}$$

$$8 - 4 = \underline{\quad}$$

$$6 - 2 = \underline{\quad}$$

$$7 - 4 = \underline{\quad}$$

1. مع آدم 8 كرات ، 3 منها كرات صفراء و البقية زرقاء ، كم عدد الكرات الزرقاء لدى آدم ؟

\_\_\_\_\_ ○ \_\_\_\_\_ ○ \_\_\_\_\_

2. يوجد 6 قنادس داخل البركة ، خرج من البركة 4 قنادس ، كم عدد القنادس المتبقية في البركة ؟

\_\_\_\_\_ ○ \_\_\_\_\_ ○ \_\_\_\_\_

3. كان هناك 5 طيور في العش ، طار عصفوران ، كم عدد العصافير المتبقية في العش ؟

\_\_\_\_\_ ○ \_\_\_\_\_ ○ \_\_\_\_\_

4. تقف 7 ببغاوات على غصن الشجرة ، طارت 7 ببغاوات بعيداً ، فكم عدد الببغاوات المتبقية على الغصن ؟

\_\_\_\_\_ ○ \_\_\_\_\_ ○ \_\_\_\_\_

5. توجد 8 ثمرات من فاكهة البرتقال ، قطف سعيد 4 من ثمار البرتقال ، فكم عدد ثمرات البرتقال المتبقية على الشجرة ؟

\_\_\_\_\_ ○ \_\_\_\_\_ ○ \_\_\_\_\_

مع خالد 9 تفاحات ، أكل خالد تفاحتان ، كم عدد التفاح المتبقي ؟

\_\_\_\_\_ ○ \_\_\_\_\_ ○ \_\_\_\_\_

7. مع ياسر 4 أقلام ، أعطى اخته 3 أقلام ، كم عدد الأقلام المتبقية لدى ياسر ؟

\_\_\_\_\_ ○ \_\_\_\_\_ ○ \_\_\_\_\_