

## تم تحميل هذا الملف من موقع المناهج الإماراتية



## أوراق عمل الوحدة الرابعة كل ما يتعلق بالحيوانات

موقع المناهج ← المناهج الإماراتية ← الصف الأول ← علوم ← الفصل الأول ← أوراق عمل ← الملف

تاريخ إضافة الملف على موقع المناهج: 2024-10-20 08:48:47

ملفات اكتب للمعلم اكتب للطالب الاختبارات الكترونية | اختبارات | حلول | عروض بوربوينت | أوراق عمل  
منهج انجليزي | ملخصات وتقارير | مذكرات وبنوك | الامتحان النهائي للمدرس

المزيد من مادة  
علوم:

إعداد: نهلة المزروعي

## التواصل الاجتماعي بحسب الصف الأول



صفحة المناهج  
الإماراتية على  
فيسبوك

الرياضيات

اللغة الانجليزية

اللغة العربية

التربية الاسلامية

المواد على تلغرام

## المزيد من الملفات بحسب الصف الأول والمادة علوم في الفصل الأول

أسئلة الاختبار التقييمي الأول

1

كتاب الطالب الوحدة الثانية Animals and how they communicate مناهج انسابير

2

عرض بوربوينت الدرس الثاني ما وظيفة أجزاء النبات

3

عرض بوربوينت الدرس الأول تعرف على الكائنات الحية من وحدة النباتات كائنات حية

4

بوربوينت شرح وحل مراجعة درس الحيوانات

5

الاسم :


الشعبة :

## الوحدة 4 : كل ما يتعلق بالحيوانات

السؤال الأول: صل كل مجموعة بالحيوان الذي ينتمي إليها

	<input type="radio"/>	<input type="radio"/>	ثدييات
	<input type="radio"/>	<input type="radio"/>	طيور
	<input type="radio"/>	<input type="radio"/>	زواحف
	<input type="radio"/>	<input type="radio"/>	برمائيات
	<input type="radio"/>	<input type="radio"/>	أسماك
	<input type="radio"/>	<input type="radio"/>	حشرات

السؤال الثاني : صنف الحيوانات التالية في الجدول التالي ( اكتب حرف الصورة )





المجموعة	ثدييات	طيور	زواحف	برمائيات	أسماك	حشرات
الحيوان						

السؤال الثالث : حوِّط ما يحتاج إليه هذا العصفور ليعيش





السؤال الرابع: حوِّط على الإجابة الصحيحة

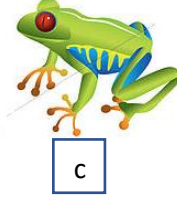
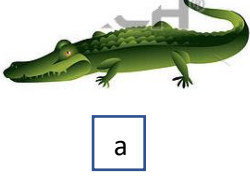
1. حيوان لا ينتمي إلى الحشرات






2. حيوان من الثدييات



3. حيوان من البرمائيات




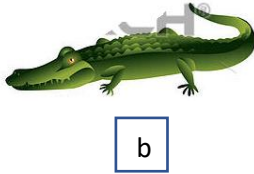
4. حيوان من الطيور




5. حيوان من الزواحف



6. حيوان من الأسماك



7. حيوان من الحشرات



8. حيوان له زعانف



a



b



c

9. حيوان يغطي جسمه الحرشف



a



b



c

10. حيوان يغطي جسمه الريش



a



b



c

11. حيوان يغطي جسمه القشور



a



b



c

12. حيوان له شعر



a



b



c

13. حيوان عدد أرجله ستة



a



b



c

14. حيوان يتكاثر بالولادة



a



b



c

15. حيوان يتكاثر بالبيض



a



b



c

16. حيوان يتنفس بالخياشيم



a



b



c

17. حيوان عدد أجزاء جسمه ثلاثة



a



b



c

18. حيوان من الثدييات



a



b



c

19. حيوان جلده ناعم ورطب



a



b



c

20. حيوان جلده جاف وخشن



a



b



c

21. حيوان يأكل بمنقاره



a



b



c

22. حيوان أكل العشب



a



b



c

23. حيوان أكل اللحوم



a



b



c


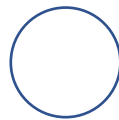

السؤال الخامس: أكمل الجدول : كيف تلبي الحيوانات التالية احتياجاتها

المنقار	المخالب	الرتتان	الخياشيم
---------	---------	---------	----------





الحيوان	الصقر	اللبوة	الدولفين	الأسماك
جزء من جسمه				

السؤال السادس: رتب بالتسلسل دورة حياة الحيوانات التالية

A. دورة حياة الثدييات ( الباندا )



B. دورة حياة الطيور ( الدجاجة )



C. دورة حياة الحشرات ( الفراشة )

