

شكراً لتحميلك هذا الملف من موقع المناهج الإماراتية



مراجعة عامة للامتحان النهائي

[موقع المناهج](#) ⇨ [المناهج الإماراتية](#) ⇨ [الصف الأول](#) ⇨ [اجتماعيات](#) ⇨ [الفصل الثاني](#) ⇨ [الملف](#)

تاريخ نشر الملف على موقع المناهج: 2024-03-04 20:11:18 | اسم المدرس: مريم العلي

التواصل الاجتماعي بحسب الصف الأول



روابط مواد الصف الأول على تلغرام

[الرياضيات](#)

[اللغة الانجليزية](#)

[اللغة العربية](#)

[التربية الاسلامية](#)

المزيد من الملفات بحسب الصف الأول والمادة اجتماعيات في الفصل الثاني

[ملخص دروس الوحدة الرابعة زايد والتراث](#)

1

[أوراق عمل الوحدة الرابعة](#)

2

[الاختبار التكويني الأول](#)

3

[أوراق عمل الوحدة الثالثة النقل والمهن في بلادي](#)

4

[ورقة عمل درس النقل البري](#)

5

United Arab Emirates

Emirates Educational Council 1/6

Branch 1

Maliha Girls' School- cycle 1,2,3



دولة الإمارات العربية المتحدة

مؤسسة الإمارات للتعليم المدرسي

الفرع المدرسي الأول

مدرسة مليحة الحلقة الأولى والثانية والثالثة بنات

مراجعة للامتحان نهائي لمادة الدراسات الاجتماعية للصف الأول

معلمة المادة : مريم العلي

ارسم دائرة حول الاجابة الصحيحة:

- 1- اذهب إلى بيت صديقي زايد بواسطة
- (الشاحنة - الطائرة - السيارة)
- 2- اذهب إلى المدرسة بواسطة
- (الحافلة - الطائرة - الدراجة)
- 3- اذهب إلى المطار بواسطة
- (الشاحنة - الطائرة - السيارة)
- 4- أسير على أمواج البحر بواسطة
- (الشاحنة - الطائرة - قارب شرعي)



صل بخط بين الكلمة والصورة الصحيحة الدلة عليها:



سفينة




قارب بخاري

قارب شرعي


دراجة مائية

اكتب اسم الصور التي توضح وسائل النقل في دولة الإمارات .

منطاد - حافلة - مترو - شاحنة - طائرة - دراجة - مركبة فضائية - سيارة



يا بطل الغد لون الإجابة الصحيحة فيما يلي .



1- أنت الآن في مدينة الشارقة وتريد التوجه إلى دبي نوع النقل هو

البري	المائي	الجوي	جميع ما ذكر
-------	--------	-------	-------------

2- أنت الآن في مدينة الشارقة وتريد التوجه إلى دبي وسيلة النقل هي

الدراجة	الطائرة	السيارة	الجمال
---------	---------	---------	--------

3- أرخص أنواع النقل هو النقل

البري	المائي	الجوي	جميع ما ذكر
-------	--------	-------	-------------

4- السيارة من وسائل النقل

البري	المائي	الجوي	جميع ما ذكر
-------	--------	-------	-------------

5- وسيلة النقل المستخدمة في مترو دبي هي

السيارة	القطار	القارب	الحصان
---------	--------	--------	--------

6- المكان الذي تهبط فيه الطائرة وتقلع

الميناء البحري	الموقف	المطار	الجسر
----------------	--------	--------	-------

صل بخط بين الصورة والمهنة المناسبة:



المعلمة

المحامي

الطبيب

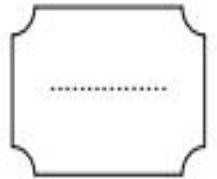
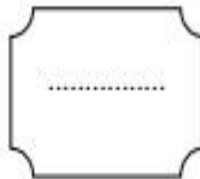
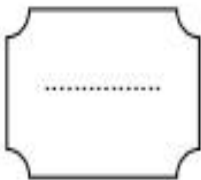
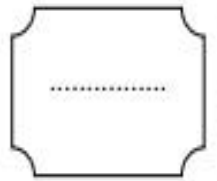
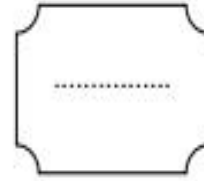
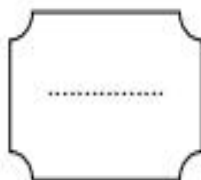
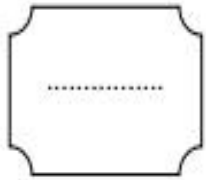
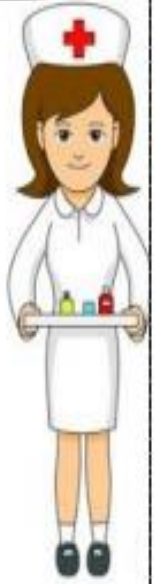
الطيار

الطاهي

يا بطل حوط بدائرة حول الطعام الذي اعتمد عليه سكان دولة الإمارات



سجل يا بطل أسماء المهن الموجودة بالصورة التالية مستعينًا بالجدول في الأسفل



رسام - رجل إطفاء - شرطي - ممرضة - مهندس حاسوب - رائد فضاء - باحث علمي

يا بطل انظر الصور جيداً، ثم ضع دائرة حول الإجابة الصحيحة:

شعار دولة الإمارات العربية المتحدة هو



الزي الوطني للرجال هو



الزي الوطني للنساء هو



السؤال الأول: حوِّط حول الإجابة الصحيحة من بين الإجابات:

1- مهنة تساعد في القبض على المجرمين :



الشرطي



الطبيب



المعلم

2- أول رئيس لدولة الإمارات العربية المتحدة هو :



الشيخ خليفة بن زايد



الشيخ راشد بن سعيد



الشيخ زايد بن سلطان

3- الصورة التي تدل على برج خليفة هي:



4- قام اتحاد دولة الإمارات العربية المتحدة في.....عام 1971:

2 - ديسمبر

5 - أكتوبر

10 - نوفمبر

السؤال الثاني: صل بخط بين الكلمة والصورة التي تناسبها:



باني ومؤسس دولة الإمارات



رائد فضاء



طبيب



رجل اطفاء



شعار الدولة

السؤال الثالث: ضع علامة (✓) امام العبارة الصحيحة وعلامة (X) امام العبارة

الخاطئة:

1- يتكون علم الإمارات من ثلاثة ألوان أحمر وأخضر وأسود. ()

2 - المعلم أتعلم على يده الحروف والأرقام في المدرسة. ()

3 - الإمارة التي يطلق عليها عاصمة الثقافة هي الشارقة. ()

4 - رائد الفضاء يوزع البريد من مكان إلى آخر. ()

5 - والدة الشيخ زايد هي الشيخة سلامة بنت بطي رحمها الله. ()

6 -تتكون دولة الإمارات العربية المتحدة من ست إمارات. ()

أضع دائرة حول الإختيار المناسب:

1 أتعلم على يده الحروف والأرقام فى المدرسة



المهندس



المعلم



المصور

2 يصحبنى والدي إليه عندما أمرض



المدبغ



المحامى



الطبيب

3 هو الشخص الذى يبيع ويشترى



المدبغ




التاجر



الطبيب

يسافر إلى الفضاء الخارجي

4



رائد فضاء



المهندس




الطبيب

يوزع الرسائل من مكان إلى آخر

5



المذيع



المعلم



ساعي البريد

ياخذنا من دولة إلى أخرى

6



المهندس



الطيار



عامل النظافة

يعد لنا الطعام الشهى

7



رائد الفضاء



المعلم



الطباخ

يبني لنا أجمل البيوت

8



الرسام



الطبيب



المهندس

يرسم أجمل اللوحات

9



المهندس



الرسام



عامل النظافة

يلتقط أجمل الصور

10



المصور



الطيار



المهندس

يساعد في حل المشكلات

11



الطبيب



الطباخ



المحامي

ينقل لنا الأخبار

12



الطيار



المذيع



المهندس

مؤسس دولة الإمارات هو الشيخ

13



خليفة



راشد



زايد

أطول برج في دولة الإمارات العربية المتحدة هو

14



فراري



برج الساعة



برج خليفة

الإمارة التي يطلق عليها عاصمة الثقافة هي

15

عجمان

الشارقة

دبي

والد الشيخ زايد رحمه الله هو

16

محمد بن زايد

راشد بن سعيد

سلطان بن زايد

أضع إشارة (✓) عند الإجابة الصحيحة وإشارة (X) عند الإجابة الخاطئة:

1- الصحراء أرض جافة قليلة المطر.

2- عاصمة الثقافة هي أبو ظبي.

3- مسجد الشيخ زايد في أبو ظبي يعد أكبر مسجد في العالم.

4- والدته الشيخ زايد -رحمه الله- الشيخة سلامة بنت بطي.

5- علم دولة الامارات يتكون من 6 ألوان.

6- الشيخ راشد بن سعيد آل مكتوم -رحمه الله -

هو أول نائب لرئيس الدولة.

7- قام اتحاد دولة الامارات في 2 ديسمبر عام 1971م.

8- تتكون الامارات من تسع امارات.

9- الشيخ زايد هو أول رئيس لدولة الإمارات.

10- من صفات الشيخ زايد الصبر والحكمة.

11- الطبيب يقوم بتعليمي الحروف والأرقام.

12- المهندس يبني لنا أجمل البيوت.

13- أحافظ على نظافة بلادي.

14- الشرطي يظهو لنا أطييب الطعام.

15- الطيار يوزع الرسائل من مكان إلى آخر

ألاحظ وأصل بين الكلمة والصورة المناسبة:

Normal

مصور



رائد فضاء



مهندس



محامي



مذيع



عامل نظافة



طبيب



طيار



معلم



ساعي البريد



• السؤال الأول : اضع دائرة على الإجابة الصحيحة

1- ولد الشيخ زايد عام :

1980

1918

1960

2- يقع قصر الحصن في إمارة :

الشارقة

دبي

أبوظبي

3- يتكون علم الإمارات من :

6 ألوان

4 ألوان

2 ألوان

4- يصوم المسلمون في شهر :

رمضان

المناسبات

العيد

5- مكان يؤدي فيه المسلمون صلاة العيد :

المنزل

الشارع

المصلى

• السؤال الأول : اضع دائرة على وسائل النقل البرية



• السؤال الثاني : صل بين الكلمة والصورة المناسبة



مؤسس دولة
الإمارات

شعار دولة الإمارات

علم دولة الإمارات

برج خليفة

مسجد الشيخ زايد

• السؤال الثاني : لاحظ الصور الآتية واستكمل المهنة المناسبة مستعيناً بالكلمات

الصيد - الزراعة - الرعى - الغوص



• السؤال الثالث : ضع علامة (✓) أمام العبارة الصحيحة وعلامة (X) أمام العبارة الخطأ

- 1- السفينة وسيلة نقل كبيرة تنقل الركاب والبضائع ()
- 2- من البضائع التي تاجر بها أجدادنا قديماً الهواتف ()
- 3- رحلة الغوص على اللؤلؤ تستغرق وقتاً قصيراً ()
- 4- مهنة صيد الأسماك مهنة قديمة يعتمد عليها الناس في رزقهم وغذائهم ()
- 5- من وسائل النقل الجوي الطائرة والمنتاد ()