

## شكراً لتحميلك هذا الملف من موقع المناهج الإماراتية



## استعداد للاختبار الثاني مفاهيم الجمع من الدرس الأول إلى السادس

[موقع المناهج](#) ← [المناهج الإماراتية](#) ← [الصف الأول](#) ← [رياضيات](#) ← [الفصل الأول](#) ← [الملف](#)

تاريخ نشر الملف على موقع المناهج: 2023-10-25 10:05:29

## التواصل الاجتماعي بحسب الصف الأول



## روابط مواد الصف الأول على تلغرام

[الرياضيات](#)

[اللغة الانجليزية](#)

[اللغة العربية](#)

[التربية الاسلامية](#)

## المزيد من الملفات بحسب الصف الأول والمادة رياضيات في الفصل الأول

|  |   |
|--|---|
| <a href="#">الاختبار التكويني الأول</a>          | 1 |
| <a href="#">مذكرة كتابة الأعداد</a>              | 2 |
| <a href="#">ورقة عمل طرق تكوين العددين 4 و 5</a> | 3 |
| <a href="#">نموذج تدريبي اختباري</a>             | 4 |
| <a href="#">ورقة عمل مراجعة التقويم الأول</a>    | 5 |

استعداد للاختبار رقم 2 مفاهيم الجمع من الدرس 1 إلى 6

الاسم : ..... الصف : الأول الشعبة ( )


السؤال 1 : اختار الإجابة الصحيحة.

1- يوجد 4 بطاط في البركة، وتسير نحوهن 4 بطاط، فكم عدد البط




الموجود إجمالاً؟

4                      7                      8

2- جد ناتج جمع  $0 + 3 = \underline{\quad}$ 

3                      0                      4

3 - أي جملة جمع مناسبة للصورة التالية :



4 + 3                      2 + 5                      5 + 3

4 - كم عدد حبات الفلفل الموجودة إجمالاً ؟



5                      7                      8

5 - اختار إجابة جملة الجمع العددية المطابقة للصورة .



$4 + 2 = 6$

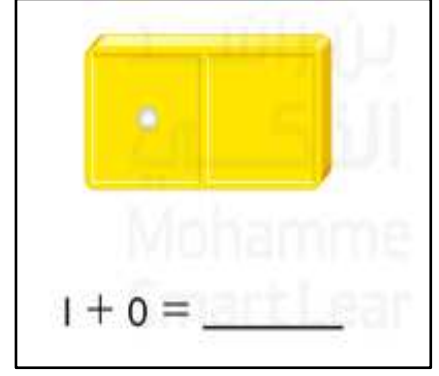
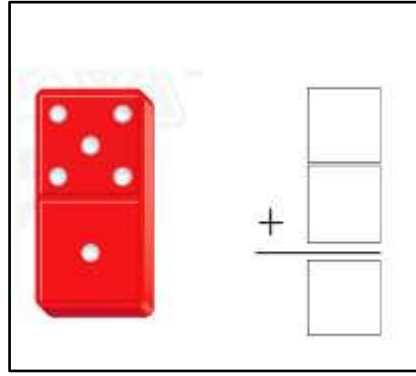
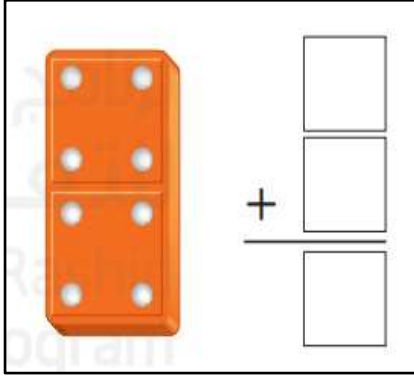
$4 + 1 = 5$

$4 + 3 = 7$

السؤال 2 : أكتب الأعداد الناقصة . .

|   |  |  |   |  |    |  |  |  |  |
|---|--|--|---|--|----|--|--|--|--|
| 1 |  |  | 4 |  |    |  |  |  |  |
|   |  |  |   |  | 16 |  |  |  |  |

السؤال 3 : أوجد ناتج الجمع.

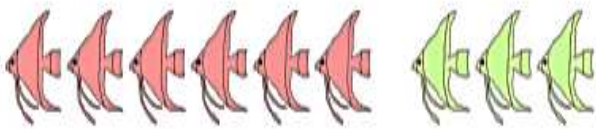


السؤال 4 : اجمع الجزأين للحصول على الكل.

| جزء  | جزء |
|------|-----|
| 2    | 4   |
| الكل |     |
|      |     |

| جزء  | جزء |
|------|-----|
| 5    | 3   |
| الكل |     |
|      |     |

السؤال 5 : اكتب جملة جمع عددية . .



— ○ — ○ —



— ○ — ○ —

السؤال 6 : حل المسائل.

رَأَى أَيُّمَنُ 3 أَرَانِبَ، وَرَأَتْ رَيْمٌ 6 أَرَانِبَ أُخْرَى.  
فَكَمَّ عَدَدُ الْأَرَانِبِ الَّتِي رَأَاهَا الطِّفْلَانِ إِجْمَالًا؟

— ○ — ○ —

