

شكراً لتحميلك هذا الملف من موقع المناهج الإماراتية



مذكرة الوحدة السابعة تنظيم التمثيلات البيانية واستخدامها

[موقع المناهج](#) ← [المناهج الإماراتية](#) ← [الصف الأول](#) ← [رياضيات](#) ← [الفصل الثالث](#) ← [الملف](#)

تاريخ نشر الملف على موقع المناهج: 20-04-2024 07:10:43

[إعداد: نهلة المزروعى](#)

التواصل الاجتماعي بحسب الصف الأول



[اضغط هنا للحصول على جميع روابط "الصف الأول"](#)

روابط مواد الصف الأول على تلغرام

[الرياضيات](#)

[اللغة الانجليزية](#)

[اللغة العربية](#)

[التربية الاسلامية](#)

المزيد من الملفات بحسب الصف الأول والمادة رياضيات في الفصل الثالث

[التوزيع الزمني للخطة الفصلية للمقرر](#)

1

[أسئلة الامتحان النهائي](#)

2

[أسئلة اختبار التقويم الختامي](#)

3

[أسئلة الاختبار المركزي](#)

4

المزيد من الملفات بحسب الصف الأول والمادة رياضيات في الفصل الثالث

[أسئلة تقويم الوحدة السابعة تنظيم التمثيلات البيانية واستخدامها](#)

5



الوحدة 7
تنظيم
التمثيلات البيانية
واستخدامها



مؤسسة الإمارات
للتعليم المدرسي
EMIRATES SCHOOLS
ESTABLISHMENT



الأسم
الصف الأول أساسي
الشعبة

إعداد المعلمة: نهلة المزروعي

جداول العلامات

الدرس 1

استخدم التمثيل البياني في الإجابة عن الأسئلة.

□ كم شخصًا يُحبُّ فصلَ الخريفِ؟ _____

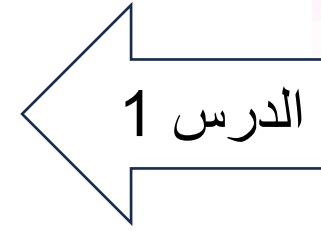
□ كم يزيد عدد من يحبون فصل الصيف عن فصل الربيع؟ _____

□ هل 7 أشخاص يحبون فصل الصيف أم فصل الخريف؟ _____

□ كم شخصًا شارك في استطلاع الرأي؟ _____

فصل السنة المفضل		
الإجمالي	علامات الاحصاء	فصل السنة
	###	الصيف 
	###	الخريف 
		الربيع 

1	I	6	
2	II	7	I
3	III	8	II
4	IIII	9	III
5		10	IIII








استخدم اللوحة المجاورة لتكملة الجداول التالية






Tally marks	Number	Tally marks	Number
II		IIII	
		III	
III		I	
		II	
IIII			

رَسْمُ التَّمثِيلَاتِ الْبَيَانِيَّةِ بِالصُّورِ

الدرس 3

اكمل جدول علامات الإحصاء، ثم استخدمه في التمثيل البياني بالصور

الشكل	علامات الإحصاء	الإجمالي
		
		
		
		
		



قراءة التمثيلات البيانية بالصور

الدرس 4

أكمل جدول علامات الإحصاء للعبة المفضلة، ثم استخدمه في الإجابة عن الأسئلة التالية:






A. كم عدد الطلاب الذين يفضلون اللعب بالكرة؟

B. ما اللعبة التي حصلت على 4 أصوات؟

C. بكم يزيد عدد الذين يفضلون اللعب بالأسماك

عن عدد الذين يفضلون قراءة القصص؟






D. كم عدد الذين شاركوا في الإستطلاع إجمالاً؟






	
	
	
	
	


رَسْمُ التَّمثِيلَاتِ البَيَانِيَّةِ بِالأَعْمَدَةِ

الدرس 5

اكمل جدول علامات الإحصاء، ثم استخدمه في التمثيل البياني بالأعمدة

5				
4				
3				
2				
1				
				
				

الشكل	علامات الإحصاء	الإجمالي
		
		
		
		
		



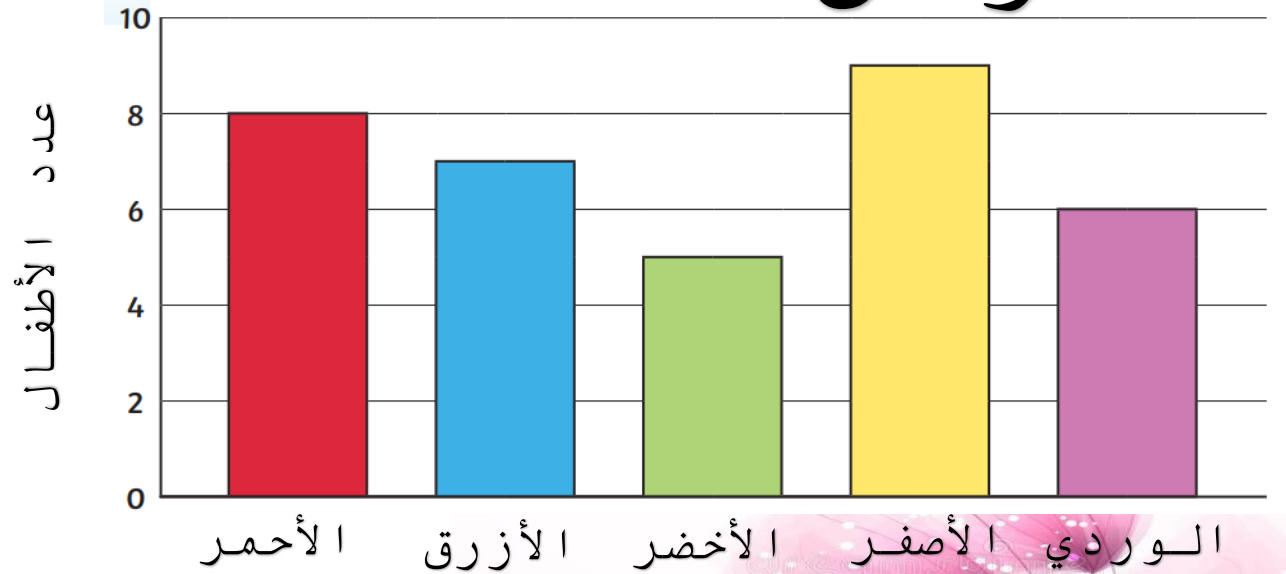
إعداد المعلمة: نهلة المزروعي

قراءة التمثيلات البيانية بالأعمدة

الدرس 6

استخدم التمثيل البياني بالأعمدة للإجابة عن الأسئلة التالية

الألوان المفضلة



A. ما اللون المفضل لدى الأطفال؟

B. ما اللون الذي حصل على 6 أصوات؟

C. بكم يزيد عدد الذين يفضلون اللون الأحمر

عن عدد الذين يفضلون اللون الأخضر؟

D. كم عدد الذين شاركوا في الإستطلاع إجمالاً؟

اكمل جدول علامات الإحصاء ثم مثله على التمثيلات البيانية التالية

كيفية الذهاب إلى المدرسة		
الطريقة	علامات الإحصاء	الإجمالي
 المشي		
 الحافلة		
 الدراجة		

الربط بين
التمثيلات البيانية

التمثيل البياني بالأعمدة

كيفية الذهاب إلى المدرسة			
8			
7			
6			
5			
4			
3			
2			
1			
0			
	المشي 	الحافلة 	الدراجة 

التمثيل البياني بالصور

كيفية الذهاب إلى المدرسة						
 المشي						
 الحافلة						
 الدراجة						

إعداد المعلمة: نهلة المزروعي

الربط بين
التمثيلات البيانية

اكتب اسم كل مفردة في المكان الصحيح

تمثيل بياني بالأعمدة

تمثيل بياني بالصور

جدول علامات الإحصاء

المادة المفضلة		
المادة	علامات الإحصاء	الإجمالي
الرياضيات		
العلوم		
القراءة		



الفاكهة المفضلة

تفاح					
موز					
فراولة					