

تم تحميل هذا الملف من موقع المناهج الإماراتية



*للحصول على أوراق عمل لجميع الصفوف وجميع المواد اضغط هنا

<https://almanahj.com/ae>

* للحصول على أوراق عمل لجميع مواد الصف الأول اضغط هنا

<https://almanahj.com/ae/1>

* للحصول على جميع أوراق الصف الأول في مادة رياضيات ولجميع الفصول, اضغط هنا

<https://almanahj.com/ae/1math>

* للحصول على أوراق عمل لجميع مواد الصف الأول في مادة رياضيات الخاصة بـ الفصل الأول اضغط هنا

<https://almanahj.com/ae/1math1>

* لتحميل كتب جميع المواد في جميع الفصول للـ الصف الأول اضغط هنا

<https://almanahj.com/ae/grade1>

للحصول على جميع روابط الصفوف على تلغرام وفيسبوك من قنوات وصفحات: اضغط هنا

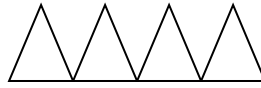
https://t.me/UAElinks_bot

اليوم: التاريخ: 27 /10/2019

ورقة مراجعه

الصف والشعبة: الأول ()

السؤال الاول:-
اكتب يا صغيري جملة الجمع العددية.

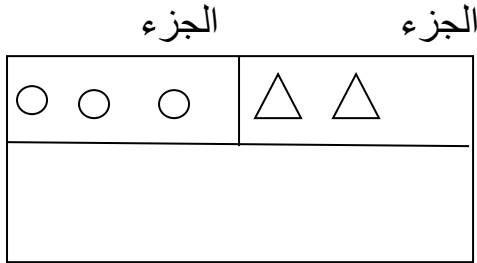


.....+.....=.....

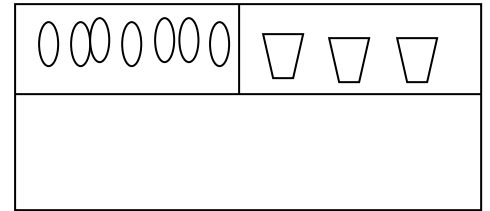
.....+.....=.....

السؤال الثاني :-

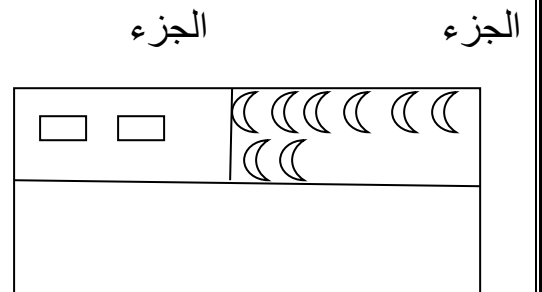
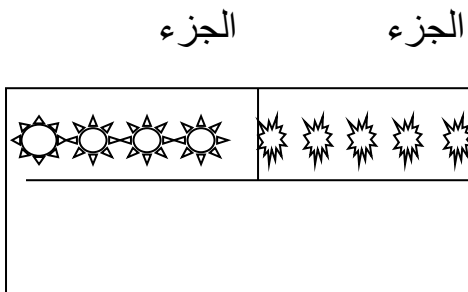
استخدم قطع العد الملونه واوجد العدد
الجزء الجزء



الكل



الكل



اكتب مكونات الاعداد التالية صديقي :-

.....+.....=7

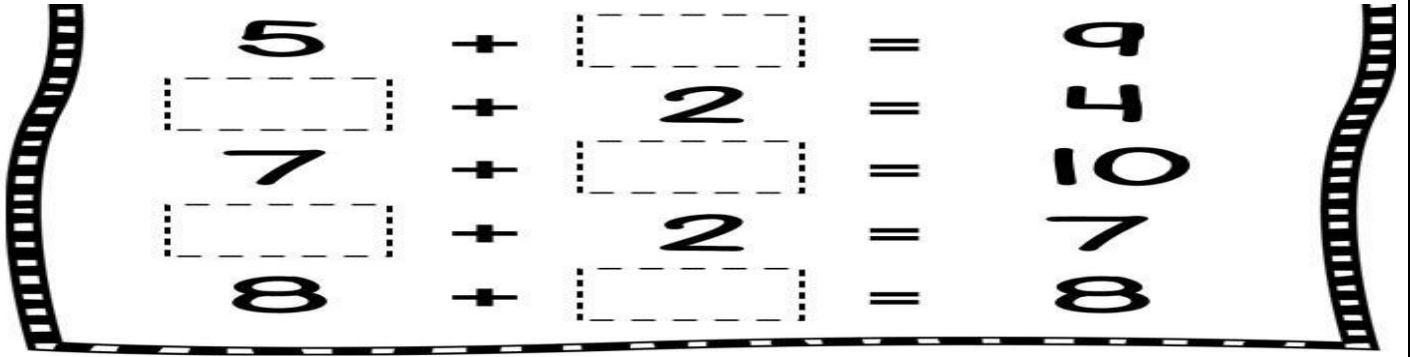
.....+.....=4

.....+.....=9

.....+.....=8

.....+.....= 10

السؤال الثالث:- اكتب الرقم الناقص يا صغيري



حوظ علي المجموعة التي تساوي العدد 9

