

شكراً لتحميلك هذا الملف من موقع المناهج الإماراتية



مذكرة مراجعة

[موقع المناهج](#) ⇨ [المناهج الإماراتية](#) ⇨ [الصف الأول](#) ⇨ [رياضيات](#) ⇨ [الفصل الثالث](#) ⇨ [الملف](#)

تاريخ نشر الملف على موقع المناهج: 11-06-2019 05:31:06

التواصل الاجتماعي بحسب الصف الأول



روابط مواد الصف الأول على تلغرام

[الرياضيات](#)

[اللغة الانجليزية](#)

[اللغة العربية](#)

[التربية الاسلامية](#)

المزيد من الملفات بحسب الصف الأول والمادة رياضيات في الفصل الثالث

أسئلة الامتحان النهائي	1
أسئلة اختبار التقويم الختامي	2
أسئلة الاختبار المركزي	3
أسئلة تقويم الوحدة السابعة تنظيم التمثيلات البيانية واستخدامها	4
كراسة المعرفة الوحدة الثامنة القياس والوقت	5

كل ما يحتاجه الطالب في جميع الصفوف من أوراق عمل واختبارات ومذكرات، يجده هنا في الروابط التالية لأفضل مواقع تعليمي إماراتي 100 %

<u>تطبيق المناهج الإماراتية</u>	<u>الاجتماعيات</u>	<u>الرياضيات</u>
<u>الصفحة الرسمية على التلغرام</u>	<u>الاسلامية</u>	<u>العلوم</u>
<u>الصفحة الرسمية على الفيسبوك</u>	<u>الانجليزية</u>	
<u>التربية الاخلاقية لجميع الصفوف</u>	<u>اللغة العربية</u>	
<u>التربية الرياضية</u>		
مجموعات التلغرام.	مجموعات الفيسبوك	قنوات تلغرام
<u>الصف الأول</u>	<u>الصف الأول</u>	<u>الصف الأول</u>
<u>الصف الثاني</u>	<u>الصف الثاني</u>	<u>الصف الثاني</u>
<u>الصف الثالث</u>	<u>الصف الثالث</u>	<u>الصف الثالث</u>
<u>الصف الرابع</u>	<u>الصف الرابع</u>	<u>الصف الرابع</u>
<u>الصف الخامس</u>	<u>الصف الخامس</u>	<u>الصف الخامس</u>
<u>الصف السادس</u>	<u>الصف السادس</u>	<u>الصف السادس</u>
<u>الصف السابع</u>	<u>الصف السابع</u>	<u>الصف السابع</u>
<u>الصف الثامن</u>	<u>الصف الثامن</u>	<u>الصف الثامن</u>
<u>الصف التاسع عام</u>	<u>الصف التاسع عام</u>	<u>الصف التاسع عام</u>
<u>الصف التاسع متقدم</u>	<u>الصف التاسع متقدم</u>	<u>الصف التاسع متقدم</u>
<u>الصف العاشر عام</u>	<u>الصف العاشر عام</u>	<u>الصف العاشر عام</u>
<u>الصف العاشر متقدم</u>	<u>الصف العاشر متقدم</u>	<u>الصف العاشر متقدم</u>
<u>الحادي عشر عام</u>	<u>الحادي عشر عام</u>	<u>الحادي عشر عام</u>
<u>الحادي عشر متقدم</u>	<u>الحادي عشر متقدم</u>	<u>الحادي عشر متقدم</u>
<u>ثاني عشر عام</u>	<u>الثاني عشر عام</u>	<u>الثاني عشر عام</u>
<u>ثاني عشر متقدم</u>	<u>الثاني عشر متقدم</u>	<u>الثاني عشر متقدم</u>



وزارة التربية والتعليم

منطقة دبي التعليمية

مدرسة جميرا

النموذجية

مذكرة مراجعة للصف الاول الاساسي لمادة الرياضيات

اشراف

الاستاذة : كلثوم الهاشمي

الاستاذة : فهيمة محمد

الاسم :

الصف :

الوحدة 7 تنظيم الرسوم البيانية واستخدامها

اكتب الإجمالي. واستخدم التمثيل البياني في الإجابة عن الأسئلة.

الفصل المفضل		
الاجمالي	العدد بالرموز	الفاكهة
		الصيف
		الخريف
		الشتاء
		الربيع

1. كم شخصاً يحبون الشتاء ؟

2. بكم يزيد عدد الذين اختاروا الخريف عن الربيع ؟

3. هل 7 اشخاص يحبون الصيف ؟

4. كم شخصاً شارك في الاستطلاع الرأي ؟

اكتب الإجمالي، واستخدم جدول العلامات في الإجابة عن السؤال.

الرياضة المفضلة		
الاجمالي	العدد بالرموز	الرياضة
		كرة القدم 
		كرة السلة 
		بيسبول 

5. أي رياضة حصلت على أصوات أكثر من كرة السلة؟





أكمل كلاً من العبارات التالية.

استطلاع الرأي





جدول العلامات

7. يمكنك تجميع البيانات بعمل _____.

8. _____ يعرض البيانات باستخدام علامات الإحصاء.

1. اكتب القيم الإجمالية في جدول العلامات.

7				
6				
5				
4				
3				
2				
1				
0				

2. استخدم جدول العلامات الموجود في التمرين 1 في رسم تمثيل بياني بالأعمدة.

إضافة البيتا المفضلة		
الإجمالي	العدد بالرموز	الإضافة
7		جبين
3		بيروني
2		سجق

تقيم نورة حفل بيتزا، وتطلب من المدعوين اختيار نوع البيتا المفضل لهم. إذا طلبت نورة نوعًا واحدًا، فأَي نوع طلبت؟ فسّر.


أكمل كلاً من العبارات التالية.

تمثيل بياني مصور

تمثيل بياني بالأعمدة

5. يستخدم _____ الأعمدة في عرض البيانات.

6. يستخدم _____ الصور في عرض البيانات.



اكتب القيم الإجمالية في
جدول العلامات.

الاشكال	علامات العد	العدد الاجمالي

ما تسمى التمثيل البياني جدول
علامات العد

استخدم جدول بعلامات العد 1 وارسم تمثيل بياني بالصور

المستطيل							
المثلث							
الدائرة							

أي الاشكال الهندسية أكثر تفضيلاً
عند الطلبة؟




بكم يزيد الدائرة عن المستطيل؟







7. كم صوتاً يمثل كل تمثيل بياني مصور؟

1	2	3	4
○	○	○	○

استخدم/ي جدول العلامات لرسم تمثيل بياني
مصور

اكتب القيم الاجمالية في جدول العلامات.

وسائل النقل المفضلة					
					
					
					

وسائل النقل المفضلة		
الاجمالي	العدد بالرموز	الاسم
		سيارة 
		قطار 
		طيارة 

1. قطف محمد 9 تفاحات, وقطف صديقة خالد 5 تفاحات .

كم يزيد عدد التفاحات التي قطفها محمد عن خالد؟

اظهر استطلاع الرأي أن 5 اشخاص يحبون الجري, و 8 اشخاص يحبون السباحة, و5 اشخاص يحبون القفز.

كم شخصا تم استطلاع رأية؟

أكمل كلاً من العبارات التالية.

تمثيل بياني مصور

البيانات

5. يعرض التمثيل البياني المعلومات أو _____.

6. _____ يستخدم الصور في عرض البيانات.

حل المسائل عن الساعة – الوقت

يبدأ حفل العشاء الساعة 5 تماما وينتهي بعد 3 ساعات . ففي أي وقت ينتهي الحفل .
ارسم الوقت ف يساعة التناظرية والساعة الرقمية



الساعة الزائدة نصف ساعة . عقرب الساعات يقف بين 6 و7 كم الساعة إذا . ارسم
عقارب الساعة ؟



عند حسن تمرين الساعة 7 ويستمر لمدة ساعتين . أي وقت ينتهي التمرين ؟



عادت فاطمة من الاستراحة الساعة 11 وظلت في الاستراحة لمدة ساعة
أي ساعة بدأت الاستراحة



الوحدة 9 أشكال ثلاثية الأبعاد والحصص المتساوية

أذكر كل شكل وارسمه

أنا شكل ثنائي الأبعاد لدي 4 أضلاع . ضلعان منها طويلان ومتساويان والضلعان الآخران قصيران وأيضا متساويان . فأني شكل أنا؟

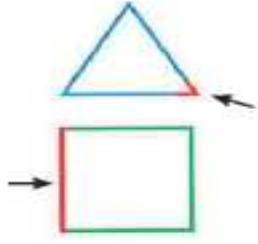
أنا شكل ثنائي الأبعاد لدي 4 رؤوس . وكل أضلاعي متساوية في الطول فأني شكل أنا؟

أنا شكل ثنائي الأبعاد لا أضلاعي لي ولا رؤوس . فأني شكل أنا؟

أنا شكل ثنائي الأبعاد عدد أضلاعي أقل من 4 ولي 3 رؤوس . فأني شكل أنا؟

أنا شكل ثنائي الأبعاد لدي 4 أضلاع فقط اثنان من أضلاعي متساويان . فأني شكل أنا؟

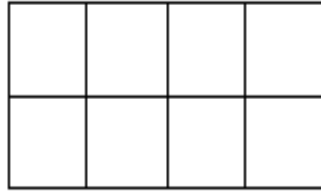

ارسم خطوطاً لتوصيل الكلمات بما يطابقها.



1. ضلع

2. رأس

اكتب عدد الأجزاء المتساوية



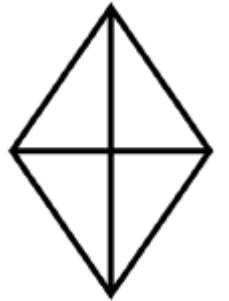
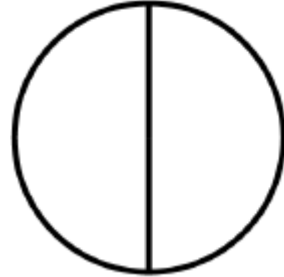

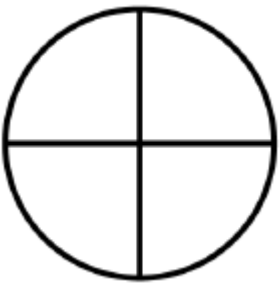
..... أجزاء متساوية

..... أجزاء متساوية

..... أجزاء متساوية

لون ربع الشكل الهندسي :



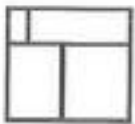
لون نصف الشكل الهندسي :



ارسم دائرة حول الإجابات الصحيحة.

10. أجزاء متساوية

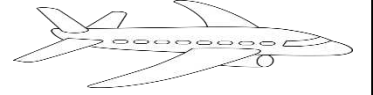
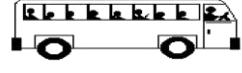
9. الكل



الوحدة 8 القياس

قارن/ي بين الاجسام , ارسم/ي دائرة حول الإجابة الصحيحة؟

1- حافلة مدرسة أطول من السيارة, الطائرة أطول من حافلة المدرسة.



اقصر

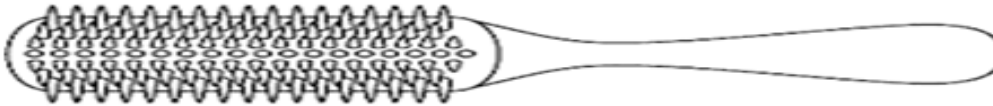
أطول من

هل السيارة أطول من الطائرة ام اقصر؟

رتب/ي الاجسام تبعا للطول. اكتب/ي 1 للجسم القصير , و 2 للجسم الاقصر, و 3
للاقصر علي الاطلاق؟



قس باستخدام اكتب حوالي كم مكعب



1

2

3

4

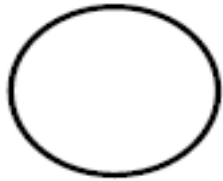
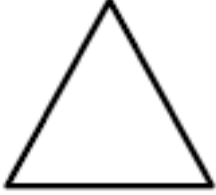
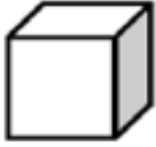
5

6

7

8

الأشكال الهندسية صل الاسم بالشكل المناسب :



1- أنا شكل ثلاثي لي وجه واحد
ورأس واحد

2- أنا شكل ثنائي عدد رؤوسي
صفر

3- أنا شكل ثنائي عدد أضلاعي
4 وجميع أضلاعي بنفس الطول

4- أنا شكل ثلاثي متكون من 6
مربعات

5- أنا شكل ثلاثي لي وجهان

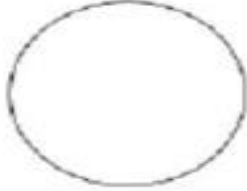

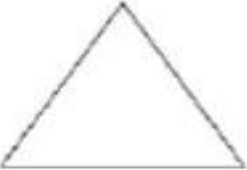






6- أنا شكل ثنائي لي ثلاثة
أضلاع

7- أنا شكل ثلاثي لي ثمانية
رؤوس ووجهي مستطيل

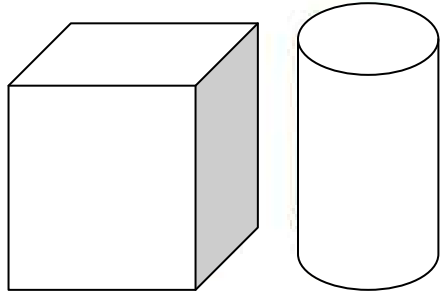
8- أنا شكل ثنائي لي أربعة
أضلاع ضلعان لهم نفس الطول

9- أنا شكل ثنائي لي أربعة
رؤوس ضلعان لهما نفس الطول
والضلعان مختلفان

كم عدد الاضلاع

		
1 0 2	2 3 4	3 1 2
		
4 2 5	2 5 4	0 1 2
		
6 5 4	9 8 6	8 10 6

ما عدد الأوجه في المكعب والإسطوانة إجمالاً؟



- | | | | |
|-----------------------|-----------------------|-----------------------|-----------------------|
| 2 | 4 | 6 | 8 |
| <input type="radio"/> | <input type="radio"/> | <input type="radio"/> | <input type="radio"/> |

