

تم تحميل هذا الملف من موقع المناهج الإماراتية



الملف الخطة الأسبوعية للأسبوع الخامس الحلقة الثانية في مدرسة أبو أيوب الأنصاري

موقع المناهج ← المناهج الإماراتية ← ملفات مدرسية ← المدارس ← الفصل الأول

روابط مواقع التواصل الاجتماعي بحسب ملفات مدرسية



روابط مواد ملفات مدرسية على تلغرام

[الرياضيات](#)

[اللغة الانجليزية](#)

[اللغة العربية](#)

[التربية الاسلامية](#)

المزيد من الملفات بحسب ملفات مدرسية والمادة المدارس في الفصل الأول

[توجيهات بدء الدراسة للعام الدراسي الجديد](#)

1

[امتحانات منتصف الفصل الأول للصفين الحادي عشر والثاني عشر في مدرسة الشعلة الخاصة](#)

2

[امتحانات منتصف الفصل الأول للصفين التاسع والعاشر في مدرسة الشعلة الخاصة](#)

3

[امتحانات منتصف الفصل الأول للصفوف الخامس حتى الثامن في مدرسة الشعلة الخاصة](#)

4

[امتحانات منتصف الفصل الأول للصفوف الأول حتى الرابع في مدرسة الشعلة الخاصة](#)

5

## الرياضيات - الوحدة 9: الوقت اعتمد على نفسي

### الدرس 1: الوقت بالساعة

إِسْتَحْدِمِ 🕒. اذْكُرِ الْوَقْتَ الظَّاهِرَ أَمَامَكَ، ثُمَّ اكْتُبِ الْوَقْتَ.

4.



الساعة \_\_\_\_\_

5.



الساعة \_\_\_\_\_


6.



الساعة \_\_\_\_\_

أرْسِمِ الْعَقَارِبَ عَلَى السَّاعَةِ ثُمَّ اكْتُبِ الْوَقْتَ.

9. الساعة 3



8. الساعة 10



7. الساعة 5



وَضِّحِ الْوَقْتَ عَلَى كُلِّ سَاعَةٍ.

10. يَصِلُ مُحَمَّدٌ إِلَى الْمَنْزِلِ فِي السَّاعَةِ 3. وَيَصِلُ يَوْسُفُ إِلَى الْمَنْزِلِ بَعْدَ سَاعَةٍ وَاجِدَةٍ. فَمَا الْوَقْتُ الَّذِي يَصِلُ فِيهِ يَوْسُفُ إِلَى الْمَنْزِلِ؟



11. يَبْدَأُ تَمْرِينُ كُرَةَ السَّلَّةِ فِي السَّاعَةِ 4:00. يَأْكُلُ حَامِدٌ وَجِبَّةَ خَفِيفَةً قَبْلَ سَاعَتَيْنِ مِنَ التَّمْرِينِ. فَمَا الْوَقْتُ الَّذِي يَأْكُلُ فِيهِ حَامِدٌ الْوَجِبَّةَ الْخَفِيفَةَ؟



12. إِنَّهَا بَعْدَ السَّاعَةِ 7 وَقَبْلَ السَّاعَةِ 9. فَمَا الْوَقْتُ إِذَا كَانَ مَوْجُودًا ثَمَانًا عَلَى السَّاعَةِ؟ وَضِّحِ الْوَقْتَ الظَّاهِرَ عَلَى وَجْهِ السَّاعَةِ الثَّنَائِظِيَّةِ.

الدرس 2: الوقت بالنصف ساعة

إِسْتَعْمِدْ 🕒 . اذْكُرِ الْوَقْتِ الظَّاهِرَ أَمَامَكَ، وَاكْتُبِيهِ.

5.



والنصف

6.



والنصف



والنصف

تم تحييل هذا الملف من

أرْسِمِ الْعَقَارِبَ فِي كُلِّ سَاعَةٍ، ثُمَّ اكْتُبِ الْوَقْتِ.

9. 6 والنصف



8. 7 والنصف



7. 4 والنصف



موقع المنهج الإماراتية



10. يُسْتَبَاحٌ عَلَيَّ فِي السَّاعَةِ 6

والتَّصْفِ، وَيَنْبَغِي أَنْ يُغَادِرَ إِلَى  
الْمَدْرَسَةِ بِعَظْمَا بِسَاعَةٍ، بَيْنَ الْوَقْتِ  
حِينَ يُغَادِرُ إِلَى الْمَدْرَسَةِ عَلَى السَّاعَةِ  
الْمُنَاطَرَةِ وَكَتَبَهُ عَلَى السَّاعَةِ الرَّقْمِيَّةِ.

إِسْتَعْمِدِ السَّاعَاتِ الْمَوْضُوحَةَ.



بِذَلِكَ الْيَوْمِ الدَّرَاسِيِّ تَدْرِيْبُ كُرَةِ الْقَدَمِ يَرَى الْمُنْتَبِهَ

مَاذَا يَحْدُثُ عِنْدَ كُلِّ وَقْتٍ مِنْ تِلْكَ الْأَوْقَاتِ؟

11. 6:30

12. 3:30

13. 8:30

### الدرس 3: استراتيجية حل المسائل: إيجاد نمط

أوجد نمطًا لحلِّ، اِسْتخدِمِ المَسَاحَةَ المُتَوَفَّرَةَ.

1. يُقَرِّرُ طُلَّابُ المَعْلَمَةِ مَنَى الأُنشِطَةَ كُلَّ سَاعَةٍ فِي الصَّبَاحِ. فَتَبْدَأُ العِراءُ فِي السَّاعَةِ 8:30. ثُمَّ يَعمُومون بِثَلَاثَةِ أنشِطَةٍ أُخْرَى. فَمَتَى يَبْدَأُ كُلُّ تَشَاطٍ مِئْهَا؟

8:30, \_\_\_\_\_, \_\_\_\_\_, \_\_\_\_\_,

2. يَبْدَأُ الطُّلَّابُ العَمَلُ فِي أنشِطَةِ التَّعلِيمِ فِي السَّاعَةِ 10:30. وَيُخْضَلُونَ عَلى الأِشْرَاحَةِ بَعْدَ ذَلِكَ بِسَاعَتَيْنِ، فَمَا وَقْتُ بَدْءِ إِشْرَاحَةِ الطُّلَّابِ؟

تم تحميل هذا الملف من

3. يُقَرِّرُ طُلَّابُ المَعْلَمَةِ مَنَى الأُنشِطَةَ كُلَّ نِصْفِ سَاعَةٍ بَعْدَ الظُّهيرةِ. فَتَبْدَأُ الرِّيَاضَاتُ فِي السَّاعَةِ 1:00. وَتَبْدَأُ الكِتابَةُ بَعْدَ الرِّيَاضَاتِ، مَا وَقْتُ بَدْءِ الكِتابَةِ؟

رسم صورة.



أحذية \_\_\_\_\_

4. تَمْتَلِكُ مُرَّةً 8 أَحْذِيَّةٍ فَوَضَعَتْ عِذًا مِئْساوِنًا مِنَ الأَحْذِيَّةِ فِي جِيبَيْتَيْنِ. فَكَمِ جِذَاءٍ وَضَعَتْ فِي كُلِّ جِيبِيَّةٍ؟

5. يَتَكَلَّفُ الطَّابِعُ البَرِيدِيَّ 45 فِلْسًا. يُرِيدُ ما جِدَّ شِراءَ طابِعِينَ بَرِيدِيَّيْنِ. وَكانَ مَعَهُ عُمَلَتانِ فِئَةٌ رَبيعَ دَرهمِ، وَعُمَلَتانِ فِئَةٌ عِشْرَةَ فِلوسِ، وَ 3 عُمَلاتِ فِئَةٌ 5 فِلوسِ، فَكَمِ لَدِيهِ مِنَ المَاليِّ؟

فلسا \_\_\_\_\_

وَكَمِ عِذَّةِ الفِلوسِ الإِضافِيَّةِ الَّتِي نِختَاجُها لِيشْتَرِيَ طابِعِينَ بَرِيدِيَّيْنِ؟

فلوس \_\_\_\_\_

6. يَصِلُ القِطارُ إِلى النَخْطَةِ عَلى رَأْسِ السَّاعَةِ وَعِندَ مُنتَظِفيهاِ، والسَّاعَةُ الآنَ 4:30. أُسْرَةُ هِناكَ فِي طَريقِها إِلى النَخْطَةِ وَلِكيَّها سِتُّسُتُفَرِقُ سَاعَةً، ما أَبْكَرَ وَقْتُ يُمكنُ لِأُسْرَةَ هِناكَ الوُصولَ إِلى النَخْطَةِ؟

\_\_\_\_\_

## الدرس 4: الوقت بالربع ساعة

إِسْتَحْدِمِ 🕒. اذْكُرِ الْوَقْتِ الظَّاهِرَ أَمَامَكَ. ثَمَّ اكْتُبِ الْوَقْتِ.

4.  

5.  

6.  

أرْسِمِ العقاربِ في كُلِّ ساعةٍ. اكْتُبِ الْوَقْتِ.

9. 12 والرُّبْعِ

8. 5 والرُّبْعِ

7. 2 إلا زَيْتًا

اقْرَأِ الْوَقْتِ. اكْتُبِ الْوَقْتِ الظَّاهِرَ عَلَى السَّاعَةِ الرَّقْمِيَّةِ.

10. الثَّانِيَةَ عَشْرَةَ وَخَمْسَ وَأَرْبَعُونَ دَقِيقَةً  
11. الرَّابِعَةَ وَخَمْسَ عَشْرَةَ دَقِيقَةً  
12. التَّاسِعَةَ وَثَلَاثُونَ دَقِيقَةً

13. يَنْتَهِي الدَّوَامُ الْمَدْرَسِيُّ فِي مَدْرَسَةِ مُهْرَةَ السَّاعَةِ 3:15 وَعَلَيْهَا الْاِتِّخَاطُ 3 سَاعَاتٍ إِضَافِيَّةً. حَتَّى وَقْتِ الْاِنْصِرَافِ. فَكَمْ السَّاعَةُ الْآنَ؟

14. ذَهَبَ فَالِجٌ فِي نِهَايَةِ الْأُسْبُوعِ إِلَى بَيْتِ صَدِيقِهِ السَّاعَةَ 2:15. حَوَّطِ السَّاعَةَ الَّتِي تُوضِّحُ هَذَا الْوَقْتِ.



15. ذَهَبَتْ أُسْرَةُ نُوْرَةَ فِي تَرْهِيَةٍ، وَانْطَلَقُوا فِي السَّاعَةِ 9:45. وَقَادُوا السِّيَّارَةَ لِمُدَّةِ 3 سَاعَاتٍ، ثَمَّ تَوَقَّعُوا بَعْدَ ذَلِكَ لِتَنَاوُلِ الْغَدَاةِ، وَاسْتَغْفَرَتْ ذَلِكَ سَاعَةً وَاجِدَةً. فَمَتَى انْتَهَوْا مِنْ تَنَاوُلِ الْغَدَاةِ؟

## الدرس 5: الوقت بفترات مدتها خمس دقائق

أذكر الوقت الموضح أمامك، استخدم 🕒 لتساعدك، ثم اكتب الوقت.

5.



6.




7.

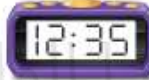


أذكر الوقت الموضح أمامك، أرسم العقارب ليبيّن الوقت.

8.



9.



10.



11.

2:20



12.

8:45




13.

1:25



14. إذا اقتربت عقارب الساعات من 11 وأشار عقرب الدقائق إلى 10، فما الوقت؟

أنا أرى ما من هـ



15. تتركب مجموعة من الأشخاص غزبة الملاهي كل 5 دقائق. والساعة الآن 3:00. وتوجد 7 مجموعات من الأشخاص قبل لميس وعائلتها. كم ستكون الساعة عندما ستتركب عائلة لميس الغزبة؟



16. تستغفر مشاهدة العرض التثبيدي للعلم 20 دقيقة. فإذا كان العرض التثبيدي يبدأ في الساعة 7، فمتى سيبدأ عرض العلم؟

الدرس 6: صباحاً ومساءً

أذكر الوقت الموضح للنشاط واكتبه. حوِّط A.M. أو P.M.

<p>6. السباحة</p>  <p>A.M. <input type="text"/></p> <p>P.M. <input type="text"/></p>	<p>5. زيارة الأقارب</p>  <p>A.M. <input type="text"/></p> <p>P.M. <input type="text"/></p>	<p>4. تناول الإفطار</p>  <p>A.M. <input type="text"/></p> <p>P.M. <input type="text"/></p>
---	---	--

أذكر الوقت الموضح للنشاط، وارسم العقارب على الساعة لتوضح الساعة، ثم حوِّط صباحاً أو مساءً.

<p>9. تناول الغشاء</p>  <p>صباحاً <input type="text"/></p> <p>مساءً <input type="text"/></p>	<p>8. نائم في السرير</p>  <p>صباحاً <input type="text"/></p> <p>مساءً <input type="text"/></p>	<p>7. تدريب كرة القدم</p>  <p>صباحاً <input type="text"/></p> <p>مساءً <input type="text"/></p>
---	---	---

أكمل كل عبارة ثم اكتب منتصف الليل أو الظهيرة

10. عند \_\_\_\_\_ أكون نائماً عادةً.
11. في \_\_\_\_\_ فذ أتناول غدائي.
12. لدى بدير تدريب في النادي على كرة القدم في الساعة 4:00. فهل سيكون التدريب في الساعة 4:00 صباحاً أم 4:00 مساءً؟



13. تُسير الساعة إلى 2:25. وبغذ ساعة ستذهب ريم إلى المكتبة. بين على الساعة المجاوزة وقت ذهابها، وحوِّط صباحاً أو مساءً.

صباحاً

مساءً

14. الساعة 3:00 صباحاً. هل هذا وقت عودتك من المدرسة للمنزل أم ستكون نائماً في السرير؟

الدرس 7: العلاقات الزمنية

حوّطِ الوَحدةَ الأفضَل لقياسِ الوقتِ لكلِّ حَدَثٍ.

4. إتمام مرحلة الصفّ الثاني



أشهر  
أيام

3. غسل الأطباق



ساعات  
دقائق

6. بناء بيت على الشجرة



يوم  
شهر

5. الذهاب إلى المتجر



أسابيع  
ساعات

8. شحذ قلم الرصاص



دقائق  
ساعات

7. تناول طعام الغداء



ساعات  
دقائق

استخدم إستراتيجية حلّ المسائل لحلّ المسائل، وكتب الإجابة.

9. ذهبت خديجة إلى الشاطئ مع عائلتها لمدة 4 أسابيع، كم عدد الأيام التي قضتها خديجة على الشاطئ؟

يوماً \_\_\_\_\_

10. كم عمرك لأقرب عام وشهر ويوم؟

يوماً \_\_\_\_\_

11. عاش عمز في لندن مع أسرته لمدة عامين، كم عدد الأسابيع التي عاشها في لندن؟

أسابيع \_\_\_\_\_



الدرس 8: استخدام التقويم

استخدم التقويم للإجابة عن الأسئلة.

مارس						
الأحد	الاثنين	الثلاثاء	الأربعاء	الخميس	الجمعة	السبت
				1	2	3
4	5		7	8	9	10
11	12	13	14	15		17
18	19	20	21	22	23	24
25	26	27	28	29	30	31

4. ما التاريخ قبل الاختلال

الخاص بأخذ؟

\_\_\_\_\_

5. أوجد التاريخ الذي يقوم

فيه عبدة يقرض مشروعيه  
العلمي عن التناصويرات.

\_\_\_\_\_

6. يأتي الاختلال الخاص بأخذ

في الجمعة التالية من شهر مارس.  
فما تاريخ الاختلال؟

\_\_\_\_\_

استخدم إستراتيجية حل المسائل لحل المسائل، اكتب الإجابة.

7. اكتب أيام الأسبوع بالترتيب بدءاً من الأحد وانتهاءً بالسبت.

\_\_\_\_\_

\_\_\_\_\_

\_\_\_\_\_

8. اكتب الأشهر في العام بالترتيب بدءاً من يناير وانتهاءً بديسمبر.

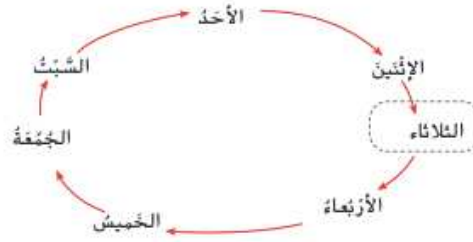
\_\_\_\_\_

\_\_\_\_\_

\_\_\_\_\_

## الدرس 9: الوحدات الزمنية

إنطلاقاً من اليوم المحدد في الشكل أكتب اليوم الذي كان و اليوم الذي سيكون بناءً على عدد الأيام المحددة في الجدول.



.3

عدد الأيام	اليوم الذي كان	اليوم الذي سيكون
8		
14		
21		
69		
70		
71		

استخدم إستراتيجية حلّ المسائل لحلّ المسائلين .

أكتب الإجابة.

4. كم يوم إثنين في 35 يوماً؟ اشرح ذلك.

---



---



---

5. كم يوم إثنين في 70 يوماً؟ اشرح ذلك.

---



---



---