

تم تحميل هذا الملف من موقع المناهج الإماراتية



## مذكرة الوحدة الرابعة طرح الأعداد المكونة من رقمين

موقع المناهج ← المناهج الإماراتية ← الصف الثاني ← رياضيات ← الفصل الأول ← مذكرات وبنوك ← الملف

تاريخ إضافة الملف على موقع المناهج: 2024-10-15 22:29:04

ملفات اكتب للمعلم اكتب للطالب الاختبارات الكترونية | اختبارات | حلول | عروض بوربوينت | أوراق عمل  
منهج انجليزي | ملخصات وتقارير | مذكرات وبنوك | الامتحان النهائي للمدرس

المزيد من مادة  
رياضيات:

إعداد: نهلة المزروعي

## التواصل الاجتماعي بحسب الصف الثاني



صفحة المناهج  
الإماراتية على  
فيسبوك

الرياضيات

اللغة الانجليزية

اللغة العربية

التربية الاسلامية

المواد على تلغرام

## المزيد من الملفات بحسب الصف الثاني والمادة رياضيات في الفصل الأول

أسئلة الاختبار التكويني المستمر

1

أوراق عمل خطة علاجية المهارات الأساسية في الفصل

2

حل كتاب الطالب Differentiation منهج ريفيل

3

كتاب Sampler دليل المعلم الوحدة الثانية منهج ريفيل

4

مذكرة الوحدة الثالثة جمع الأعداد المكونة من رقمين

5

# الصف الثاني الأساسي



مؤسسة الإمارات  
للتعليم المدرسي  
EMIRATES SCHOOLS  
ESTABLISHMENT

مذكرة  
الوحدة 4  
طرح الأعداد  
المكونة من رقمين



الأسم  
الشعبة

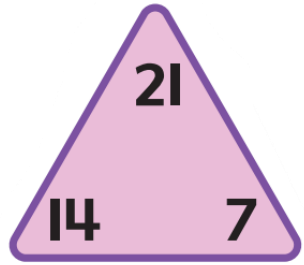
إعداد المعلمة: نهلة المزروعى

1

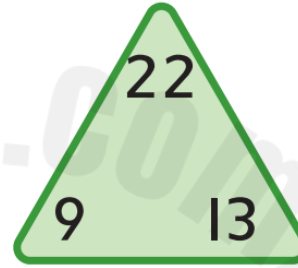
الدرس 1

عائلات الحقائق  
المكوّنة من رقمين

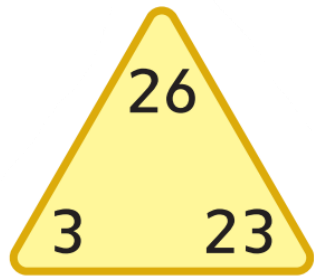
أَكْمِلْ عَائِلَةَ الْحَقَائِقِ.



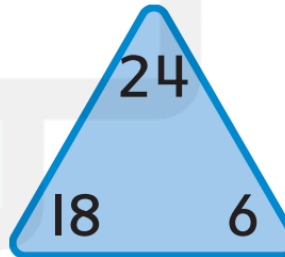
$$\begin{array}{l} \_ + \_ = \_ \\ \_ - \_ = \_ \\ \_ + \_ = \_ \\ \_ - \_ = \_ \end{array}$$



$$\begin{array}{l} \_ + \_ = \_ \\ \_ - \_ = \_ \\ \_ + \_ = \_ \\ \_ - \_ = \_ \end{array}$$



$$\begin{array}{l} \_ + \_ = \_ \\ \_ - \_ = \_ \\ \_ + \_ = \_ \\ \_ - \_ = \_ \end{array}$$



$$\begin{array}{l} \_ + \_ = \_ \\ \_ - \_ = \_ \\ \_ + \_ = \_ \\ \_ - \_ = \_ \end{array}$$

إعداد المعلمة: نهلة المزروعى

فَكِّكْ عَدَدًا لِتَكُونِ عَشْرَةً، ثُمَّ اطَّرِحْ.

$$47 - 26$$



\_\_\_\_\_

$$47 - \underline{\quad} = \underline{\quad}$$

$$\underline{\quad} - \underline{\quad} = \underline{\quad}$$

$$47 - 26 = \underline{\quad} \text{ إِذَا.}$$

$$75 - 55$$



\_\_\_\_\_

$$75 - \underline{\quad} = \underline{\quad}$$

$$\underline{\quad} - \underline{\quad} = \underline{\quad}$$

$$75 - 55 = \underline{\quad} \text{ إِذَا.}$$

$$54 - 13$$



\_\_\_\_\_

$$54 - \underline{\quad} = \underline{\quad}$$

$$\underline{\quad} - \underline{\quad} = \underline{\quad}$$

$$54 - 13 = \underline{\quad} \text{ إِذَا.}$$

3

## Subtract 1-Digit Numbers from 2-Digit Numbers without Regrouping

Subtract the numbers.



NAME \_\_\_\_\_

$$\begin{array}{r} 19 \\ - 8 \\ \hline \end{array}$$

$$\begin{array}{r} 25 \\ - 3 \\ \hline \end{array}$$

$$\begin{array}{r} 99 \\ - 9 \\ \hline \end{array}$$

$$\begin{array}{r} 63 \\ - 2 \\ \hline \end{array}$$

$$\begin{array}{r} 42 \\ - 1 \\ \hline \end{array}$$

$$\begin{array}{r} 59 \\ - 8 \\ \hline \end{array}$$

$$\begin{array}{r} 68 \\ - 2 \\ \hline \end{array}$$

$$\begin{array}{r} 96 \\ - 4 \\ \hline \end{array}$$

$$\begin{array}{r} 57 \\ - 7 \\ \hline \end{array}$$

$$\begin{array}{r} 77 \\ - 4 \\ \hline \end{array}$$

$$\begin{array}{r} 68 \\ - 6 \\ \hline \end{array}$$

$$\begin{array}{r} 26 \\ - 5 \\ \hline \end{array}$$

$$\begin{array}{r} 76 \\ - 1 \\ \hline \end{array}$$

$$\begin{array}{r} 65 \\ - 2 \\ \hline \end{array}$$

$$\begin{array}{r} 24 \\ - 3 \\ \hline \end{array}$$

$$\begin{array}{r} 58 \\ - 2 \\ \hline \end{array}$$



www.splashlearn.com  
Also available on:

SplashLearn

DewWool

Name \_\_\_\_\_

Teacher \_\_\_\_\_

Class \_\_\_\_\_

Date \_\_\_\_\_

## Let's do subtraction!

# 123

$$\begin{array}{r} 28 \\ - 6 \\ \hline \end{array}$$

$$\begin{array}{r} 33 \\ - 8 \\ \hline \end{array}$$

$$\begin{array}{r} 54 \\ - 7 \\ \hline \end{array}$$

$$\begin{array}{r} 45 \\ - 9 \\ \hline \end{array}$$

$$\begin{array}{r} 16 \\ - 3 \\ \hline \end{array}$$

$$\begin{array}{r} 67 \\ - 8 \\ \hline \end{array}$$

$$\begin{array}{r} 21 \\ - 4 \\ \hline \end{array}$$

$$\begin{array}{r} 11 \\ - 2 \\ \hline \end{array}$$

$$\begin{array}{r} 75 \\ - 5 \\ \hline \end{array}$$

$$\begin{array}{r} 93 \\ - 9 \\ \hline \end{array}$$

$$\begin{array}{r} 40 \\ - 3 \\ \hline \end{array}$$

$$\begin{array}{r} 37 \\ - 6 \\ \hline \end{array}$$

$$\begin{array}{r} 24 \\ - 7 \\ \hline \end{array}$$

$$\begin{array}{r} 88 \\ - 4 \\ \hline \end{array}$$

$$\begin{array}{r} 18 \\ - 5 \\ \hline \end{array}$$

$$\begin{array}{r} 28 \\ - 3 \\ \hline \end{array}$$

الدرس 4

طَرِّحْ عَدَدٍ مُكَوَّنٍ مِنْ رَقْمٍ  
مِنْ عَدَدٍ مُكَوَّنٍ مِنْ رَقْمَيْنِ

إعداد المعلمة: نهلة المزروعى



Subtract.



$$\begin{array}{r} \square \square \\ 51 \\ - 13 \\ \hline \end{array}$$

$$\begin{array}{r} \square \square \\ 32 \\ - 19 \\ \hline \end{array}$$

$$\begin{array}{r} \square \square \\ 95 \\ - 27 \\ \hline \end{array}$$

$$\begin{array}{r} \square \square \\ 50 \\ - 43 \\ \hline \end{array}$$

$$\begin{array}{r} \square \square \\ 92 \\ - 55 \\ \hline \end{array}$$

$$\begin{array}{r} \square \square \\ 61 \\ - 58 \\ \hline \end{array}$$

$$\begin{array}{r} \square \square \\ 74 \\ - 48 \\ \hline \end{array}$$

$$\begin{array}{r} \square \square \\ 81 \\ - 45 \\ \hline \end{array}$$

$$\begin{array}{r} \square \square \\ 21 \\ - 17 \\ \hline \end{array}$$

$$\begin{array}{r} \square \square \\ 93 \\ - 28 \\ \hline \end{array}$$

$$\begin{array}{r} \square \square \\ 40 \\ - 23 \\ \hline \end{array}$$

$$\begin{array}{r} \square \square \\ 84 \\ - 67 \\ \hline \end{array}$$

Name: \_\_\_\_\_

NO REGROUPING

## 2-Digit Subtraction

$$\begin{array}{r} 87 \\ - 45 \\ \hline \end{array}$$

$$\begin{array}{r} 93 \\ - 62 \\ \hline \end{array}$$

$$\begin{array}{r} 48 \\ - 23 \\ \hline \end{array}$$

$$\begin{array}{r} 66 \\ - 33 \\ \hline \end{array}$$

$$\begin{array}{r} 99 \\ - 92 \\ \hline \end{array}$$

$$\begin{array}{r} 62 \\ - 31 \\ \hline \end{array}$$

$$\begin{array}{r} 84 \\ - 34 \\ \hline \end{array}$$

$$\begin{array}{r} 52 \\ - 40 \\ \hline \end{array}$$

$$\begin{array}{r} 55 \\ - 32 \\ \hline \end{array}$$

$$\begin{array}{r} 86 \\ - 36 \\ \hline \end{array}$$

$$\begin{array}{r} 60 \\ - 60 \\ \hline \end{array}$$

$$\begin{array}{r} 44 \\ - 42 \\ \hline \end{array}$$



The library has 65 books about plants. 22 books were checked out today. How many plant books are left in the library now?

طَرَحُ الأَعْدَادِ المَكُونَةِ  
مِنْ رَقْمَيْنِ

Name: \_\_\_\_\_

Grade: \_\_\_\_\_

**LET'S SUBTRACT!**

$\begin{array}{r} 84 \\ - 36 \\ \hline \end{array}$	$\begin{array}{r} 51 \\ - 34 \\ \hline \end{array}$	$\begin{array}{r} 75 \\ - 19 \\ \hline \end{array}$	$\begin{array}{r} 48 \\ - 19 \\ \hline \end{array}$
---	---	---	---

$\begin{array}{r} 45 \\ - 19 \\ \hline \end{array}$	$\begin{array}{r} 65 \\ - 27 \\ \hline \end{array}$	$\begin{array}{r} 74 \\ - 38 \\ \hline \end{array}$	$\begin{array}{r} 41 \\ - 19 \\ \hline \end{array}$
---	---	---	---

$\begin{array}{r} 50 \\ - 26 \\ \hline \end{array}$	$\begin{array}{r} 89 \\ - 38 \\ \hline \end{array}$	$\begin{array}{r} 74 \\ - 26 \\ \hline \end{array}$	$\begin{array}{r} 75 \\ - 16 \\ \hline \end{array}$
---	---	---	---

Name: \_\_\_\_\_ Date: \_\_\_\_\_

**Subtraction**

2-digit with regrouping

$$\begin{array}{r} 94 \\ - 57 \\ \hline \end{array}$$

$$\begin{array}{r} 70 \\ - 37 \\ \hline \end{array}$$

$$\begin{array}{r} 48 \\ - 39 \\ \hline \end{array}$$

$$\begin{array}{r} 52 \\ - 31 \\ \hline \end{array}$$

$$\begin{array}{r} 68 \\ - 49 \\ \hline \end{array}$$

$$\begin{array}{r} 82 \\ - 57 \\ \hline \end{array}$$

$$\begin{array}{r} 80 \\ - 64 \\ \hline \end{array}$$

$$\begin{array}{r} 38 \\ - 29 \\ \hline \end{array}$$

$$\begin{array}{r} 71 \\ - 37 \\ \hline \end{array}$$

$$\begin{array}{r} 63 \\ - 36 \\ \hline \end{array}$$

$$\begin{array}{r} 55 \\ - 48 \\ \hline \end{array}$$

$$\begin{array}{r} 45 \\ - 27 \\ \hline \end{array}$$

www.worksheetdigital.com

الطَّرْحُ الرَّأْسِيُّ لِلْأَعْدَادِ  
الْمَكُونَةِ مِنْ رَقْمَيْنِ

أَعِدْ كِتَابَةَ الْمَسْأَلَةِ. اِطَّرِحْ.

$$29 - 14$$

$$\begin{array}{r} \text{—} \\ | \\ \text{—} \\ | \end{array}$$

$$33 - 22$$

$$\begin{array}{r} \text{—} \\ | \\ \text{—} \\ | \end{array}$$

$$85 - 65$$

$$\begin{array}{r} \text{—} \\ | \\ \text{—} \\ | \end{array}$$

$$59 - 7$$

$$\begin{array}{r} \text{—} \\ | \\ \text{—} \\ | \end{array}$$

$$97 - 45$$

$$\begin{array}{r} \text{—} \\ | \\ \text{—} \\ | \end{array}$$

$$35 - 23$$

$$\begin{array}{r} \text{—} \\ | \\ \text{—} \\ | \end{array}$$

$$65 - 43$$

$$\begin{array}{r} \text{—} \\ | \\ \text{—} \\ | \end{array}$$

$$53 - 42$$

$$\begin{array}{r} \text{—} \\ | \\ \text{—} \\ | \end{array}$$

$$34 - 21$$

$$\begin{array}{r} \text{—} \\ | \\ \text{—} \\ | \end{array}$$

$$68 - 55$$

$$\begin{array}{r} \text{—} \\ | \\ \text{—} \\ | \end{array}$$



## التَّحَقُّقُ مِنَ الطَّرْحِ

أوجد ناتج طرح كلِّ مما يأتي. ثمَّ تحقِّق باستخدام الجمع.

$$\begin{array}{r} 72 \\ -24 \\ \hline \end{array} + \underline{\quad}$$

$$\begin{array}{r} 66 \\ -58 \\ \hline \end{array} + \underline{\quad}$$

$$\begin{array}{r} 56 \\ -28 \\ \hline \end{array} + \underline{\quad}$$

$$\begin{array}{r} 80 \\ -45 \\ \hline \end{array} + \underline{\quad}$$

$$\begin{array}{r} 28 \\ -19 \\ \hline \end{array} + \underline{\quad}$$

$$\begin{array}{r} 74 \\ -36 \\ \hline \end{array} + \underline{\quad}$$

$$\begin{array}{r} 48 \\ -29 \\ \hline \end{array}$$

$$\begin{array}{r} 91 \\ -48 \\ \hline \end{array}$$

اطرح

$$\begin{array}{r} 94 \\ -27 \\ \hline \end{array}$$

$$\begin{array}{r} 66 \\ -58 \\ \hline \end{array}$$

$$\begin{array}{r} 67 \\ -28 \\ \hline \end{array}$$

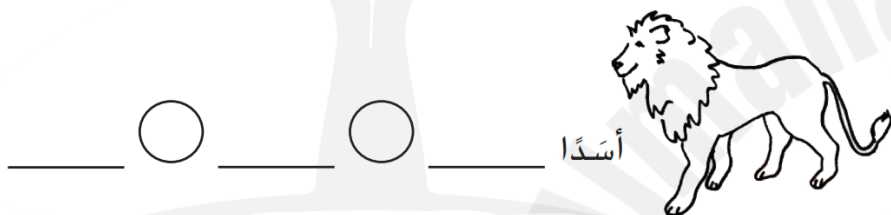
$$\begin{array}{r} 33 \\ -15 \\ \hline \end{array}$$

$$\begin{array}{r} 84 \\ -39 \\ \hline \end{array}$$

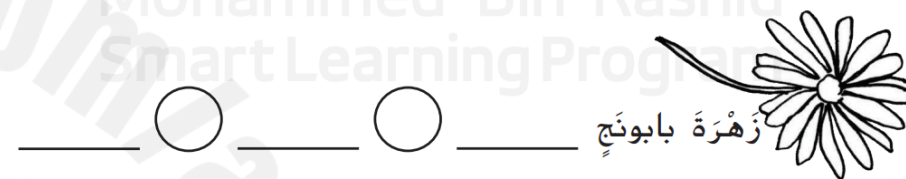
$$\begin{array}{r} 65 \\ -28 \\ \hline \end{array}$$

إستراتيجية حلّ المسائل:  
كتابة جُهلةٍ عدديّةٍ

يوجد 18 أسدًا في السّاحة بِحديقةِ الحيوانات.  
رَكَضَتْ 7 أسودٍ إلى داخلِ عرينِ الأسدِ.  
فَكَمْ عَدَدُ الأسودِ المُتَبَقِّيَةِ في السّاحةِ؟



زَرَعَ أَحْمَدُ 12 زهرةً بابونج. وَزَرَعَتْ أخته مَرْوَةُ 29 زهرةً بابونج. فَكَمْ عَدَدُ زَهْرَاتِ البَابونجِ الإِضافيَّةِ الَّتِي زَرَعَتْهَا مَرْوَةُ؟



جَمَعَتْ عُلَا 39 وَرَقَةً شَجَرٍ. وَجَمَعَتْ غَالِيَةُ 45 وَرَقَةً شَجَرٍ.  
فَكَمْ وَرَقَةً إِضافيَّةً جَمَعَتْ غَالِيَةُ مُقارَنَةً بِعُلَا.

أوراقٍ \_\_\_\_\_

لَدَى طَارِقٍ 63 ثَمْرَةً توتٍ لِيَضَعَهَا في فَطِيرَةٍ.  
أَكَلَ مِنْهَا 21 ثَمْرَةً توتٍ.  
فَكَمْ ثَمْرَةً توتٍ في الفَطِيرَةِ؟

ثَمْرَةً توتٍ \_\_\_\_\_