

تم تحميل هذا الملف من موقع المناهج الإماراتية



أسئلة اختبار نهاية الفصل الأول

موقع المناهج ← المناهج الإماراتية ← الصف الثاني ← علوم ← الفصل الأول ← اختبارات ← الملف

تاريخ إضافة الملف على موقع المناهج: 11:08:41 2024-11-15

ملفات اكتب للمعلم اكتب للطالب | اختبارات الكترونية | اختبارات | حلول | عروض بوربوينت | أوراق عمل
منهج انجليزي | ملخصات وتقارير | مذكرات وبنوك | الامتحان النهائي للمدرس

المزيد من مادة
علوم:

التواصل الاجتماعي بحسب الصف الثاني



صفحة المناهج
الإماراتية على
فيسبوك

الرياضيات

اللغة الانجليزية

اللغة العربية

التربية الاسلامية

المواد على تلغرام

المزيد من الملفات بحسب الصف الثاني والمادة علوم في الفصل الأول

ملخص الدرسين الأول والثاني Magnetism and Electricity الكهرباء والمغناطيسية منهج انسابير

1

أسئلة الاختبار التكويني الثاني

2

حل مراجعة اختبار التقويم الثاني Magnetism and Electricity الكهرباء والمغناطيسية منهج انسابير

3

مراجعة اختبار التقويم الثاني Magnetism and Electricity الكهرباء والمغناطيسية منهج انسابير

4

عرض بوربوينت حل كتاب الطالب منهج انسابير

5

الصف الثاني الأساسي
الزمن ساعة ونصف



الإمارات العربية المتحدة
وزارة التربية والتعليم

اختبار نهاية الفصل الدراسي الأول - مادة العلوم

اسم الطالب: _____ الدرجة: /

السؤال الأول: اختر الإجابة الصحيحة (60 درجة)

1. جزء من النبتة يمتص الماء والمواد الغذائية من التربة




2. نبات ينمو في الأماكن الجافة



3. جزء من النبات يصنع الغذاء



4. شيء يحتاجه النبات ليصنع غذاؤه



5. حيوان فقاري يعيش في الماء وعلى اليابسة

A.



B.



C.



6. حيوان لا فقاري يوسع ليدافع عن نفسه

A.



B.



C.




7. حيوان فقاري يغطي جسمه جلد خشن حرشفي

A.



B.



C.



8. مرحلة من مراحل نمو البيغاء ينمو فيه الزغب

A.



B.



C.




9. حيوان يعيش في الماء ويتنفس بالخياشيم

A.



B.




C.



10. موطن بارد وتلجي



11. حيوان موطنه حار و جاف



12. حيوان مهدد بالإنقراض بسبب شباك الصيد والزوارق





13. موطن بيئي تغير بسبب عدم سقوط الأمطار لفترة طويلة



14. حيوان مفترس



15. حيوان منقرض



16. حيوان يغير لون ريشه ليساعده على البقاء على قيد الحياة

A.



B.



C.



17. حيوان يتميز برقبة طويلة

A.



B.



C.



18. غاز تنتجه النباتات ويتنفسه الإنسان والحيوان

A. ثاني أكسيد الكربون

B. الهيدروجين

C. الأوكسجين

19. حيوان يرضع صغاره الحليب

A.



B.



C.



20. حيوان يتميز بقرون إستشعار يساعده على الشم والتذوق

A.



B.

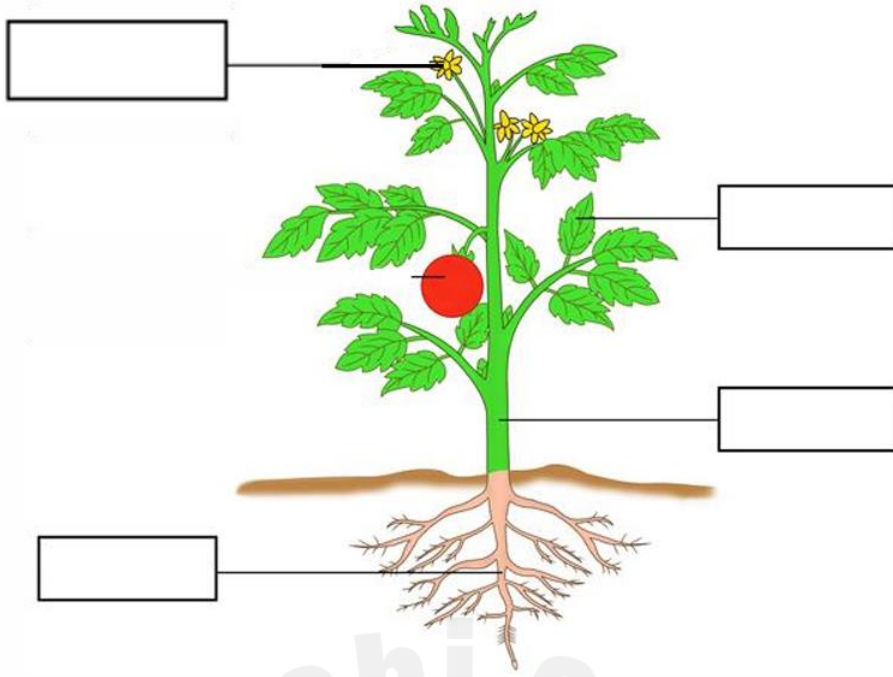


C.



السؤال الثاني : اكتب المصطلح الصحيح في المكان المناسب (8 درجات)

أ. جذور ب. زهرة ج. أوراق د. ساق



السؤال الثالث: صل العبارة الصحيحة بالصورة التي تعبر
كيف تحافظ الحيوانات على سلامتها (10 درجات)




A. تدخل في سبات شتوي



B. تهاجر جنوباً



C. تختبئ في قوقعة



D. تطلق رائحة كريهة



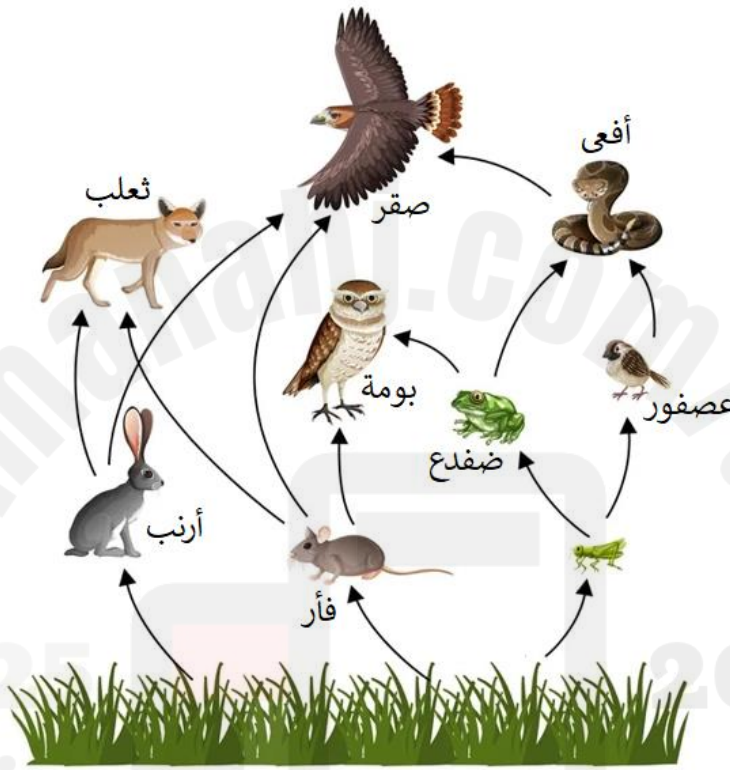
E. تتحرك في مجموعات

السؤال الثالث : رتب مراحل دورة حياة الضفدع (8 درجات)



3

السؤال الثاني : استخراج سلسلة غذائية من الشبكة الغذائية التالية (10 درجات)

 → → → →

السؤال السادس : ضع علامة (√) أمام العبارة الصحيحة وعلامة (x) أمام العبارة الخاطئة (4 درجات)

1. تدل الأحفورة على تغير الموطن البيئي للكائن الحي.

2. تمتلك العديد من النباتات من الصفات الوراثية من الجيل الجديد.