

احصل على جميع روابط الصفوف

وفق المنهاج الإماراتي

عبر بوت الروابط على تلغرام

t.me/uaelinks_bot

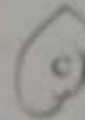
60

الجزء الأول

دائرة حول رمز الإجابة الصحيحة فيما يأتي :

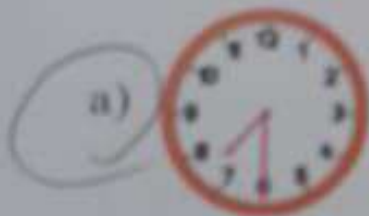


ما الوقت الموضح؟




alManahj.com/ae

عاصر الفطار الساعة 7:30. أي ساعة تبين أن الساعة 7:30



عدد الساعة التي تظهر مثالاً على الربع ساعة.






4) إذا اقترب عقرب الساعات من 9 وأشار عقرب الدقائق إلى 10. ما الوقت؟

a) 9:10

b) 9:50

c) 8:50

5) حدد الوقت الموضح لتناول طعام الغداء.



a) 3:30 P.M.

b) 3:30 A.M.

c) 3:00 P.M.



6) سافر صالح في عطلة لزيارة عمه وعمته، وظل هناك لمدة أسبوع واحد.
كم المدة التي سافر بها صالح؟

a) 7 أسابيع

b) 7 ساعات

c) 7 أيام

alManahj.com/ae



7) اكتب اسم الشكل.

a) متوازي أضلاع

b) شبه منحرف

c) مستطيل

8) حدد الشكل الذي يضم 8 أضلاع و8 زوايا.

a)



b)



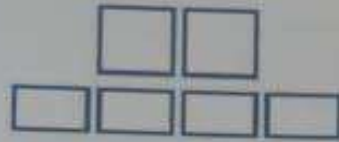
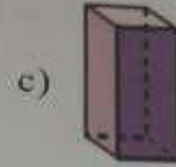
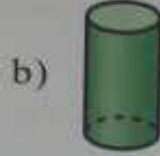
c)



- يتحظر تصوير أو تداول الورقة الإבחائية قبل أو أثناء أو بعد الامتحان عن خلال البريد الإلكتروني أو وسائل التواصل الاجتماعي أو أي وسيلة أخرى
ومن يخالف ذلك سيخضع في حقبة الرجزات القانونية المتبعة

- على إدارت المدارس ولجان الإبتحانات ومراكز التقدير مراعاة ذلك ورصد المخالفات واتخاذ الرجزات اللازمة

9) أنا شكل ثلاثي الأبعاد، لدي 8 حواف و 5 رؤوس. أي شكل أنا؟



alManahj.com/ae



a) أنصاف

b) أرباع

c) أثلاث



a) 12

b) 15

c) 16

- يحظر تصوير أو تداول الورقة المتكشفة قبل أو أثناء أو بعد الامتحان من خلال البريد الإلكتروني أو وسائل التواصل الاجتماعي أو أي وسيلة أخرى ومن يخالف ذلك سيُتخذ في حقه الإجراءات القانونية الصليحة.

- على إدارات المدارس وبنان الامتحانات ومركز التقدير مراعاة ذلك، وعدم المخالفات واتخاذ الإجراءات اللازمة.



13) يبلغ طول عصا لعبة الجولف الخاصة بغالية 1 متر.
كم يبلغ طول عصا لعبة الجولف الخاصة بغالية بالسنتيمترات؟



a) 100

b) 200

c) 50

14) 46 متراً + 35 متراً = ؟ متراً

a) 11

b) 71

c) 81

15) حدد الجسم الذي تُستخدم المسطرة السنتيمترية لقياسه.

alMananj.com/ae

a)



b)



c)



الكوب



اللتر

16) قارن.

a) >

b) <

c) =

- يذكّر بتصور أو يدقون الورقة الإجابانية قبل أو بعد الامتحان من خلال البريد الإلكتروني أو وسائل التواصل الاجتماعي أو أي وسيلة أخرى
وهي بذلك سيكتف في هذه الإجابات القوية الملتصقة
على إدرات المدارس ونجاح الامتحانات ومراحل التدوير مرادفة ذلك، ورتبة المشاهير، والتحكيم الإجابات القوية.

17) حدد الوحدة الأفضل لقياس حجم السائل.



a) اللتر

b) المتر

c) الكوب

18) حدد عملة 10 فلوس.

a)



b)



c)



alManahj.com/ae

19) كم عدد العملات من فئة 25 فلما التي نحتاجها لشراء العنصر أدناه؟



a) 4

b) 3

c) 2

20) يحتاج بدر إلى 1 درهم، ولديه ثلاث عملات من فئة 25 فلما وعملة من فئة 10 فلوس.

ما مقدار ما يحتاج إليه من مال إضافي ليكون ماله درهماً واحداً؟




a) 25 فلما

b) 15 فلما

c) 85 فلما

21) يقع عقرب الساعات على الساعة بين 2 و3. ويشير عقرب الدقائق إلى الرقم 5. ما الوقت؟ وضح الوقت على الساعتين.



22) غذا هو يوم الاثنين، 24 يونيو.

أي يوم في الأسبوع كان أمس وماذا كان تاريخه؟

الأحد 23 يونيو

يونيو 2019						
الأحد	الاثنين	الثلاثاء	الأربعاء	الخميس	الجمعة	السبت
1						
8	7	6	5	4	3	2
15	14	13	12	11	10	9
22	21	20	19	18	17	16
29	28	27	26	25	24	23
						30

23) رسم خالد شكلاً فيه أضلاع أكثر من أضلاع المثلث أو المستطيل وأقل من أضلاع سداسي الأضلاع. ما الشكل الذي رسمه؟ ارسم الشكل.



خماسي الأضلاع

24) تريد فاطمة أن ترسم دائرة باستخدام الأشياء أدناه.
ما الأشياء التي يمكن استخدامها؟ حوِّط تلك الأشياء.



25) استخدم خط الأعداد للإجابة عن السؤالين أدناه.



(a) كم يبلغ طول مشبك الشعر؟

سنتيمترات 4

(b) كم يزيد طول طلاء الأظافر عن مشبك الشعر؟

سنتيمتر 2

26) استخدم البيانات لإنشاء تمثيل بياني بالنقاط المجمعة.



4 قطع من النسيج بطول 9 سنتيمترات و

3 قطع من النسيج بطول 7 سنتيمترات و

1 قطعة من النسيج بطول 5 سنتيمترات.

أطوال قطع النسيج



27) عدّ لإيجاد قيمة العملات.



1 فلنا 2 فلنا 5 فلنا 10 فلنا 10 فلنا 10 فلنا 25 فلنا

= 68
فلنا إجمالاً

التهت الأسئلة
بالتوفيق والتجاح