

تم تحميل هذا الملف من موقع المناهج الإماراتية

الملف أسئلة الاختبار التشخيصي الأول

[موقع المناهج](#) ⇨ [المناهج الإماراتية](#) ⇨ [الصف الثاني](#) ⇨ [اجتماعيات](#) ⇨ [الفصل الأول](#)

روابط مواقع التواصل الاجتماعي بحسب الصف الثاني



روابط مواد الصف الثاني على تلغرام

[الرياضيات](#)


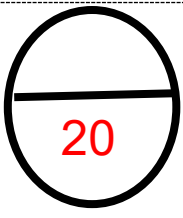
[اللغة الانجليزية](#)

[اللغة العربية](#)

[التربية الاسلامية](#)

المزيد من الملفات بحسب الصف الثاني والمادة اجتماعيات في الفصل الأول

تحميل كتاب الطالب	1
امتحان الوحدة الثانية	2
تدريبات على درس كوكبنا الأرض 6 صفحات	3
حل الدرس الأول كوكبنا الأرض	4
مراجعة ثانية للفصل الأول مؤلفة من 15 صفحة #018~2019	5



اختبار تشخيصي الفصل الدراسي الأول (2022-2023) الصف الثاني

السؤال الأول : أنظر إلى الصور ، ثم أكتب الفصل المناسب للصورة

الشتاء - الصيف - الخريف - الربيع



فصل الـ.....



فصل الـ.....



فصل الـ.....



فصل الـ.....

السؤال الثاني: صل بين الصورة والمفهوم الصحيح

4



الشيخ زايد



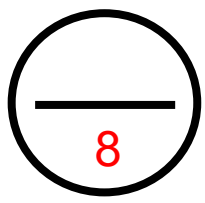
الشيخ خليفة



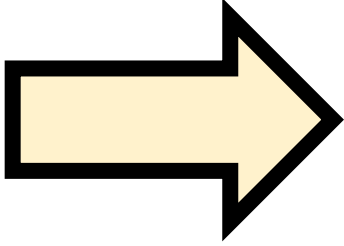
الشيخ محمد بن راشد




الشيخ محمد بن زايد



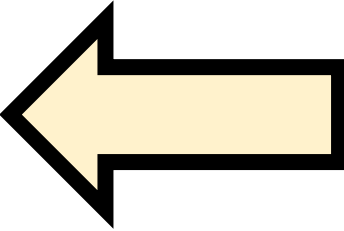
السؤال الثالث: صل بين الصورة والمفهوم الصحيح




الشمال



الجنوب



الشرق



الغرب