

شكراً لتحميلك هذا الملف من موقع المناهج الإماراتية



أوراق عمل الوحدة الخامسة القيمة المكانية حتى 1000

[موقع المناهج](#) ← [المناهج الإماراتية](#) ← [الصف الثاني](#) ← [رياضيات](#) ← [الفصل الثاني](#) ← [الملف](#)

تاريخ نشر الملف على موقع المناهج: 07:33:33 2024-01-16

التواصل الاجتماعي بحسب الصف الثاني



روابط مواد الصف الثاني على تلغرام

[الرياضيات](#)

[اللغة الانجليزية](#)

[اللغة العربية](#)

[التربية الاسلامية](#)

المزيد من الملفات بحسب الصف الثاني والمادة رياضيات في الفصل الثاني

كتاب الطالب ريفيل	1
الخطة الفصلية لتوزيع الدروس للفصل الثاني	2
كتاب دليل المعلم بريدج	3
كتاب الطالب بريدج	4
أوراق عمل نموذج اختباري	5



مؤسسة الإمارات للتعليم المدرسي
EMIRATES SCHOOLS ESTABLISHMENT



United Arab Emirates

مجمع زايد التعليمي – عوافي

القيمة المكانية حتى 1000



اعداد معلمة المادة :

اسمي الجميل :-----

صف ثاني :-----

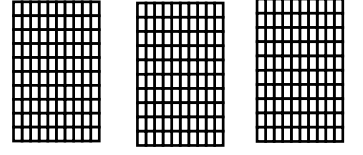


المئات




اكتب عدد المئات و العشرات و الآحاد

مئات ----- = عشرات ----- = آحاد -----



مئات ----- = عشرات ----- = آحاد -----



900 آحاد = عشرات ----- = مئات -----

600 آحاد = عشرات ----- = مئات -----



100 = آحاد -----

500 = عشرات -----

300 = عشرات -----

800 = مئات -----


أكمل كتابة الأعداد

101	102					107			110
		113		115			118		
121			124		126			129	
	132			135					140
141		143				147		149	
			154				158		
161		163				167			170
				175					180
	182		184		186		188		
191						197			

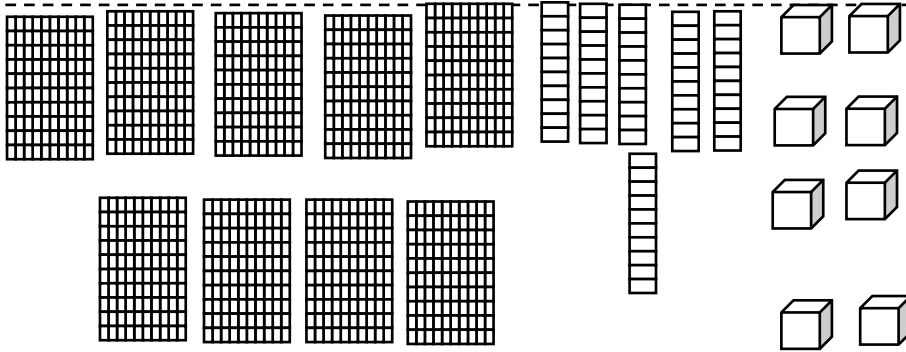
المئات والعشرات والآحاد



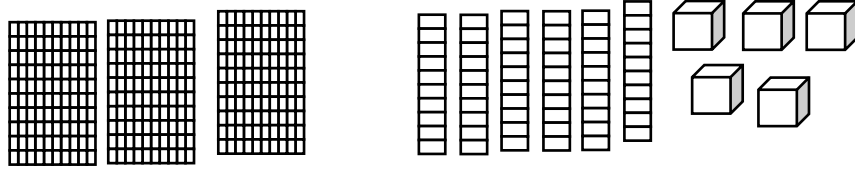
هيا يا بطل اكتب عدد الاحاد و العشرات و المئات . ثم اكتب العدد.



مئات	عشرات	آحاد



مئات	عشرات	آحاد



مئات	عشرات	آحاد

استخدم الأعداد أعلاه لحل الألغاز.

لدى محمد مجموعة من الفلوس . وضعتهم 60 كومة من 10 فلوس . فكم عدد المئات من الفلوس لديه ؟

مئات _____



يوجد في هذا العدد 6 مئات و 3 آحاد . رقم العشرات هو رقم أصغر من المئات ب 2 . فما العدد ؟

القيمة المكانية حتى 1000



اكتب كل عدد بالصيغة الموسعة و من ثم اكتب العدد

2- 9 مئات و 0 عشرات و 6 آحاد

$$\text{-----} + \text{-----} + \text{-----} = \text{-----}$$

4- 3 مئات و 3 عشرات و 3 آحاد

$$\text{-----} + \text{-----} + \text{-----} = \text{-----}$$

1- 4 مئات و 7 عشرات و 3 آحاد

$$\text{-----} + \text{-----} + \text{-----} = \text{-----}$$

2- 2 مئات و 4 عشرات و 8 آحاد

$$\text{----} + \text{-----} + \text{-----} = \text{-----}$$

حوظ قيمة الرقم الأخضر

482	951
400 40 4	500 50 5

329	768
300 30 3	800 80 8

$$600 + 90 + 2 = \text{-----}$$

$$800 + 50 + 6 = \text{-----}$$



اكتب العدد

اكتب العدد بالصيغة الموسعة

$$897 = \text{-----} + \text{-----} + \text{-----}$$

$$123 = \text{-----} + \text{-----} + \text{-----}$$

حل المسائل

يتكون عدد الزبيب الموجود في الصندوق من 8 في منزلة الآحاد ، و 1 في منزلة المئات ، و 4 في منزلة العشرات . كم عدد حبات الزبيب في الصندوق ؟

حبات زبيب -----



استراتيجية حل المسائل

ضع خطا تحت ما تعرف . و حوط ما عليك إيجاده

1- يتكون عدد من ثلاثة أرقام . الرقم الموجود في منزلة المئات يساوي الفرق بين 5 و 4 . الرقم الموجود في منزلة العشرات يساوي مجموع 2 و 6 . الرقم الموجود في منزلة الآحاد أكبر من الرقم الموجود في منزلة العشرات بمقدار 1 فما العدد ؟



2- تكتب مهرة عددا يتكون من 4 آحاد و ثلاث العشرات . و سبع مئات . ما هذا العدد ؟

3- يحاول حمد حل لغز أعداد .
الرقم الموجود في منزلة العشرات أصغر من 3 . و هو عدد زوجي . و الرقم الموجود في منزلة المئات أكبر من 7 . و الرقم الموجود في منزلة الآحاد يساوي مجموع 6 و 3 . فما العدد ؟

4 – عدد القطط في متجر يتكون من رقمين . و هو عدد زوجي . و هو أكبر من العدد 60 ، و رقم العشرات أصغر من رقم الآحاد و مجموع الرقمين هو 10 . كم عدد القطط في المتجر ؟

5 – جمع صفي الدراسي 564 ابريقا من الحليب و لكننا استخدمنا 40 ابريقا و أعطينا 20 ابريقا الى طلاب الصفوف الاولى . فكم عدد أباريق الحليب المتبقية ؟

قراءة و كتابة الأعداد حتى 1000



هيا يا صغيري اكتب العدد.

1. خمسة و تسعون -----
2. ثمانية و ثلاثون -----
3. واحد و تسعون -----
4. ستة -----
5. أربعة وسبعون -----
6. ثمانون -----
7. سبعة و ستون -----
8. اثنا عشر -----
9. سبعة و أربعون -----
10. تسعة و عشرون -----
11. ستون -----
12. ثلاثة و خمسون -----

اكتب اسم العدد

- 3 * -----
78 * -----
26 * -----
85 * -----
37 * -----
19 * -----
40 * -----
51 * -----
69 * -----
93 * -----

وصل اسم العدد مع العدد



- * خمسة و خمسون
* سبعة و تسعون
* ثمانية عشر
* سبعون
* ثلاثة و ثلاثون
33 *
70 *
97 *
55 *
18 *

العد بمقدار 5 و 10 و 100

اكتب العدد الناقص ثم اكتب نمط العدد

1- 240 – 250 – 260 - ----- - 280

النمط هو -----

2- 851 – 751 – 651 - ----- - -----

النمط هو -----

3- 515 – 520 – 525 - ----- - ----- - 545

النمط هو -----



حل المسائل

1- تعد فاطمة بالمئات و تبدأ بالعدد 234. اكتب الأعداد التي تعدها فاطمة .

----- , ----- , ----- , ----- , 234 , -----

2- يعد علي بالعشرات . و قد بدأ بالعدد 325 . يعد علي الأعداد 385 , 365 , 345 , 335 , 325. ما الأعداد التي تجاوزها علي ؟

----- و -----

مقارنة الأعداد حتى 1000



قارن . استخدم خط الاعداد ، إذا لزم الامر اكتب < أو = >

456 ○ 678

365 ○ 356

824 ○ 101

198 456

570 550

235 234

753 ○ 813

285 ○ 582

126 ○ 126

999 ○ 998

497 ○ 670

602 ○ 601

استخدم البطاقات المرقمة لكتابة أعداد بثلاثة أرقام.

1

6

8

- أعدد أكبر من 800 . ----- ، -----
- أعدد أصغر من 600 . ----- ، -----
- أعدد أكبر من 150 و أصغر من 600 ----- ، -----
- أعدد أكبر من 600 . ----- ، -----



حوظ العدد الأصغر من العدد المحدد باللون البنفسجي

765

308

764

768

309

306

الأعداد الترتيبية



1- استخدم الحروف الأبجدية التالية للإجابة عن الاسئلة :

A B C D E F G H I J K L M N O P Q R S T U V W X Y Z

ما العدد الترتيبي للحرف Y ؟

ما العدد الترتيبي للحرف O ؟

2- كتب مكتوم الأعداد التالية ، أكمل النمط . ما العدد الذي سيكون التاسع عشر في هذا

النمط ؟

3 , 6 , 9 , 12 , 15 , 18 , -----



3 – ما الشكل رقم 12 في النمط ؟

