

تم تحميل هذا الملف من موقع المناهج الإماراتية



*للحصول على أوراق عمل لجميع الصفوف وجميع المواد اضغط هنا

<https://almanahj.com/ae>

* للحصول على أوراق عمل لجميع مواد الصف الثاني اضغط هنا <https://almanahj.com/ae/2>

* للحصول على جميع أوراق الصف الثاني في مادة علوم ولجميع الفصول, اضغط هنا [2science/ae/com.almanahj//:https](https://almanahj.com/ae/2science)

* للحصول على أوراق عمل لجميع مواد الصف الثاني في مادة علوم الخاصة بـ الفصل الأول اضغط هنا

<https://almanahj.com/ae/2science1>

* لتحميل كتب جميع المواد في جميع الفصول للـ الصف الثاني اضغط هنا [grade2/ae/com.almanahj//:https](https://almanahj.com/ae/grade2)

للتحدث إلى بوت المناهج على تلغرام: اضغط هنا [bot_almanahj/me.t//:https](https://t.me/bot_almanahj)

نموذج من
امتحان نهاية الفصل الدراسي الأول
2017 / 2018



ملاحظة: توجد بعض التعديلات البسيطة وفق المنهج الجديد

2020 / 2019

السؤال الأول

60

ضع دائرة حول رمز الإجابة الصحيحة فيما يأتي:

(1) لا يحتاجه النبات لينمو ؟



(2) تستخدم ضوء الشمس لصنع الغذاء في النبات:



(3) تختلف في الصفات الوراثية؟



(4) كلاهما كائن حي يحتاج الماء والهواء؟



(5) نبات تكيف ليعيش في المناطق الجافة؟



(1)

(6) من البرمائيات:



(7) تتنفس عن طريق الخياشيم وتتحرك بالزعانف؟



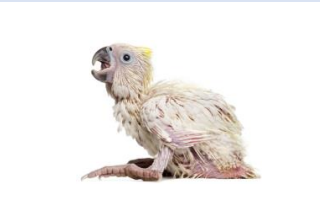
(8) من الحشرات:




(9) تبدأ حياة الثعلب ب:



(10) يفقس من بيض الطائر:



(11) لها رقاب طويلة تساعد في الوصول إلى الأشجار العالية:



(12) من أمثلة تمويه الحيوان؟



13 موطن بيئي يعيش فيه الجمل:



14 الموطن البيئي الذي يعيش فيه هذا الحيوان:



ج) ثلجي وبارد

ب) حار وجاف

أ) رطب وعشبي

15 تحمي السلحفاة نفسها بواسطة:



ج) المخالب

ب) الأسنان

أ) الصدفة

16 يمثل شكلاً لأحفورة سمكة:



ج) هطول الأمطار

ب) الجفاف

17 تعبر الصورة عن:



أ) الإنقراض

18 من اللافقاريات:



19 مجموعة تحتوي على نفس النوع من الحيوانات:



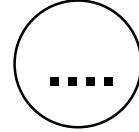




20 تبدأ معظم السلاسل الغذائية بـ:

ج) الحشرة

ب) النبات

أ) الشمس

21 - رتب بتسلسل من 1 إلى 4 دورة حياة الطائر في المكان المناسب:



22 - صل بخط مستقيم بين صورة الحيوان ونوعه في الجدول الذي يليه:



ثدييات

زواحف

طيور

حشرات

برمائيات

أسماك

23 - ضع صح (✓) أمام العبارة الصحيحة و خطأ (×) أمام العبارة الخاطئة:

أ- (.....) تحتاج الكائنات الحية إلى الماء والغذاء والهواء لكي تعيش ونمو.

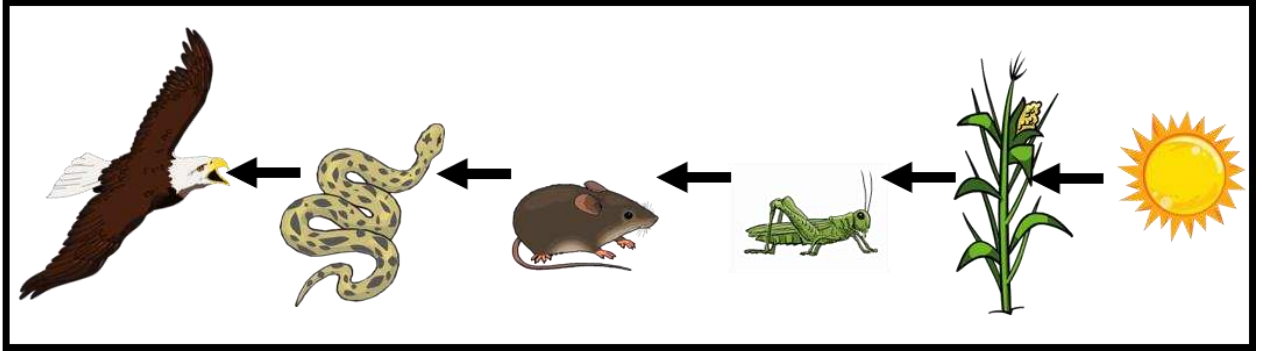
ب- (.....) تكتسب النباتات صفاتها الوراثية من الجيل التالي.

ج- (.....) عندما تصنع النباتات غذائها تنتج غاز الأكسجين.

د- (.....) البقع الموجودة على النمر نوع من التمويه.

هـ- (.....) تؤدي الحرائق والفيضانات إلى الحفاظ على المواطن البيئية.

24 - انظر الشكل أدناه، ثم ضع خطأ تحت الإجابة الصحيحة:



(أ) يسمى هذا الشكل	(شبكة غذائية	أم	(سلسلة غذائية)
(ب) يأكل الثعبان	(الفأر	أم	(الصقر
(ج) يعتبر الصقر	(المفترس	أم	(الفريسة

25 - صل بخط مستقيم بين أجزاء النبات ووظيفة كل منها:

النبته

الوظيفة



• تثبت النبات وتمتص الماء والمواد الغذائية.

• تستخدم الهواء وضوء الشمس لتصنع الغذاء.

• تحمل النبات وتنقل الماء والمواد الغذائية.

• لها رائحة جميلة وتنتج الثمار.

انتهت الأسئلة بالتوفيق والنجاح

نموذج من
امتحان نهاية الفصل الدراسي الأول
2019 / 2018



ملاحظة: توجد بعض التعديلات البسيطة وفق المنهج الجديد


2020 / 2019

60

الجزء الأول

ضع دائرة حول رمز الإجابة الصحيحة فيما يأتي (أ ، ب ، ج):**1) ما الصورة التي تدل على القياس؟**

ج



ب



أ

2) ما الجزء الذي يمتص الماء والعناصر الغذائية:

ج



ب



أ

3) ما الذي ينتج غاز الأكسجين مع غذائه؟

ج



ب



أ

(1)

4) تحتاج النباتات إلى لصنع غذائها؟

أ) الماء والهواء والعناصر الغذائية

ب) البحار

ج) الجبال

5) ما النبات الذي أوراقه عريضة؟



ج



ب



أ

6) أي صورة تتشابه فيها الصفات الوراثية؟



ج



ب



أ

7) أي مما يلي من الثدييات؟



ج



ب



أ

8) ما الحيوان الذي يفقس من البيض ويكسوه الريش؟



(ج)



(ب)



(أ)

9) لماذا تنتقل طيور الكركي الكندي جنوباً في فصل الشتاء؟

(ج) للحصول على النظافة

(ب) للحصول على الدفء

(أ) للحصول على البرودة

10) ما الحيوان اللافقاري؟



(ج)



(ب)



(أ)

11) ما الحيوان اللافقاري الذي لا يمتلك دروع على جسده؟



(ج)



(ب)



(أ)

12) تبدأ دورة حياة الثعلب البالغ بـ؟



(ج)



(ب)



(أ)

13) ما الحيوان الذي يأكل الحشرات تحت سطح الأرض؟



(ج)



(ب)



(أ)

14) تعبر الصورة التالية عن؟



(ج) حيوانات منقرضة

(ب) جفاف

(أ) موطن بيئي

15) ما الحيوان الذي حدث له تمويه؟



(ج)



(ب)



(أ)

16 ما الموطن البيئي الحار والجاف؟



(ج)



(ب)



(أ)

17 ما النبات الذي يعيش في الأماكن الجافة؟



(ج)



(ب)



(أ)

18 ما عدد أرجل الحشرات؟

(ج) 6

(ب) 4

(أ) 2

19 ما الصورة التي تمثل الجفاف؟



(ج)



(ب)



(أ)

20 كيف كان الموطن البيئي لهذه الأحفورة؟



(ج) صحراء

(ب) غابة

(أ) بحر

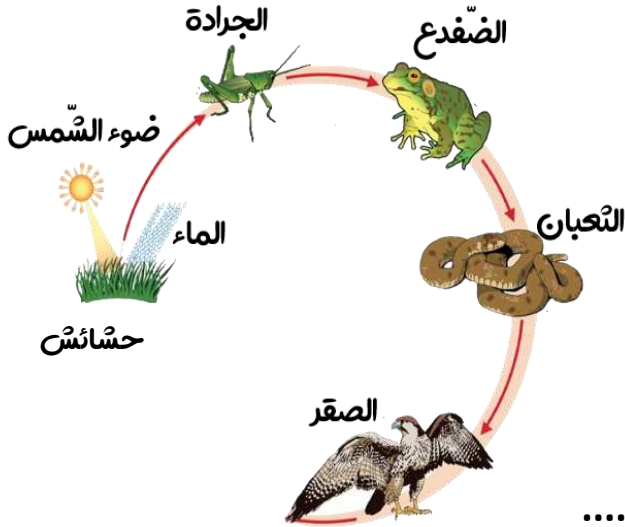
21- اقرأ الجمل التالية ثم ضع كلمة (صح) أو (خطأ) بين القوسين:

- a. (.....) العلماء يقارنون بين الأشياء بتوضيح أوجه الشبه والاختلاف بينهما.
- b. (.....) يتم تكرار التجربة ثلاث مرات للتأكد من صحة النتائج.
- c. (.....) لا تنمو النباتات.
- d. (.....) تمتلك الأسماك رئتين.
- e. (.....) للزرافة رقبة طويلة.

22- انظر إلى الصورة. لماذا ينمو النبات (A) أسرع من النبات (B) :



23- انظر إلى الشكل المجاور. ثم أجب عما يلي :



- هل الشكل (سلسلة غذائية أم شبكة غذائية)؟

- الشكل موجود على (اليابسة أم الماء)؟

- ماذا يأكل الضفدع (جراد أم ائعبان)؟

- ما الحيوانات المفترسة بالشكل؟

24- اكتب أسماء أطوار دورة حياة الطائر في الفراغ المناسب:

3 أسابيع - يفقس من البيضة - 5 أسابيع - اكتمل نمو الطائر :

25- صل بخط بين الحيوان والجملة:

الحيوان	الجملة
خروف البحر	حيوان منقرض
الديناصور	حيوان مهدد بالإنقراض
السلمندر	حيوان يعيش في موطن بيئي بارد وتلجي
الدب	حيوان يبدأ حياته في الماء ثم ينتقل إلى اليابسة