

تم تحميل هذا الملف من موقع المناهج الإماراتية



## أسئلة اختبار تشخيصي مدرسي

[موقع المناهج](#) ⇨ [المناهج الإماراتية](#) ⇨ [الصف الثاني](#) ⇨ [رياضيات](#) ⇨ [الفصل الأول](#) ⇨ [الملف](#)

تاريخ إضافة الملف على موقع المناهج: 2024-09-15 16:45:03

## التواصل الاجتماعي بحسب الصف الثاني



اضغط هنا للحصول على جميع روابط "الصف الثاني"

## روابط مواد الصف الثاني على تلغرام

[الرياضيات](#)

[اللغة الانجليزية](#)

[اللغة العربية](#)

[التربية الاسلامية](#)

## المزيد من الملفات بحسب الصف الثاني والمادة رياضيات في الفصل الأول

<a href="#">الخطة الفصلية للمقرر</a>	1
<a href="#">حل درس arrays with Patterns الأنماط والمصفوفات</a>	2
<a href="#">حل درس problem from take solve and represent تمثيل وحل المشكلة</a>	3
<a href="#">حل درس problem together put solve and represent تمثيل وحل المشكلة معاً</a>	4

## المزيد من الملفات بحسب الصف الثاني والمادة رياضيات في الفصل الأول

[حل الدرس الخامس من الوحدة الثانية](#)

5

## الاختبار التشخيصي للعام الدراسي 2024 - 2025 م مادة الرياضيات / الصف الثاني

الاسم : ..... الصف الثاني / .....

### حوط رمز الإجابة الصحيحة ..



1- ما عدد النمور ؟

A 7

B 6

C 8



2- يفكر حمد في عدد فيه 9 عشرات و 5 آحاد . ما هو العدد ؟

A 95

B 59

C 14

3- اكتب العدد

مائة وستة عشر

A 110

B 116

C 106

4- حدد جملة الجمع العددية المطابقة .




A  $2+3=5$

B  $5-2=3$

C  $1+4=5$

5- حدد جملة الطرح العددية المطابقة .



A  $6 - 3 = 3$

B  $8 - 3 = 5$

C  $7 - 3 = 4$

$$\begin{array}{r} 15 \\ + 4 \\ \hline \\ \hline \end{array}$$

6- اجمع .

A 19

B 18

C 11

$$\begin{array}{r} 14 \\ - 3 \\ \hline \\ \hline \end{array}$$

7- اطرح .

A 17

B 10

C 11

8- اجمع .

$$3 + 7 + 4 = \dots\dots$$

A 13

B 14

C 10

9- اجمع .

$$30 + 20 = \dots\dots\dots$$

A 50

B 40

C 10

10 - اطرح .

$$70 - 10 = \dots\dots\dots$$

A 80

B 60

C 70

11 - قارن .




73 ○ 81

A <

B >

C =

12 - كم شخصا إجمالاً شاركوا في استطلاع الرأي ؟ .

الفاكهة المفضلة	
الفاكهة	علامات الاحصاء
 برتقال	
 موز	
 كرز	


A 19


B 17


C 20

13 - ما النشاط الذي حصل على 5 أصوات ؟ .

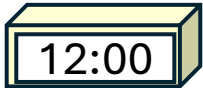
النشاط المفضل								
 كرة القدم								
 نط الحبل								
 التجديف								

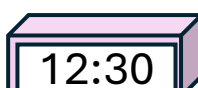
A  التجديف

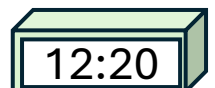
B  نط الحبل

C  كرة القدم

14 - أي ساعة تظهر الساعة 12 و 30 دقيقة ؟

A 

B 

C 

15 - كم شخصا اختار الجمعة والسبت ؟ .


اليوم المفضل في الاسبوع							
الجمعة							
السبت							
الأحد							
	0	1	2	3	4	5	6

A 7

B 8

C 5

16 - ما الوقت الموضح ؟



A 2:00

B 12:00

C 3:00

17 - ما الشكل الذي له 3 اضلاع و 3 رؤوس ؟ .



18 - كم عدد الأجزاء المتساوية في الشكل ؟ .



A 4

B 2

C 3

19 - ما اسم الشكل ؟

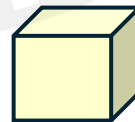


A مكعب

B مخروط

C اسطوانة

20 - ما اسم الشكل ؟



A منشور

B مكعب

C اسطوانة