

تم تحميل هذا الملف من موقع المناهج الإماراتية



## أوراق عمل مراجعة الوحدة الأولى كوكبنا الأرضي

موقع المناهج ← المناهج الإماراتية ← الصف الثاني ← اجتماعيات ← الفصل الأول ← أوراق عمل ← الملف

تاريخ إضافة الملف على موقع المناهج: 19:50:40 2024-11-06

ملفات اكتب للمعلم اكتب للطالب | اختبارات الكترونية | اختبارات | حلول | عروض بوربوينت | أوراق عمل  
منهج انجليزي | ملخصات وتقارير | مذكرات وبنوك | الامتحان النهائي للمدرس

المزيد من مادة  
اجتماعيات:

## التواصل الاجتماعي بحسب الصف الثاني



الرياضيات



اللغة الانجليزية



اللغة العربية



التربية الاسلامية



المواد على تلغرام

صفحة المناهج  
الإماراتية على  
فيسبوك

## المزيد من الملفات بحسب الصف الثاني والمادة اجتماعيات في الفصل الأول

مراجعة اختبار التقويم الثاني

1

التوزيع الزمني الخطة الفصلية للمقرر

2

بوربوينت حل درس الجزر الإماراتية

3

بوربوينت أوراق عمل وملخص الوحدة الأولى كوكبنا الأرضي

4

بوربوينت حل درس بطولة وفداء


5

 الإمارات THE EMIRATES	اسم الطالب : .....			رؤيتنا: الارتقاء الشامل بالأجيال	 مدرسة الأرقم الخاصة AL ARAFAH PRIVATE SCHOOL	
	الصف	التاريخ	اليوم	المادة		مدرسة الأرقم الخاصة
	الثاني	30/9/2024	الثلاثاء	الدراسات الاجتماعية		ورقة عمل خاصة بالوحدة الأولى

### السؤال الأول: اختر الإجابة الصحيحة فيما يلي :

1. الكرة التي نعيش عليها هي كرة : صغيرة – كبيرة جداً – صغيرة جداً
  2. يستغرق دوران الأرض حول نفسها: 20 ساعة - 12 ساعة - 24 ساعة
  3. عمر النهار: 12 ساعة – 10 ساعات – 5 ساعات
  4. كم قمر للأرض:
- 
5. تمد الأرض بالضوء والحرارة: الشمس – القمر – الكواكب
  6. ثاني أكبر قارات العالم مساحة وسكاناً هي قارة: آسيا - أوروبا - أفريقيا
  7. تقع دولة الإمارات العربية المتحدة في قارة: آسيا - أوروبا - أفريقيا
  8. يعيش حيوان الباندا في ( الصين ) في قارة : آسيا - أوروبا - أفريقيا
  9. تقع جبال الألب في قارة : آسيا - أوروبا - أفريقيا
  10. يعيش حيوان اللاما في قارة: آسيا - أوروبا - أمريكا الجنوبية
  11. يعيش البطريق في القارة: آسيا - أوروبا – القطبية الجنوبية
  12. في قارة آسيا أعلى قمة في العالم قمة: الأخضر- إفرست – الألب
  13. سميت بالقارة السمراء: آسيا - أوروبا – أفريقيا
  14. أصغر القارات في العالم من حيث المساحة تحيط بها المياه من جميع الجهات قارة: آسيا – أوروبا - استراليا
  15. من أشهر الجبال في قارة أوروبا: الأخضر- إفرست – الألب
  16. ثاني أصغر قارات العالم: آسيا - أوروبا – أفريقيا

**السؤال الثاني : صل بخط بين الصورة ومايناسبها من الكلمات والعبارات:**



1. بحر



2. محيط



3. مضيق



4. خليج



5. الأشخاص ينامون في

2024



6. يظهر في الليل، وهو براق

7. تظهر في النهار، وتمدنا بالحرارة والضوء

### السؤال الثالث: أكمل الفراغ بالكلمات المناسبة:

الكلمات المساعدة: البحار - الفضاء - الصيف - القارة - العربي



• أذهب إلى البحر في فصل .....

• مسطحات مائية أصغر من المحيطات هي .....



• المكان الذي توجد به الأرض والشمس والقمر هي .....



• تشرف بلادي دولة الإمارات العربية المتحدة على الخليج .....

• قطعة كبيرة جداً من اليابسة على سطح الأرض .....



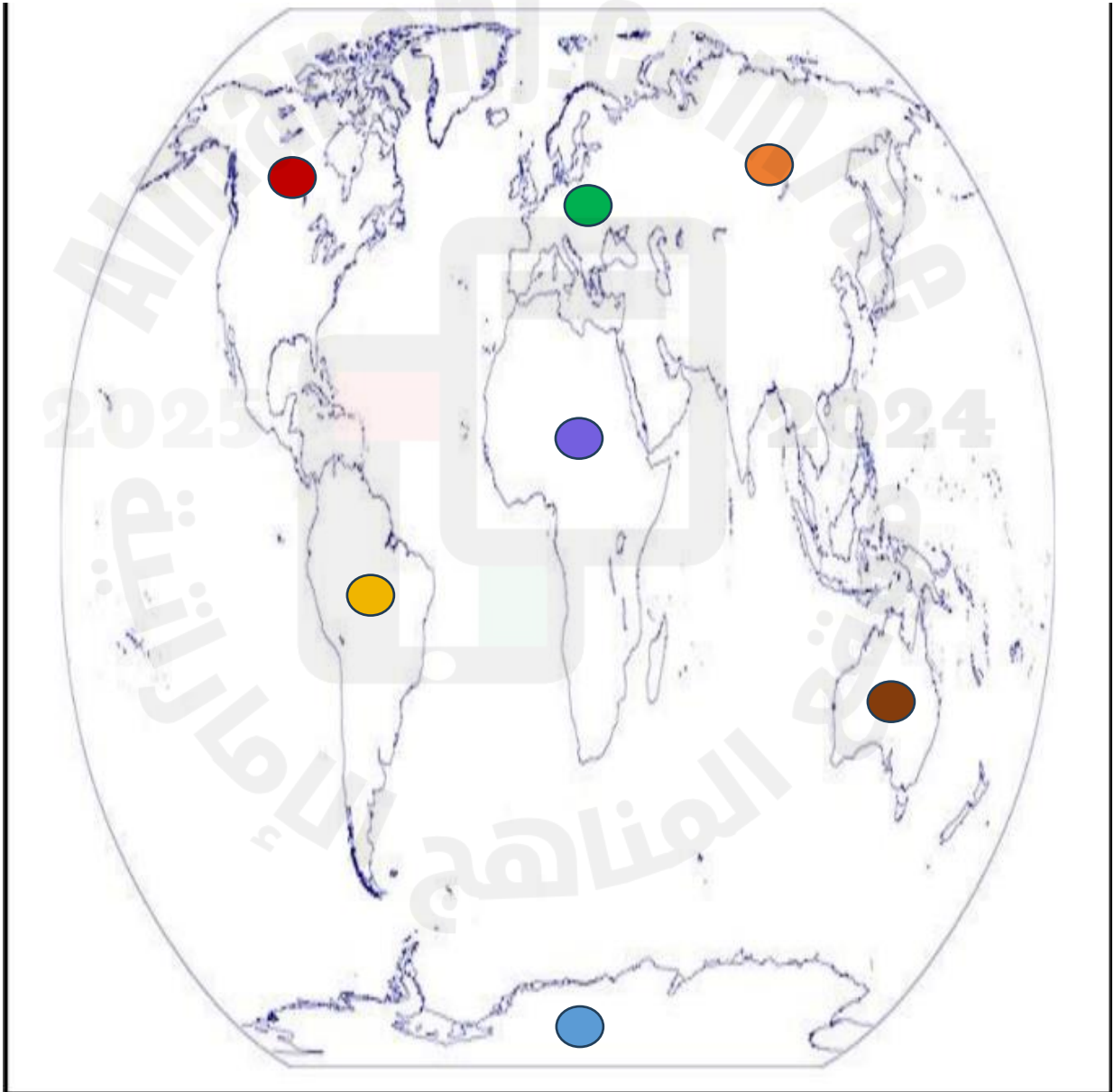
• وسيلة النقل في البحار والمحيطات .....

**السؤال الرابع: ضع إشارة ✓ أمام العبارة الصحيحة، وإشارة ✗ أمام العبارة الخاطئة:**

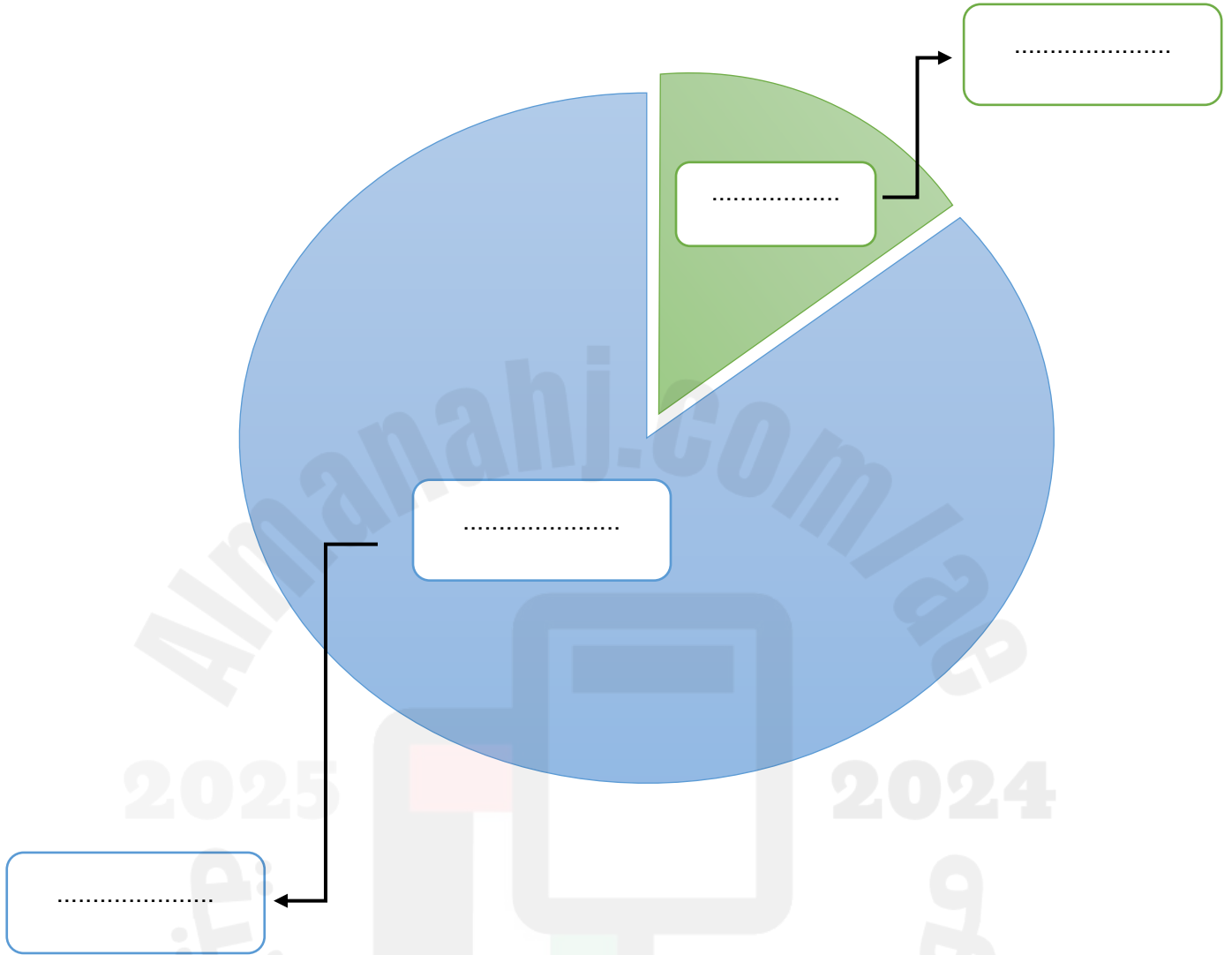
- ثالث أكبر القارات في العالم من حيث المساحة قارة أمريكا الشمالية ( )
- تتصل الخلجان بالمحيطات عبر فتحات ضيقة تسمى البحار ( )
- الماء العذب هو ماء لا يحتوي على ملح. ( )
- تمثل اليابسة حوالي 71% من مساحة الكرة الأرضية، وتوجد على شكل قارات. ( )

**السؤال الخامس: ضع القارات في مكانها المناسب يا عسل، ثم ألون كل قارة مستعيناً بلونها على خريطة العالم الصماء:**

استراليا - أمريكا الجنوبية - أمريكا الجنوبية - القارة القطبية الجنوبية - أفريقيا - آسيا - أوروبا



السؤال الخامس: أكمل المخطط بما يناسبه لتوضح نسبة اليابسة والمياه على سطح الكرة الأرضية:



2025

2024

موقع المناهج الإلكترونية

## الدَّرْسُ الأوَّلُ : كوكب الأرض

### أوَّلاً : أرضنا في الفضاء

ضع إشارة (√) أمام العبارة الصحيحة وإشارة (x) أمام العبارة غير الصحيحة.



1- ( ) لون اليابسة أخضر .

2- ( ) الهواء لا لونه له ولا طعم ولا رائحة .

3- ( ) لا أحرص على نظافة كوكب الأرض .

4- ( ) النباتات كانت حية لا تتحرك ولا تتنفس .

5- ( ) يعيش على كوكب الأرض كانت حية .

اختر الكلمة المناسبة وضعها في الفراغ المناسب .

الحياة - الأزرق - الشمس - الماء - حية



1- الماء أسمى \_\_\_\_\_

2- يُسمى كوكب الأرض بالكوكب \_\_\_\_\_

3- المصنر الأساسي للضوء على الأرض هو \_\_\_\_\_

4- يتكوّن كوكب الأرض من اليابسة و \_\_\_\_\_ ويحيط به الهواء

5- يعيش على كوكب الأرض الإنسان والنبات والحيوان وهم كانت \_\_\_\_\_

الدَّرْسُ الأوَّلُ : كوكب الأرض  
ثانياً : الحركة اليومية للأرض

ضع إشارة (√) أمام العبارة الصحيحة وإشارة (x) أمام العبارة غير الصحيحة.

1- ( ) للأرض قمر واحد ..

2- ( ) تظهر الشمس في الليل

3- ( ) المصدر الأساسي للضوء هو القمر .

4- ( ) تدور الأرض حول نفسها باستمرار ولا تتوقف .

5- ( ) ينتج عن حركة الأرض حول نفسها تعاقب الليل والنهار .



اختر الكلمة المناسبة وضعها في الفراغ المناسب .

النهار - القمر - الفضاء - الليل

1- أبدأ عند طلوع الشمس.

2- عمري 12 ساعة أظهر بعد غياب الشمس .

3- المكان الذي توجد به الأرض والشمس والقمر.

4- أنير السماء و يأتي معي وقت النوم والراحة .

---

---

---

---



الدَّرْسُ الأوَّلُ : كوكب الأرض  
ثالثًا : الحركة السنويَّة للأرض

اختر الكلمة المناسبة وضعها في الفراغ المناسب .

الصَّيْف - الخريف - الأربعة - الربيع - الغرب - الشتاء

- 1 - يَعْتَدِلُ الجَوُّ وتُشْرِقُ الشَّمْسُ في فصل \_\_\_\_\_ .
  - 2 - تَتَساقطُ أوراقُ الأشجارِ في فصل \_\_\_\_\_ .
  - 3 - أَذْهَبُ إلى البَحْرِ في فصل \_\_\_\_\_ .
  - 4 - تَدورُ الأرضُ حَوْلَ الشَّمْسِ من \_\_\_\_\_ إلى الشَّرْقِ .
  - 5 - تَغْزُرُ الأمطارُ في فصل \_\_\_\_\_ .
  - 6 - يَنْتُجُ عَن حَرَكَةِ الأرضِ حَوْلَ الشَّمْسِ الفصول \_\_\_\_\_ .
- اكتب اسم كل فصل من الفصول الأربعة في مكانه المناسب .



## الدَّرْسُ الثَّانِي : القارات والمحيطات

### أولاً : البحار والمحيطات

اختر المصطلح المناسب وضعه في الفراغ المناسب .

البحار - المحيطات - الخليج - المضيق

1 - مُسَطَّحٌ كبيرٌ جدًّا من الماء المالح

2 - فُتُحاتٌ ضيّقةٌ تصلُّ الخِجانَ بالمُحيطاتِ

3 - مُسَطَّحٌ مائيٌّ تُحيطُ بهِ اليابسةُ منْ ثلاثِ جهاتٍ .

4 - مُسَطَّحاتٌ مائيَّةٌ أصغرُ منْ المُحيطاتِ في المساحةِ والعُمقِ

ضع إشارة (√) أمام العبارة الصحيحة وإشارة (x) أمام العبارة غير الصحيحة.

1 - ( ) تُغطِّي المياه القسم الأكبر من سطح الأرض .


2 - ( ) تعيش الأسماك في البحار والمحيطات .

3 - ( ) أكبر المحيطات مساحةً هو المحيط الهندي .

4 - ( ) عدد محيطات العالم ستة محيطات .

5 - ( ) تُشرفُ دولة الإمارات العربيَّة المتَّحدة على الخليج العربيِّ .

6 - ( ) يتشكَّل سطحُ الكرة الأرضيَّة من مسطَّحاتٍ مائيَّةٍ مثلُ البحارِ و المُحيطاتِ و الأنهارِ .



الدَّرْسُ الثَّانِي : القارات والمحيطات  
ثالثًا : نسبة اليابسة والماء

اختر المصطلح المناسب وضعه في الفراغ المناسب .

الماء العذب - النهر - الغلاف المائي - الغلاف الأرضي

- 1- ماء لا يحتوي على ملح \_\_\_\_\_  
2- مُسطح مائي يجري فيه الماء العذب \_\_\_\_\_  
3- الجزء الذي تغطيه المياه على سطح الأرض يُسمى . \_\_\_\_\_  
4 - الجزء الذي تغطيه اليابسة على سطح الأرض يُسمى \_\_\_\_\_

ضع إشارة (√) أمام العبارة الصحيحة وإشارة (x) أمام العبارة غير الصحيحة

1- ( ) تُغطي المياه القسم الأكبر من سطح الأرض .

2- ( ) نسبة المياه العذبة في العالم كبيرة .

3- ( ) تمثل اليابسة حوالي 29% من مساحة الكرة الأرضية .

