

تم تحميل هذا الملف من موقع المناهج الإماراتية



أوراق عمل مراجعة للامتحان النهائي

موقع المناهج ← المناهج الإماراتية ← الصف الثاني ← رياضيات ← الفصل الأول ← أوراق عمل ← الملف

تاريخ إضافة الملف على موقع المناهج: 11:22:14 2024-11-13

ملفات اكتب للمعلم اكتب للطالب الاختبارات الكترونية | اختبارات | حلول | عروض بوربوينت | أوراق عمل
منهج انجليزي | ملخصات وتقارير | مذكرات وبنوك | الامتحان النهائي للمدرس

المزيد من مادة
رياضيات:

التواصل الاجتماعي بحسب الصف الثاني



صفحة المناهج
الإماراتية على
فيسبوك

الرياضيات

اللغة الانجليزية

اللغة العربية

التربية الاسلامية

المواد على تلغرام

المزيد من الملفات بحسب الصف الثاني والمادة رياضيات في الفصل الأول

كتاب الطالب المجلد الأول

1

عرض بوربوينت درس الأعداد الفردية والأعداد الزوجية

2

أسئلة الاختبار التكويني الثاني

3

دليل المعلم الوحدة الثانية value Place منهج ريفيل

4

كتاب الطالب Book Practice Student منهج ريفيل

5

اسمي : الصف الثاني ()

السؤال الاول : هيا معا نختار الاجابة الصحيحة

1 (يوجد أربعة مزهريات و في كل مزهرية زهرتان كم عدد الزهور

15 (ج

8 (ب

10 (أ

2 (وضعت رهام 5 قطع من الحلوى في الحقيبة و لديها 4 حقائب كم عدد قطع الحلوى

16 (ج

20 (ب

5 (أ

3 (تكملت النمط العددي 10 , ---- , 30 , 40

20 (ج

25 (ب

15 (أ

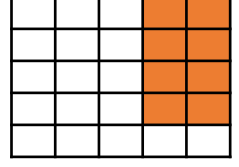
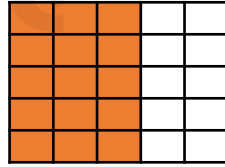
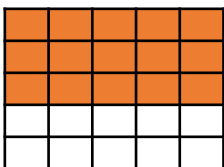
4 (الجمع المتكرر الصحيح هو

3+2+ 3 (ج

4+4+4+ 4 (ب

4+3+2 (أ

5 (المصفوفة الصحيحة ل 5 صفوف بها 3 هي



السؤال الثاني : لنكون معا المصفوفة $4 + 4 + 4 + 4$ ثم اكتب الحد الجمعي مع الناتج (

----- =

السؤال الثالث : عد بالتجاوز واكتب الأعداد الناقصة في كل مما يلي :

8				العد ب 2
75	80			العد ب 5
		60		العد ب 10

السؤال الرابع : حو ط الوصف المناسب :

زوجي فردي 85
زوجي فردي
زوجي فردي

زوجي فردي 9 + 7
زوجي فردي
زوجي فردي