

شكراً لتحميلك هذا الملف من موقع المناهج الإماراتية



## أوراق عمل الدرس الأول خصائص الأرض من الوحدة الخامسة تغيرات الأرض

[موقع المناهج](#) ⇨ [المناهج الإماراتية](#) ⇨ [الصف الثالث](#) ⇨ [علوم](#) ⇨ [الفصل الثاني](#) ⇨ [الملف](#)

تاريخ نشر الملف على موقع المناهج: 2024-01-15 07:44:56 | اسم المدرس: السند

## التواصل الاجتماعي بحسب الصف الثالث



## روابط مواد الصف الثالث على تلغرام

[الرياضيات](#)

[اللغة الانجليزية](#)

[اللغة العربية](#)

[التربية الاسلامية](#)

## المزيد من الملفات بحسب الصف الثالث والمادة علوم في الفصل الثاني

[ملخص الدرس الأول خصائص الأرض من الوحدة الخامسة تغيرات الأرض](#)

1

[أسئلة الامتحان النهائي - انسابير](#)

2

[أسئلة الامتحان النهائي - بريدج](#)

3

[حل أسئلة الامتحان النهائي](#)

4

[أسئلة الامتحان النهائي](#)

5

---

المزيد من الملفات بحسب الصف الثالث والمادة علوم في الفصل الثاني

## الوحدة 5: تغيرات الأرض

### الدرس 1: خصائص الأرض

#### اكتب المفرد الصحيح لكل تعريف

اليابسة التي تحيط بالمحيط	
أرض بجوانب شديدة الانحدار وقمة مسطحة، أعلى من الأرض المحيطة به	
واد عميق بجوانب شديدة الانحدار، غالباً: تتدفق الأنهار	
مسطح شاسع من المياه الجارية	
أرض واسعة ومسطحة	
أعلى تضاريس على الأرض، جوانب شديدة الانحدار وقمة بارزة	
يابسة تحيط بها المياه من ثلاث جهات	
منطقة منخفضة بين التلال والجبال	
يابسة تحيط بها المياه من جميع الجهات	
مياه تحيط بها اليابسة	

#### ارسم تل وجبل ووضح الفرق بينهما

.....

.....

#### حدد إذا كانت الجملة الصحيحة أو الخاطئة

يوجد في لب الأرض صخور منصهرة وصلبة	
يغطي الماء المساحة الأصغر من سطح الأرض	
الجزر هي قطع صغيرة من اليابسة محاطة من الماء بجميع الجهات	
تغطي المحيطات نصف سطح الأرض	

املا كل فراغ بالمصطلح المناسب

التضاريس	القشرة الأرضية	اللب	القارة
----------	----------------	------	--------

كل واحدة من المناطق اليابسة السبعة الكبيرة	
أعمق وأسخن طبقات الأرض	
مثالها هو الجبل	
الطبقة العليا الباردة الرقيقة من الأرض	

الأخدود	منصهرة	النهر	الساحل	صلبة
---------	--------	-------	--------	------

اللب الداخلي عبارة عن صخور ..... واللب الخارجي عبارة عن صخور .....

..... هو واد عميق بجوانب شديدة الانحدار

..... هو اليابسة التي تحيط بالمحيط

..... هو مسطح شاسع من المياه الجارية

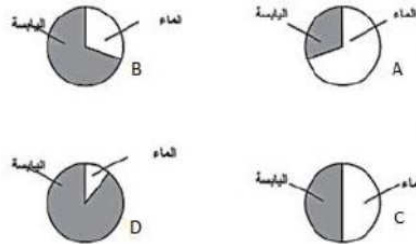
المحيط	القارة	اللب
--------	--------	------

..... هو مسطح أو مكان كبير وعميق تملؤه المياه المالحة

..... مساحة كبيرة من اليابسة على الأرض تسمى .....

..... أعمق وأسخن طبقات الأرض هي .....

ما الرسم الدائري الذي يشير إلى نسبة توزيع اليابسة والماء على الأرض بشكل صحيح



## اختر الإجابة الصحيحة

			أي اللونين هو الأكثر شيوعاً في الخريطة الأزرق	الأخضر
			الذي يغطي مساحات كبيرة من الأرض اليابسة	الماء
			يمثل الماء على الأرض	المحيطات
			تمثل اليابسة على الأرض	المحيطات
البرك	الأنهار	المحيطات	أي من المسطحات المائية تغطي معظم سطح الأرض:	البحيرات
البحيرة	التل	شبه الجزيرة	أي من التضاريس له جوانب منحدره وقمة مسطحة:	الجزيرة
خندق	المنحدر القاري	سلاسل الجبال البحرية	أي من ملامح قاع المحيط تشبه الأخدود	السهل السحيق
البحيرات	المحيطات	الأنهار	مسطحات مائية شاسعة من الماء المالح	
النصف	ثلاثة أرباع	الربع	تصل مساحة اليابسة على الأرض	
الأشكال	التضاريس	المحيطات	السهل والبحيرة والوادي والجبل كلها خصائص اليابسة تسمى	
النهر	شبه الجزيرة	الجزيرة	يابسة تحيط بها المياه من ثلاث جهات	
الساحل	الخندق	الأخدود	الوادي العميق في اليابسة	
الجزيرة	البحيرة	شبه الجزيرة	مياه تحيط بها اليابسة من جميع الجهات	

التل	السهل	أرض جوانب شديدة الانحدار ولها قمة مسطحة الجبل
التل شديدة الانحدار والجبل منخفض		وجه الاختلاف بين التل والجبل التل لها قمة مسطحة والجبل قمة مدببة
السهل	الأخدود	الوادي العميق في المحيط الخدق
الجزيرة	الجبل	أي خاصية من خصائص قاع المحيط تعد نوعاً من الجبال الجبل البحري
القشرة الأرضية	الوشاح	الطبقة الأقل سمكاً والأكثر برودة هي اللب
القشرة	اللب	طبقة من طبقات الأرض بها صخور صلبة وجزء صخور منصهرة الوشاح
سائل منصهر	صخور صلبة	كيف نصف طبقة اللب الداخلي صخور منصهرة
القشرة الأرضية	الوشاح	الطبقة التي نعيش فيها اللب
القشرة الأرضية	الوشاح	الطبقة التي تشبه العجينة اللب
النهر	الوشاح	جميع ما يأتي عبارة عن تضاريس ما عدا الجزيرة
النبات	الماء	يغطي ثلاثة أرباع الأرض تقريباً اليابسة
الوادي	الساحل	المنطقة المنخفضة بين التلال والجبال هي السهل
الجبل البحري	الجرف القاري	الأخدود في قاع البحر الخدق

شبه الجزيرة	البحيرة	مياه تحيط بها اليابسة الجزيرة
البركان	الماء	يطلق على اليابسة التي تغطي وجه الأرض اليابسة
اليابسة	القارات	مياه مالحة تغطي معظم سطح الأرض المحيطات
الخدق	المنحدر القاري	أعمق منطقة في قاع المحيط هي الرف القاري
المحيطات	الأنهار	المسطحات المائية التي تتكون من المياه العذبة البحار
التل	السهل	أعلى تضاريس الأرض وله قمة بارزة الجبل
البحيرات	الأنهار الجليدية	أي من التالي ماؤه مالح المحيطات
ثلاثة أرباع	نصف	يغطي الماء حوالي ..... من سطح الأرض ثلث ربع
البحيرات	الأنهار الجليدية	أي من التالي بعضها يحتوي على ماء مالح وبعضها على ماء عذب المحيطات
8	7	كم عدد القارات في الأرض 5 6
السهل	الوادي	أرض واسعة ومسطحة الجبل التل
الجزيرة	البحيرة	مسطح شاسع من المياه الجارية النهر الأخدود
الجزيرة	شبه الجزيرة	اليابسة التي تحيط بالمحيط هي القارة الساحل

تشكل القارات والمحيطات الطبقة الخارجية من الأرض وهي اللب  
القشرة الأرضية

الوشاح

أي وصف هو الصحيح لطبقة الوشاح

جزء منه يتكون من صخور صلبة والجزء الآخر من صخور منصهرة لينة ومتدفقة تشبه العجينة كثيراً	يتكون من صخور منصهرة لينة ومتدفقة تشبه العجينة كثيراً	يتكون من صخور صلبة
---	---	--------------------

أي وصف هو الصحيح لطبقة اللب

اللب الخارجي عبارة عن صخور صلبة واللب الداخلي عبارة عن صخور منصهرة	اللب الخارجي عبارة عن صخور منصهرة واللب الداخلي عبارة عن صخور صلبة	اللب الداخلي واللب الخارجي عبارة عن صخور منصهرة
--	--	---

تعد الأنهار والحدائق والأنهار الجليدية والبرك وأغلب البحيرات مسطحات مائية تحتوي

محيط	ماء عذب	ماء مالح
------	---------	----------

يوجد في الأرض سبع مناطق كبرى

الخريطة	المحيطات	القارات
---------	----------	---------

يوضح ..... ما المقصود بألوان الخريطة وأشكالها

المحيط	المفتاح	الوشاح
--------	---------	--------

تسمى خصائص اليابسة الأنهار

التضاريس	المحيطات
----------	----------

هي من المياه العذبة البحار

الأنهار	المحيطات
---------	----------

عدد المحيطات على سطح الأرض

5	3	7
---	---	---

تسمى اليابسة التي توجد تحت المحيط قاع المحيط

قارة المحيط	تربة المحيط
-------------	-------------

طبقة اللب الداخلي عبارة عن صخور منصهرة

صخور باردة	صخور صلبة
------------	-----------





وادي

شبه جزيرة

تل

جبل

إلى أي التضاريس يشير السهم:



شبه الجزيرة

حدد شكل التضاريس في الصورة  
البحيرة



شبه الجزيرة

حدد شكل التضاريس في الصورة  
البحيرة



البركان

الماء

اليابسة

من خلال الشكل، ما الذي يغطي سطح الأرض بشكل أكبر



الأنهار

السهول

الجبال

من خلال الشكل، أعلى تضاريس الأرض

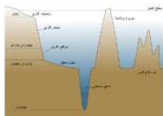


الأنهار

السهول

الجبال

من خلال الشكل، المنطقة المسطحة الواسعة على الأرض




الخدق

السهل السحيق

المنحدر القاري

من خلال الشكل، أي التضاريس يعتبر أخدود في قاع البحر

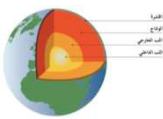


الخدق

السهل السحيق

المنحدر القاري

من خلال الشكل، أي التضاريس تشبه التل



الوشاح

القشرة الأرضية

اللب

من خلال الشكل، أي الطبقات تعد الأقل سمكاً والأكثر برودة

	الوشاح	من خلال الشكل، أي الطبقات تعد الأكثر عمقاً	اللب
	شبه جزيرة	إلى أي التضاريس يشير السهم	وادي
	البحر	توضح الخريطة ..... على سطح الأرض	التضاريس
		يمكن تشبيه تركيب الأرض من الداخل بتركيب	

### أكمل الفراغ بما يناسب

- عدد القارات .....
- أكبر قارة هي .....
- نسبة الماء هي .....

### صنف بين خصائص الأرض على سطح الأرض وخصائص الأرض في المحيطات

الجبل البحري	السهل السحيق	الوادي	الجرف القاري	الجبل
البحيرة	التل	شبه الجزيرة	الخدق	الأخدود

في قاع المحيط	على سطح الأرض

صل اسم التضاريس ب الصورة

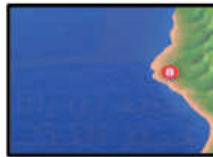

جبل

تل

سهل



أكتب أسفل كل صورة ما تعبر عنه:



صل بين الصورة والكلمة المناسبة لها



جبل



وادي



بحيرة



جزيرة

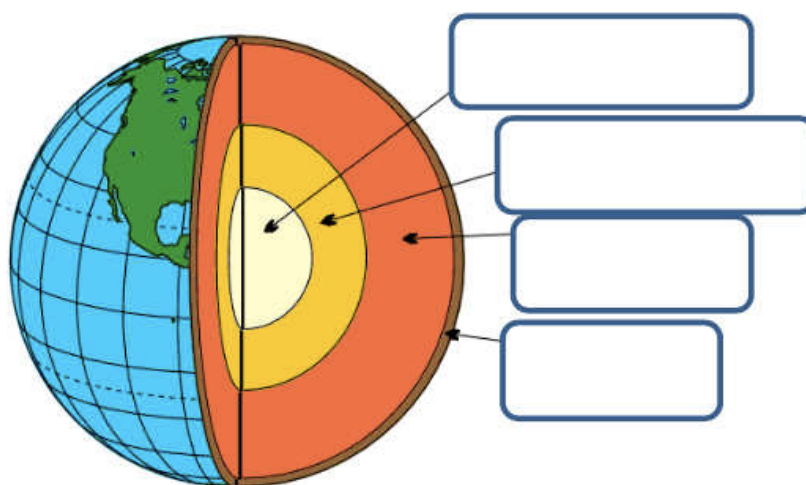
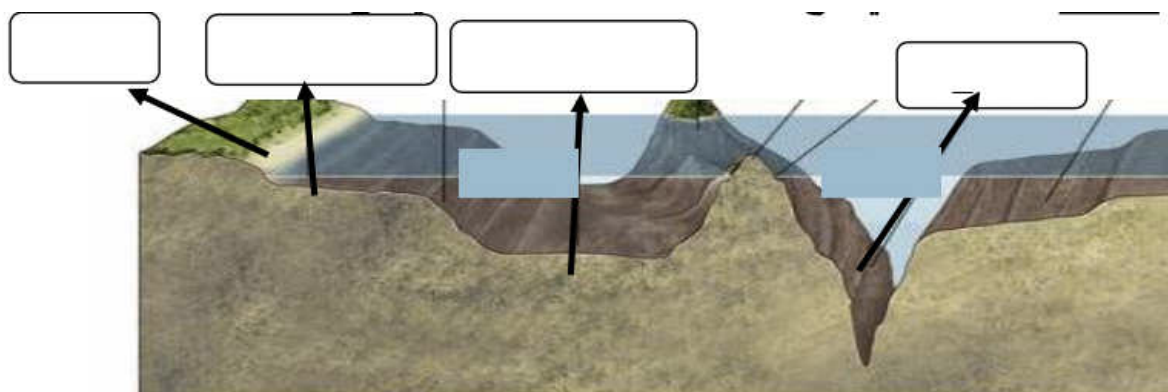


ساحل

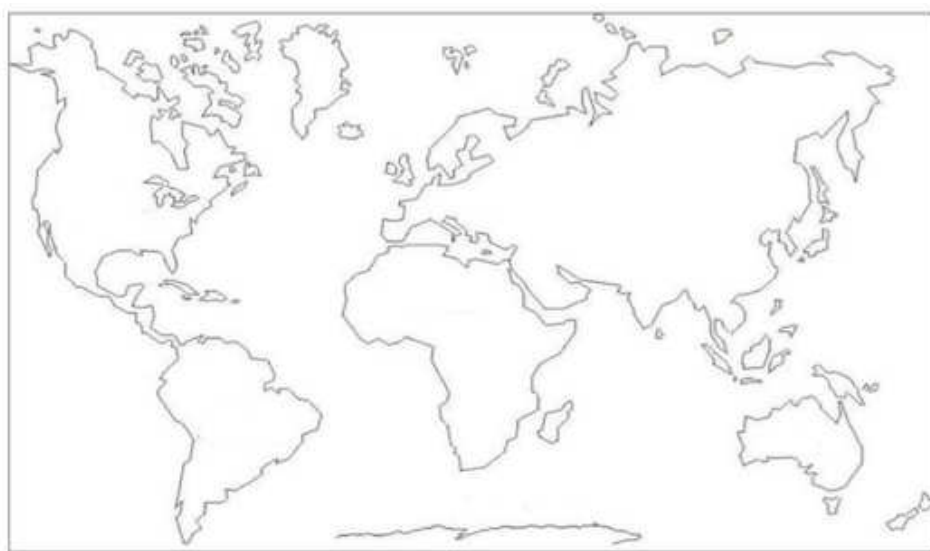


سهل

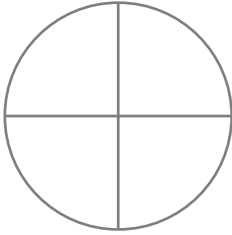
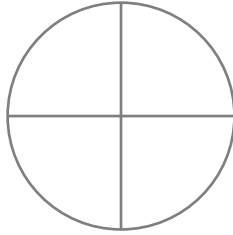
أكتب المفردات الصحيحة في الصور التالية



حدد القارات على الخريطة بتلوينها بالأصفر والمحيطات بتلوينها بالأزرق



كم تبلغ مساحة الماء واليابسة على الأرض، حدد ذلك على الرسم

مساحة اليابسة على الأرض	مساحة الماء على الأرض
	

من على الرسم، حدد خصائص اليابسة بكتابة الرقم المناسب أمام نوع التضاريس المناسب




التل .....	الساحل .....	الجزيرة .....	الجبل .....	السهل .....
شبه الجزيرة .....	النهر .....	الأخدود .....	البحيرة .....	الوادي .....

صنف المصادر المائية حسب نوعها في الجدول التالي

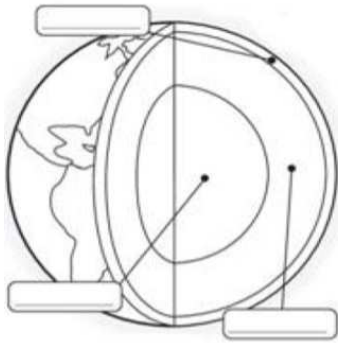
البركة	البحار	البحيرات	الجدول	الأنهار	المحيطات	الأنهار الجليدية	الوديان
مياه مالحة				مياه عذبة			

أنظر للرسم أدناه ثم أجب



- هذا الرسم يوضح .....
- تسمى اليابسة التي توجد تحت المحيط .....
- وزع المفردات التالية في مكانها الصحيح في الرسم  
( السهل – الجزيرة – الجرف القاري – الساحل – الجبل البحري – الخندق )
- أي خاصية من خصائص قاع المحيط تعد نوعاً من الجبال .....
- أي من ملامح قاع المحيط تشبه الأخدود .....
- ماذا تعتقد أنك ستجد في السهل السحيق .....

اكتب المفردات الصحيحة على الرسم ثم أجب:



- بين القشرة الأرضية واللب .....
- نحن نعيش على الطبقة الخارجية تسمى .....
- هو أعمق طبقة من طبقات الأرض .....
- اللب ..... عبارة عن صخور منصهرة، واللب .....
- عبارة عن صخور .....
- تعد ..... هي الأقل سمكاً وأكثر برودة .....

أجب عن الأسئلة التالية:

ما هي طبقات الأرض؟

أين ستكون إذا كنت في أعمق مكان على القشرة الأرضية

ما هي أشكال اليابسة؟