

شكراً لتحميلك هذا الملف من موقع المناهج الإماراتية



نموذج تدريبي على شاکلة الامتحان النهائي متبوع بالإجابات

[موقع المناهج](#) ← [المناهج الإماراتية](#) ← [الصف الثالث](#) ← [اجتماعيات](#) ← [الفصل الثاني](#) ← [الملف](#)

تاريخ نشر الملف على موقع المناهج: 18:56:30 2024-03-19

التواصل الاجتماعي بحسب الصف الثالث



روابط مواد الصف الثالث على تلغرام

[الرياضيات](#)

[اللغة الانجليزية](#)

[اللغة العربية](#)

[التربية الاسلامية](#)

المزيد من الملفات بحسب الصف الثالث والمادة اجتماعيات في الفصل الثاني

[نموذج تدريبي امتحاني وفق الهيكل الوزاري متبوع بالإجابات](#)

1

[حل أسئلة اختبار تدريبي](#)

2

[أسئلة اختبار تدريبي](#)

3

[مراجعة امتحانية وفق الهيكل الوزاري](#)

4

[اختبار تدريبي امتحاني](#)

5

نموذج تدريبي لامتحان الدراسات الاجتماعية للصف الثالث – الفصل الدراسي الثاني 2024/2023

نموذج تدريبي لامتحان الدراسات الاجتماعية
الصف الثالث
الفصل الدراسي الثاني
2024-2023

اسم الطالب Name	
الصف Class	
المدرسة School	
المادة Subject	

ملاحظة: هذا النموذج

نموذج تدريبي لامتحان الدراسات الاجتماعية للصف الثالث – الفصل الدراسي الثاني 2024/2023

الدليل الإرشادي للامتحان Exam Guidelines

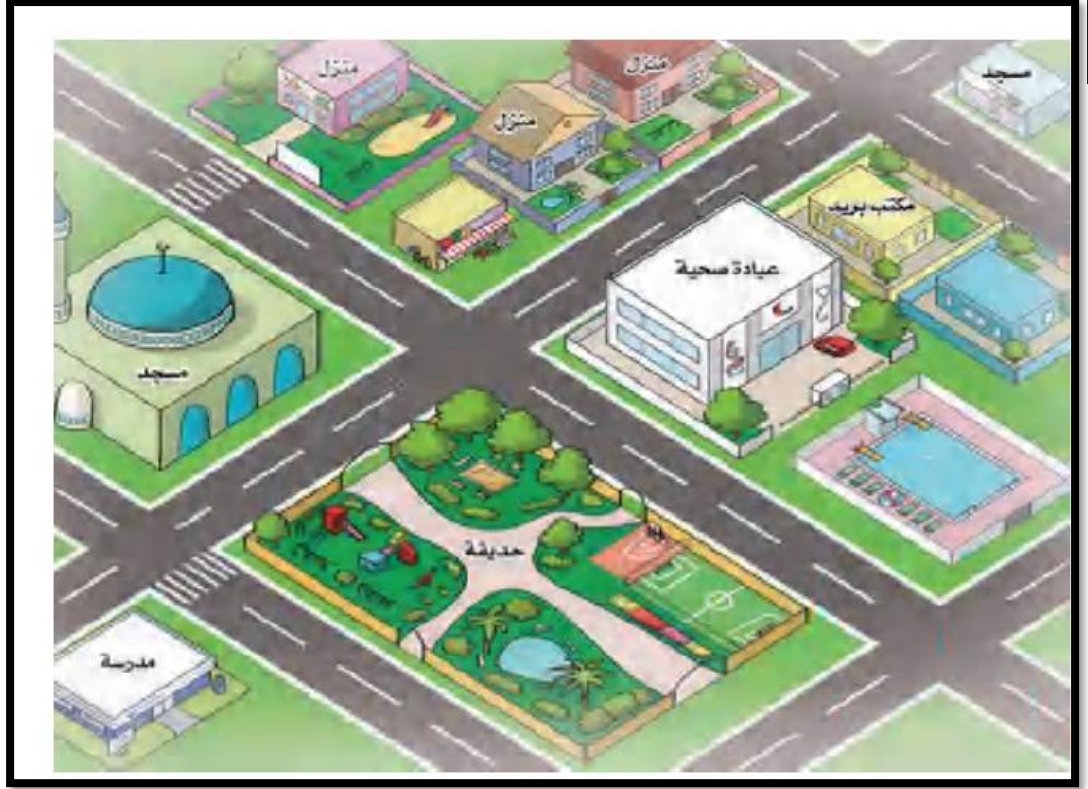
ملاحظات Comment	محتوى الامتحان Syllabus	المادة Subject	اليوم والتاريخ Day & Date

نموذج تدريبي لامتحان الدراسات الاجتماعية للصف الثالث – الفصل الدراسي الثاني 2024/2023

25 درجة

السؤال الأول



اقرأ الشكل 1-2، ثم أجب عن الأسئلة التي تليه:



1

من طرائق تحديد الجهات: أولاً: الشمس (تشرق دائماً من جهة الشرق وتغرب من جهة الغرب)، ثانياً: البوصلة وهي جهاز نستخدمه في السفن والطائرات.

2



نموذج تدريبي لامتحان الدراسات الاجتماعية للصف الثالث – الفصل الدراسي الثاني 2024/2023

25

ارسم دائرة حول الإجابة الصحيحة لكل مما يلي:

1 . يُشِيرَ مُؤَشِّرُ الْبُوصَلَةِ فِي الشَّكْلِ (2) إِلَى جِهَةٍ :
أ - الشَّمَالُ
ب - الشَّرْقُ
ت - الْجَنُوبُ

2 . يَقَعُ الْمَسْجِدُ فِي الشَّكْلِ (1) فِي جِهَةٍ :
أ - الشَّرْقُ
ب - الْعَرْبُ
ت - الْجَنُوبُ

3 . مِنْ الْأَشْخَاصِ الَّذِينَ يَسْتَخْدِمُونَ الْبُوصَلَةَ :
أ - قُبْطَانُ السَّفِينَةِ
ب - الْمُصَوِّرُ
ت - الْمَزَارِعُ

4 . تُشْرِقُ الشَّمْسُ مِنْ جِهَةٍ :
أ - الشَّمَالُ
ب - الْجَنُوبُ
ت - الشَّرْقُ

5 . مِنْ الطَّرَائِقِ الَّتِي تُسَاعِدُنَا لِتَحْدِيدِ الْجِهَاتِ الْأَصْلِيَّةِ لَيْلاً وَنَهَارًا :
أ - الْبُوصَلَةُ وَالشَّمْسُ
ب - الظِّلُّ
ت - الْمَوْقِعُ

نموذج تدريبي لامتحان الدراسات الاجتماعية لصف الثالث – الفصل الدراسي الثاني 2024/2023

25 درجة

السؤال الثاني

اقرأ النصّ الآتي بعنوانٍ "حقوقى وواجباتى"، ثم أجب عن الأسئلة التي تليه:

الْحُقُوقُ هِيَ كُلُّ مَا يَجِبُ أَنْ يَتَمَتَّعَ بِهَا الْفَرْدُ ، وَيَكْفُلَهَا الْمَجْتَمَعُ وَالْقَانُونُ ، وَهِيَ أَيْسَطُ الْأَشْيَاءِ الَّتِي يَبْحَثُ عَنْهَا الْإِنْسَانُ أَيْنَمَا وَجَدَ ، وَقَدْ كَفَلَ دُسْتُورُ دَوْلَةِ الْإِمَارَاتِ الْعَرَبِيَّةِ الْمُتَّحِدَةِ لِكُلِّ مُوَاطِنٍ أَنْ يُمَارِسَ حُقُوقَهُ فِي حُدُودِ الْقَانُونِ عَلَى الْأَيْسَلِ ذَلِكَ بِالنِّظَامِ الْعَامِّ ، فَالْأَفْرَادُ جَمِيعُهُمْ أَمَامَ الْقَضَاءِ مُتَسَاوِينَ وَمِنْ هَذِهِ الْحُقُوقِ الْخِدْمَاتِ الْعِلَاجِيَّةُ ، الْخِدْمَاتُ التَّعْلِيمِيَّةُ ، الْأَمْنُ ، الْمَرَافِقُ الْعَامَّةُ .

وَاجِبَاتِي تُجَاهَ وَطَنِي : الْوَطَنُ هُوَ الْأَرْضُ الَّتِي يَنْشَأُ عَلَيْهَا الْإِنْسَانُ ، وَيَتَوَارَثُهَا وَهُوَ الْمَصْدَرُ الَّذِي يُؤَمِّنُ لَنَا مُسْتَلْزَمَاتِ الْحَيَاةِ إِذْ وَجِبَ عَلَيْنَا الْوَلَاءُ لِرَبِّيسِ الدَّوْلَةِ وَحِمَايَتِهِ وَالِدِّفَاعُ عَنْهُ وَاحْتِرَامُ قَوَانِينِهِ وَنَظْمِهِ وَالْعَمَلُ عَلَى رَفْعَتِهِ وَنَهْضَتِهِ وَحِمَايَةِ مُمْتَلِكَاتِهِ تَمَثِيلُهُ بِأَجْمَلِ صُورَةٍ فِي الدَّخْلِ وَالْخَارِجِ .

وَاجِبَاتِي تُجَاهَ أُسْرَتِي : أَمَرْنَا اللَّهُ سُبْحَانَهُ وَتَعَالَى بِالإِحْسَانِ إِلَى الْوَالِدَيْنِ وَبِرِّهِمَا وَاحْتِرَامِهِمَا وَالْعَطْفِ عَلَيْهِمَا عِنْدَ الْكِبَرِ ، فَمِنْ وَاجِبَاتِ الْإِبْنَاءِ تُجَاهَ أَفْرَادِ الْأُسْرَةِ جَمِيعُهُمْ تَقْدِيمُ الْمُسَاعَدَةِ ، وَالْمُشَارَكَةُ فِي الْمَهَامِ الْمَنْزِلِيَّةِ الْمُخْتَلِفَةِ ، وَبَدَلُ الْجُهْدِ لِتَوْفِيرِ الرَّاحَةِ وَالطَّمَانِينَةِ .

وَاجِبَاتِي تُجَاهَ مَدْرَسَتِي : تُعَدُّ الْمَدْرَسَةُ الْمَكَانَ الثَّانِي الَّذِي يَقْضِي فِيهِ الطَّلِبُ سَاعَاتٍ طَوِيلَةً بَعْدَ الْبَيْتِ يَتَعَلَّمُ فِيهَا الْكَثِيرُ وَتُضِيءُ فِيهَا شَخْصِيَّةً ، وَتَنْمُو مَوَاهِبُهُ ، كَمَا تَمْنَحُهُ فُرْصَةً لِلتَّعَرُّفِ إِلَى الْأَصْدِقَاءِ وَالتَّأَثُّرِ بِنَمَازِجٍ جَيِّدَةٍ فِي الْحَيَاةِ . يُمَثِّلُهَا الْمُعَلِّمُ ، إِذَا يَجِبُ عَلَى الطَّلِبِ التَّحَلِّيَ بِالإِلْتِزَامَاتِ الْأَخْلَاقِيَّةِ تُجَاهَ الْمَدْرَسَةِ ، وَاحْتِرَامَ الْأَنْظِمَةِ وَالْقَوَاعِدِ الْعَامَّةِ الَّتِي تَضْمَنُهَا لِنِظَامِهَا الدَّخِلِيَّ ، وَالْمُحَافَظَةَ عَلَى الْأَثَاتِ وَالْأَدَوَاتِ فِيهَا وَنَظَافَةَ مَرَافِقِهَا .



نموذج تدريبي لامتحان الدراسات الاجتماعية للصف الثالث – الفصل الدراسي الثاني 2024/2023

25

ارسم دائرة حول الإجابة الصحيحة لكل مما يلي:

6. الفِكرَةُ الرَّئِيسِيَّةُ مِنْ النَّصِّ :

أ - الْوَأجِبَاتُ

ب - الْحُقُوقُ

ت - الْحُقُوقُ وَالْوَأجِبَاتُ.

7. يُقْصَدُ بِالْوَطَنِ كَمَا فَهَمْتُ مِنْ النَّصِّ :

أ - هُوَ الْأَرْضُ الَّتِي يَنْشَأُ عَلَيْهَا الْإِنْسَانُ وَيَتَوَارَثُهَا.

ب - الْمَنْزِلُ.

ت - وَادِي حَامٍ.

8. مِنْ وَاجِبَاتِي إِتِّجَاهَ وَطَنِي :

أ - الْوَلَاءُ لِرَبِّيسِ الدَّوْلَةِ .

ب - عَدَمُ إِحْتِرَامِ الْقَوَانِينِ.

ت - رَمِي النُّفَايَاتِ فِي الْأَمَاكِنِ الْعَامَّةِ.

9. الْإِحْسَانُ إِلَى الْوَالِدَيْنِ وَاحْتِرَامِهِمَا وَالْعَطْفُ عَلَيْهِمَا مِنْ :

أ - الْحُقُوقُ.

ب - الْوَأجِبَاتُ.

ت - الْإِحْتِيَاجَاتُ.

10. مِنْ وَاجِبَاتِي إِتِّجَاهَ مَدْرَسَتِي :

أ - الْكِتَابَةِ عَلَى الْجُدْرَانِ

ب - الْمُحَافَظَةَ عَلَى مَرَافِقِ الْمَدْرَسَةِ

ت - عَدَمُ إِحْتِرَامِ الْقَوَانِينِ

نموذج تدريبي لامتحان الدراسات الاجتماعية للصف الثالث – الفصل الدراسي الثاني 2024/2023

25 درجة

السؤال الثالث

اقرأ النص الآتي بعنوان " إعادة التدوير " ، ثم أجب عن الأسئلة التي تليه:



اليوم العالمي لإعادة التدوير الذي يحتفل به في 18 مارس من كل عام وقد اعتمدت اليونسكو هذا اليوم وأعلنته يوماً عالمياً لإعادة التدوير وهو مبادرة لإعادة التدوير ويقصد بإعادة التدوير استخدام الأشياء المستعملة سابقاً في تصميم عمل جديد ومفيدة وإعادة التدوير تشجعنا على النظر إلى القمامة من منظور جديد. هناك عدة طرق لإعادة التدوير تسمح بإعادة استخدام بعض المواد عدة مرات. بعد إعادة التدوير أمراً رائعاً بالنسبة لنا وللبيئة لأنه تقلل من الطاقة التي نستخدمها ، ويعزز من جودة الماء والهواء الذي نتنفسه ، ويكافح تغير المناخ . كما أن إعادة التدوير يقلل من استخدام المواد الخام الجديدة لإنشاء منتجات جديدة مما يؤدي لتوفير المال والموارد الطبيعية . الصحف وزجاجات المياه البلاستيكية وعلب الصودا وعلب الحبوب وعلب الحليب هي بعض العناصر الشائعة القابلة لإعادة التدوير يومياً . إذا بذلنا جهداً لإعادة تدوير العناصر التي نرميها عادة فيمكننا التأثير على الأرض وحياتنا بطريقة إيجابية . كيف ننفذ كوكبنا ؟ تساعد إعادة التدوير على تقليل استخدام الطاقة ، واستهلاك المواد الخام الطبيعية ، والتقليل من تلوث الهواء أو الماء ، وانبعاثات غازات الاحتباس الحراري.

نموذج تدريبي لامتحان الدراسات الاجتماعية للصف الثالث – الفصل الدراسي الثاني 2024/2023

25

ارسم دائرة حول الإجابة الصحيحة لكل مما يلي:

11. تُعْتَبَرُ مِنَ السُّلُوكِيَّاتِ الصَّحِيحَةِ فِي الْحِفَافِ عَلَى الْبَيْئَةِ :

- أ - إِعَادَةُ تَدْوِيرِ النُّفَايَاتِ
- ب - رَمْيُ الْمُخَلَّفَاتِ فِي الْأَرْضِ
- ت - اسْتِخْدَامُ الْأَكْيَاسِ الْبِلَاسْتِيكِيَّةِ

12. مِنَ الْأَسْبَابِ الَّتِي تُؤَدِّي إِلَى الْحِفَافِ عَلَى الْبَيْئَةِ :

- أ - اسْتِخْدَامُ الطَّاقَةِ النَّظِيفَةِ الطَّاقَةِ الشَّمْسِيَّةِ
- ب - بِنَاءُ الْكَثِيرِ مِنَ الْمَصَانِعِ
- ت - إِقْلَاءُ مِيَاهِ الصَّرْفِ الصَّحِيِّ فِي الْبَحْرِ

13. يُصَادَفُ الْيَوْمَ الْعَالَمِيِّ لِإِعَادَةِ التَّدْوِيرِ :

- أ - 16 مَارِسَ مِنْ كُلِّ عَامٍ
- ب - 17 مَارِسَ مِنْ كُلِّ عَامٍ
- ت - 18 مَارِسَ مِنْ كُلِّ عَامٍ

14. الْمُنْظَمَةُ الَّتِي إِعْتَمَدَتْ الْيَوْمَ الْعَالَمِيِّ لِإِعَادَةِ التَّدْوِيرِ :

- أ - وَزَارَةُ الصِّحَّةِ
- ب - الْيُونَيْسْكَو
- ت - وَزَارَةُ الطَّاقَةِ

15. يَقْصِدُ بِإِعَادَةِ التَّدْوِيرِ :

- أ - اسْتِخْدَامُ الْأَشْيَاءِ الْمُسْتَعْمَلَةِ سَابِقًا فِي تَصْمِيمِ أَعْمَالٍ جَدِيدَةٍ وَمُفِيدَةٍ
- ب - الْمَكَانُ الْمَخْصَصُ لِجَمْعِ النُّفَايَاتِ
- ت - الْمَوَارِدُ الطَّبِيعِيَّةُ وَهِيَ الْمَرْكَبَاتُ الطَّبِيعِيَّةُ الْمَوْجُودَةُ فِي الْبَيْئَةِ

نموذج تدريبي لامتحان الدراسات الاجتماعية لصف الثالث – الفصل الدراسي الثاني 2024/2023

25 درجة

السؤال الرابع

اقرأ النص الآتي بعنوان " صحراء بلادي"، ثم أجب عن الأسئلة التي تليه:



تُغَطِّي الصَّحْرَاءُ كُنُوبَانَهَا الرَّمْلِيَّةَ الْمَتَمَوِّجَةَ بِفَعْلِ الرِّيَّاحِ الْمُسْتَمِرَّةِ الْمَسَاحَةِ الْكُبْرَى مِنْ دَوْلَةِ الْإِمَارَاتِ ، وَتَعْرَفُ بِأَنَّهَا أَرْضٌ جَافَةٌ وَقَلِيَّةُ الْمَطَرِ وَتَنْتَشِرُ فِي هَذِهِ الصَّحْرَاءِ ، الشَّاسِعَةُ وَاحَاتٌ تَوَافِرُ فِيهَا الْمِيَاهُ ، وَتَكْتَنِرُ فِيهَا زِرَاعَةُ النَّخِيلِ ، وَبَعْضَ الْفَوَاكِهِ ، كَمَا هُوَ الْحَالُ فِي الْعَيْنِ ، وَلِيوَا وَلِلْأَرَاضِي الصَّحْرَاوِيَّةِ أَهْمِيَّةٌ إِقْتِسَادِيَّةٌ كَبِيرَةٌ لِدَوْلَةِ الْإِمَارَاتِ إِذْ تَنْتَشِرُ فِيهَا الْكَثِيرُ مِنْ حُقُولِ النَّفْطِ وَالْعَازِ الطَّبِيعِيِّ ، كَمَا تَكْتَنِرُ فِيهَا تَرْبِيَةُ الْإِبِلِ وَالْأَغْنَامِ بِالإِضَافَةِ إِلَى زِرَاعَةِ أَشْجَارِ النَّخِيلِ فِي الْوَاحَاتِ الَّتِي تَصْدُرُ لِلْعَالَمِ أَنْوَاعًا لَذِيذَةً مِنَ التَّمُورِ فِي مَوْسِمِ الْحَصَادِ مِنْ كُلِّ عَامٍ . وَلَهَا أَيْضًا أَهْمِيَّةٌ سِيَّاحِيَّةٌ ، فَعَلَى كُنُوبَانِهَا الرَّمْلِيَّةِ يَقْضِي أُنْبَاءُ الْإِمَارَاتِ وَالزُّوَّارِ وَالسِّيَّاحِ أَوْقَاتًا مُمْتِعَةً ، يُمَارِسُونَ فِيهَا أَنْشِطَةَ رِيَّاضِيَّةً وَتَرْفِيهِيَّةً مُتَنَوِّعَةً . كَسَبَاقَاتِ الْهَجْنِ الْأَصِيلَةِ ، . وَالتَّرْحُلُقِ عَلَى الرَّمَالِ ، وَفِيَادَةِ السِّيَّارَاتِ وَالدَّرَاجَاتِ عَلَى الْكُنُوبَانِ الرَّمْلِيَّةِ ، كَمَا يَحْدُثُ فِي مَنَاطِقِ (تَلُّ مُرْعَبٌ) فِي وَاحَةِ لِيوَا . كَمَا يُعْدُّهَا السِّيَّاحُ مَقْصِدًا تَرْفِيهِيًّا ، إِذْ تَجْذِبُهُمْ رِحَالَتُ السَّقَّارِيِّ ، وَرُكُوبُ الْمَنَاطِيدِ ، الَّتِي يُشَاهِدُونَ فِيهَا الصَّحْرَاءَ مِنْ إِرْتِفَاعَاتٍ عَالِيَةٍ ، يَتَعَلَّقُ فِيهَا الْإِنْسَانُ كَطَائِرٍ صَغِيرٍ بَيْنَ السَّمَاءِ الزَّرْقَاءِ ، وَالرَّمَالِ الذَّهَبِيَّةِ.

ارسم دائرة حول الإجابة الصحيحة لكل مما يلي:

25

16. ما الفكرة الرئيسية للنص:

- أ - الصحراء في بلادي
- ب - الجبال في بلادي
- ت - الشهور في بلادي

نموذج تدريبي لامتحان الدراسات الاجتماعية للصف الثالث – الفصل الدراسي الثاني 2024/2023

17. مَا الْمَقْصُودُ بِالصَّحْرَاءِ :

أ - أَرْضٌ جَافَةٌ قَلِيَّةُ الْمَطَرِ

ب - أَرْضٌ مُرْتَفَعَةٌ وَلَهَا قِمَّةٌ

ت - أَرْضٌ مُنْبَسِطَةٌ قَلِيلَةُ الْإِرْتِفَاعِ

18. أَكْثَرُ مَعْلَمٍ طَبِيعِيٍّ مِسَاحَةٍ إِنْتَشَرَ فِي الْإِمَارَاتِ:

أ - الْجِبَالُ

ب - السُّهُولُ

ت - الصَّحْرَاءُ

19. تُصَدِرُ الْوَاحَاتُ لِلْعَالَمِ فِي كُلِّ عَامٍ :

أ - الْمَوْزُ

ب - النَّمُورُ

ت - السِّيَّارَاتُ

20. مَنطَقةٌ فِي لِيوَا تَكْثُرُ فِيهَا الْفَعَالِيَّاتُ :

أ - الدِّيدُ

ب - تَلُّ مُرْعَبُ

ت - الْفُجَيْرَةُ

نموذج تدريبي لامتحان الدراسات الاجتماعية للصف الثالث – الفصل الدراسي الثاني 2024/2023

دليل الإجابة Answer Guidelines

الإجابة Answer	رقم السؤال Item
أ	1
ب	2
أ	3
ت	4
أ	5
ت	6
أ	7
أ	8
ب	9
ب	10
أ	11
أ	12
ت	13
ب	14
أ	15
أ	16
أ	17
ت	18
ب	19
ب	20