

تم تحميل هذا الملف من موقع المناهج الإماراتية



أسئلة اختبار بسيط تدريبي

موقع المناهج ← المناهج الإماراتية ← الصف الثالث ← علوم ← الفصل الأول ← اختبارات ← الملف

تاريخ إضافة الملف على موقع المناهج: 2024-11-17 22:12:25

ملفات اكتب للمعلم اكتب للطالب | اختبارات الكترونية | اختبارات | حلول | عروض بوربوينت | أوراق عمل
منهج انجليزي | ملخصات وتقارير | مذكرات وبنوك | الامتحان النهائي للمدرس

المزيد من مادة
علوم:

التواصل الاجتماعي بحسب الصف الثالث



صفحة المناهج
الإماراتية على
فيسبوك

الرياضيات

اللغة الانجليزية

اللغة العربية

التربية الاسلامية

المواد على تلغرام

المزيد من الملفات بحسب الصف الثالث والمادة علوم في الفصل الأول

حل أسئلة مراجعة نهائية منهج انسابير

1

حل تجميعة صفحات الكتاب وفق الهيكل الوزاري منهج انسابير

2

أسئلة مراجعة نهائية منهج انسابير

3

أسئلة الامتحان النهائي منهج انسابير

4

تجميعة صفحات الكتاب وفق الهيكل الوزاري منهج بريدج

5

MOCK EXAM TEXTBOOK PICTURES

1- Put an X on the tube ABOVE the pink one



2- Put an X on the tube BELOW the pink one



3. This picture shows a dog in _____



- a Position
- b Motion
- c distance

4. This picture shows what type of motion



- a Straight
- b Back and forth
- c Zig zag

Fill in the words to match the picture
straight, zigzag, back and forth round and round











NAME: _____ GRADE 3/___ DATE

label the picture- push pull



5- This picture shows




- A Magnet
- B Magnetism
- C Magnetic field

6- What is this tool called?



- A Magnet
- B Scale
- C compass

label the picture- wire, battery bulb



6- This object helps us to find _____



- A Position
- B Direction
- C speed