

شكراً لتحميلك هذا الملف من موقع المناهج الإماراتية



مهمة أداء عملي التغيرات الفيزيائية والكيميائية

[موقع المناهج](#) ← [المناهج الإماراتية](#) ← [الصف الثالث](#) ← [علوم](#) ← [الفصل الثالث](#) ← [الملف](#)

تاريخ إضافة الملف على موقع المناهج: 2024-04-29 08:23:54

التواصل الاجتماعي بحسب الصف الثالث



اضغط هنا للحصول على جميع روابط "الصف الثالث"

روابط مواد الصف الثالث على تلغرام

[الرياضيات](#)

[اللغة الانجليزية](#)

[اللغة العربية](#)

[التربية الاسلامية](#)

المزيد من الملفات بحسب الصف الثالث والمادة علوم في الفصل الثالث

[أوراق عمل الدرسين الثاني والثالث التغيرات الفيزيائية والتغيرات الكيميائية من الوحدة الثامنة](#)

1

[كتاب الطالب Unit 2 الوحدة الثانية](#)

2

[التوزيع الزمني للخطة الفصلية للمقرر](#)

3

[أسئلة الامتحان النهائي الورقي بريدج](#)

4

[حل مراجعة الوحدة الثامنة التغيرات في المادة وفق الهيكل](#)

5

المزيد من الملفات بحسب الصف الثالث والمادة علوم في الفصل الثالث



[الوزاري اخترا الإجابة](#)

مجمع زايد التعليمي - المنزلي ZAYED EDUCATION COMPLEX - AJMAN		  مؤسسة الإمارات للتعليم المدرسي EMIRATES SCHOOLS ESTABLISHMENT		 مؤسسة الإمارات للتعليم المدرسي الفرع المدرسي الأول	
20	الدرجة النهائية	مهمة أداء عملي 1 : التغيرات الفيزيائية و الكيميائية		الاسم
	توقيع المعلم			الصف
	الملاحظات			الثالث التأسيسي /

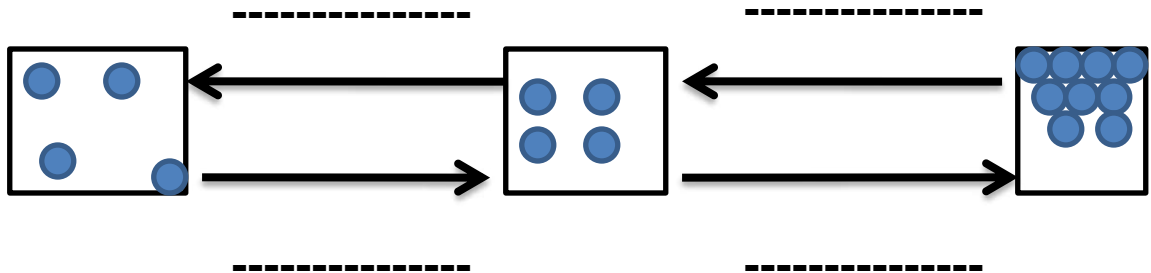
السؤال الأول : صنف التغيرات التالية حسب نوعها في الجدول التالي (8 درجات)

1- قص الورق 2 - هضم الطعام 3- تشكيل الزجاج 4 - حرق الخشب 5 - طهي الطعام 6- ذوبان السكر بالماء 7 - صدأ الحديد 8- ذوبان المعادن	
التغيرات الفيزيائية	التغيرات الكيميائية
..... و و
..... و و

السؤال الثاني : أكمل المصور التالي بالكلمات التالية (التبخر - التجمد - التكاثر - الانصهار) (8 درجات)



السؤال الثالث : أكمل المصور التالي بالكلمات التالية
(التبخر - التجمد - التكاثر - الانصهار) (4 درجات)



	الدرجة النهائية	مهمة أداء عملي 2 : التغيرات الفيزيائية و الكيميائية	الاسم
10	توقيع المعلم		الصف	الثالث التأسيسي /
	الملاحظات			

السؤال الأول : طابق المفردات التالية بما يناسبها من عبارات :

المفردة	العبارات
() التغير الكيميائي	1- هو تغير في شكل المادة
() التغير الفيزيائي	2- هو أحد أنواع المخاليط
() الخليط	3- هو التغير الذي ينتج عنه أنواع مختلفة من المادة
() المحلول	4- هو مزيج لأنواع مختلفة من المواد

السؤال الثاني : أكتب (ف) إذا كان تغير فيزيائي ، أو (ك) إذا كان تغير كيميائي تحت كل صورة :