

تم تحميل هذا الملف من موقع المناهج الإماراتية



أوراق عمل درس Lifecycles Animal دورة حياة الحيوان متبوعة بالإجابات منهج انسباير

[موقع المناهج](#) ← [المناهج الإماراتية](#) ← [الصف الثالث](#) ← [علوم](#) ← [الفصل الثالث](#) ← [الملف](#)

تاريخ إضافة الملف على موقع المناهج: 08:12:49 2024-05-13

التواصل الاجتماعي بحسب الصف الثالث



[اضغط هنا للحصول على جميع روابط "الصف الثالث"](#)

روابط مواد الصف الثالث على تلغرام

[الرياضيات](#)

[اللغة الانجليزية](#)

[اللغة العربية](#)

[التربية الاسلامية](#)

المزيد من الملفات بحسب الصف الثالث والمادة علوم في الفصل الثالث

[أوراق عمل التقييم الأول اختيار من متعدد](#)

1

[مراجعة Review Traits Plant خصائص النبات](#)

2

[حل مراجعة Review Traits Plant خصائص النبات](#)

3

[حل مهمة أداء عملي التغيرات الفيزيائية والكيميائية](#)

4

[مهمة أداء عملي التغيرات الفيزيائية والكيميائية](#)

5




Choose the correct answer.

1. Which is an insect ?

- a) Spider  b) Butterfly  c) Snake 

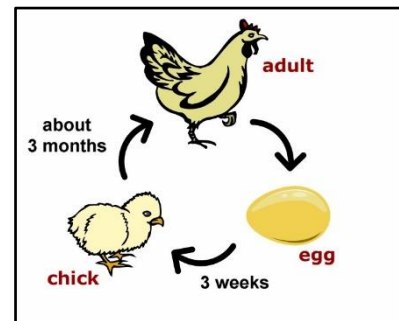
2. Frog is an _____.

- a) Mammal
b) Reptile
c) Amphibian




3. Which is not a stage in animal lifecycle ?

- a) Reproduction
b) Pollination
c) Growth



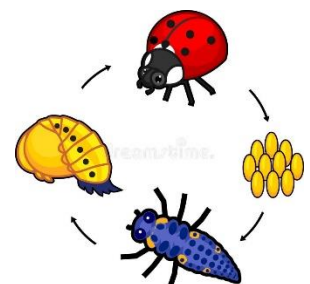
4. To make more of animal's own kind is called _____.

- a) Adult
b) Metamorphosis
c) Reproduction




5. Metamorphosis means

- a) Animal changes shape during its life cycle
b) young animal changes to adult animal
c) Animal makes young ones



6. Which is a mammal ?



Fill in the blanks.

Reptiles Caterpillar Mammal Eggs Metamorphosis

7. Butterfly and frog shows _____ during their lifecycles.

8. Turtle and lizard are _____.

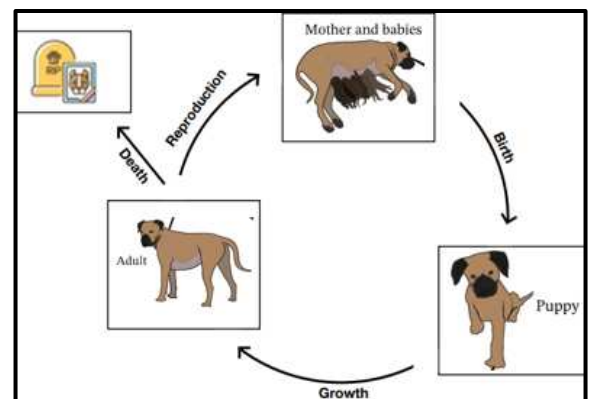
9. Fish and birds start their lifecycle with _____.

10. The larva of butterfly is called _____.

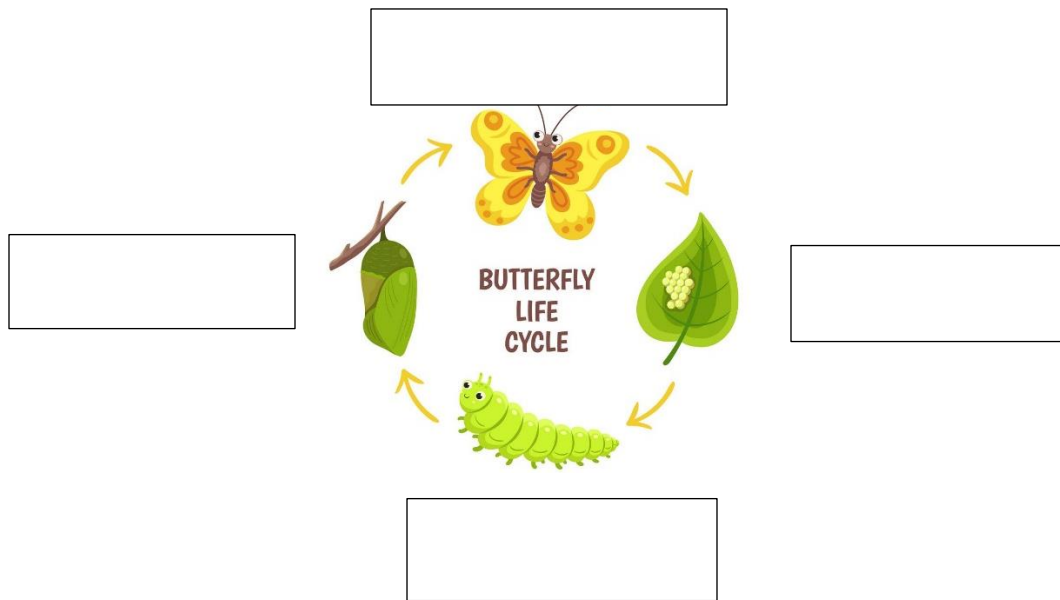
11. _____ 's life cycle does not start with eggs.

Answer the following.

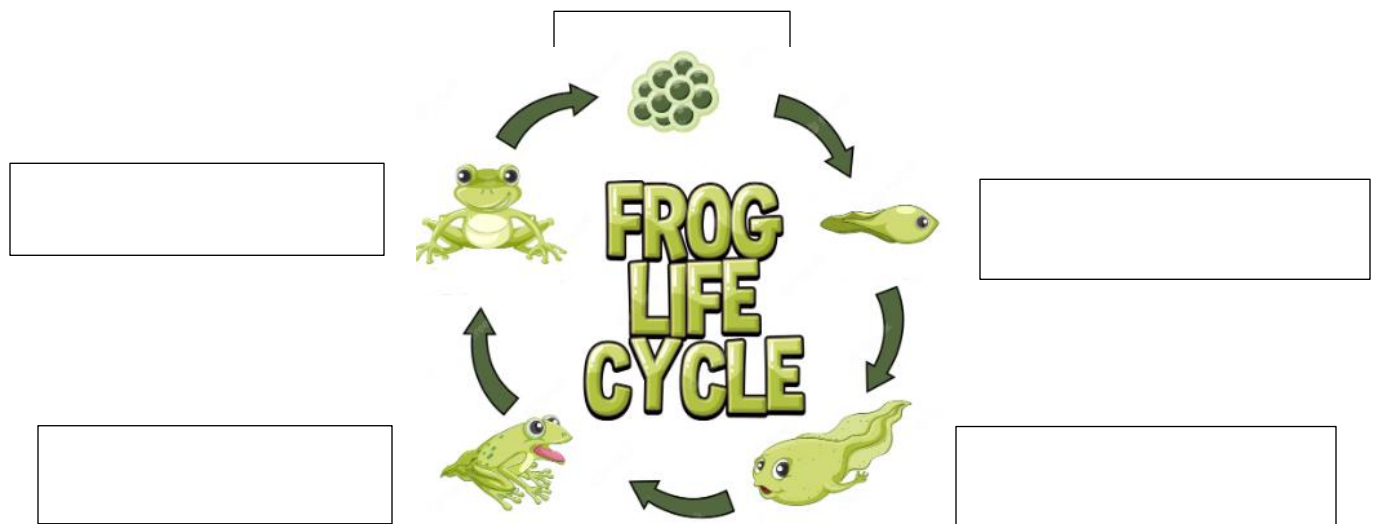
12. Write the stages of Animal Lifecycle



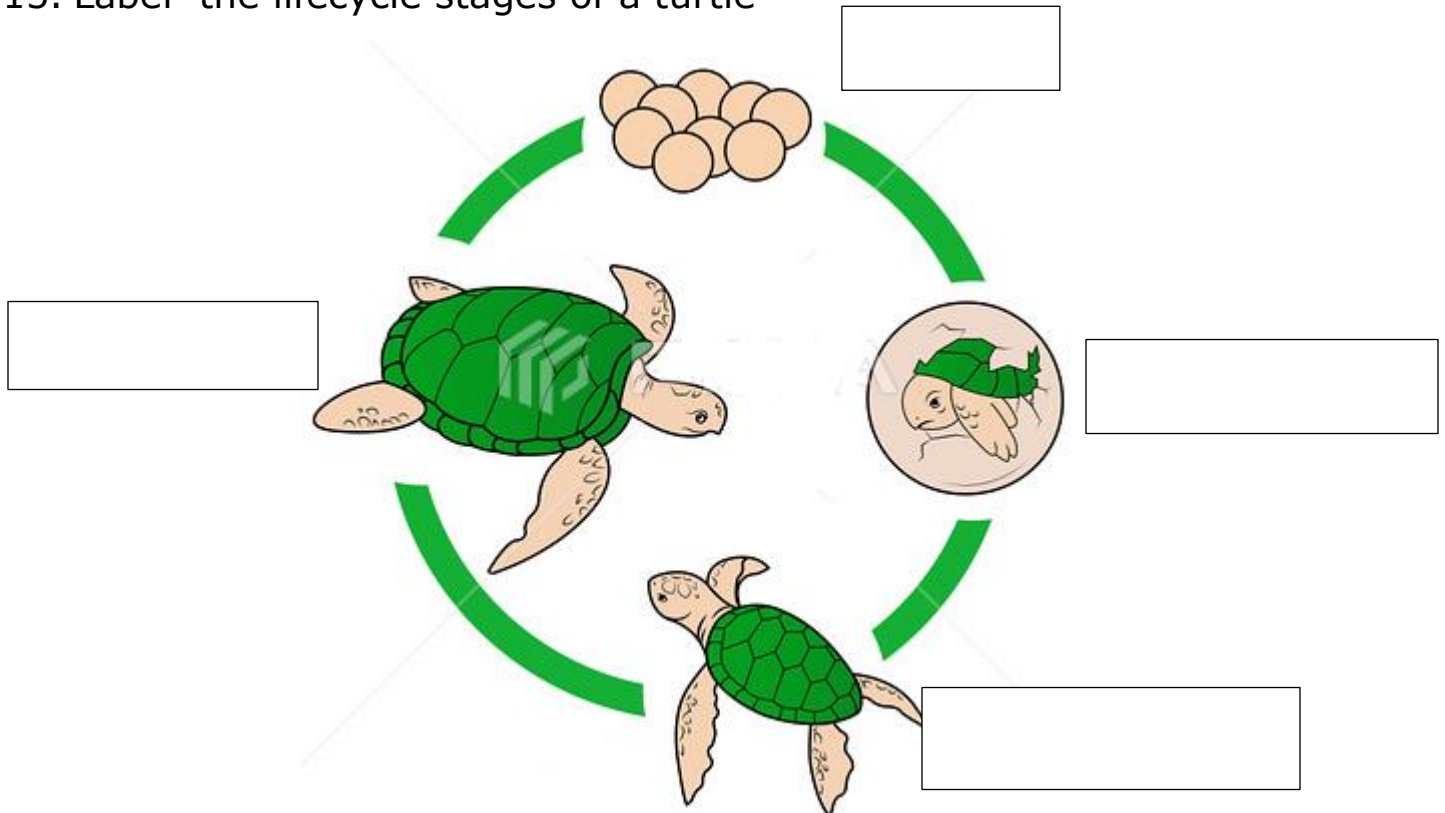
13. Label the lifecycle stages of a butterfly



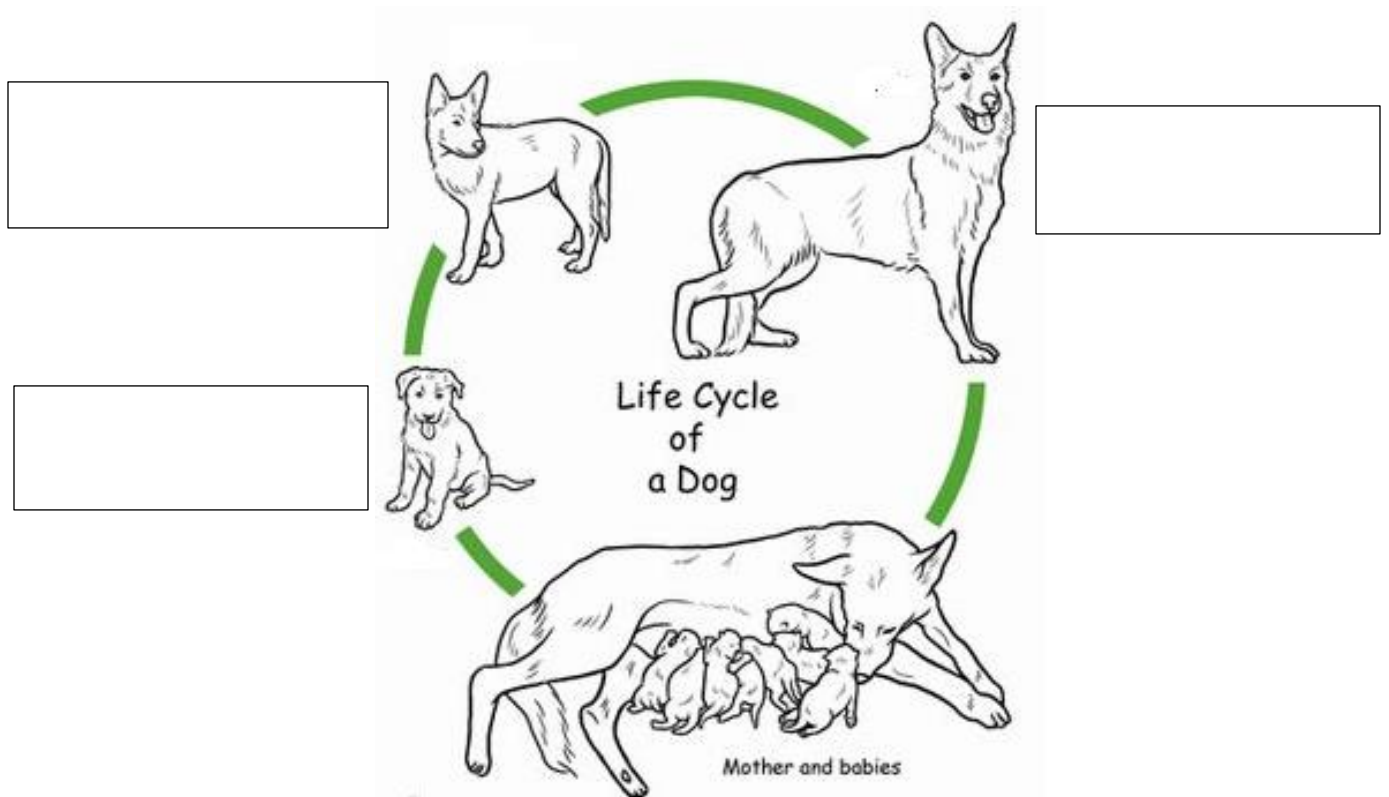
14. Label the lifecycle stages of a frog



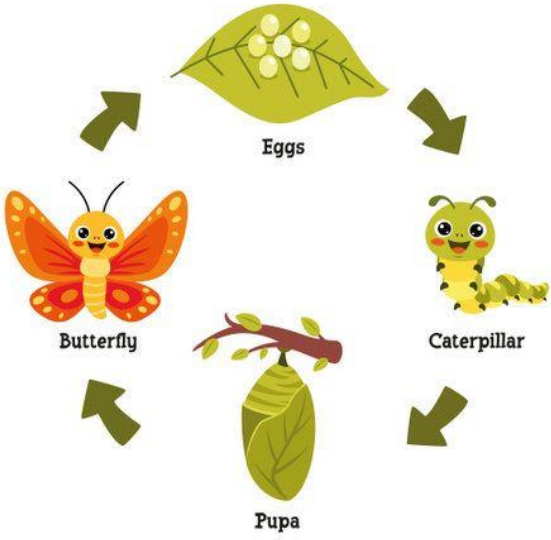
15. Label the lifecycle stages of a turtle

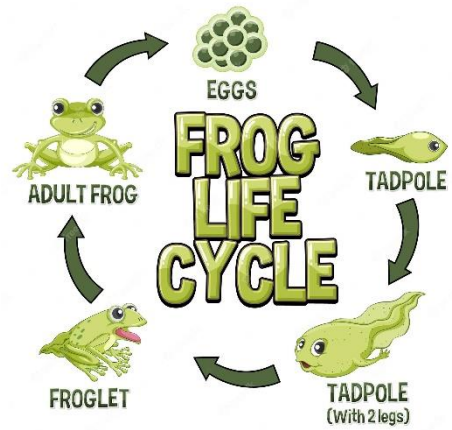


16. Label the lifecycle stages of a mammal



Answer key

1	a	14
2	c	
3	b	
4	c	
5	a	
6	b	
7	Metamorphosis	
8	Reptiles	
9	Eggs	
10	Caterpillar	
11	mammal	15
12	1. Birth 2. Growth 3. Reproduction 4. Death	
13		
		16



Life Cycle of a Turtle

