

شكراً لتحميلك هذا الملف من موقع المناهج الإماراتية



أوراق عمل درس الحركة Motion منهج انسابير

موقع المناهج ← المناهج الإماراتية ← الصف الثالث ← علوم ← الفصل الأول ← الملف

التواصل الاجتماعي بحسب الصف الثالث



روابط مواد الصف الثالث على تلغرام

[الرياضيات](#)

[اللغة الانجليزية](#)

[اللغة العربية](#)

[التربية الاسلامية](#)

المزيد من الملفات بحسب الصف الثالث والمادة علوم في الفصل الأول

ورقة عمل درس الطريقة العلمية	1
ملخص الدرس الثاني النباتات وأجزاؤها من الوحدة الثانية	2
ملخص الدرس الأول الكائنات الحية واحتياجاتها من الوحدة الثانية	3
حل أسئلة اختبار التقويم الأول	4
أسئلة اختبار التقويم الأول	5



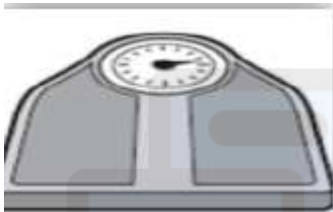
Inspire Science Grade 3 (Motion)

ST name:

1. Words such as above and below describe an object's

- a. Speed b. Position

2. Which object can be used to measure distance?



a. b.



c.



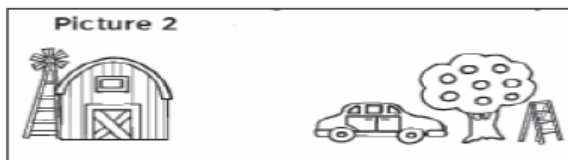
d.



3. A bus traveled 35 kilometers in one hour. Which is the speed of the bus?

- a. 70 kilometers per hour
 b. 35 kilometers per hour
 c. 25 kilometers per hour
 d. 10 kilometers per hour

4. Which is the new position of the car in picture 2?



- a. near the barn
 b. far from the tree
 c. near the tree
 d. in the barn

5. is the space between two objects and can be measured using a tape measure.

- a. Distance
 b. Direction

6. An object is in motion if its location

- a. stays constant
- b. changes

7. Motion is the process of changing

8. Which of following is the unit of distance?

- A. Millimeter
- B. Centimeter
- C. Meters
- D. All of the above

9. Identify the following type of motion:



- A. Zig Zag Motion
- B. Back and forth
- C. Circular Motion


تم تحميل هذا الملف من
موقع المناهج الإماراتية

alManahj.com/ae

10. Identify the type of motion?



- A. Zig Zag Motion
- B. Back and forth
- C. Circular Motion



تم تحميل هذا الملف من
موقع المناهج الإماراتية

alManahj.com/ae