

تم تحميل هذا الملف من موقع المناهج الإماراتية



أسئلة الامتحان النهائي تمكين منهج بريدج

موقع المناهج ← المناهج الإماراتية ← الصف الثالث ← علوم ← الفصل الأول ← ملفات متنوعة ← الملف

تاريخ إضافة الملف على موقع المناهج: 12:10:08 2024-11-09

ملفات اكتب للمعلم اكتب للطالب الاختبارات الكترونية | اختبارات | حلول | عروض بوربوينت | أوراق عمل
منهج انجليزي | ملخصات وتقارير | مذكرات وبنوك | الامتحان النهائي للمدرس

المزيد من مادة
علوم:

التواصل الاجتماعي بحسب الصف الثالث



صفحة المناهج
الإماراتية على
فيسبوك

الرياضيات

اللغة الانجليزية

اللغة العربية

التربية الاسلامية

المواد على تلغرام

المزيد من الملفات بحسب الصف الثالث والمادة علوم في الفصل الأول

حل مراجعة امتحانية وفق الهيكل الوزاري منهج انسابير

1

مراجعة امتحانية وفق الهيكل الوزاري منهج انسابير

2

أسئلة الامتحان النهائي المسار العام منهج انسابير

3

أسئلة مراجعة وفق الهيكل الوزاري منهج بريدج

4

حل أسئلة مراجعة وفق الهيكل الوزاري منهج بريدج

5



Grade

3

SN:0A9773009337317246C422773X1138D202302060826GY

SN:0A9773009337317246C422773X1138D202302060826GY

اختبار تمكين للفصل الدراسي الأول 2023/2022

End of Term 1 Tamkeen Exam 2022/2023

		اسم الطالب / Student Name /
		المدرسة / School
		الصف / Class
العلوم Science		المادة / Subject
Bridge		

SN:0A9773009337317246C422773X1138D202302060826GY

SN:0A9773009337317246C422773X1138D202302060826GY

		اسم المعلم / Teacher Name
		التوقيع / sign

Grade		الدرجة
	100	

- يحظر تصوير أو تداول الورقة الامتحانية قبل أو أثناء أو بعد الامتحان من خلال البريد الالكتروني أو وسائل التواصل الاجتماعي أو أي وسيلة أخرى ومن يخالف ذلك سيتخذ في حقه الإجراءات القانونية المتبعة.


SN:0A9773009337317246C422773X1138D202302060826GY - على إدارات المدارس ولجان الامتحانات ومراكز التقدير مراعاة ذلك ورفض أي مخالفات والعمل على اتخاذ الإجراءات اللازمة.

- It is prohibited to photocopy or circulate the exam paper before / during and after the exam through e-mail, social media or any other means; and whoever violates this will be subject to the followed legal proceedings.

- School Administrations, Exam Committees and Marking Centers shall take this into account, monitor violations and take necessary measures.


G03	Science- Bridge	العلوم - بريدج	2023-2022
-----	-----------------	----------------	-----------


Circle the letter corresponding to the correct answer.	ضع دائرة حول رمز الإجابة الصحيحة.
--	-----------------------------------

Question	1	1	السؤال
Which of the following animals is carrying thorns to protect itself?			أي من الحيوانات التالية يحمل الأشواك لحماية نفسه؟
			
A		1	
B		2	
C		3	


Question	2	2	السؤال
Which image represents living things ?			أي صورة مما يلي تمثل كائنات حية ؟
			
A		1	
B		2	
C		3	


G03	Science- Bridge	العلوم - بريدج	2023-2022
-----	-----------------	----------------	-----------

Question	3	3	السؤال
Which of the following images shows plant's leaves ?			أي من الصور التالية تدل على أوراق النبات؟
			
A		1	
B		2	
C		3	




Question	4	4	السؤال
Which of the following performs the process of photosynthesis in the plant?			أي مما يلي يقوم بعملية البناء الضوئي في النبات؟
			
A		1	
B		2	
C		3	




G03	Science- Bridge	العلوم - بريدج	2023-2022
-----	-----------------	----------------	-----------

Question	5	5	السؤال
Which of the following plants is classified as a flowering plant?			أي من النباتات التالية تُصنف كنبات مزهر؟
			
A		1	
B		2	
C		3	




Question	6	6	السؤال
Which of the following animals breathes through gills?			أي من الحيوانات التالية يتنفس بالخياشيم؟
			
A		1	
B		2	
C		3	

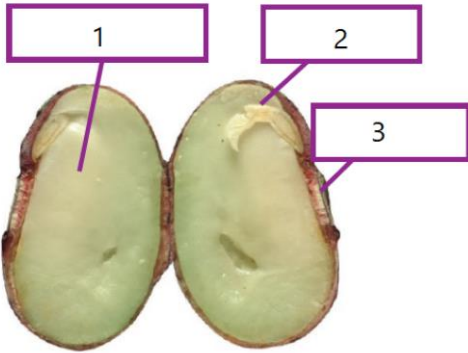
G03	Science- Bridge	العلوم - بريدج	2023-2022
-----	-----------------	----------------	-----------

Question	7	7	السؤال
Which of the following animals has sharp teeth that help to get food?			أي من الحيوانات التالية لديه أسناناً حادة تساعد للحصول على غذائه؟
<div style="display: flex; justify-content: space-around; align-items: center;"> <div style="text-align: center;">  <p>1</p> </div> <div style="text-align: center;">  <p>2</p> </div> <div style="text-align: center;">  <p>3</p> </div> </div>			
A		1	
B		2	
C		3	

Question	8	8	السؤال
Which of the following animals belongs to the invertebrates ?			أي من الحيوانات التالية ينتمي الى اللافقاريات ؟
<div style="display: flex; justify-content: space-around; align-items: center;"> <div style="text-align: center;">  <p>1</p> </div> <div style="text-align: center;">  <p>2</p> </div> <div style="text-align: center;">  <p>3</p> </div> </div>			
A		1	
B		2	
C		3	

G03	Science- Bridge	العلوم - بريدج	2023-2022
-----	-----------------	----------------	-----------

Question	9	9	السؤال
Which of the following organisms is classified as amphibians ?			أي من الكائنات التالية يُصنف من البرمائيات؟
<div style="display: flex; justify-content: space-around; align-items: center;"> <div style="text-align: center;">  <p>1</p> </div> <div style="text-align: center;">  <p>2</p> </div> <div style="text-align: center;">  <p>3</p> </div> </div>			
A		1	
B		2	
C		3	

Question	10	10	السؤال
Which of the following numbers indicates the embryo in the seed ?			أي من الأرقام التالية يدل على الجنين في البذرة؟
			
A		1	
B		2	
C		3	

G03	Science- Bridge	العلوم - بريدج	2023-2022
-----	-----------------	----------------	-----------

Question	11	11	السؤال
Which of the following plants has the life cycle shown in the figure below?			أي من النباتات التالية له دورة الحياة المُوضحة بالشكل أدناه؟

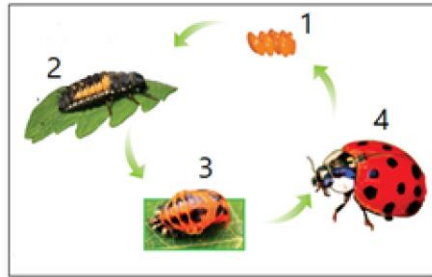


A	Cherry	الكرز
B	Fern	السرخس
C	Pine	الصنوبر

SN:0A9773009337317246C422773X1138D202302060826GY

SN:0A9773009337317246C422773X1138D202302060826GY

Question	12	12	السؤال
Which of the following numbers refers to the formation of the pupa in the life cycle of the ladybird?			أي من الأرقام التالية يُشير إلى تكون الشرنقة في دورة حياة الدعسوقة؟



A	1
B	2
C	3

SN:0A9773009337317246C422773X1138D202302060826GY

SN:0A9773009337317246C422773X1138D202302060826GY

G03	Science- Bridge	العلوم - بريدج	2023-2022
-----	-----------------	----------------	-----------

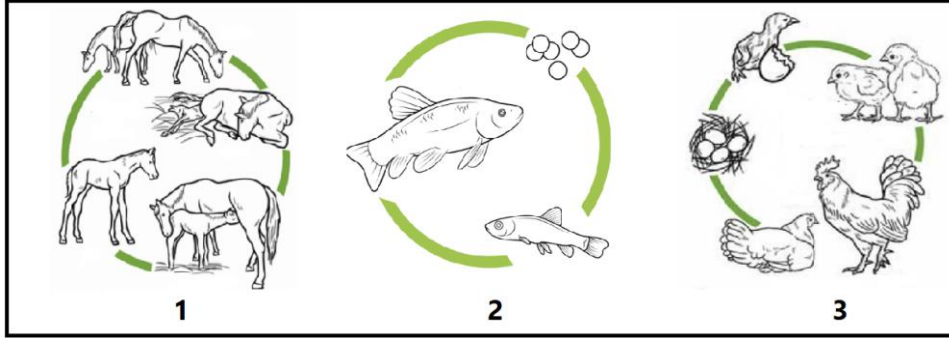
Question	13	13	السؤال
----------	----	----	--------

Which of the following cycles shows the correct life cycle of the **mammals**?

أي دورة مما يلي تُوضح دورة حياة الثدييات الصحيحة؟

SN:0A9773009337317246C422773X1138D202302060826GY

SN:0A9773009337317246C422773X1138D202302060826GY



A		1
B		2
C		3

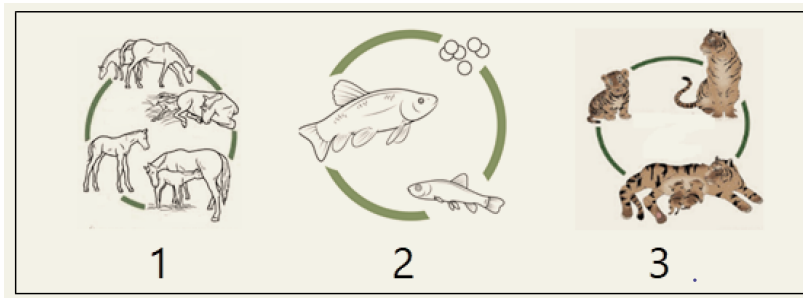
SN:0A9773009337317246C422773X1138D202302060826GY

SN:0A9773009337317246C422773X1138D202302060826GY

Question	14	14	السؤال
----------	----	----	--------

Which cycle of the following is similar to that of a **frog**?

أي دورة مما يلي تُشبهه دورة حياة الضفدع؟












A		1
B		2
C		3

SN:0A9773009337317246C422773X1138D202302060826GY

SN:0A9773009337317246C422773X1138D202302060826GY

G03	Science- Bridge	العلوم - بريدج	2023-2022
-----	-----------------	----------------	-----------

Question	15	15	السؤال			
Which of the following is considered as a non-genetic trait ?		أي مما يلي يُعتبر صفة غير وراثية ؟				
<table border="1" style="width: 100%;"> <tr> <td style="text-align: center;"> شحمة الأذن Earlobe  1 </td> <td style="text-align: center;"> السباحة Swimming  2 </td> <td style="text-align: center;"> لون العين Eye color  3 </td> </tr> </table>				شحمة الأذن Earlobe  1	السباحة Swimming  2	لون العين Eye color  3
شحمة الأذن Earlobe  1	السباحة Swimming  2	لون العين Eye color  3				
A		1				
B		2				
C		3				

SN:0A9773009337317246C422773X1138D202302060826GY

SN:0A9773009337317246C422773X1138D202302060826GY

Question	16	16	السؤال			
Which of the following is the correct food chain?		أي مما يلي يُمثل السلسلة الغذائية الصحيحة ؟				
<table border="1" style="width: 100%;"> <tr> <td style="text-align: center;"> ثعبان ← عشب ← فأر Snake → Grass → Mouse 1 </td> <td style="text-align: center;"> فأر ← عشب ← ثعبان Mouse → Grass → Snake 2 </td> <td style="text-align: center;"> عشب ← فأر ← ثعبان Grass → Mouse → Snake 3 </td> </tr> </table>				ثعبان ← عشب ← فأر Snake → Grass → Mouse 1	فأر ← عشب ← ثعبان Mouse → Grass → Snake 2	عشب ← فأر ← ثعبان Grass → Mouse → Snake 3
ثعبان ← عشب ← فأر Snake → Grass → Mouse 1	فأر ← عشب ← ثعبان Mouse → Grass → Snake 2	عشب ← فأر ← ثعبان Grass → Mouse → Snake 3				
A		1				
B		2				
C		3				

SN:0A9773009337317246C422773X1138D202302060826GY

SN:0A9773009337317246C422773X1138D202302060826GY

G03	Science- Bridge	العلوم - بريدج	2023-2022
-----	-----------------	----------------	-----------

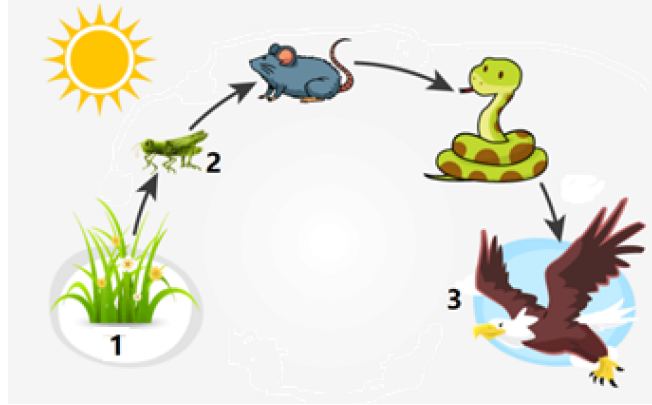
Question	17	17	السؤال
----------	----	----	--------

Which number in the image expresses the Latest consumer?

أي رقم من الصورة يُعبر عن آخر المستهلكات؟

SN:0A9773009337317246C422773X1138D202302060826GY

SN:0A9773009337317246C422773X1138D202302060826GY



A		1
B		2
C		3


SN:0A9773009337317246C422773X1138D202302060826GY

SN:0A9773009337317246C422773X1138D202302060826GY

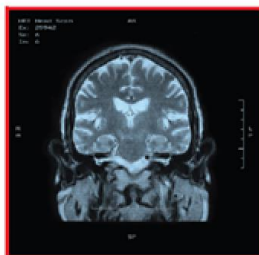
Question	18	18	السؤال
----------	----	----	--------

Which image expresses communication technology?

ما هي الصورة التي تُعبر عن تكنولوجيا الاتصالات؟



1



2



3


A		1
B		2
C		3

SN:0A9773009337317246C422773X1138D202302060826GY

SN:0A9773009337317246C422773X1138D202302060826GY

G03	Science- Bridge	العلوم - بريدج	2023-2022
------------	------------------------	-----------------------	------------------

Question	19	19	السؤال
What is the first step in the design process?			ما هي الخطوة الأولى في عملية التصميم؟
A	Identify the problem		تحديد المشكلة
B	Patent		براءة الاختراع
C	Making the model		إنشاء النموذج

Question	20	20	السؤال
Which of the following reflects environment polluting energy?			أي مما يلي يُعبر عن الطاقة المُلوثة للبيئة؟
 <p style="text-align: center;">1 2 3</p>			
A		1	
B		2	
C		3	

G03	Science- Bridge	العلوم - بريدج	2023-2022
-----	-----------------	----------------	-----------

Question	21	21	السؤال
<p align="center">***** BONUS *****</p> <p>Which of the following animals will produce bigger number of offspring?</p>			<p align="center">***** BONUS *****</p> <p>أي من الحيوانات التالية يُنتج عدداً أكثر من الصغار؟</p>



A		1
B		2
C		3

Question	22	22	السؤال
<p align="center">***** BONUS *****</p> <p>Which of the following plants needs a smaller space to grow?</p>			<p align="center">***** BONUS *****</p> <p>أي من النباتات التالية يحتاج إلى مساحة أقل للنمو؟</p>



A		1
B		2
C		3

G03	Science- Bridge	العلوم - بريدج	2023-2022
-----	-----------------	----------------	-----------

Question	23	23	السؤال
***** BONUS *****			***** BONUS *****
Which of the following animals belongs to the arthropods?			أي من الحيوانات التالية ينتمي الى الحيوانات المفصليّة؟



A		1
B		2
C		3

SN:0A9773009337317246C422773X1138D202302060826GY

SN:0A9773009337317246C422773X1138D202302060826GY

Question	24	24	السؤال
***** BONUS *****			***** BONUS *****
Which of the following refers to a structure that is not found on a conifer plant?			أي مما يلي يُشير إلى تركيب لا يتواجد في نبات صنوبري؟




A		1
B		2
C		3

SN:0A9773009337317246C422773X1138D202302060826GY

SN:0A9773009337317246C422773X1138D202302060826GY

G03	Science- Bridge	العلوم - بريدج	2023-2022
-----	-----------------	----------------	-----------

Question	25	25	السؤال
<p>SN:0A9773009337317246C422773X1138D202302060826GY</p> <p>***** BONUS *****</p> <p>Features that make the different organisms shown below unique are called</p>		<p>SN:0A9773009337317246C422773X1138D202302060826GY</p> <p>***** BONUS *****</p> <p>الخصائص التي تجعل الكائنات الحية الموضحة أدناه فريدة من نوعها تسمى</p>	
			
A	offspring		النسل
B	traits		السمات الوراثية
C	generation		الجيل

أنتهت الأسئلة