

شكراً لتحميلك هذا الملف من موقع المناهج الإماراتية



ورقة عمل الدرس الأول النظام البيئي في كوكب الأرض

[موقع المناهج](#) ← [المناهج الإماراتية](#) ← [الصف الثالث](#) ← [اجتماعيات](#) ← [الفصل الأول](#) ← [الملف](#)

تاريخ نشر الملف على موقع المناهج: 2023-10-22 09:17:50 | اسم المدرس: سارة منصور

التواصل الاجتماعي بحسب الصف الثالث



روابط مواد الصف الثالث على تلغرام

[الرياضيات](#)

[اللغة الانجليزية](#)

[اللغة العربية](#)

[التربية الاسلامية](#)

المزيد من الملفات بحسب الصف الثالث والمادة اجتماعيات في الفصل الأول

أوراق عمل تدريبات	1
أسئلة الاختبار التشخيصي	2
كتاب الطالب	3
دليل الاختبار الوزاري مع الحل	4
حل اختبار تدريبي وزاري	5

الدرس 1 : النظام البيئي في كوكب الأرض

السؤال الأول : ضع علامة صح أمام العبارة الصحيحة وعلامة خطأ أمام العبارة الخاطئة :

1. ينتج عن الحركة السنوية للأرض تعاقب الليل والنهار . ()
2. مسبار الأمل مشروع إماراتي سيتوجه نحو كوكب زحل . ()
3. تدور الأرض مرتين مرة حول نفسها ومرة حول الشمس . ()
4. الكوكب الأحمر في المجموعة الشمسية هو كوكب زحل . ()
5. كوكب الأرض يعيش عليه الإنسان وشكله شبه كروي ويحيط به الغلاف الجوي . ()
6. مشروع دولة الإمارات على كوكب المريخ هو مسبار الأمل . ()

السؤال الثاني : اكمل الفراغات التالية :

(الشرق - 24 - السنوية - الغرب - الليل والنهار - اليومية - الفصول الأربعة - 365)

- تدور الأرض حول نفسها كل ساعة ويسمى بالحركة..... فينتج عنه
- دوران الأرض حول الشمس من إلى تسمى بالحركة
-وتستغرق مدة دورنها يوماً وينتج عنها

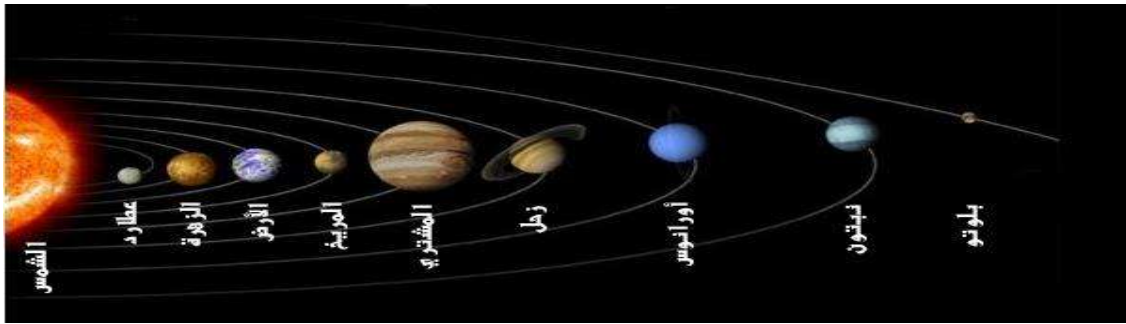
السؤال الثالث : اختر الإجابة الصحيحة :

1. أنا أصغر الكواكب في المجموعة الشمسية (الزهرة - الأرض - بلوتو)
2. سميت بنجم الصبح والمساء ودرجة حرارتي عالية (الزهرة - المريخ - زحل)
3. لوني أحمر بسبب أكسيد الحديد في ترابي (المريخ - الأرض - نبتون)
4. أنا أقرب كوكب في المجموعة الشمسية (المشتري - زحل - عطارد)
5. أنا أكبر واضخم الكواكب (أورانوس - المشتري - بلوتو)
6. أنا لدى 17 قمرا يطلق على بالكوكب الأزرق . (نبتون - الأرض - المريخ)
7. أنا سابع كوكب بعيدا عن الشمس (بلوتو - أورانوس - بلوتو)
8. أنا شكلي كروي ويعيش على سطحي الإنسان . (زحل - الأرض - بلوتو)

السؤال الرابع : صل بين الكواكب وترتيبها في المجموعة الشمسية :

الترتيب	الكواكب
4	المشتري
2	زحل
1	عطارد
5	نبتون
7	المريخ
8	الزهرة
6	أورانوس
9	الأرض
3	بلوتو

السؤال الخامس : اكتب رقم الكوكب من حيث القرب من الشمس :



المريخ	نبتون	عطارد	الأرض	المشتري	الكوكب
					رقمة

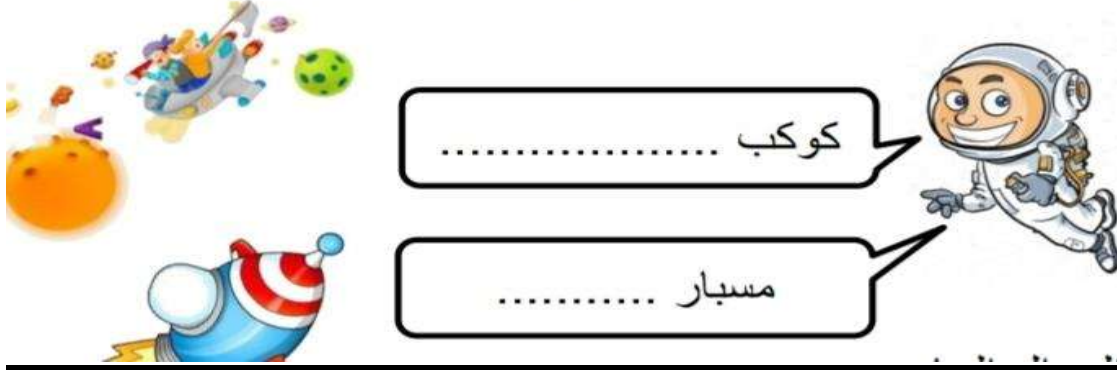
اكمل الفراغات بالكلمات الآتية : (المريخ - شبه كروي - الكائنات الحية - الأرض)

*أنا كوكب شكلي ويعيش على سطحي

..... مشروع مستقبلي على كوكب

السؤال السادس :

ذكر أسم الكواكب لمشروع دولتي الحبية المستقبلي

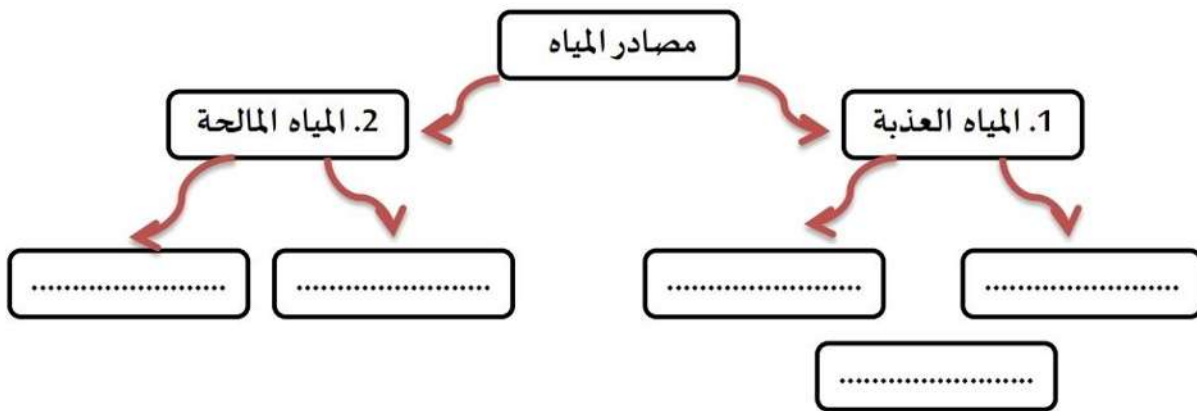


السؤال السابع : ضع علامة صح أو علامة خطأ :


- 1- من مصادر المياه العذبة البحار . ()
- 2- تقع دولة الإمارات في نطاق المناخ الصحراوي الذي يتميز بالحرارة وقلّة الأمطار . ()

السؤال الثامن : أكمل الخريطة الذهنية :

(المياه الجوفية – البحار والمحيطات – البحيرات المالحة – الكتل الجليدية – الأنهار والبحيرات)



السؤال التاسع : من المشكلات التي تعاني منها دولة الإمارات :



السؤال العاشر : أكمل الفراغات التالية :

1- مناخ دولة الإمارات العربية المتحدة هو ويتميز ب

و مما يؤدي إلي حدوث

2-الإجراءات والحلول التي تعتمدها دولة الإمارات لتأمين المياه للسكان :

-
-