

## شكراً لتحميلك هذا الملف من موقع المناهج الإماراتية



## أسئلة الامتحان النهائي الورقي بريدج

[موقع المناهج](#) ⇨ [المناهج الإماراتية](#) ⇨ [الصف الثالث](#) ⇨ [علوم](#) ⇨ [الفصل الأول](#) ⇨ [الملف](#)

تاريخ نشر الملف على موقع المناهج: 07:20:09 2023-11-27

## التواصل الاجتماعي بحسب الصف الثالث



## روابط مواد الصف الثالث على تلغرام

[الرياضيات](#)

[اللغة الانجليزية](#)

[اللغة العربية](#)

[التربية الاسلامية](#)

## المزيد من الملفات بحسب الصف الثالث والمادة علوم في الفصل الأول

|   |   |
|---|---|
| <a href="#">نموذج إجابة تدريبات مراجعة وفق الهيكل الوزاري</a> | 1 |
| <a href="#">مراجعة امتحانية منهج انسابير</a>                  | 2 |
| <a href="#">تدريبات مراجعة وفق الهيكل الوزاري</a>             | 3 |
| <a href="#">تجميعه صفحات وفق الهيكل الوزاري</a>               | 4 |
| <a href="#">مراجعة امتحانية وفق الهيكل الوزاري</a>            | 5 |

ضع دائرة حول رمز الإجابة الصحيحة.

## الجزء 1

## السؤال

1

أي مما يلي لا يمثل أحد المتغيرات التي تؤثر على أماكن عيش حرياء مدغشقر حسب دراسة رانكورثي؟



درجة الحرارة

A

مقدار الأمطار

B

لون الأزهار

C

## السؤال

2

أي من الحروف التالية يمثل حيواناً يتبع عدداً أقل من الصفات؟



A



B



C

A

A

B

B

C

C

## السؤال

9

أي من الحروف التالية يمثل حيواناً ينتمي إلى الحيوانات المفصليات ؟



A

A

B

B

C

C

## السؤال

10

أي مما يلي يتم إنتاجه في التراكيب الذكورية في الزهرة ؟



البويضة

A

الذرة

B

خيوط النجاح

C

## السؤال

7

أي من الحروف التالية يمثل حيواناً يستخدم مخالبه وأسنانه المادة لينتظظ الثمار ؟



A

A

B

B


C

C

## السؤال

8

أي من التراكيب التالية تساعد السمكة على التنفس ؟



الغشاء

A

الغشاء

B


الغشاء

C

السؤال

13

أي مما يلي ليس إنتاج في السلسلة الغذائية أدناه؟



|   |         |
|---|---------|
| A | الشمس   |
| B | البعوضة |
| C | الحمار  |

السؤال

14

أي مما يلي ليس المستهلك في الصورة أدناه؟



|   |   |
|---|---|
| A | 4 |
| B | 1 |
| C | 2 |

السؤال

11

أي مما يلي يوضح تزاوج حبات البذور المسمومة؟



|   |   |
|---|---|
| A | A |
| B | B |
| C | C |

السؤال

12

أي مما يلي **ليس** صفة وراثية تنتقل في الصبغة؟

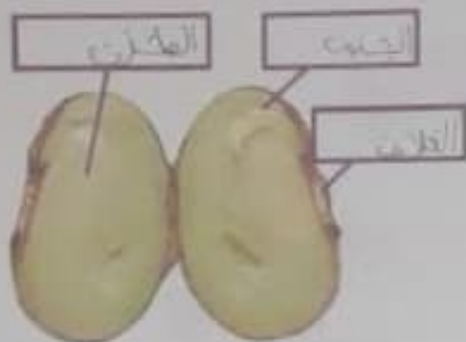


|   |                   |
|---|-------------------|
| A | لون الباز الحمري  |
| B | لون الباز الصفري  |
| C | لون الباز البياضي |

17

السؤال


يمثل الشكل أثناء أجزاء البذرة الثلاثة : الجنين ، الغلاف ، الغذاء المغزون.  
 اكتب اسم الجزء الصحيح في الفراغ المناسب



18

السؤال

يمثل الشكل أثناء دورة حياة نبات الكرز : شجرة صغيرة - نبات البذرة - تلقيح - تكون الشعرة .  
 اكتب اسم المرحلة الصحيح في الفراغ المناسب



15

السؤال

أي العروق التالية يُعبر عن أنظمة النقل ؟



A

A

B

B

C

C

الجزء 2

16

السؤال

من يخط بين نوع الفطريات في العمود الأول والصفة الصحيحة في العمود الثاني

تعيش على اليابسة وفي الماء

الطنبور

تقضي كل حياتها في الماء

البرمائيات

يغطي جسمها الريش

الزواحف

يغطي جسمها الحر اشف

الأسماك

19

السؤال

أكمل الشكل أثناء دورة حياة الضفدع - وضع البيض - خروج السراخف - حيوان كبير - نمو الساقين والذاتين.  
 كتب اسم المرحلة الصحيح في الفراغ المناسب



20

السؤال

أكمل المخطط أثناء خطوات عملية التصميم -  
 املأ الفراغات بأحد الخطوات التالية: ( طرح الفرضيات ، عقد الشراكة ، اختبار التصميم - راجع التصميم )

