


تم تحميل هذا الملف من موقع المناهج الإماراتية



الملف أسئلة اختبار التقييم الأول

موقع المناهج ← المناهج الإماراتية ← الصف الثالث ← علوم ← الفصل الأول

روابط مواقع التواصل الاجتماعي بحسب الصف الثالث



روابط مواد الصف الثالث على تلغرام

[الرياضيات](#)

[اللغة الانجليزية](#)

[اللغة العربية](#)

[التربية الاسلامية](#)

المزيد من الملفات بحسب الصف الثالث والمادة علوم في الفصل الأول

[أوراق عمل مراجعة شاملة](#)

1

[أوراق عمل تقييم ذاتي شاملة وتدريبات](#)

2

[أسئلة الامتحان النهائي بريدج](#)

3

[تجميعة الدروس المطلوبة وفق الهيكل الوزاري](#)

4

[حل أوراق عمل مراجعة منهج انسابير](#)


5



Name: \_\_\_\_\_ تم تحميل هذا الملف من

Grade 3 \_\_\_\_\_


موقع المناهج الإماراتية

alMarjby.com Science Quiz 1 REVIEW 2023-2024

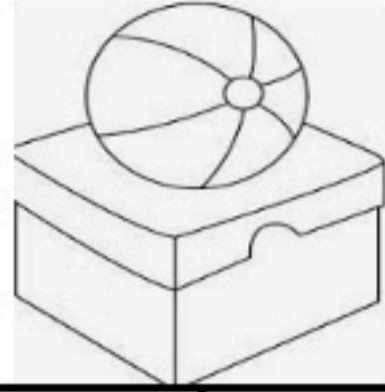
Question 1	2/
Identify this sign:	
A	distance
B	direction
C	position
D	to move in a way

Question 2	1/
Observe which picture shows motion:	
A	
B	

Question 3	1/
Distance means how far to go.	
A	True
B	False

**Question 4****2/***Interpret the position of the ball:*

تم تحميل هذا الملف من  
موقع المناهج الإماراتية  
alManahj.com/ae

**A**

in the box

**B**

under the box

**C**

on the box

**Question 4****1/**

Which symbol will you use to measure how long an object is?

**A**

min

**B**


cm

**C**

l

**Question 5****2/**

Which of the following statement is true about motion?

**A**

The process to change position

**B**

The process not to change position

**Question 6****1/**

What is the pattern of motion on a swing?



alManahj.com/ae

**A**

up and down

**B**

zig zag

**Question 7****2/**

How does a marble move on the open floor?

**A**

curved

**B**


zig zag

**C**

any direction

**Question 8****2/**

Choose the correct question about the carnival ride.

**A**

Why does the carnival ride move so fast?

**B**

Can I move the carnival ride?



**Question 9****1/**

Distance and time can be used to measure speed.

**A** True**B** False

alManahj.com/ae

**Question 10****5/**

Look at the picture to help you:

**A** Player 1 will move ..... to catch the ball. ( force / direction)**B** Player 2 will ..... the ball to move. ( distance / force)**C** I think the ball will move ..... and fast. ( straight/ force)..... **The End** .....