

تم تحميل هذا الملف من موقع المناهج الإماراتية

الملف أوراق عمل وتلخيص الفصل الأول

موقع المناهج ← المناهج الإماراتية ← الصف الثالث ← علوم ← الفصل الأول

روابط مواقع التواصل الاجتماعي بحسب الصف الثالث

--	--	--	--

روابط مواد الصف الثالث على تلغرام

الرياضيات	اللغة الانجليزية	اللغة العربية	التربية الاسلامية
---------------------------	----------------------------------	-------------------------------	-----------------------------------

المزيد من الملفات بحسب الصف الثالث والمادة علوم في الفصل الأول

حل الوحدة الثانية نظرة على الكائنات الحية	1
حل أسئلة الكتاب من ص 80 حتى 117	2
أوراق عمل	3
أوراق عمل الوحدة الثانية	4
ورقة عمل وملخص الوحدة الأولى المنهج العلمي	5



الرؤية : رائدون في بناء أجيال مبدعة تتحدى المستقبل...

Our Vision :Pioneers in building creative generations that challenge the future...

الاسم ورقة عمل مادة العلوم

السؤال الاول:- أ - اكمل الفراغات التالية :

1- من خصائص الكائنات الحية

2- عندما يصبح الطقس أكثر برودة في الخريف تستجيب الشجرة لتغيرات الطقس

3- يختبأ الفأر تحت الأرض ليتفادى

4- يستجيب النبات عن طريق لتقوم بعملية

5- الكائنات التي لا تستجيب ولا تتكاثر ولا تنمو أو تتخلص من الفضلات هي الكائنات

6- ما يحتاج إليه الكائنات الحية

7- يستخدم الماء في أجسامنا

8- كيف تحصل على الكائنات الحية على الغذاء ؟

9-مكان آمن يختبأ فيه الحيوانات

10- من خصائص النباتات

11- البطاطا و الفجل جذورها

تمثل الصورة التالية الجذور



جذور قريبة من سطح الأرض



12- كيفية استجابة الكائنات الحية مع بيئتها ؟

النبات طائر

..... الفأر



الرؤية : رائدون في بناء أجيال مبدعة تتحدى المستقبل...

Our Vision :Pioneers in building creative generations that challenge the future...

13-شكل أوراق نبات القيقب وشكل أوراق الصبار

14- البقدونس ذات سيقان

15- عملية البناء الضوئي تحدث في جزء من أجزاء النبات يسمى.....

16- تحتاج النباتات للقيام بعملية البناء الضوئي إلى

17- يطلق من عملية البناء الضوئي

18- ضوء الشمس وثاني أكسيد الكربون يدخلان عبر ثقب في الورقة تسمى

19 – جزء من النبتة وظيفته امتصاص الماء والمواد الغذائية يسمى.....

20-غذاء للنبات هو

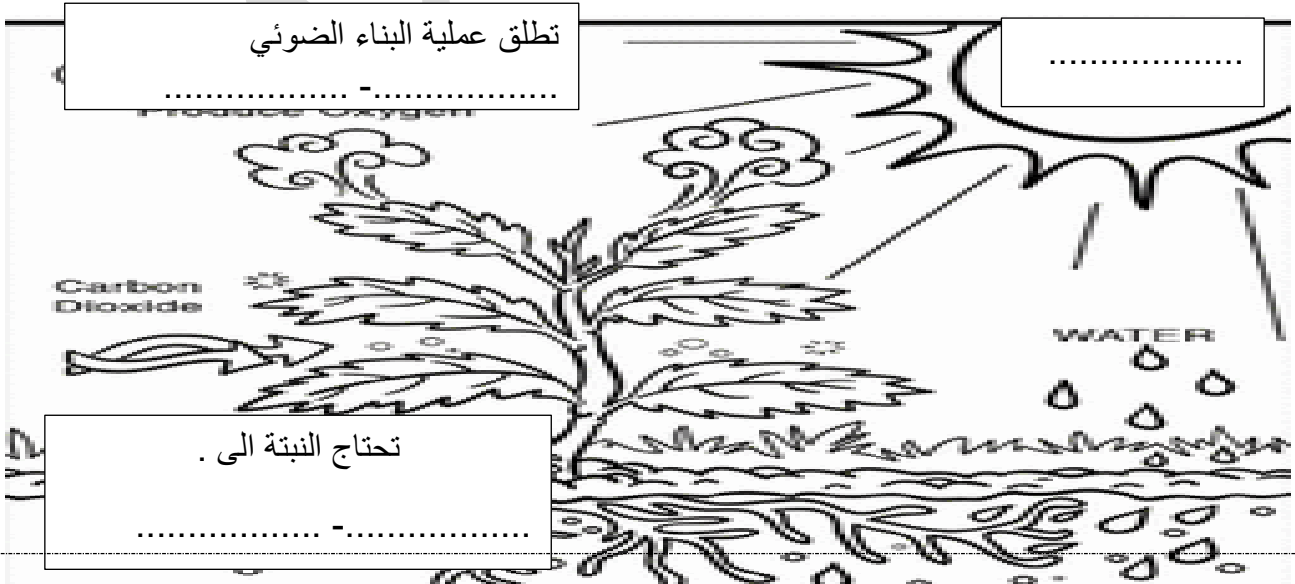
21- الجزء الذي ينقل الماء والمواد الغذائية يسمى.....

21-شكل أوراق نبات القيقب وشكل أوراق شجرة الصنوبر

22- نبات البقدونس والنعناع اوراقها وشجرة الليمون اوراقها

23-غاز الذي يحتاجه الكائن الحي ليتنفسه هو غاز

23 - اتبع الرسم واجب عما يلي يا بطل





الرؤية : رائدون في بناء أجيال مبدعة تتحدى المستقبل...

Our Vision :Pioneers in building creative generations that challenge the future...

ورق التلخيص

ما خصائص الكائنات الحية؟



* تتكاثر



* تنمو

* تتنفس

*تحصل على الغذاء



ما حاجات النباتات؟

العناصر الغذائية

الماء
ضوء الشمس
الهواء

كيف تصنع النباتات غذائه؟

يتم صنع الغذاء في الورقة

تحصل على الماء والعناصر الغذائية وغاز ثاني أكسيد الكربون وايضاً ضوء الشمس

لتقوم بعملية البناء الضوئي أي صنع الغذاء للنباتة

اجزاء النباتات

الأوراق

تصنع الغذاء

الساق

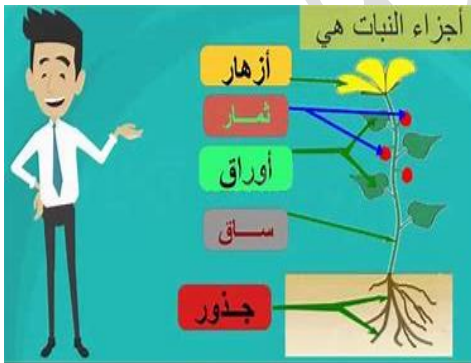
تنقل الماء والعناصر
الغذائية إلى جميع أجزاء
النبات

تحمل الأوراق والأزهار

الجذور

تمتص الماء والعناصر
الغذائية

تثبت التربة



العناصر الغذائية هي الأشياء الموجودة في التربة وتساعد
النباتات على النمو

الأكسجين غاز الذي يحتاجه الكائن الحي ليتنفسه

(الانسان - النباتات - الحيوانات)



الرؤية : رائدون في بناء أجيال مبدعة تتحدى المستقبل...

Our Vision :Pioneers in building creative generations that challenge the future...

تنمو الجذور تحت سطح التربة ويوجد أنواع للجذور

ما أنواع الجذور؟



جذور قريبة من سطح الأرض



& جذور سطحية

&& جذور عميقة

ما وظيفة الأوراق؟

تستخدم ضوء الشمس والماء والعناصر الغذائية والهواء لصنع الغذاء للنبات

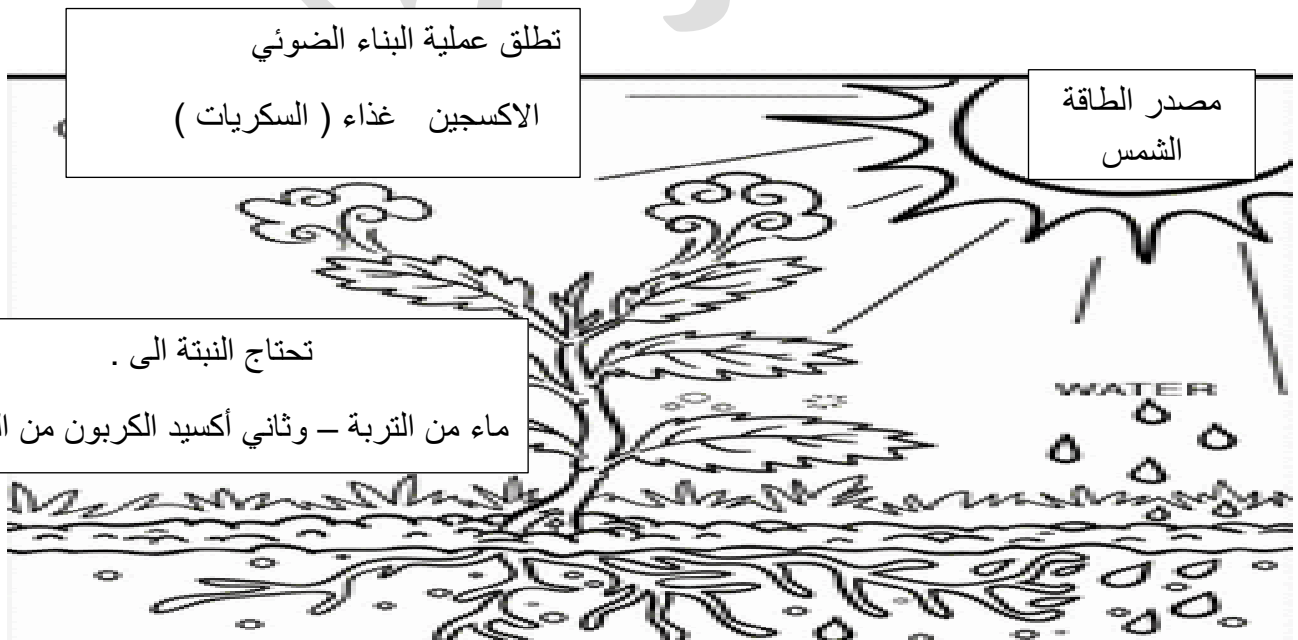
ما وظيفة الساق؟ ينقل الماء والعناصر الغذائية لباقي أجزاء النبات

الأزهار

الزهرة هي الجزء الذي يكون الثمار

الثمرة جزء النبات الذي ينمو حول البذور مثال (التفاح - الخوخ - البرتقال

تمثل الصورة التي أمامكم عملية البناء الضوئي أي صنع الغذاء في النبات



United Arab Emirates

Khaimah Educational Zone Ras Al

Al Salaf Al Saleh Private School



دولة الإمارات العربية المتحدة

منطقة رأس الخيمة التعليمية

مدرسة السلف الصالح الخاصة

الرؤية : رائدون في بناء أجيال مبدعة تتحدى المستقبل...

Our Vision :Pioneers in building creative generations that challenge the future...

ساحية أبو حارة