

شكراً لتحميلك هذا الملف من موقع المناهج الإماراتية



حل مراجعة أوراق عمل درس خطوط الطول ودوائر العرض

[موقع المناهج](#) ← [المناهج الإماراتية](#) ← [الصف الرابع](#) ← [اجتماعيات](#) ← [الفصل الثالث](#) ← [الملف](#)

التواصل الاجتماعي بحسب الصف الرابع



روابط مواد الصف الرابع على تلغرام

[الرياضيات](#)

[اللغة الانجليزية](#)

[اللغة العربية](#)

[التربية الاسلامية](#)

المزيد من الملفات بحسب الصف الرابع والمادة اجتماعيات في الفصل الثالث

دليل الاختبار الوزاري الحديدي المنهج المتكامل	1
أوراق مراجعة مصطلحات ومفاهيم سلسلة سلامة المنهج المتكامل	2
أسئلة امتحان التقويم المستمر الأول	3
أوراق عمل مراجعة درس سلطات الإتحاد	4
حل مراجعة أوراق عمل درس خطوط الطول ودوائر العرض	5

مراجعة درس خطوط الطول و
دوائر العرض

الزمن : خلال الحصة

ورقة عمل لمادة الاجتماعيات

التاريخ:

الشعبة:

الصف الرابع الأساسي

اسم الطالب:

هدف :- يختار الاجابة الصحيحة من بين البدائل ...

السؤال الأول : اختر الإجابة الصحيحة فقط ...

1- سُمي خط جرينتش بهذا الاسم نسبة الى مدينة جرينتش التي يمر بها.
(الأمريكية - البريطانية - الألمانية)

2- خط يقع جنوب خط الاستواء
(مدار الجدي - مدار السرطان - مدار أحمد)

3- خطوط وهمية تمتد من شمال الكرة الأرضية الى جنوبها.....
(دوائر العرض - خط الاستواء - خطوط الطول)

4- هو خط الطول الرئيس أو خط الصفر و يقسم الكرة الأرضية إلى شرقي و غربي.....
(خط الاستواء - خط جرينتش - مدار السرطان)

5- نصف الكره الأرضية الذي يقع جنوب خط الاستواء يسمى ب.....
(نصف الكرة الجنوبي - نصف الكرة الشمالي - نصف الكرة الغربي)

6- هو دائرة العرض الرئيسية.....
(خط جرينتش - خط الاستواء - مدار السرطان)

7- تقع الإمارات في نصف الكرة
(الشرقي - الشمالي - الغربي)

8- تقع الإمارات في شرق
(خط الاستواء - خط جرينتش - مدار السرطان)

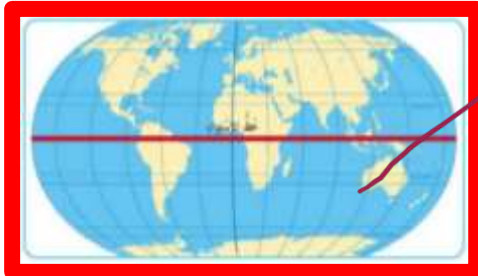
9- درجة خط جرينتش و خط الاستواء هي
(واحد - صفر - ثلاثة)

10- يمر مدار السرطان في دولة الإمارات .
(شمال - شرق - جنوب)

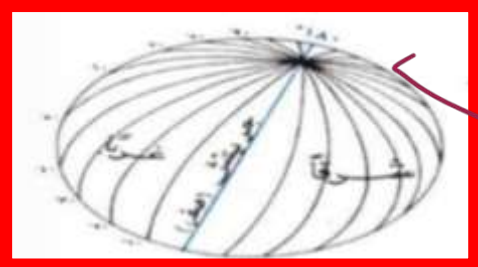
السؤال الثاني: صل بين العبارة والكلمة المناسبة لها ...



خط الاستواء



نصف الكرة الشمالي



خط جرينتش



خطوط الطول

السؤال الثالث:- ضع اشارة صح امام العبارة الصحيحة

- 1- خطوط الطول ودوائر العرض تساعد في تحديد أي مكان على سطح الأرض (✓)
- 2- خطوط الطول هي خطوط وهمية (✓)
- 3- يسمى نصف الكرة الذي يقع شمال خط الاستواء بنصف الكرة الجنوبي (✗)
- 4- مدار السرطان يقع جنوب خط الاستواء (✓)
- 5- تمتد دوائر العرض من شرق الكرة الأرضية الى غربها (✓)
- 6- يسمى خط جرينتش بخط الصفر (✓)

السؤال الرابع : بعد قراءة العبارات ، استعن بالكلمات الموجودة في الصندوق و أكتبها في المكان المناسب


مدار السرطان - خط الاستواء - نصف الكرة الشمالي - خط جرينتش

- 1- خط الطول الرئيس ، يقسم الكرة الأرضية الى نصف كرة شرقي و نصف كرة غربي
- 2- خط يقع شمال خط الاستواء .
- 3- هي دائرة عرض رئيسية تقسم الكرة الأرضية الى نصفين شمالي و جنوبي .
- 4- نصف الكرة الأرضية الذي يقع شمال خط الاستواء .

البريطانية - مدار الجدي - خطوط الطول

- 1- هي خطوط وهمية تمتد من شمال الكرة الأرضية الى جنوبها .
- 2- سُمي خط جرينتش بهذا الاسم نسبة الى مدينة جرينتش التي تمر بها .
- 3- خط يقع جنوب خط الاستواء

السؤال الخامس: ارسم الكرة الأرضية موضحاً عليها دائرة العرض الرئيسية و خط الطول الرئيسي.



مع تمنياتي لكم بالتوفيق و النجاح  