

تم تحميل هذا الملف من موقع المناهج الإماراتية



almanahj.com

موقع
المناهج الإماراتية

*للحصول على أوراق عمل لجميع الصفوف وجميع المواد اضغط هنا

<https://almanahj.com/ae>

* للحصول على أوراق عمل لجميع مواد الصف الرابع اضغط هنا <https://almanahj.com/ae/4>

* للحصول على جميع أوراق الصف الرابع في مادة رياضيات ولجميع الفصول, اضغط هنا [4math/ae/com.almanahj//:https](https://almanahj.com/ae/4math)

* للحصول على أوراق عمل لجميع مواد الصف الرابع في مادة رياضيات الخاصة بـ الفصل الثاني اضغط هنا

<https://almanahj.com/ae/4math2>

* لتحميل كتب جميع المواد في جميع الفصول للـ الصف الرابع اضغط هنا [grade4/ae/com.almanahj//:https](https://almanahj.com/ae/grade4)

* لتحميل جميع ملفات المدرس أمل سلمان اضغط هنا

للتحدث إلى بوت المناهج على تلغرام: اضغط هنا [bot_almanahj/me.t//:https](https://t.me/bot_almanahj)

17) اذرع مبدية
زدعت و زودت
السلح ؟ (ارفع



ما النمط الذي يتبع القاعدة " إضافة 3 و طرح 1 " ؟

A	2, 5, 4, 7, 6	3
B	2, 1, 4, 3, 6	
C	2, 5, 8, 11, 14	

ما التعبير الذي تبلغ قيمته 30 ؟

A	$4 \times 8 + 2$	4
B	$6 \times (3 + 2)$	
C	$3 \times 10 - 5$	

الجزء الثاني

12	اجب عن الاسئلة التالية
----	------------------------

5) أوجد قيمة التعبير

$(4 \times 5) \div 2 = \dots$ **$20 \div 2 = 10$**

.....
.....
.....



6) وسع النمط التالي باستخدام أربعة حدود و اكتب ملاحظته حوله النمط

14 ، 21 ، 28 ، 35

القاعدة : إضافة 7

النمط : , , , , 7 ,

الملاحظة:

.....
.....

السابع ؟ (ارسم النمط لمعرفة الاجابة)

2، 4، 6، 8، 10، 12، 14

عدد الزهورات في الصف السابع سيكون

14 زهرة

(ا) في كل صف يزداد عدد الزهور عن الصف السابق بمقدار 2

14

(ب) عدد الزهورات في الصف السابع هو

8 (استخدم القاعدة لايجاد الاعداد المخرجة الأربعة التالية:

$(12 - v) \times 2 = w$	
المخرج (w)	المدخل (v)
$(12-1) \times 2 = 11 \times 2 = 22$	1
$(12-2) \times 2 = 10 \times 2 = 20$	2
$(12-3) \times 2 = 9 \times 2 = 18$	3
16	4








انتهت الأسئلة

20		درجة الامتحان		الأول	أسئلة الامتحان التكويني	
الرياضيات	المادة الدراسية	الثاني	الفصل الدراسي	2019-2020	العام الدراسي	
الرابع /	الصف الدراسي / الشعبة	3	عدد الصفحات	45 دقيقة	زمن الاختبار	
			اسم الطالب	العام	المسار	
على الطالب التأكد من عدد صفحات الأسئلة (الإجابة على الورقة نفسها)						

الدرجة المستحقة للطالب	درجة السؤال	رقم السؤال
	8	الأول
	12	الثاني
	20	المجموع

	الجزء الأول
8	ضع دائرة حول رمز الإجابة الصحيحة فيما يأتي:

		أي مما يلي يأتي تاليا في النمط ؟	1
A			
B			
C			

ما الحد التالي في المتتالية ؟ 5 , 10 , 15 , 20 , 25 , 30		2
A	20	
B	30	
C	35	