

تم تحميل هذا الملف من موقع المناهج الإماراتية



الملف تقييم مهارات مهمة أداء

[موقع المناهج](#) ⇨ [المناهج الإماراتية](#) ⇨ [الصف الرابع](#) ⇨ [اجتماعيات](#) ⇨ [الفصل الثاني](#)

روابط مواقع التواصل الاجتماعي بحسب الصف الرابع



روابط مواد الصف الرابع على تلغرام

[الرياضيات](#)

[اللغة الانجليزية](#)

[اللغة العربية](#)

[التربية الاسلامية](#)

المزيد من الملفات بحسب الصف الرابع والمادة اجتماعيات في الفصل الثاني

كل ما يخص الاختبار التكويني لمادة التربية الاجتماعية للصف الرابع يوم الأربعاء 12/2/2020	1
تحميل كتاب الطالب	2
أوراق عمل منتصف الفصل	3
الصف الرابع الفصل الثاني تربية اسلامية واجتماعيات مقررات الامتحان المركزي القصير	4
مراجعة الوحدة الثانية (الامارات بلادي)	5



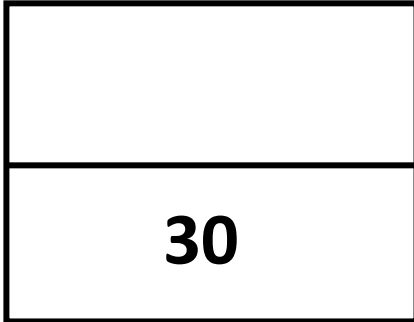
مؤسسة الإمارات للتعليم المدرسي
مكتب العين التعليمي
مدرسة هيلي للتعليم الاساسي

مهمة أداء للصف الرابع / الفصل الدراسي الثاني 2021/2022

تقييم مهارات المادة
مادة الدراسات الإجتماعية والتربية الوطنية / الصف الرابع

اسم الطالب :

الصف / الشعبة :

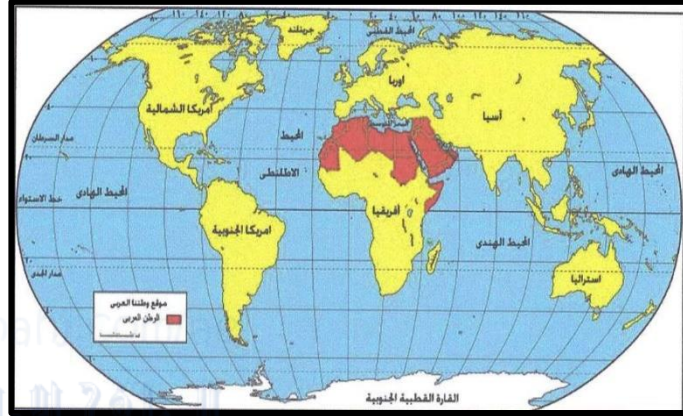


❖ التعليمات

- سجل بياناتك قبل البدء في الإجابة
- اكتب بالقلم الرصاص
- تتضمن ورقة الأسئلة (3) أسئلة
- أقرأ وأجب عن الأسئلة كلها بدقة

مهارة تحليل النص

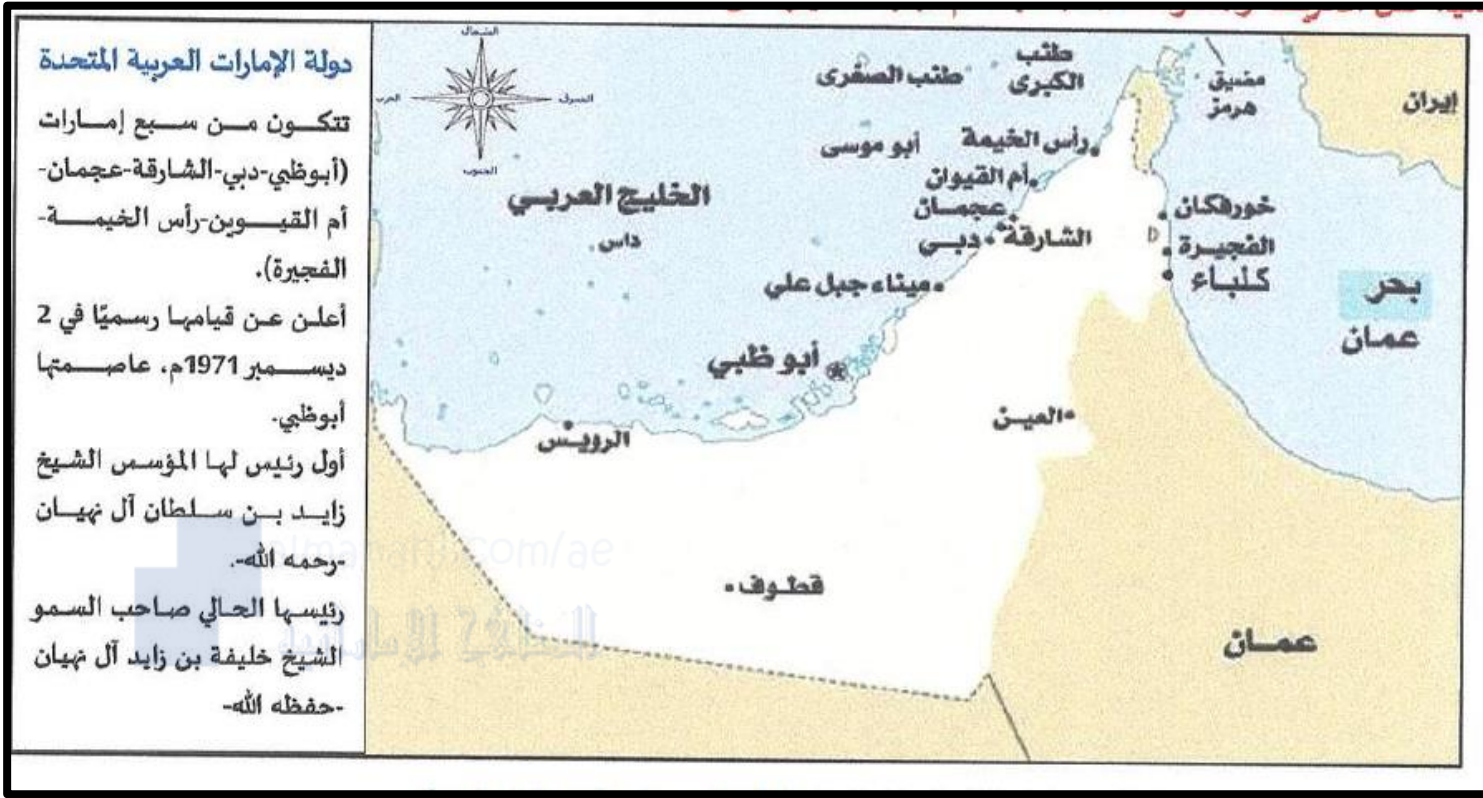
السؤال الأول: اقرأ النص التالي والخريطة المصاحبة، ثم أجب عما يليه من أسئلة باختيار الإجابة المناسبة من بين البدائل



يعتبر الموقع من أهم العوامل الطبيعية التي تؤثر في تحديد مركز أي منطقة من مناطق العالم، فالموقع الجغرافي يقصد به المكان نسبة لخطوط الطول ودوائر العرض، حيث يقع الوطن العربي بين دائرتي عرض (2 جنوبًا، و38 درجة شمالًا) وبين خطي طول (16 غربًا، و60 شرقًا).
أما الموقع النسبي فإن الوطن العربي يشغل الأجزاء الجنوبية الغربية من قارة آسيا إضافة إلى الأجزاء الشمالية والشمالية الشرقية لقارة أفريقيا وهذا يمكن القول بأن الوطن العربي يقع في قلب العالم القديم ويشرف الجزء الغربي من الوطن العربي على المحيط الأطلسي، ومن الشمال البحر المتوسط ومن الشرق والجنوب الشرق الخليج العربي وبحر عمان وبحر العرب وخليج عدن.

1. يقع الوطن العربي ضمن قارات العالم:
a . الجديد
b . القديم
c . القديم والجديد
2. يطل الوطن العربي على المحيط:
a . الأطلسي
b . الهادي
c . القطبي
3. تقع أراضي الوطن العربي ضمن دوائر عرض في مجموعها:
a . 38 دائرة عرض
b . 41 دائرة عرض
c . 40 دائرة عرض
4. دائرة العرض الرئيسة التي تمر في نحو سبع دول عربية:
a . مدار السرطان
b . مدار الجدي
c . الدائرة القطبية
5. تتوزع دول الوطن العربي بين قارتي:
a . آسيا وأوروبا
b . آسيا وأستراليا
c . آسيا وأفريقيا

السؤال الثاني: حلل الخريطة والمعلومات المصاحبة لها ، ثم أجب عما يليها من أسئلة



6 صنف الكلمات التي بين القوسين وفق الجدول التالي:

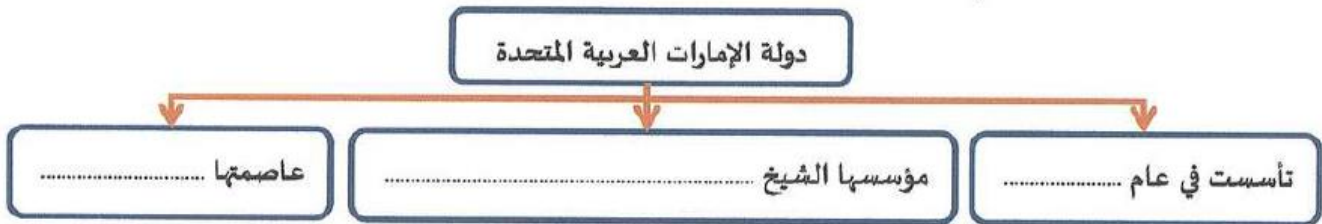
(الخليج العربي - أبو موسى - عجمان - العين - جبل علي)

مدينة	ميناء	مسطح مائي	إمارة	جزيرة
.....

7 . أكمل العبارات التالية بما يناسبها:

- الشيخ خليفة بن زايد آل نهيان رئيس دولة
- تتكون دولة الإمارات العربية المتحدة من عدة إمارات، عددها
- الساحل الشرقي من دولة الإمارات العربية المتحدة يطل على بحر

10 :. أكمل بيانات المخطط التالي:



السؤال الثاني: اقرأ النص التالي ، ثم أجب عما يليه من أسئلة باختيار الإجابة المناسبة من بين البدائل



تتمتع دولة الإمارات العربية المتحدة بموقع استراتيجي هام بين مراكز الأعمال الرئيسية في أوروبا وآسيا والمحيط الهادي وأفريقيا وأمريكا الشمالية. كما تحوز دولة الإمارات على شبكة مواصلات برية وجوية ممتازة تساعدها على الاتصال مع مختلف دول العالم.

وتوجد آلاف الشركات الصينية التي تستخدم دبي كمحور للتجارة في أفريقيا.

كما أن موقع دولة الإمارات ساعد على ظهور بعض الحرف والأعمال قديماً، ومن تلك الحرف التي مارسوها الغوص على اللؤلؤ وصيد السمك في أعماق مياه الخليج العربي، والرعي، واختصت النساء بحرف وصناعات كثيرة، منها: السدو والتلي وغيرها من الحرف والمهن.

أما في الوقت الحاضر فقد تطورت وتنوعت الصناعات الرئيسية في دولة الإمارات ومن أبرزها: البترول والبتروكيماويات والألمنيوم وصناعة الطيران...

11. من أبرز المهن والحرف النسائية القديمة في دولة الإمارات:

c . الجلافة (صناعة السفن)

b . التلي

a . صيد السمك

12. تعتبر صناعة الطيران في دولة الإمارات من الصناعات:

c . الحديثة

b . القديمة

a . التقليدية

13. الاتصال التجاري بين دولة الإمارات ودول العالم تم من خلال امتلاك الدولة شبكة:

c . صداقات دولية

b . شركات تجارية محدودة

a . مواصلات برية وجوية متميزة

14. تتخذ الشركات الصينية للتجارة مع أفريقيا محوراً من مدينة:

c . رأس الخيمة

b . دبي

a . الفجيرة

15. من أهم المهن والحرف التي اقتص بها الرجال في منطقة الإمارات قديماً:

c . البتروكيماويات

b . السدو

a . الغوص على اللؤلؤ

انتهت الأسئلة معطمة المادة ميره