

تم تحميل هذا الملف من موقع المناهج الإماراتية



أوراق عمل مراجعة للاختبار النهائي وفق الهيكل الوزاري

موقع المناهج ← المناهج الإماراتية ← الصف الرابع ← اجتماعيات ← الفصل الأول ← أوراق عمل ← الملف

تاريخ إضافة الملف على موقع المناهج: 2024-11-15 18:18:39

ملفات اكتب للمعلم اكتب للطالب الاختبارات الكترونية | اختبارات | حلول | عروض بوربوينت | أوراق عمل
منهج انجليزي | ملخصات وتقارير | مذكرات وبنوك | الامتحان النهائي للمدرس

المزيد من مادة
اجتماعيات:

إعداد: منى الشحي

التواصل الاجتماعي بحسب الصف الرابع



صفحة المناهج
الإماراتية على
فيسبوك

الرياضيات

اللغة الانجليزية

اللغة العربية

التربية الاسلامية

المواد على تلغرام

المزيد من الملفات بحسب الصف الرابع والمادة اجتماعيات في الفصل الأول

أسئلة اختبار المرة الثالثة النموذج الأول

1

أوراق عمل مراجعة التقويم الأول

2

الهيكل الوزاري الجديد كافة المسارات

3

أسئلة اختبار التقويم الأول

4

أسئلة اختبار المرة الأولى تعديل المنهاج

5



أوراق مراجعة في مادة

الدراسات الاجتماعية

الفصل الدراسي الأول
العام الدراسي ٢٠٢٤-٢٠٢٥

مديرة المجمع : هدى المدحاني

4 الصف

الرؤية: تعليم ابتكاري لمجتمع معرفي ريادي عالمي

معلمة المادة : منى الشحي



مجتمع زايد التعليمي - الوراق
الدراسات الاجتماعية التربية الوطنية
العام الدراسي 2024-2025

Reference(s) in the Student Book المرجع في كتاب الطالب		Learning Outcome/Performance Criteria** نتائج التعلم / معايير الأداء**	Question* السؤال*
نوع النص	الوحدة/ الموضوع		
مقروء /معلوماتي	أعرف بلادي	يوظف الخرائط الرقمية لتمييز ظواهر جغرافية في دولته.	1
			2
			3
			4
			5
معلوماتي	أعرف بلادي	يتعرف الخصائص الطبيعية والبشرية لدولته (الموقع، ..).	6
			7
			8
			9
			10
مقروء	بلادي بين الماضي والحاضر	يناقش أهمية الابتكار والمبادرة في إتقان العمل وتحسين الإنتاجية.	11
			12
			13
			14
			15
مقروء	بلادي بين الماضي والحاضر	يتعرف الأحداث والشخصيات التي أسهمت الفكر الوحدوي في دولة الإمارات العربية المتحدة.	16
			17
			18
			19
			20
Questions might appear in a different order in the actual exam, or on the exam paper in the case of G3 and G4.			*
قد تظهر الأسئلة بترتيب مختلف في الامتحان الفعلي، أو على ورقة الامتحان في حالة الصفين G3 وG4.			*
As it appears in the textbook, LMS, and (Main_IP).			**
كما وردت في كتاب الطالب وLMS والخطة الفصلية.			**

2025/2024	Academic Year العام الدراسي
1	Term الفصل
	Subject المادة
4	Grade الصف
العام	Stream المسار
16	Number of MCQ عدد الأسئلة الموضوعية
5	Marks of MCQ درجة الأسئلة الموضوعية
4	Number of FRQ عدد الأسئلة المقالية
5	Marks per FRQ الدرجات للأسئلة المقالية
الأسئلة الموضوعية والمقالية	Type of All Questions نوع كافة الأسئلة
100	Maximum Overall Grade الدرجة القصوى الممكنة
120 دقيقة	Exam Duration - امتحان مدة الامتحان
SwiftAsses & Paper-Based	Mode of Implementation طريقة التطبيق
Not Allowed غير مسموحة	Calculator الآلة الحاسبة

الرؤية: تعليم ابتكاري لمجتمع معرفي ريادي عالمي
أعداد معلمة المادة: منى الشحي

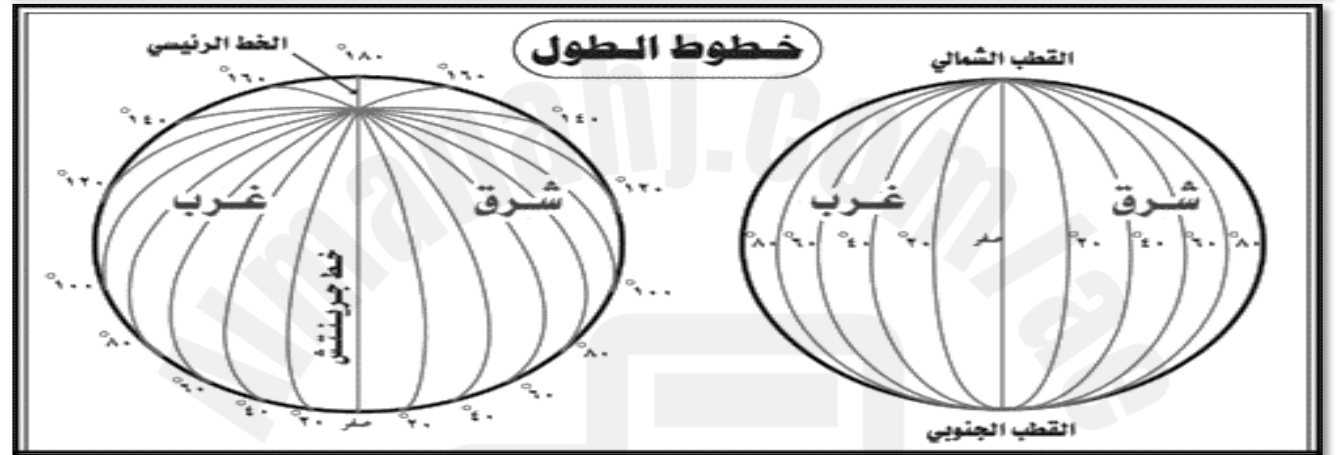
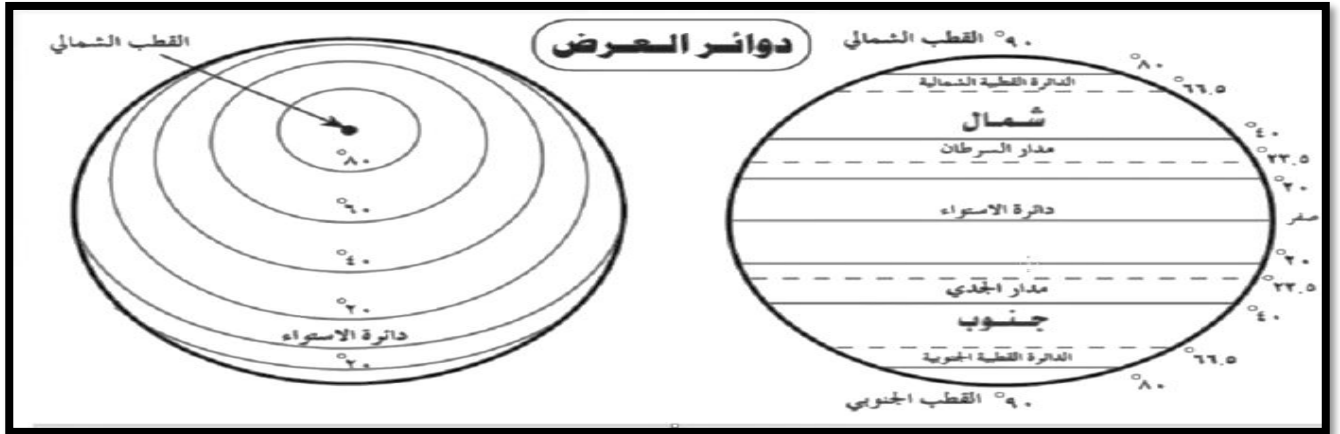
الدروس الأولى: رحلة معرفة

خطوط الطول ودوائر العرض

الاسم:

الصف الرابع /

--	--



السؤال الأول : أفكر وأحوظ : ضع دائرة حول الإجابة الصحيحة ؟

1-.....خطوط وهمية على شكل أنصاف دوائر.

خطوط الطول خط الاستواء دوائر العرض

2-.....خط طول رئيسي يقسم العالم الى نصفين شرق وغرب .

خط جرينتش دوائر العرض الاستواء

3-.....خطوط وهمية على شكل دوائر تامة .

دوائر العرض خطوط الطول الجهات

4-.....دائرة عرض تقسم الكرة الأرضية الى قسمين شمال وجنوب .

الاستواء جرينتش السرطان

السؤال الثاني: من خلال الشكل ،استنتج اسم المدار التي يوجد في شمال الاستواء؟

.....



أقيم حصة الاجتماعيات

الرؤية: تعليم ابتكاري لمجتمع معرفي ريادي عالمي

أعداد معلمة المادة: منى الشحي

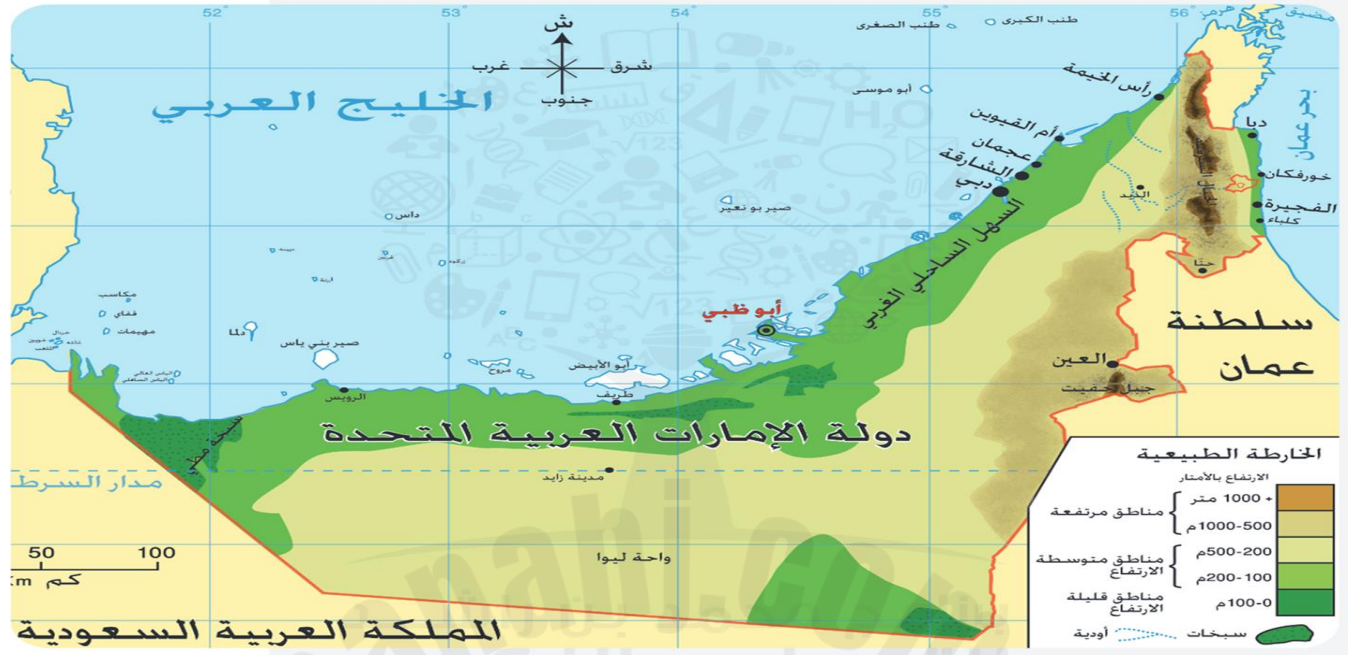
الدرس الثاني : موقع بلادي

الموقع النسبي

اسم :

صف الرابع /

--	--



السؤال الأول : أفكر وأحوظ : ضع دائرة حول الإجابة الصحيحة ؟

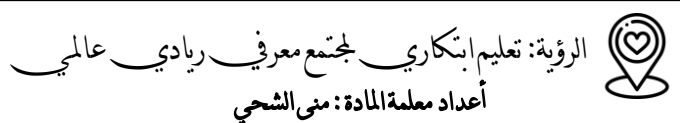
- 1-.....خطوط رسمها الانسان تفصل دولة عن أخرى .
الحدود السياسية الخليج الجزيرة
- 2-.....لسان من المياه محاط باليابس من ثلاث جهات .
البحر المحيط الخليج
- 3-من المسطحات المطلة لدولة الامارات هي
البحر المتوسط الخليج العربي البحر الأحمر
- 4-تقع الامارات في قارة.....
أفريقيا آسيا أوروبا
- 5-ما هي عاصمة دولة الامارات .
أبو ظبي دبي الشارقة
- 6- أرض تحيط بها المياه من ثلاث جهات
شبه جزيرة جزيرة سهول

السؤال الثاني: من خلال الخريطة ، استنتج الدول المجاورة لدولة الإمارات ؟

.....



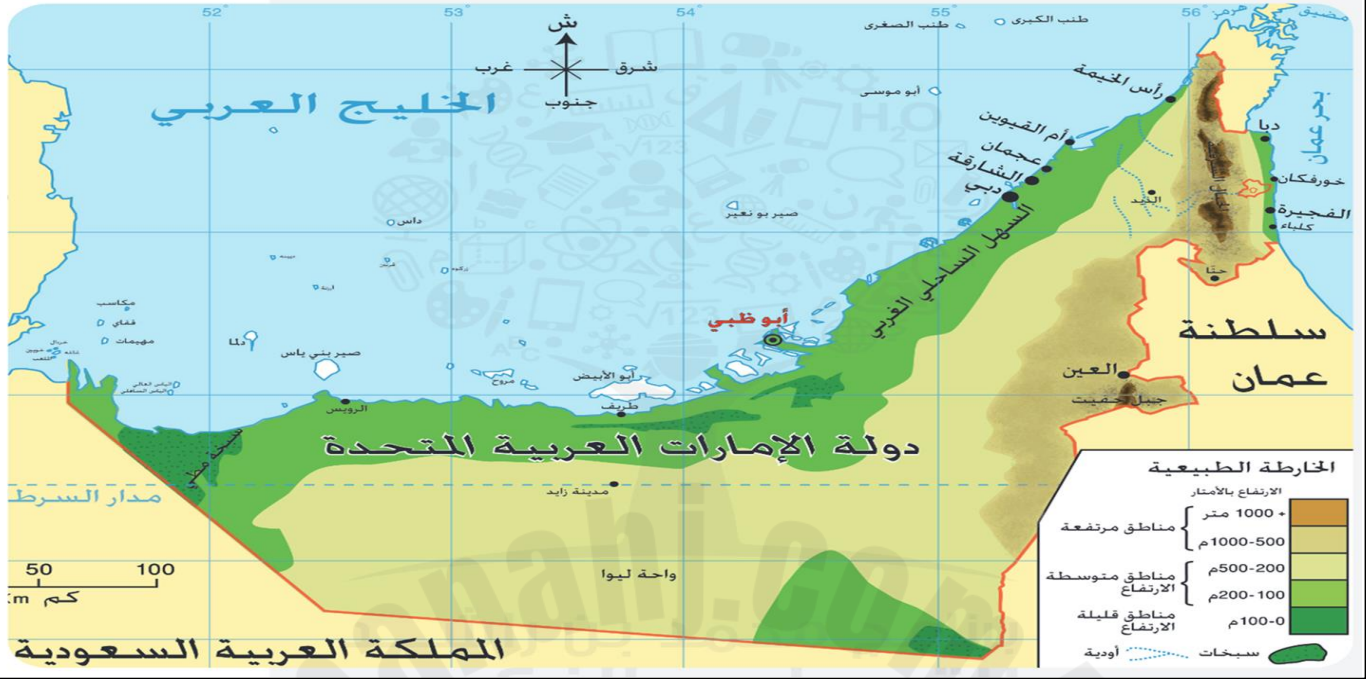
أقيم حصة الاجتماعيات



طبيعةً بلادي ٢ الجزر

الاسم :
الصف الرابع /

--	--



السؤال الأول : أفكر وأحوظ : ضع دائرة حول الإجابة الصحيحة ؟

1- يابسة تحيط بها المياه من جميع الجهات .

الصحراء الجزيرة الواحة

2- تتركز الجُزُرُ في دولة الامارات عن المسطح المائي عند.....

الخليج العربي بحر عمان

3- هي أكثر أمانة تمتلك جُزُرُ طبيعية .

دبي أبو ظبي الشارقة

4- أكبر جزيرة هي

أبو اليبض دلما صير بونعير

5- من أهمية الجُزُرُ في بلادي

الزراعة توفر مياه عذبة موانئ للنفط والغاز

السؤال الثاني :

ما هي الجُزُرُ الإماراتية المحتملة من قبل إيران ؟

.....



أقيم حصة الاجتماعات

الرؤية: تعليم ابتكاري لجمع معرفي ريادي عالمي
أعداد معلمة المادة: منى الشحي

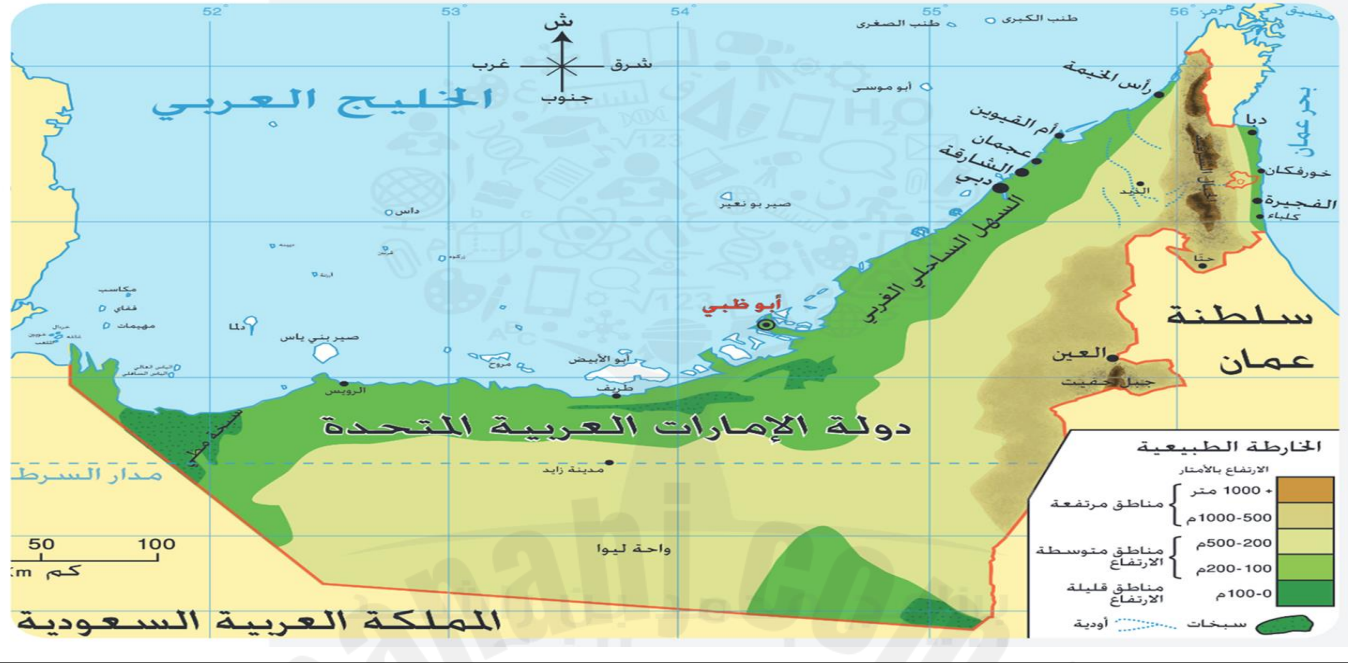
طبيعة بلادنا ١

الجبال



الاسم:
الصف الرابع /

--	--



السؤال الأول : أفكر وأحوظ : ضع دائرة حول الإجابة الصحيحة بالاستعانة بالخريطة ؟

1-.....منطقة جبلية مرتفعة من الصخور.

الجبال الواحة الجزيرة

2-تركز الجبال في دولة الامارات في جهة.....

الشرق الغرب الجنوب

3- جبل.....يوجد في مدينة العين.

حتا حفيت جيس

4-.....منطقة منخفضه بين جبلين .

السبخات الواحة الوادي

5-أعلى قمة جبلية في دولة الامارات هو جبل.....

حفيت حتا جيس

السؤال الثاني:

من خلال الخريطة ،استنتج بعض المناطق التي توجد فيها جبال ؟



أقيم حصه الاجتماعيات

الرؤية: تعليم ابتكاري لمجتمع معرفي ريادي عالمي
أعداد معلمة المادة: منى الشحي

طبيعتنا بلادي ١

السهول

الاسم:

الصف الرابع /

--	--

السهول هي أرض منبسطة قليلة الارتفاع وترمز بالخريطة باللون الأخضر ، وتنقسم السهول إلى :

١. سهول ساحلية

٢. سهول داخلية

السهول الساحلية: هي سهول مطلة على البحر. السهول الساحلية في دولة الامارات لها أهمية اقتصادية وهي :

الصيد البحري-السياحة-الاستيراد والتصدير وممارسة الهوايات البحرية.

السهول الداخلية: تمتد من سفوح الجبال الى الكثبان الرملية، ومن الأهمية الاقتصادية السهول الداخلية هي : الزراعة ومصدراً للمياه العذبة وتركز الصناعات التقليدية.

السؤال الأول : أفكر وأحوظ : ضع دائرة حول الإجابة الصحيحة ؟

- 1-.....أرض منبسطة وقليله الارتفاع .
الصحراء الواحة السهول
- 2-.....سهول مطلة على البحر
السهول الداخلية السهول الساحلية الوادي
- 3- ما هولون السهول على الخريطة ؟
الأصفر الأخضر البني
- 4-.....سهول تمتد من سفوح الجبال الى الكثبان الرملية .
السهول الساحلية السهول الداخلية السهول
- 5- من الأهمية الاقتصادية للسهول الداخلية هي
الصيد صناعات تقليدية ممارسة الهوايات البحرية

السؤال الثاني :

ما هي الأهمية الاقتصادية للسهول الساحلية في دولة الإمارات ؟

.....

.....



أقيم حصة الاجتماعات

الرؤية: تعليم ابتكاري لجمع معرفي ريادي عالمي
أعداد معلمة المادة: منى الشحي

طبيعة بلاد دبي ٢ الصحراء

الاسم :
الصف الرابع /

--	--

يغلبُ على مَظاهر السطح في دولة الاماراتِ الطبيعة الصخرَوية.
والصحراءُ : أرضٌ جافةٌ قليلةُ المَطَرِ، وَمِنْ أَهمِّ خصائصِها: نُدْرَةُ المَطَرِ، قلةُ الغِطاءِ النباتي، قلةُ عددِ السكانِ، ارتفاعِ الحرارة في الصيفِ وانخفاضها في الشتاء.
تنتشرُ في صحاري دولة الإمارات العربية المتحدة العديد من الواحات، في مناطق منخفضة في الصحراء تتوفر فيها المياه، ومن أهم الواحات في الامارات : العين وواحة ليوا ومدينة زايد .
الأهمية الاقتصادية للصحراء هي :

- I. توفر النفط والغاز.
- II. الزراعة في الواحات.
- III. ممارسة الأنشطة السياحية مثل سباق الهجن والسيارات .

السؤال الأول : أفكر وأحوظ : ضع دائرة حول الإجابة الصحيحة ؟

- 1-..... أرض جافة وقليلة الامطار.
الصحراء الجبال السهول
- 2-..... مناطق منخفضة في الصحراء تتوفر فيها المياه.
الواحة الوادي جبلية
- 3- يغلب على مظاهر السطح في دولة الامارات الطبيعة
الجبال السهول الصحراء
- 4- من أهم خصائص الصحراء في دولة الامارات .
ندرة الامطار قلة الغطاء النباتي كل الاجابات صحيحة
- 5- من أشهر الواحات في الامارات هي
ليوا القطيف خورفكان

السؤال الثاني :

ما هي الأهمية الاقتصادية للصحراء في دولة الإمارات ؟

.....
.....



أقيم حصة الاجتماعيات

الرؤية: تعليم ابتكاري لمجتمع معرفي ريادي عالمي
أعداد معلمة المادة: منى الشحي

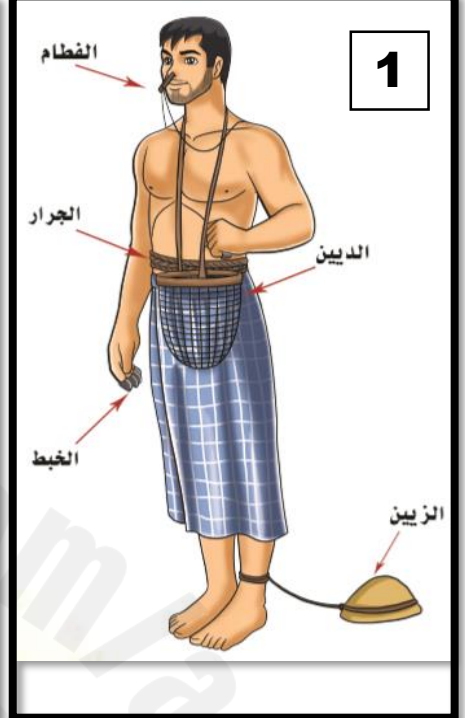
الحرف الاماراتية قديماً:



3



2



1

السؤال الأول : أفكر وأحوظ : ضع دائرة حول الإجابة الصحيحة ؟

- 1- ما هي الحرفة عند الصورة رقم 3؟
الزراعة الري
- 2- انتشرت حرفة الصيد والغوص في المناطق
الداخلية الساحلية
- 3- انتشرت حرفة الزراعة والرعي في المناطق
الداخلية الساحلية
- 4- ما هو : مشبك للانف ليمنع تسرب الماء الى الانف (الصورة رقم 1) .
الزبين الفطام
- التجارة الواحات الصحراوية الخبط

السؤال الثاني: من خلال الشكل رقم 1-2 حدد نوع حرفة الأجداد قديماً ؟



أقيم حصة الاجتماعيات

الرؤية: تعليم ابتكاري لمجتمع معرفي ريادي عالمي
أعداد معلمة المادة: منى الشحي

الحرف الاماراتية قديماً:

لقد أخذَ أجدادنا من عَنَاصِرِ البيئَةِ المُتَاحَةِ لَهُم لِيُؤَمِّنُوا مَعِيشَتَهُم، وَلِيُنْتِجُوا مِنْ خِلَالِهَا مُسْتَلْزَمَاتِ حَيَاتِهِمْ، فَكَانَتْ أَبْرَزُ حِرَفِهِمْ صَيْدَ الأَسْمَاكِ، وَالغَوْصَ عَلَى اللُّؤْلُؤِ، وَالزَّرَاعَةَ، وَبِنَاءَ العَرِيشِ، فَتَعَالَ مَعِي لِنَتَعَرَّفَ عَلَى مَا أَدَعَا أَجْدَادُنَا فِي حِرَفِهِمْ


حِرْفَةُ الصَّيْدِ: امْتَلَكَ أَجْدَادُنَا عَقُولًا مُبَدَعَةً، فَصَنَعُوا السُّفْنَ مِنْ خَشَبِ (السَّاجِ)، وَاسْتَخْدَمُوا أَشْجَارَ النَّخِيلِ وَجُوزِ الهِنْدِ لِصِنَاعَةِ الحِجَالِ، وَقَامُوا بِطَلَاءِ سُفْنِهِمْ بِشَحْمِ الحُوتِ، فَاِنطَلَقَتْ سُفْنُهُمْ تَشْقُ البِحَارَ، وَتَصِيدُ الأَسْمَاكَ، وَتَسْتَخْرِجُ اللُّؤْلُؤَ.



3



2



1

السؤال الأول : أفكر وأحوظ : ضع دائرة حول الإجابة الصحيحة ؟

1- ما هو الخشب المستخدم في صناعة السفن قديماً ؟

السمر

النخيل

الساج

2- طلي أجدادي قديماً سفنهم ب

شحم الحوت

زيت النخيل

الطين

3- انتشرت حرفة التجارة والغوص في المناطق

الواحات

الساحلية

الداخلية

4- ما هي المادة التي يصنع منها الحبال .

السمر

السدر

ليف النخيل

السؤال الثاني: من خلال النص استنتج المواد التي استخدمت في بناء السفن ؟

أقيم حصة الاجتماعات

الرؤية: تعليم ابتكاري لجمع معرفي رياضي عالمي
أعداد معلمة المادة: منى الشحي

الفكر الوحدوي

الإمارات قبل الاتحاد

الاسم :

الصف الرابع /

--	--

استقرت القبائل بعضها في السواحل وكونت أحلافاً، وَالْحِلْفُ هُوَ الْمُعَاهَدَةُ عَلَى التَّعَاوُنِ وَمَدَّ يَدَ الْعَوْنِ .
ومن أهم الاحلاف التي ظهرت قديماً هي :

حِلْفُ الْقَوَاسِمِ

ظَهَرَ كَقُوَّةٍ بَحْرِيَّةٍ كُبْرَى،
وَاتَّخَذُوا مِنْ رَأْسِ الْخَيْمَةِ مَقْرًا
لَهُمْ، وَيَتَأَلَّفُ حِلْفُهُمْ مِنَ الْقَوَاسِمِ
وَالْقَبَائِلِ الْمُنْطَوِيَّةِ تَحْتَ لِيَائِهَا.

حِلْفُ بَنِي يَاسٍ

بَرَزَ كَقُوَّةٍ بَرِّيَّةٍ كُبْرَى، تَتَأَلَّفُ
مِنْ قَبِيلَةِ بَنِي يَاسٍ وَحِلْفَائِهَا مِنْ
الْقَبَائِلِ، وَيَتَزَعَّمُهُمْ آلُ نَهْيَانَ،
وَمَقَرُّهُمْ الظَّفْرَةُ وَمَدِينَةُ أَبُو ظَبْيٍ.

السؤال الأول : أفكر وأحوظ : ضع دائرة حول الإجابة الصحيحة ؟

- 1- حلف يمتلك قوة برية .
حلف القواسم
ساحل الامارات المتصالح
 - 2- استقرت قبيلة بني ياس في
أبو ظبي
حلف بني ياس
 - 3- كانت الزعامة لحلف القواسم هي قبيلة
النعيمي
دبي
 - 4-معاهدة على التعاون ومد يد العون .
القبيلة
الحلف
- رأس الخيمة
القواسم
الدولة

السؤال الثاني: من خلال النص استنتج أهم الأحلاف التي ظهرت في الإمارات قديماً ؟

.....



أقيم حصة الاجتماعيات

الرؤية: تعليم ابتكاري لاجتمع معرفي ريادي عالمي
أعداد معلمة المادة: منى الشحي

الفكر الوحدوي

زايد الأول

الاسم :
الصف الرابع /

--	--

ولد الشيخ زايد بن خليفة - رحمه الله - عام 1837 وتربى على الشجاعة والفروسية ، نشأ محباً للأدب والشعر .

تولى الحكم وهو في سن العشرين . ورغم صغر سنه فقد تمتع بحنكة سياسية نجح من خلالها أن يعزز من مكانة أبوظبي لتصبح إمارة لها ثقلها السياسي في منطقة .

حصل الشيخ زايد على الكثير من الألقاب في حياته ومنها (زايد الأول) ذلك لعلو مكانته بين القبائل .

بدأ حلم الوحدة مع توليه حكم إمارة أبوظبي ، حيث دعا الى اجتماع في امارة دبي ، وطرح فكرة توحيد الإمارات ، الا أن بريطانيا كانت تستعمر ساحل الامارات وعارضت الفكرة أو الوحدة.

ومن أهم انجازات الشيخ زايد : بناء قلعة الجاهلي - أهتم بالزراعة - نشر الأمن والأمان .



السؤال الأول : أفكر وأحوظ : ضع دائرة حول الإجابة الصحيحة ؟

1- تولى حكم وهو في عمر .

20

30

40

2- لقب الشيخ زايد بن خليفة ب.....

زايد الكبير

زايد الثاني

زايد الأول

3- الدولة التي اعترضت فكرة الاتحاد هي.....

امريكا

فرنسا

بريطانيا

4- تولى الشيخ زايد بن خليفة حكم إمارة.....

دبي

الشارقة

أبوظبي

السؤال الثاني: من خلال النص استنتج أهم انجازات الشيخ زايد الأول ؟

.....
.....



أقيم حصة الاجتماعيات

الرؤية: تعليم ابتكاري لمجتمع معرفي ريادي عالمي
أعداد معلمة المادة: منى الشحي

الفكر الوجداني

الطريق الى الاتحاد

الاسم:

الصف الرابع /

--	--

بَدَأَتْ مَسِيرَةُ الْإِتِّحَادِ بِلِقَاءِ بَيْنَ الشَّيْخِ زَايِدِ بْنِ سُلْطَانَ آلِ نَهْيَانَ، وَالشَّيْخِ رَاشِدِ بْنِ سَعِيدِ رَحْمَتِ اللَّهِ .
الخطوة الأولى: فَقَدْ عُقِدَ هَذَا الْاجْتِمَاعُ فِي مَكَانِ يُسَمَّى عُرْقُوبَ السَّدِيرَةِ فِي 18/2/1968 م ، فَعُرِفَ مُنْذُ ذَلِكَ الْيَوْمِ
 بِاسْمِ اجْتِمَاعِ عُرْقُوبِ السَّدِيرَةِ ، حَيْثُ تَبَاخَثَ الشَّيْخَانُ فِي قِيَامِ الْإِتِّحَادِ وَوَجَّهَا الدَّعْوَةَ إِلَى حُكَامِ بَاقِي الْإِمَارَاتِ ،
 بِالإِضَافَةِ إِلَى حَاكِمِي قَطْرَ وَالْبَحْرَيْنِ .

الخطوة الثانية: وَفِي عَامِ 1968 م عُقِدَ اجْتِمَاعٌ ضَمَّ حُكَامَ الْإِمَارَاتِ السَّبْعِ ، وَحَاكِمِي قَطْرَ وَالْبَحْرَيْنِ ، عُرِفَ بِاسْمِ
 اجْتِمَاعِ دُبَيِّ الْأَوَّلِ، وَأُعْلِنَ فِيهِ عَن قِيَامِ اتِّحَادِ تَسَاعِي، وَلَكِنَّ هَذَا الْإِتِّحَادَ لَمْ يَرَى النُّورَ ، بِسَبَبِ انْسِحَابِ قَطْرَ
 وَالْبَحْرَيْنِ .

الخطوة الثالثة: وَبَعْدَ مُضِيِّ مَا يَزِيدُ عَلَى ثَلَاثِ سَنَوَاتٍ فِي عَامِ 1971 م تَمَّ عَقْدُ اجْتِمَاعٍ ضَمَّ حُكَامَ الْإِمَارَاتِ السَّتِّ
 الْآتِيَةِ : أَبُو ظَلِي دُبَيِّ الشَّارِقَةِ عَجْمَانَ ، أُمَّ الْقَبْوِينَ ، الْفُجَيْرَةَ ، وَعُرِفَ بِاسْمِ اجْتِمَاعِ دُبَيِّ الثَّانِي ، وَفِيهِ قَرَّرَ حُكَامُ هَذِهِ
 الْإِمَارَاتِ إِقَامَةَ دَوْلَةٍ اتِّحَادِيَّةٍ ، وَتَمَّ التَّوْقِيعُ فِيهِ عَلَى الدُّسْتُورِ الْمُؤَقَّتِ .

الخطوة الرابعة: وَفِي الثَّانِي مِنْ دَيْسَمْبَرِ 1971 أُعْلِنَ رَسْمِيًّا عَن قِيَامِ دَوْلَةِ الْإِمَارَاتِ الْعَرَبِيَّةِ الْمُتَّحِدَةِ فِي قَصْرِ
 الضِّيَافَةِ بِدُبَيِّ ، وَتَمَّ انْتِخَابُ الشَّيْخِ زَايِدِ - رَحْمَتِ اللَّهِ - رَئِيسًا لِلدَّوْلَةِ ، وَالشَّيْخِ رَاشِدِ - رَحْمَتِ اللَّهِ - نَائِبًا لِلرَّئِيسِ، وَرَفَعَ
 الْحُكَامُ الْمُؤَسَّسُونَ عِلْمَ الدَّوْلَةِ عَالِيًّا .

السؤال الأول : أفكر وأحوط : ضع دائرة حول الإجابة الصحيحة ؟

1- متى أعلن عن قيام الاتحاد لدولة الامارات ؟

الثاني من ديسمبر

الثاني من سبتمبر

الثالث من نوفمبر

2- اتحاد بين اماراتي دبي و أبوظبي هو اجتماع

عرقوب السديرة

دبي الثاني

دبي الأول

3- ما هي الخطوة التي أعلن فيها عن اتحاد تساعي ؟

اجتماع دبي الثاني

عرقوب السديرة

اجتماع دبي الأول

4- تم انتخاب رئيس لدولة الامارات في عام 1971م؟

خليفة بن زايد

راشد بن سعيد

زايد بن سلطان

السؤال الثاني: من خلال النص ، اكتب خطوات قيام الاتحاد ؟

3.....

1.....

4.....

2.....



الرؤية: تعليم ابتكاري لاجتمع معرفي ريادي عالمي
 أعداد معلمة المادة: منى الشحي