


شكراً لتحميلك هذا الملف من موقع المناهج الإماراتية



ملخص وأوراق عمل شاملة sheets Work منهج انسابير

موقع المناهج ← المناهج الإماراتية ← الصف الرابع ← علوم ← الفصل الثالث ← الملف

التواصل الاجتماعي بحسب الصف الرابع



روابط مواد الصف الرابع على تلغرام

[الرياضيات](#)

[اللغة الانجليزية](#)

[اللغة العربية](#)

[التربية الاسلامية](#)

المزيد من الملفات بحسب الصف الرابع والمادة علوم في الفصل الثالث

[أسئلة الامتحان النهائي الورقي انسابير](#)

1

[أسئلة الامتحان النهائي الورقي بريدج](#)

2

[تدريبات امتحانية وفق الهيكل الوزاري الجديد](#)

3

[مراجعة امتحانية ملخص وحلول وفق الهيكل الوزاري الجديد انسابير](#)

4

[حل أسئلة الامتحان النهائي التعويضي ماجروهيل](#)

5

حان وقت المرح

هيا اختار الوقت الذي تشير له الساعة



1:30

2:30


3:30



4:30

5:30

6:30



4:00

5:00

6:00



10:00

11:00

12:00



8:30

9:30

10:30



7:00

8:00

9:00

الطماطم أقصر من الذرة ، و الذرة أطول من البطاطا.

أطول من

أقصر من



هل الطماطم أطول أم أقصر من البطاطا ؟

الشجرة أطول من الزرافة ، و الزرافة أطول من الولد .

أطول من

أقصر من

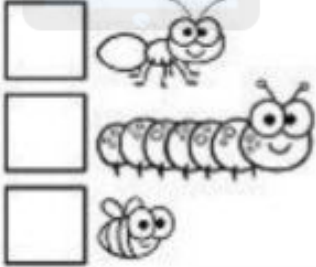


تحميل هذا الملف من

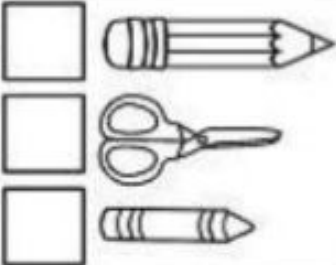
هل الشجرة أطول أم أقصر من الولد ؟

رتب الأجسام تبعاً للطول
من الأقصر إلى الأطول


1



2




3




رتب الأجسام تبعاً للطول
من الأطول إلى الأقصر

4










5

5



6



| | | |
|--|--|--|
|  <input type="checkbox"/> 6:00 <input type="checkbox"/> 7:00 <input type="checkbox"/> 8:00 <input type="checkbox"/> 9:00 |  <input type="checkbox"/> 2:00 <input type="checkbox"/> 3:00 <input type="checkbox"/> 4:00 <input type="checkbox"/> 5:00 |  <input type="checkbox"/> 7:00 <input type="checkbox"/> 8:00 <input type="checkbox"/> 9:00 <input type="checkbox"/> 10:00 |
|  <input type="checkbox"/> 11:00 <input type="checkbox"/> 12:00 <input type="checkbox"/> 13:00 <input type="checkbox"/> 14:00 |  <input type="checkbox"/> 1:00 <input type="checkbox"/> 2:00 <input type="checkbox"/> 3:00 <input type="checkbox"/> 4:00 |  <input type="checkbox"/> 7:00 <input type="checkbox"/> 8:00 <input type="checkbox"/> 9:00 <input type="checkbox"/> 10:00 |

اكتب الوقت الذي تظهره كل ساعة تناظرية


















Date: _____ Name: _____



ارسم عقرب الساعة الموضحة للساعة
الرقمية



8:30



1:30



10:00



4:00



5:30



11:30



9:00



6:30



7:30



3:00

