

تم تحميل هذا الملف من موقع المناهج الإماراتية



## أوراق عمل مراجعة التقويم الأول

موقع المناهج ← المناهج الإماراتية ← الصف الرابع ← اجتماعيات ← الفصل الأول ← أوراق عمل ← الملف

تاريخ إضافة الملف على موقع المناهج: 00:07:16 2024-11-07

ملفات اكتب للمعلم اكتب للطالب الاختبارات الكترونية | اختبارات | حلول | عروض بوربوينت | أوراق عمل  
منهج انجليزي | ملخصات و تقارير | مذكرات و بنوك | الامتحان النهائي للمدرس

المزيد من مادة  
اجتماعيات:

## التواصل الاجتماعي بحسب الصف الرابع



الرياضيات



اللغة الانجليزية



اللغة العربية



التربية الاسلامية



المواد على تلغرام

صفحة المناهج  
الإماراتية على  
فيسبوك

## المزيد من الملفات بحسب الصف الرابع والمادة اجتماعيات في الفصل الأول

الهيكل الوزاري الجديد كافة المسارات

1

أسئلة اختبار التقويم الأول

2

أسئلة اختبار المرة الأولى تعديل المنهاج

3

مراجعة اختبار التقويم الثاني

4

ورقة عمل درس المناخ في دولة الإمارات

5



إمارة عجمان  
مدرسة الحكمة الخاصة  
العام الدراسي 2024-2025

اسمي الطالب القائد / .....

صفي المتميز / .....

أوراق عمل مراجعة  
مادة الدراسات الاجتماعية  
للفيف الرابع المتميز



مديرة القسم  
د/ وفاء حسانين



معلمة المادة / نجاة فؤاد

أنا طالب الحكمة المتميز



إمارة عجمان  
مدرسة الحكمة الخاصة  
العام الدراسي 2025-2024

## أدوات التقويم لمادة الدراسات الاجتماعية للعام الدراسي 2025 / 2024 م

أدوات التقويم لمادة الدراسات الاجتماعية للصف الرابع للعام الدراسي 2025 / 2024 م					
الاختبار المركزي ( يطبق من قبل مؤسسة الإمارات للتعليم )	مهمات ادائية	النشطة كتابية	النشطة شفوية	الاختبار القصير الثاني	الاختبار القصير الأول
	%30	%15	%15	%20	%20
نهاية كل فصل دراسي					
100	30	15	15	20	20

		وزارة التربية والتعليم منطقة عجمان التعليمية مدرسة الحكمة الخاصة
جدول الاختبارات التكوينية الأول الفصل الدراسي الأول العام الدراسي 2025 / 2024		
الصف الرابع		

الدرس الأول والثاني مهارة تحليل النص مهارة تحليل الخريطة	الدراسات الاجتماعية	الجمعة 2024\10\4
--	------------------------	---------------------

أنا طالب الحكمة المتميز

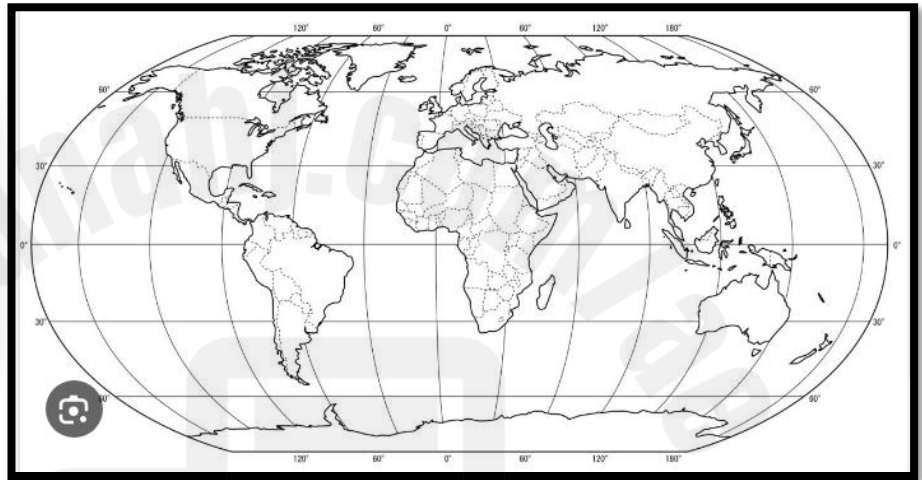
" الموقع النسبي والموقع الفلكي "

السؤال الأول :

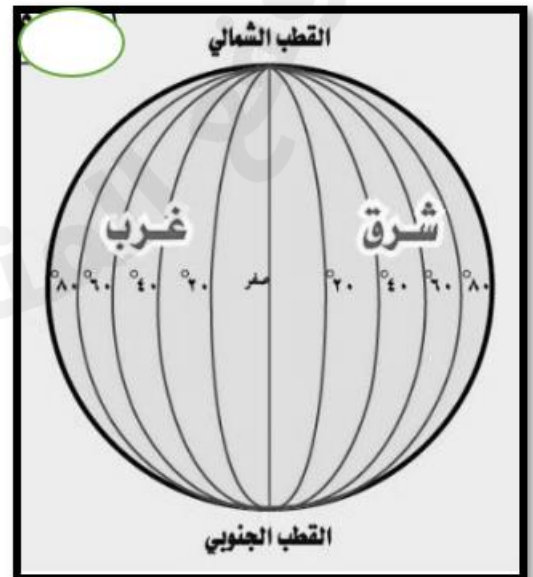
أين أنا على خريطة العالم؟



لون بطلي اليابسة " القارات " باللون الأخضر و" المحيطات " الماء باللون الأزرق :



لون بطلي خط غرينتش باللون الأحمر وخط الاستواء باللون الأزرق :



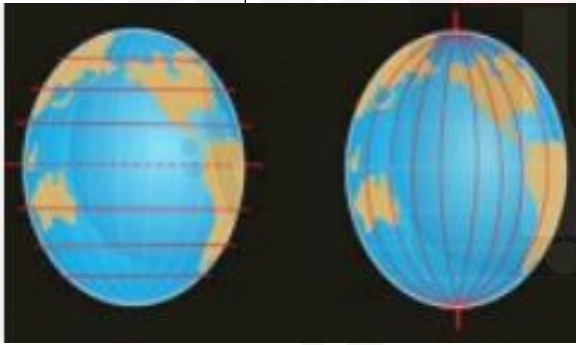
## السؤال الثاني :

أكمل يا بطل المخطط الذهني الآتي باختيار الكلمة المناسبة :

الماء / العرض / الطول

الموقع الجغرافي

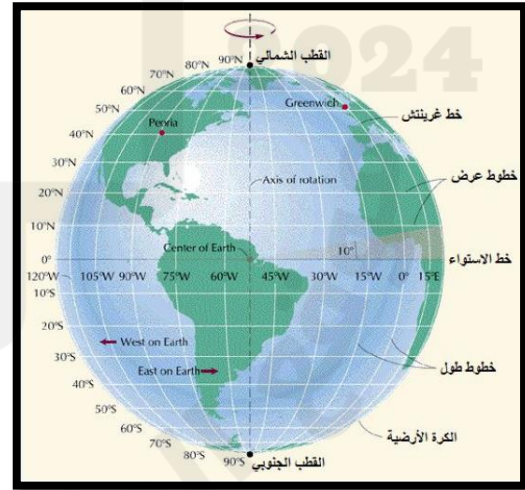
الموقع الفلكي هو :  
موقع المكان بالنسبة إلى :



خطوط

دوائر

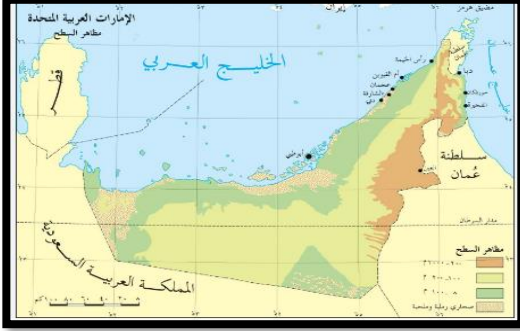
الموقع النسبي هو :  
موقع المكان بالنسبة إلى :



اليابسة

الدرس الثاني / موقع بلادي :

السؤال الأول :



اقرأ الفقرة ثم أجب عن الأسئلة :

دولة الإمارات العربية المتحدة هي دولة عربية تقع في شرق شبه الجزيرة العربية وتتألف من : سبع إمارات رئيسية ، تأسست الإمارات ككيان واحد في 2 ديسمبر 1971 بعد استقلالها من المملكة المتحدة. تتألف دولة الإمارات من سبع إمارات هي: أبوظبي، دبي، الشارقة، عجمان، أم القيوين، رأس الخيمة، والفجيرة ، وتمثل أبوظبي عاصمة البلاد ، اللغة الرسمية هي العربية، وتتمتع الإمارات بتنوع ثقافي واجتماعي بفضل وجود مجتمع متعدد الثقافات. الإسلام هو الدين الرسمي، ويحظى بالاحترام والتقدير في الحياة اليومية والقوانين ، تبلغ مساحة الإمارات 83.600 كم2. رئيس دولة الإمارات العربية المتحدة صاحب السمو الشيخ محمد بن زايد - حفظه الله .

1- تقع دولة الإمارات العربية المتحدة بالنسبة لشبه الجزيرة العربية في جهة .....

– الشمال – الغرب – الشرق

2 - تأسست دولة الإمارات العربية المتحدة عام .....

1917 – 1971 – 1970

3 - تبلغ مساحة دولة الإمارات العربية المتحدة .....

– 83.600 كم2 – 80.400 كم2 – 70.600 كم2

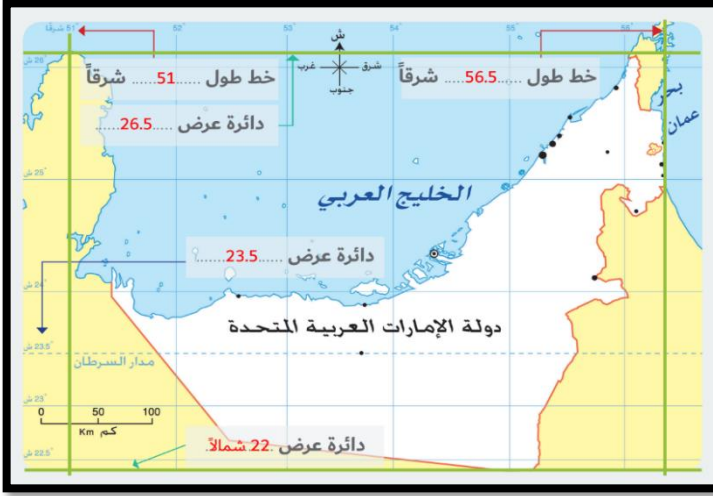
4 – عاصمة دولة الإمارات العربية المتحدة .....

– دبي – أبوظبي – الشارقة

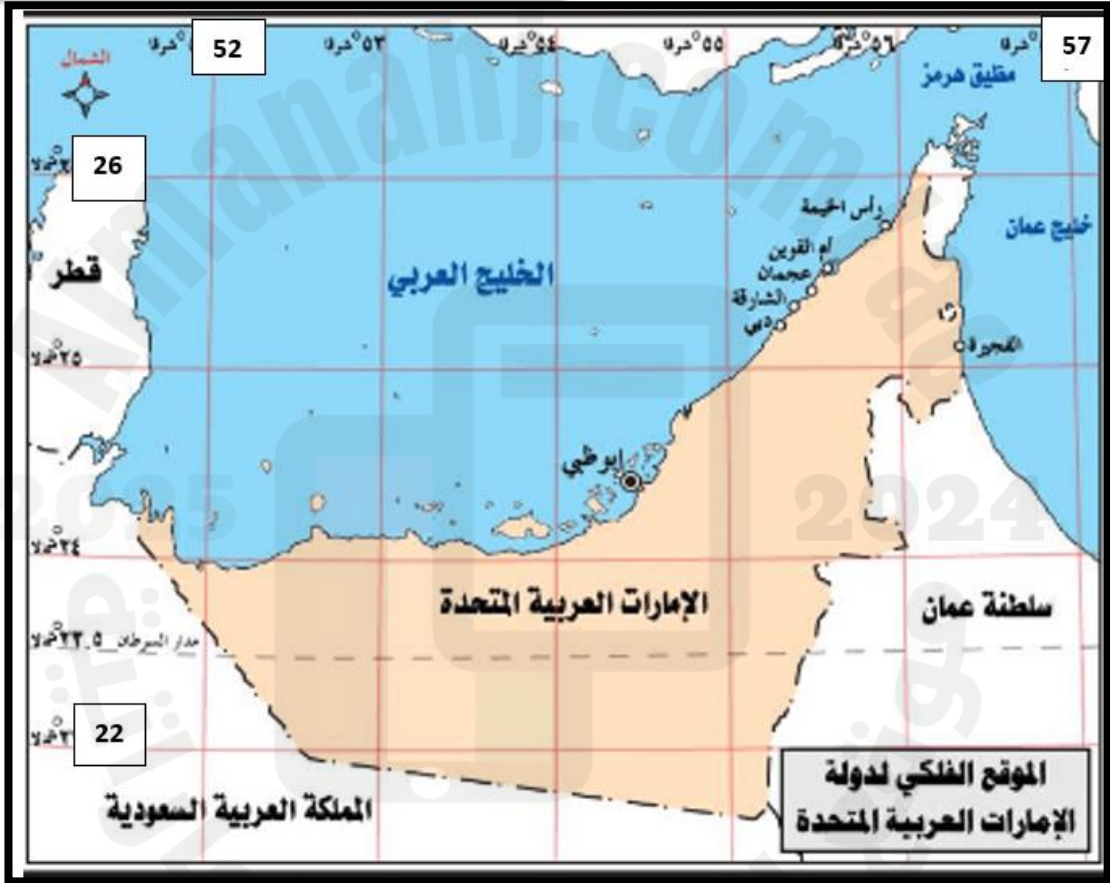
5 - تتألف الإمارات العربية المتحدة من عدد من الإمارات يبلغ .....

– ثلاث إمارات – أربع إمارات – سبع إمارات

## السؤال الثاني :



انظر إلى الخريطة المجاورة ثم حدد بخط على الخريطة بالأسفل الموقع الفلكي لدولة الإمارات :



- تقع دولتنا الحبيبة شرق خط جرينتش " من خط طول ..... شرقاً إلى خط طول ..... شرقاً .
- تقع دولتنا الحبيبة شمال خط الأستواء من دائرة عرض ..... شمالاً إلى دائرة عرض ..... شمالاً .
- دائرة العرض التي تمر بدولتنا الغالية هي مدار .....

## السؤال الثالث :

حدد يا بطل على خريطة شبه الجزيرة العربية دولة الإمارات العربية  
والدول والمسطحات المائية المحيطة :



– تشرف دولة الإمارات العربية المتحدة على مسطحين مائيين هما  
..... و .....

– حدود دولتنا الحبيبة من الشرق .....

– من الشمال .....

– من الجنوب والجنوب الغربي .....



## السؤال الرابع :

كون الحقائق الجغرافية من خلال الكلمات الآتية بمكانها (الشرقية / شبه الجزيرة العربية / وسط

تقع دولة الإمارات العربية المتحدة في ..... العالم .  
" حقيقة جغرافية 1 "



تقع دولة الإمارات العربية المتحدة في شرق .....  
" حقيقة جغرافية 2 "



تقع دولة الإمارات العربية المتحدة في الناحية ..... من الوطن العربي .  
" حقيقة جغرافية 3 "