

تم تحميل هذا الملف من موقع المناهج الإماراتية



ملخص التغذية الراجعة الوحدة الخامسة

[موقع المناهج](#) ⇨ [المناهج الإماراتية](#) ⇨ [الصف الرابع](#) ⇨ [اجتماعيات](#) ⇨ [الفصل الثالث](#) ⇨ [الملف](#)

تاريخ إضافة الملف على موقع المناهج: 2024-05-31 08:06:36

التواصل الاجتماعي بحسب الصف الرابع



اضغط هنا للحصول على جميع روابط "الصف الرابع"

روابط مواد الصف الرابع على تلغرام

[الرياضيات](#)

[اللغة الانجليزية](#)

[اللغة العربية](#)

[التربية الاسلامية](#)

المزيد من الملفات بحسب الصف الرابع والمادة اجتماعيات في الفصل الثالث

[مراجعة خاصة بالاختبار النهائي](#)

1

[النموذج التدريبي الأول](#)

2

[الهيكل الوزاري الجديد كافة المسارات](#)

3

[أوراق عمل الاسبوع الأول مصادر الدخل](#)

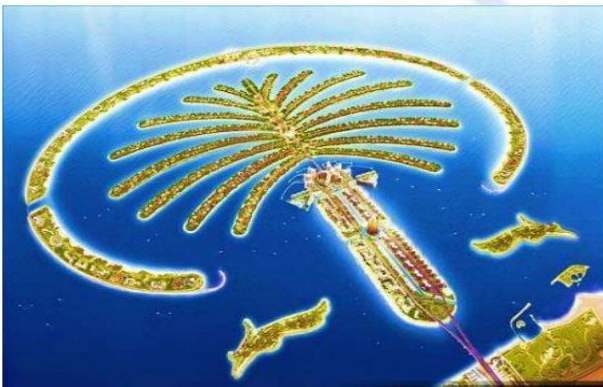
4

[نموذج تحليل محتوى وحدات المقرر](#)

5

ملخص التغذية الراجعة مادة الدراسات الاجتماعية والتربية الوطنية الصف الرابع

الوحدة الخامسة (الميزانية الشخصية)، إنجازات
اقتصادية في بلادي، مشاريع رائدة في بلادي
الفصل الدراسي الثالث 2023 - 2024 م



الوحدة الأولى : النمو الاقتصادي والابتكار

الدرس الأول : (الميزانية الشخصية)

مُخَطِّطُ الدَّرْسِ

أولًا: الدَّخْلُ.

ثانيًا: الإنفاقُ والادِّخَارُ.

ثالثًا: المَصْرُوفُ الشَّخْصِيُّ.

الميزانيَّةُ الشَّخْصِيَّةُ

1- الدخل

السؤال رقم 1 : ضع دائرة حول رمز الإجابة الصحيحة فيما يلي :

1- النقود التي تحصل عليها مقابل عمل تسمى :

A: الدخل B: الأجر C: الراتب D: جميع ما ذكر

2- الدخل وسيلة مهمة للفرد لأسباب :

A: للشراء B: تلبية الاحتياجات C: للترفيه D: جميع ما ذكر

3- الدخل يعد أساس الحياة

A: الاقتصادية B: الفلسفية C: الاجتماعية D: لا شيء مما ذكر

4- على مر العصور يعتبر الدخل مؤشر إيجابيالدول .

A: معيار B: تقدم C: علامة D: جميع ما ذكر

5- يحصل الأفراد على الدخل مقابل

A: حديثهم B: تسليتهم C: أعمالهم D: لا شيء مما ذكر

6- البعض يعمل بـ.....

A: بالزراعة B: بالتجارة C: بالصناعة D: جميع ما ذكر

7- ما يصنعه أو يزرعه الأفراد ويعرض في الأسواق يسمى :

A: منتج B: بضاعة C: سلعة D: لا شيء مما ذكر

8- يعمل البعض في أعمال تقدم المساعدة للناس تسمى الخدمات مثل :

A: التعليم B: الطب C: السياحة D: جميع ما ذكر

9 : أول عملة إماراتية في الإمارات هي الدرهم صدرت عام

A: 1971 B: 1973 C: 1970 D: 1975

10: كلما زاد دخل الفرد زاد ما

A: يستهلكه B: يصرفه C: يدخره D: جميع ما ذكر

11: واجبي المحافظة على دخلي و

A: وحسن استخدامه B: تبذيره C: توزيعه D: جميع ما ذكر

12- احتلت دولة الإمارات المركز عالميا كأغنى دول العالم / نصيب دخل الفرد .

A: الخامس B: الثالث C: الرابع D: لا شيء مما ذكر

2- الإنفاق والإدخار

السؤال رقم 1 : ضع دائرة حول رمز الإجابة الصحيحة فيما يلي :

1- مبلغ من النقود يقوم الفرد بإنفاقه للحصول على السلع والخدمات

A: الإنفاق B: الادخار C: التوفير D: لا شيء مما ذكر

2- يحث الإسلام على الاعتدال في الإنفاق وعدم والتبذير .

A: التهور B: الإسراف C: الصرف D: لا شيء مما ذكر

3- على الفرد مراعاة في أثناء الإنفاق والتوازن في ذلك .

A: التنزيلات B: العروض C: الأولويات D: الدعايات

4- يقام معرض للنخيل والتمور عالميا وسنوياً في إمارة

A: أبوظبي B: دبي C: عجمان D: الفجيرة

5- من فكر سمو الشيخ محمد بن راشد : (إن لم تكن فالثاني والأخير نفس المصير)

A: المتقدم B: الأول C: الصدارة D: البارز

6- تجاوز الحد في الإنفاق يطلق عليه مصطلح

A: توفير B: ادخار C: تبذير D: لا شيء مما ذكر

7- من أبواب الإنفاق (حاجات أساسية) مثل :

A: الغذاء B: المسكن C: الملابس D: جميع ما ذكر

7- من أبواب الإنفاق (حاجات أساسية) مثل :

A: الغذاء B: المسكن C: الملابس D: جميع ما ذكر

7- من أبواب الإنفاق (حاجات ثانوية) مثل :

A: النقل B: السفر C: الترفيه D: جميع ما ذكر

9 : يحفظ معظم الناس نقودهم في :

A: البنوك B: الخزانات C: السيارة D: لا شيء مما ذكر

10 : ابدأ يومك بصدقة فإنها

A: تزيد مالك B: تقلل مالك C: تجعلك فقيراً D: جميع ما ذكر

11- احتلت دولة الإمارات المركز عالمياً في مؤشر مشتريات الحكومة.

A: الأول B: الثالث C: الخامس D: لا شيء مما ذكر

12- من صنع الإمارات: (يود الحثحات لين يقولك الزمن)

A: خذ B: هات C: تعال D: لا شيء مما ذكر

3- المصروف الشخصي

السؤال رقم 1 : ضع دائرة حول رمز الإجابة الصحيحة فيما يلي :

1- المال وسيلة مهمة في حياتنا يجب استخدامه بصورة

A: سليمة B: عادية C: كيفما نحب D: وقتما نشاء

2- النقود تكشف جوانب الحياة وتساهم في كتابة التاريخ

A: الاجتماعي B: الاقتصادي C: السياسي D: لا شيء مما ذكر

3- حين أنظم وأدير ميزانيتي ، أستشير

A: أصدقائي B: لا أستشير أحد C: أمي وأبي D: الجيران

4- علي أن على المصروف الشخصي تقديرا لجهود أمي وأبي

A: أحافظ B: أهمل C: أبذر D: جميع ما ذكر

5- معنى الحاجات : كل ما يحتاجه الإنسان من

A: هدايا B: ألعاب C: ضروريات D: مكسرات وحلوى

6- أضع ما أوفره من مصروفي داخل

A: تحت السرير B: بحقيبة المدرسة C: الحصالة D: أسفل كرتبي

7- تخطيط الميزانية والتوفير والادخار أفضل درس في الحياة

A: نتعلمه B: لا ينبغي C: لا نحتاجه D: مجرد كلام

8- إدارة المصروف الشخصي يعد

A: خبرة B: مهارة C: تدريب D: تجربة

9 : أفضل وقت لتدريب الطفل على البدء في الادخار هو :

A: سن المراهقة B: لحظة دخول المدرسة C: الشباب D: جميع ما ذكر

10 : وصل عطاء الشيخ زايد - رحمه الله - إلى كل :

A: صغير وكبير B: فقير وغني C: قريب وبعيد D: جميع ما ذكر

11- التبذير من عمل

A: الشيطان B: من صديق سيء C: عدم تخطيط D: لا شيء مما ذكر

12- المال نعمة وجد

A: للتباهي B: للتكبر C: لقضاء حاجة D: لا شيء مما ذكر

النشاط رقم واحد: الربط مع الرياضيات يا عبقرى هل لك أن تحل المسائل الكتابية التالية؟

(يودّ الجحّات لين يقولك

الزمن هات).

يدلّ على أن يدخر جزءًا من

ماله لمواجهة المستقبل.

ما أهمية الادخار؟



مُحَمَّدٌ مُوَاطِنٌ فِي دَوْلَةِ الْإِمَارَاتِ الْعَرَبِيَّةِ الْمُتَّحِدَةِ يَعْمَلُ فِي وَزَارَةِ التَّغْيِيرِ الْمَنَاحِيِّ رَاتِبَةً الشَّهْرِيِّ 40000 دِرْهَمٍ، لَدَيْهِ شِقَّةٌ فِي مَدِينَةِ الْعَيْنِ أُجَارُهَا الشَّهْرِيُّ 4000 دِرْهَمٍ وَلَدَيْهِ تَاكْسِيٌّ يَعْمَلُ عَلَى خَطِّ أَبُو ظَبِي - الْعَيْنِ يَعْمَلُ عَلَيْهِ مُوظَّفٌ يَدْفَعُ لِمُحَمَّدٍ فِي الشَّهْرِ 1000، وَمُحَمَّدٌ مُهْتَمٌّ جِدًّا بِالزَّرَاعَةِ وَالثَّرْوَةِ الْحَيَوَانِيَّةِ لِذَلِكَ لَدَيْهِ عِزْبَةٌ فِي الْهَيْرِ يُحَقِّقُ مِنْهَا رِبْحٌ شَهْرِيٌّ يُقَدَّرُ بِ 3000 دِرْهَمٍ: الْمَطْلُوبُ أَحْسَبُ دَخْلَ مُحَمَّدٍ؟

.....

.....

.....

الدرس الاول الميزانية الشخصية



كثيرون على قيد
الحياة...قليلون على قيد
الإنسانية.....

الاسم :
الصف رابع :



السؤال الثاني : أضع إشارة () أو إشارة () أمام العبارات الآتية :

- () كلما زاد الدخل ازداد ما يستهلكه .
- () واجبي المحافظة على دخلي وحسن استخدامه .
- () يتشابه الافراد في طريقة انفاقهم للمال .
- () يحث الإسلام على عدم الاسراف والاعتدال .
- () ليس من الضرورة استشارة الوالين عند الشراء .



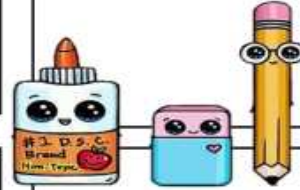
السؤال الرابع : فسري ما يلي :

يعد الدخل ضروري جدا .

للادخار أهمية كبيرة للفرد .

السؤال الأول : أكملني الجمل التالية :

- نقود التي تحصل عليها اسرتي عن طريق العمل تسمى.....
- صدرت عملة الامارات في عام وعرفت باسم
- احتلت الامارات المركز كأغنى دول العالم في نصيب الفرد من الدخل .
- ينفق الفرد الدخل في حاجات وحاجات
- يحفظ معظم الناس نقودهم في
- ما هي مصادر المصروف الشخصي و.....
- يعمل البعض في اعمال تقدم مساعدات (خدمات) مثل التعليم و.....



السؤال الثالث : أكتبي التعريف التالي :

- : وسيلة لشراء الأشياء التي تحتاجها وتلبيه الحاجات الضرورية .
- : مبلغ من النقود يقوم الفرد بانفاقه للحصول على السلع والخدمات .
- : توفير جزء من الدخل وعدم انفاقه .
- : أشياء نحصل عليها مثل الغذاء والملبس والمسكن .
- : أشياء يمكن الاستغناء عنها مثل النقل والمواصلات والسفر .

الوحدة الأولى : النمو الاقتصادي والابتكار

الدرس الثاني : (إنجازات اقتصادية في بلادي)

مُخَطِّطُ الدَّرْسِ

- أولًا: المَشروعاتُ الاقتصاديَّةُ.
- ثانيًا: المَشروعاتُ السِّيَاحيَّةُ (الجُزُرُ الإِصْطِناعيَّةُ).
- ثالثًا: الزِّراعةُ المائيَّةُ.

إنجازاتٌ اقتصاديَّةٌ في بلادي

احتلت ثلاث جُزُرٍ
اصطناعية في دولة
الإمارات العربية المتحدة
المركز الأول في قائمة
الجُزُرِ الأجمَلِ في العالم
لِعدَّةِ سنّواتٍ.

(الإنسانُ لن يعيشَ مئاتِ
السَّنِينِ، ولكنْ يُمكنُ أنْ
يُبدِعَ شيئًا يَستَمِرُّ لمئاتِ
السَّنِينِ).

صاحبُ السُّموِّ الشَّيْخِ مُحَمَّدُ بْنُ
رَاشِدِ آلِ مَكْتومٍ -رِعاةُ اللَّهِ.

السَّائِحُ: هو الشَّخْصُ الَّذِي
يُقدِمُ على السَّفَرِ داخِلَ
دولتِه أو خارجَها لِمُدَّةٍ
كافيةٍ بِقصدِ قضاءِ أوقاتِ
الفَرَاغِ والمُتعةِ.



الجزر الاصطناعية: بناء قام بتشكيلها
الانسان وتحيط بها المياه من اربع جهات .

جزر العالم نخلة جميرا

المرجان

أهمية الجزر الاصطناعية: زيادة الشواطئ -
زيادة السياح - زيادة الاقتصاد .

ظَهَرَتِ الزَّرَاعَةُ بَدُونِ تُرْبَةٍ
فِي الْقَرْنِ (18)، وَلَكِنَّهَا
اشْتَهَرَتْ حَدِيثًا.

الزَّرَاعَةُ الْمَائِيَّةُ تُقَلِّصُ
مَخَاطِرَ الْأَمْنِ الْغِذَائِيِّ.

الزَّرَاعَةُ الْمَائِيَّةُ بَدَأَتْ قَبْلَ
أَكْثَرِ مِنْ (25) عَامًا فِي
دَوْلَةِ الْإِمَارَاتِ الْعَرَبِيَّةِ
الْمُتَّحِدَةِ، وَيُشَجِّعُ صُنْدُوقُ
السَّيْحِ خَلِيفَةَ لِتَطْوِيرِ
الْمَشَارِيعِ الْمُزَارِعِينَ عَلَى
اسْتِخْدَامِ تَقْنِيَّاتِ الزَّرَاعَةِ
الْمَائِيَّةِ فِي أَرْضِيهِمْ.



الزراعة المائية: تعتمد على نمو النباتات
في المحاليل المغذية .

الطماطم

الفراولة

الخنس

الخيار

البقدونس

مزايا الزراعة المائية: التقليل من
استنزاف المياه – التقليل من الأسمدة –
طعام صحي – طول العام .

2- المشروعات السياحية (الجزر الصناعية)

السؤال رقم 1 : ضع دائرة حول رمز الإجابة الصحيحة فيما يلي :

1- تتميز الإمارات العربية بطبيعة خلابة من :

A: كثبان رملية B: بحار هادئة C: جبال وجزر D: جميع ما ذكر

2- الجزر التي تم بناؤها وتشكيلها بفعل الإنسان تعتبر جزر

A: طبيعية B: صناعية C: مستحدثة D: لا شيء مما ذكر

3- تحولت الجزر الصناعية لمشاريع تجذب السياح بإنشاء مشروعات..... داخلها .

A: سكنية B: تجارية C: سياحية D: كل ما ذكر

4- من يقدم على السفر داخل دولته أو خارجها يطلق عليه اسم

A: متنقل B: سائح C: مسافر D: لا شيء مما ذكر

5- إقامة الجزر الاصطناعية دليل على :

A: التطور B: التقدم C: عبقرية الإنسان D: كل ما ذكر

6- من أشهر الجزر الصناعية جزيرة :

A: النخلة B: العالم C: المرجان D: جميع ما ذكر

7- جزيرة النخلة من الجزر الاصطناعية الأجل في :

A: أبو ظبي B: دبي C: رأس الخيمة D: الفجيرة

8- مجموعة من الجزر الاصطناعية شكلت على شكل القارات هي :

A: جزر البحر B: جزر الخليج C: جزر العالم D: لا شيء مما ذكر

9 : فندق أتلانتس تم بناؤه في جزيرة

A: النخلة B: المرجان C: العالم D: لا شيء مما ذكر

10 : مجموعة جزر العالم تتألف من جزيرة

A: 500 B: 150 C: 300 D: 200

11- من أبرز نقاط الأهمية للجزر الصناعية :

A: جذب السياح B: اتساع مساحة الشواطئ C: مورد اقتصادي D: جميع ما ذكر

12- تضم أكبر عدد من الجزر في الدولة .

A: الشارقة B: أبو ظبي C: دبي D: لا شيء مما ذكر

3- الزراعة المائية

السؤال رقم 1 : ضع دائرة حول رمز الإجابة الصحيحة فيما يلي :

1- نوع من أنواع الزراعة يعتمد على نمو النباتات في المحاليل المغذية يسمى الزراعة :

A: الطبيعية B: الرملية C: الكيماوية D: المائية

2- بدأت الزراعة المائية في دولة الإمارات قبل عاما

A: 20 B: 25 C: 30 D: لا شيء مما ذكر

3- الجزء العلوي من القشرة الأرضية مكون من خليط عضوي وماء وهواء يسمى :

A: الرمال B: الصخور C: التربة الزراعية D: القشرة الأرضية

4- تتغلب الزراعة المائية على :

A: شح المياه B: فقر التربة C: نقص المساحة D: جميع ما ذكر

5- مزايا الزراعة المائية أنها تقلل من :

A: استنزاف المياه B: استهلاك الأسمدة C: زراعة طوال العام D: جميع ما ذكر

6- تقدم الإمارات الدعم لمن يستخدم الزراعة المائية بتقديم :

A: دعم مالي B: الاستشارات C: التدريب D: جميع ما ذكر

A: دعم مالي B: الاستشارات C: التدريب D: جميع ما ذكر

7- ظهرت الزراعة المائية في القرن لكنها اشتهرت حديثا .

A: 18 B: 15 C: 19 D: 20

8- الزراعة المائية تقلص مخاطر

A: الأمن الصحي B: الأمن الغذائي C: الأمن النفسي D: الأمن الاقتصادي

9 : من المحاصيل التي تنمو بطريقة الزراعة المائية :

A: الغاف B: النخيل C: الخيار D: جميع ما ذكر

10 : يمكن بالزراعة المائية أن تتم

A: داخل البيوت B: سطح المنزل C: أنابيب معلقة D : جميع ما ذكر

11- يستخدم نظام الري في ري الزراعة المائية .


A: المضخات B: التنقيط C: الخراطيم D: جميع ما ذكر

12- حققت الإمارات مركزا متقدما في الابتكار العالمي من بين دولة .

A: 50 B: 45 C: 41 D: لا شيء مما ذكر

تَمْتَارُ دَوْلَةُ الإِمَارَاتِ
العَرَبِيَّةِ المُتَّحِدَةِ بِسَطْوَعِ
شَمْسِيٍّ كَبِيرٍ وَصَفَاءِ الجَوِّ،
مِمَّا يُمَثِّلُ مَوْرِدًا طَبِيعِيًّا
لَهَا.

الدرس الثاني إنجازات اقتصادية في بلادي



الاسم :
الصف رابع :

السؤال الأول : أكمل الجملة التالية :

- تعد محطة من اكبر محطة من نوعها على مستوى العالم .
- يعد من اهم عوامل نجاح المشاريع الرائدة في الدولة .
- فندق..... تم بناؤه في جزيرة نخلة جميعا .
- جزيرة مكونه من الجذع والتاج والسعف .
- جزر العالم تتكون من جزيرة
- جزيرة المرجان موجودة في إمارة
- تضم أكبر عدد من الجزر الاصطناعية .
- من الخضروات التي يتم زراعتها بأسلوب الزراعة المائية مثل و.....
- من العوامل الطبيعية: الموقع و..... و.....
- من العوامل البشرية : الايدي العاملة و..... و.....

السؤال الثاني : أضع إشارة () أو إشارة () أمام العبارات الاتية :

- () الابداع والابتكار في المشاريع الاقتصادية ضروري .
- () تسعى الامارات الى الحفاظ على البيئة في إقامة المشاريع .
- () تعتمد الامارات على الطاقة التقليدية فقط .
- () الجزر الاصطناعية دليل على التطور والتقدم .



السؤال الثالث : أكتب التعريف التالي :

- : جزر التي تم بناؤها وتشكيلها بفعل الانسان .
- : الشخص الذي يقدم على السفر داخل الدولة وخارجها .
- : زراعة تعتمد على نمو النباتات في المحاليل المغذية .
- : الجزء العلوي من القشرة الأرضية مكونة من المعادن والماء والهواء .

السؤال الرابع : فسري ما يلي :

للجزر الاصطناعية أهمية اقتصادية .

الزراعة المائية لها الكثير من المزايا .

التالي

مزايا الزراعة المائية

استعن بالكلمات الموجودة في صندوق
المعرفة لتكملة المخطط الذهني الآتي :



التقليل من



الزراعة



تقلل من



إنتاج

استنزاف المياه الأسمدة

الغذاء الصحي طوال السنة

المخطط التالي

أكمل

أسباب نجاح المشروعات الاقتصادية في بلادنا

عوامل بشرية

عوامل طبيعية

التكنولوجيا



.....



المناخ



موارد المياه



.....

.....

.....

.....

استعن بالكلمات الموجودة في صندوق
المعرفة لتكملة المخطط الذهني الآتي :

الأيدي العاملة

الثروات الطبيعية

توافر المال

الموقع الجغرافي

إدارة حكيمة

الوحدة الأولى : النمو الاقتصادي والابتكار

الدرس الثالث : (مشاريع رائدة في بلادي)

مُخَطِّط الدّرس

أولاً: السُّدود.

ثانياً: الأنفاق.

ثالثاً: النُّقلُ والمواصلاتُ.

مشاريع رائدة في بلادي



السدود : بناء هندسي بالقرب من وادي
او نهر بهدف حجز المياه .

وادي البيح

وادي حام

أهمية السدود : تخزين المياه – زيادة
الحياة الجوفية – الحماية من الفيضانات
بلغ عدد السدود ١٣٠ سدا وتتركز في
المناطق الشمالية والشرقية لوجود
المناطق الجبلية .



الانفاق : طريق تحت سطح الأرض يربط
بين منطقتين.

نفق المطار **نفق الشندغة**

أهمية السدود : النقل البري – حل
المشكلات – الاعمال العامة.



وسائل التنقل : وسيلة ابتكرها الانسان
للتنقل من مكان الى آخر .

بحري

بري

جوي

أهمية وسائل التنقل : نقل البضائع – تواصل
الناس – تنشيط حركة السفر والسياحة .

من اهم المشاريع : **مترو دبي و ترام دبي**

تَعْمَلُ الْجِهَاتُ الْمُخْتَصَّةُ
فِي الدَّوَلَةِ عَلَى عَمَلِ صِيَانَةِ
دَوْرِيَّةِ للسُّدُودِ لِلحِفَافِ
عَلَيْهَا.

الدرس الثالث مشاريع رائدة في بلادي

الاسم :
الصف رابع :

السؤال الثاني : أضع إشارة () أو إشارة () أمام العبارات الاتية :

- () صممت الانفاق بطريقة مستوحاه من التراث.
- () مترو دبي له خطين الأحمر والاخضر .
- () ترام دبي يعمل بالتغذية الكهربائية الارضية.

السؤال الرابع : فسري ما يلي :

للسدود أهمية في دولة الامارات .

الانفاق لها استخدامات عديدة مثل .

وسائل النقل لها أهمية كبيرة

السؤال الأول : أكمل الجملة التالية :

- بلغ عدد السدود في الامارات حواليسد.
- تتوزع السدود في المنطقة الشمالية و..... وذلك لوجود المناطق
- من اهم السدود :و.....
- يقع سد البيح في امانة وسد حام في امانة
- من اقدم الانفاق في الامارات نفق.....
- من إنجازات الامارات في الانفاق : نفق ونفق.....
- يستخدم القطار الطاقة
- من أنواع وسائل النقل والمواصلات هيو.....و.....
- هو شبكة مترو بدون سائق تم افتتاحه في عام.....
- شبكة قطارات تعمل بسائق .

السؤال الثالث : أكتبني التعريف التالي :

- : انشاء هندسي فوق وادي او نهر بهدف حجز المياه.
- : طريق تحت سطح الأرض يربط بين منطقتين.
- : مخلفات سائلة من المجمعات السكنية والصناعية .
- : وسيلة ابتكرها الانسان للتنقل من مكان الى آخر .



1- السدود

السؤال رقم 1 : ضع دائرة حول رمز الإجابة الصحيحة فيما يلي :

1- إنشاء هندسي يقام فوق واد منخفض أو نهر يسمى :

A: معبر B: نفق C: جسر D: سد

2- تقام السدود بهدف :

A: منظر جمالي B: حجز المياه C: تقليل خطر الفيضان D: لا شيء مما ذكر

3- تعزز السدود الموارد

A: المائية B: الغذائية C: المالية D: السياحية

4- بلغ عدد السدود في الإمارات حتى عام 2015 م

A: 150 B: 160 C: 130 D: 140

5- تتوزع السدود في الإمارات ما بين المناطق

A: الشرقية B: الشمالية الشرقية C: الشمالية D: لا شيء مما ذكر

6- يقع سد وادي البيح في :

A: رأس الخيمة B: الفجيرة C: العين D: حتا

7- أنشئ سد وادي حام في إمارة الفجيرة عام

A: 1980 B: 1982 C: 1971 D: 1975

8- تم بناء سد الشويب في بعدما غرقت المنطقة بمياه الأمطار والأودية .

A: دبي B: أبوظبي C: العين D: الشارقة

9 : (مبروك عليكم الرحمة) عبارة من صنع الإمارات تقال

A: قبل سقوط المطر B: بعد سقوط المطر C: عند هبوب الرياح D: جميع ما ذكر

10 : تعمل السدود على تهدئة

A: السيول B: الأعاصير C: الفيضانات D : جميع ما ذكر

11- يتبخر الماء إلى أعلى بفعل ارتفاع درجات الحرارة على شكل

A: ذرات ماء B: بخار C: ضباب D: جميع ما ذكر

12- مثل إماراتي شائع : (الغيم والرب رحوم) .

A: يدوم B: يدور C: يحوم D: لا شيء مما ذكر

2- الأنفاق

السؤال رقم 1 : ضع دائرة حول رمز الإجابة الصحيحة فيما يلي :

1- طريق تحت سطح الأرض أنشئ بهدف الربط بين منطقتين يسمى :

A: النفق B: المعبر C: الطريق D: الممر

2- إنشاء الأنفاق يعتبر من المشاريع الهندسية التي تعكس مظهرها

A: جماليا B: حضاريا C: تنظيميا D: جميع ما ذكر

3- قال سمو الشيخ محمد بن راشد : (إذا كانت العربية هي السياسة والحصان هو الاقتصاد يجب وضع الحصان

A: جانب العربية B: أمام العربية C: خلف العربية D: بلا حصان

4- المخلفات السائلة المصروفة من المجمعات السكنية والمباني التجارية تسمى :

A: مياه التنقية B: مياه المجاري C: مياه الصرف الصحي D: جميع ما ذكر

5- صممت أنفاق دبي بطريقة مستوحاة من

A: الموروث الشعبي B: تصاميم أوروبية C: تصميم حضاري D: لا شيء مما ذكر

6- تستخدم الأنفاق في الإمارات في أغراض :

A: النقل البري B: السلامة والتنظيم C: حركة المشاة D: كل ما ذكر

7- نفق الشندغة تم إنشاؤه عام 1975 م في إمارة

A: دبي B: أبو ظبي C: الشارقة D: عجمان

8- من أطول الأنفاق وأعرضها في دبي نفق

A: الخوانيج B: المطار C: مكتوم D: لا شيء مما ذكر

9 : إذا أخطأت بحق أحد فإتني

A: أخاصمه B: أشتمه C: أعتذر D: جميع ما ذكر

10 : الأنفاق تساهم في حل المشكلات العامة مثل :

A: مياه الصرف B: أنابيب الغاز C: شبكات الكهرباء D : جميع ما ذكر

11- من الأقوال التراثية : (دربك درب) .

A: العافية B: السهالة C: الخير D: جميع ما ذكر

12- تعتمد مشاريع الإمارات الرائدة على :

A: الابتكار B: الإبداع C: التنوع D: جميع ما ذكر

3- النقل والمواصلات

السؤال رقم 1 : ضع دائرة حول رمز الإجابة الصحيحة فيما يلي :

1- وسائل النقل والمواصلات تتنوع ما بين :

A: برية B: بحرية C: جوية D: جميع ما ذكر

2- الوسائط التي ابتكرها الإنسان وسخرها من أجل خدمة التنقل تسمى وسائل :

A: نقل B: تواصل C: تعارف D: لا شيء مما ذكر

3- وسائل النقل تستخدم في :

A: نقل الأشخاص B: نقل السلع C: الاستخدام الشخصي D: جميع ما ذكر

4- تتلخص أهمية النقل في :

A: سهولة التواصل B: سهولة نقل السلع C: السياحة D: جميع ما ذكر

5- المترو الذي دخل موسوعة جينيس هو مترو..... في الإمارات .

A: أبوظبي B: دبي C: مترو الشارقة D: مترو عجمان

6- مترو دبي يعد أطول شبكة مترو عالمي آلي بالكامل يمتد لمسافة.... كيلومتر مربع.

A: 80 B: 60 C: 75 D: 70

7- السير مشيا على الأقدام يحافظ على :

A: رشاقة الجسم B: خفض الوزن C: لياقة العضلات D: جميع ما ذكر

8- يستخدم قطار دبي الطاقة..... وتعد الحركة من أشكال الطاقة .

A: الشمسية B: الكهربائية C: المائية D: لا شيء مما ذكر

9 : وضعك لحزام الأمان ضمان لـ.....

A: يقيد حركتك B: يعيق حركتك C: سلامتك D: جميع ما ذكر

10 : وسائل النقل العام تتميز بأنها :

A: قليلة التكاليف B: تقلل الازدحام C: تقلل التلوث D : جميع ما ذكر

11- تم افتتاح مترو دبي عام

A: 2008 B: 2009 C: 2007 D: 2010

12- بعد قيام الاتحاد لم يكن في الإمارات سوى مطارات .

A: خمس B: سبع C: ثلاث D: لا شيء مما ذكر