

شكراً لتحميلك هذا الملف من موقع المناهج الإماراتية



أسئلة النموذج التدريبي المنهج المتكامل

موقع المناهج ← المناهج الإماراتية ← الصف الرابع ← اجتماعيات ← الفصل الأول ← الملف

التواصل الاجتماعي بحسب الصف الرابع



روابط مواد الصف الرابع على تلغرام

[الرياضيات](#)

[اللغة الانجليزية](#)

[اللغة العربية](#)

[التربية الاسلامية](#)

المزيد من الملفات بحسب الصف الرابع والمادة اجتماعيات في الفصل الأول

التحليل الفصلي للمنهاج	1
كتاب الطالب	2
كتاب دليل المعلم	3
أسئلة النموذج التدريبي المنهج المتكامل	4
حل مراجعة عامة نهائية	5

النموذج التدريبي لاختبار المنهج المتكامل لدراسات الاجتماعية والتربية الأخلاقية - الصف الرابع - الفصل الأول 2022-2023

➤ اقرأ النص الآتي قراءة مُتَمَعِنَةً، ثُمَّ أَجِبْ:

أدى قيامُ دَوْلَةِ الإماراتِ العَرَبِيَّةِ المُتَّحِدَةِ عامَ 1971م، إلى تَغْيِيرِ مِظَاهِرِ الحَيَاةِ فِي جَمِيعِ مَنَاطِقِ الدَّوْلَةِ، وَتَغْيِيرَتِ حَيَاةِ أبنَاءِ الإماراتِ بِشكْلِ كَبِيرٍ، فَبجَهودِ وَإِخْلَاصِ الأَبَاءِ المؤسِّسِينَ الَّذِينَ أَسَّسُوا لِلاتِّحَادِ، تَوَحَّدَتِ الإماراتُ السَّبْعُ بِقِيَادَةِ رَئِيسِ الدَّوْلَةِ الشَّيخِ زَايِدِ بْنِ سُلْطَانَ آلِ نَهْيَانَ - رَحِمَهُ اللهُ -، وَشَمِلَتِ التَّنْمِيَةَ جَمِيعَ جَوَانِبِ الحَيَاةِ، فَزَادَ عَدَدُ المَدَارِسِ وَالجَامِعَاتِ، وَتَطَوَّرَتِ المُسْتَشْفِيَّاتُ وَالجَدَمَاتُ الطَّبِيبِيَّةُ، وَارْتَفَعَتِ الأَبْرَاجُ وَالمَبَانِي المُصَمَّمَةُ بِأحدثِ التَّصَامِيمِ الهِنْدَسِيَّةِ، وَحَقَّقَتِ دَوْلَةُ الإماراتِ العَرَبِيَّةِ المُتَّحِدَةِ، المَرَاكِزَ الأُولَى عَالَمِيًّا فِي سِتِّ المَجَالَاتِ، وَاليَوْمِ وَبِإِخْلَاصِ قَادَةِ الدَّوْلَةِ وَحُبِّهِمُ لِلوَطَنِ العَالِي، وَصَلَ أبنَاءُ الإماراتِ الفَضَاءَ، وَنَالَتِ المَرَأَةُ حُقُوقَهَا، فَشَغَلَتِ أَعْلَى المَنَاصِبِ وَعَمَلَتِ فِي كُلِّ المِهْنِ، فَأَصْبَحَتِ المُعَلِّمَةُ وَالمُهَنْدِسَةُ وَرَأِئِدَةُ فَضَاءٍ، فَبَعْدَ أَنْ كَانَتِ حَيَاةُ السُّكَّانِ وَمَعِيشَتُهُمْ قَدِيمًا تَتَمَيَّزُ بِالبَسَاطَةِ وَالمُشَقَّةِ، حَيْثُ اعْتَمَدَ سُكَّانُ الإماراتِ قَبْلَ عامِ 1971، عَلَى التَّنَقُّلِ وَالتَّرْحَالِ وَالعَمَلِ فِي مِهْنٍ صَعْبَةٍ، كَمِهْنَةِ الرِّعْيِ فِي البَادِيَةِ، وَمِهْنَةِ صَيْدِ السَّمَكِ وَالعُوصِ عَلَى اللُّوْلُوِّ وَصِنَاعَةِ السُّفُنِ فِي المَنَاطِقِ السَّاحِلِيَّةِ، اليَوْمِ يَعْمَلُ أبنَاءُ الإماراتِ فِي الهِنْدَسِيَّةِ وَالمُطَبِّعِ وَالعِلْمِ الحَاسُوبِ وَالمُبرَمِّجَةِ الذَّكِيَّةِ، مُعْتَمِدِينَ عَلَى مَا دَرَسُوهُ مِنَ عُلُومٍ مُتَطَوَّرَةٍ، وَدَعَمَ مِنَ قَادَةِ الدَّوْلَةِ لِتَوْفِيرِ كُلِّ مَا يَحْتَاجُهُ المُواطِنُ مِنَ خَدَمَاتٍ وَحَيَاةٍ كَرِيمَةٍ سَعِيدَةٍ، وَيَنْظُرُونَ لِلْمُسْتَقْبَلِ وَاثْقِينَ بِقُدْرَاتِهِمْ عَلَى النِّجَاحِ وَالتَّمْيِيزِ، وَمُحَافِظِينَ عَلَى هَوِيَّتِهِمُ الوَطَنِيَّةِ وَالمُرَاطِبِ الدِّينِيَّةِ وَاللُّغَوِيَّةِ وَالجَمَاعِيَّةِ الَّتِي تُوَحِّدُ فِيهَا بَيْنَهُمْ وَتَزِيدُهُمْ قُوَّةً.

ضع دائرة حول الاجابة الصحيحة فيما يلي

1- تغيرت حياة السكان في دولة الامارات بعد عام 1971 بسبب:

أ- ارتياد الفضاء

ب- اتحاد الامارات السبع وقيام الدولة

ج- تطور الخدمات الطبية

2 - يؤدي قوة الروابط الاجتماعية بين أبناء دولة الإمارات إلى مجتمع:

أ- متماسك

ب- ضعيف

ج- متباعد

3- يفهم من خلال النص أن كلمة " التنمية " يقصد بها:

أ- الثبات والمحافظة على القديم

ب- التخلف والتأخر

ج- التطور والتقدم

4- عملَ بمهنة صيد السمك في دولة الإمارات قبل قيام الاتحاد، سكان المناطق:

أ- الساحلية

ب- الجبلية

ج- البادية

5- نحافظ على هويتنا الوطنية، من خلال

أ- زيارة الأهل في المناسبات فقط

ب- التمسك بعادات السنع الاماراتي

ج- عدم لبس الزي الوطني

6- يعيش أبناء الإمارات حياة كريمة وسعيدة، بسبب

أ- اهتمام قادة الدولة بتوفير كل الاحتياجات

ب- توفر وظائف البرمجة الذكية

ج- مشاركة المرأة في مهن مختلفة

alManahj.com/ae

7- علام تدل هذه الصورة:


أ- دور المرأة الإماراتية في الماضي

ب- دور المرأة الإماراتية في الحاضر

ج- مشاركة المرأة في مهن مختلفة




مع تمنياتي لكم بالنجاح والتوفيق
معلمتكم رضا نوار



تم تحميل هذا الملف من
موقع المناهج الإماراتية

alManahj.com/ae



تم تحميل هذا الملف من
موقع المناهج الإماراتية

alManahj.com/ae

6- ما حَطُّ الطول الذي يمرُّ على دَوْلَةِ تونُس؟



تم تحميل هذا الملف من
7- ما الدول التي تُمرَّبها دائرة العرض 20N من الدول التالية ؟

أ- عُمان وموريتانيا.

ب- مصر وليبيا.

ج- تونس والمغرب.

د- العراق ولبنان.

alManahj.com/ae

8- ما القارة التي تقع فيها دولة الإمارات ؟

أ- آسيا.

ب- أوروبا.

ج- أمريكا الجنوبية.

د- أفريقيا.

9- ما القارات التي ينتمي إليها الوطن العربي ؟

أ- أوروبا وأفريقيا.


ب- آسيا وأفريقيا.

ج- أمريكا وأستراليا.

د- آسيا وأستراليا.

10- أي الدول التالية تُطلُّ على مسطح مائيٍّ واحدٍ فقط ؟

أ- لبنان.



تم تحميل هذا الملف من
موقع المناهج الإماراتية

alManahj.com/ae