

تم تحميل هذا الملف من موقع المناهج الإماراتية



أسئلة الاختبار التقويمي الأول منهج انسابير

موقع المناهج ← المناهج الإماراتية ← الصف الرابع ← علوم ← الفصل الأول ← اختبارات ← الملف

تاريخ إضافة الملف على موقع المناهج: 2024-10-21 18:16:50

ملفات اكتب للمعلم اكتب للطالب الاختبارات الكترونية الاختبارات حلول عروض بوربوينت أوراق عمل منهج انجليزي ملخصات وتقارير مذكرات وبنوك الامتحان النهائي للمدرس

المزيد من مادة علوم:

إعداد: David Tushar Monika

التواصل الاجتماعي بحسب الصف الرابع



صفحة المناهج الإماراتية على فيسبوك

الرياضيات

اللغة الانجليزية

اللغة العربية

التربية الاسلامية

المواد على تلغرام

المزيد من الملفات بحسب الصف الرابع والمادة علوم في الفصل الأول

ورقة عمل الدرس الثاني fossils and rock from Evidence أدلة من الصخور والأحافير من الوحدة الثالثة

1

ورقة عمل درس الأنظمة في الحيوانات

2

أوراق عمل الدرس الثاني تصنيف الكائنات الحية من الوحدة الثانية ممالك الحياة

3

حل كامل كتاب الطالب المجلد الأول

4

عرض بوربوينت يتضمن لمراجعة على درس مظاهر التكيف

5

Science CA QUIZ-1 Term-1 2023/2024

By-Ms. Monika Tushar David

Name

Gr4-

Total

25

Circle the letter of the correct answer

Question 1

2

A flat land that is higher than the land around it.



A Plain

C Plateau

B Canyon

D Coast

Question 2

2

Which of the following is a large body of salt water?

A A mountain

C A plain

B A canyon

D A beach

Question 3

2

An area of low land between two mountains or hills.



A	Mountains	C	Desert
B	Valley	D	Canyon

Question 4

2

Scientist can tell which fossils are the oldest by looking at the bedrock. Which of the following layers contains the oldest fossils?



A	Layer A	C	Layer C
B	Layer B	D	Layer D

Question 5

2

A **paleontologist** found a crocodile fossil in the desert. Based on this discovery, **what conclusion can you draw** about what this **landscape was like in the past**?

- A The climate was very cold and dry
- B The climate was very warm and had periods of rain
- C The climate has periods of cold winters and warm summers
- D The climate was very warm and dry

Question 6

2

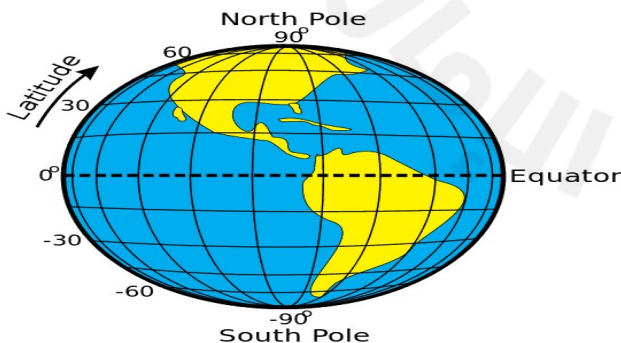
Which of the following is **a wide flat area**?

- | | | | |
|---|------------|---|---------|
| A | A mountain | C | A plain |
| B | A canyon | D | A beach |

Question 7

2

_____ is used to describe **how far north or south** a place is from the equator.



A) Latitude

B) Longitude

Question 8

2

Identify the given map?



A) Topographic map

B) Relief map

Question 9

2

_____ form from sediments that are cemented or pressed together.



A Sediments

B Fossils

C Sands

D Sedimentary rocks

Question 10

2

Which of the following letters represents the **delta** feature in the map below?

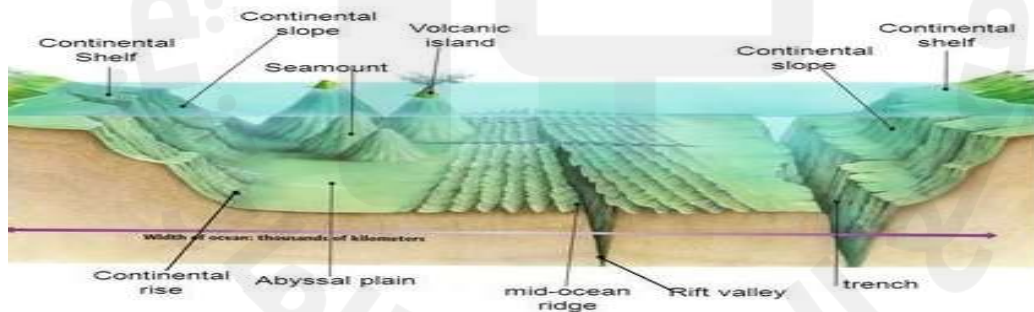


A	A
B	B
C	C
D	D

Question 11

2

Name the **underground mountain in the ocean** floor features?



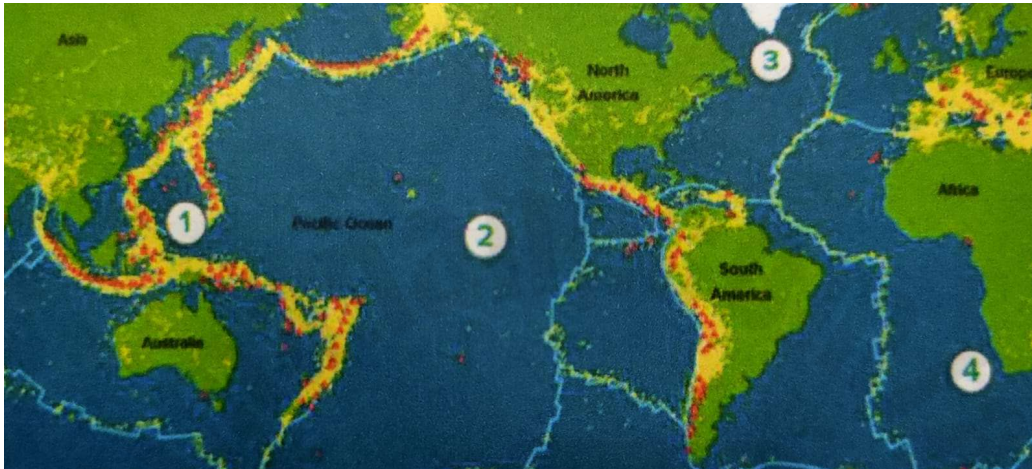
A	Rift Valley
B	Trench
C	Seamount
D	Continental Slope

Question 12

2

The map below shows Earth's crust broken into 12 major plates. These plates are in constant motion, and Earth experiences earthquakes every day.

Think about patterns of earthquakes. Which number on the map shows where earthquakes most likely to occur?



A	1
B	2
C	3
D	4

Question 13

1

Name the scientist who studied fossils?

A	Geographer	C	Paleontologist
B	Cartographer	D	Biologist