

تم تحميل هذا الملف من موقع المناهج الإماراتية



*للحصول على أوراق عمل لجميع الصفوف وجميع المواد اضغط هنا

<https://almanahj.com/ae>

* للحصول على أوراق عمل لجميع مواد الصف الرابع اضغط هنا

<https://almanahj.com/ae/4>

* للحصول على جميع أوراق الصف الرابع في مادة اجتماعيات وجميع الفصول, اضغط هنا

<https://almanahj.com/ae/4>

* للحصول على أوراق عمل لجميع مواد الصف الرابع في مادة اجتماعيات الخاصة بـ اضغط هنا

<https://almanahj.com/ae/4>

* لتحميل كتب جميع المواد في جميع الفصول للـ الصف الرابع اضغط هنا

<https://almanahj.com/ae/grade4>

للتحدث إلى بوت المناهج على تلغرام: اضغط هنا

https://t.me/almanahj_bot



2020
عام الاستعداد للخمسين

الدراسات الاجتماعية



اعداد المعطمة // دنيا طه



التعليم
عن بعد

السؤال الاول - مهارة قراءة النصوص واستخراج الاجابات الصحيحة :

- اقرأ الفقرة التالية عن السكان ثم أجب عما يأتي من أسئلة:

وفي الفترة من 2005-2010، نما عدد سكان الدولة من 1.4 مليون إلى 3.8 مليون نسمة، وبلغت نسبة المواطنين منها أقل من (1 مليون نسمة) 947,947

ووفقاً لتقديرات البنك الدولي وشعبة السكان التابعة للأمم المتحدة، بلغ عدد سكان دولة الإمارات حوالي تسع ملايين نسمة في عام 2014، ولا يزال عدد الوافدين المقيمين يفوق عدد المواطنين، حيث تحتضن الدولة أكثر من 200 جنسية تنعم بالحياة الكريمة والاحترام وفقاً لثقافة التسامح والاعتدال التي تتبناها الدولة.

كما إنه وفقاً لنتائج إحصاءات السكان لعام 2014 في أكبر إمارتين في دولة الإمارات، بلغ عدد الوافدين المقيمين في إمارة أبوظبي نحو 6.2 مليون (مركز الإحصاء - أبوظبي) ، بينما بلغ عدد الوافدين المقيمين في إمارة دبي 3.2 مليون نسمة (مركز دبي للإحصاء) .

تسعى حكومة إلى تحقيق التوازن في المزيج السكاني بين المواطنين والوافدين. وتحقيقاً لذلك، أطلق صاحب السمو الشيخ خليفة بن زايد آل نهيان رئيس الدولة "حفظه الله" العام 2008 عاما للهوية الوطنية، بما يحفظ للوطن وجوده، وللمواطن هويته، وللمجتمع تماسكه، داعياً سموه إلى وضع برنامج يواجه آثار العولمة السلبية، وخلل التركيبة السكانية في المرحلة المقبلة، وبدء الأنشطة الرسمية التي تهدف إلى الحفاظ على الهوية الإماراتية .

1 - كم نما سكان الدولة بين عامي 2005-2010 ؟ من 1.4 مليون إلى 3.8 مليون

2 - كم بلغت نسبة المواطنين بين عامي 2005-2010؟

أقل من مليون نسمة.

3 - كم بلغ سكان الامارات عام 2014 ؟

تسع ملايين نسمة.

4 - كم بلغ عدد الوافدين بابوظبي عام 2014؟

6.2 مليون نسمة.

5 - كم بلغ عدد الوافدين بدبي عام 2014؟

3.2 مليون نسمة.

مهارة قراءة الصور والاشكال



1 - كم عدد الرخص التجارية التي تسجل بالامارت يوميا عام 2019؟

70 رخصة.

2 - كم بلغ نمو القطاعات غير النفطية؟

3.7% .

3 - كم اجمالي عدد الرخص حتى 14 يناير؟

541344 .

4 - كم عدد الرخص في نهاية شهر ديسمبر عام 2018

540359 .

5 - كم بلغ نمو القطاعات النفطية ؟

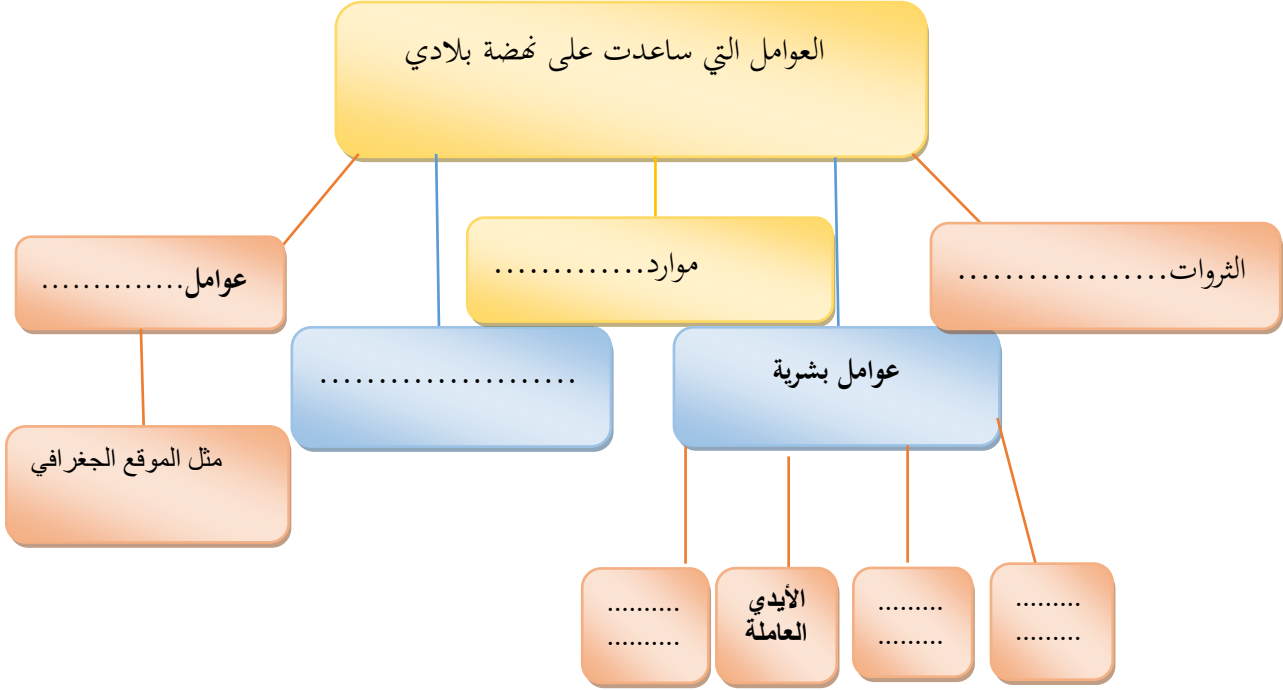
5.2% .

6 - كم نسبة نمو الناتج المحلي المتوقع للامارت في 2019 ؟

4.2% .

ورقة عمل درس (إنجازات إقتصادية في بلادي)

السؤال الأول: إستكمل يا صغيري المخطط الآتي للعوامل التي ساعدت على نهضة دولة الإمارات :-



السؤال الثاني :- لون المربع أمام العبارة الصحيحة فقط:-

	الجزيرة هي منطقة من اليابسة محاطة بالمياه من ثلاث جهات فقط.
	تضم إمارة دبي أكبر عدد من الجزر الصناعية بدولة الإمارات العربية المتحدة.
	من مزايا الزراعة المائية زيادة إستهلاك المياه.
	ظهرت الزراعة بدون تربة في القرن 18 ولكنها اشتهرت حديثا.

تقتصر الزراعة المائية على فصلي الشتاء والخريف فقط.



السؤال الثالث:- هيا أيها المبدع إكتب أمام كل جزيرة إسمها ومكان تواجدها:-

الإسم ومكان التواجد	الصورة
<p>.....</p> <p>.....</p>	
<p>.....</p> <p>.....</p>	
<p>.....</p> <p>.....</p>	



اكتب بإبداعك مفهوم المصطلحات التالية:-

.....**الجزيرة:-

.....**شبه الجزيرة:-

.....**الزراعة المائية:-

.....**الجزر الصناعية:-

اذا كان السؤال صعب فلا تيأس

لأنك تمتلك عقل متميز

وتستطيع الإجابة ,,,,,,,,,,

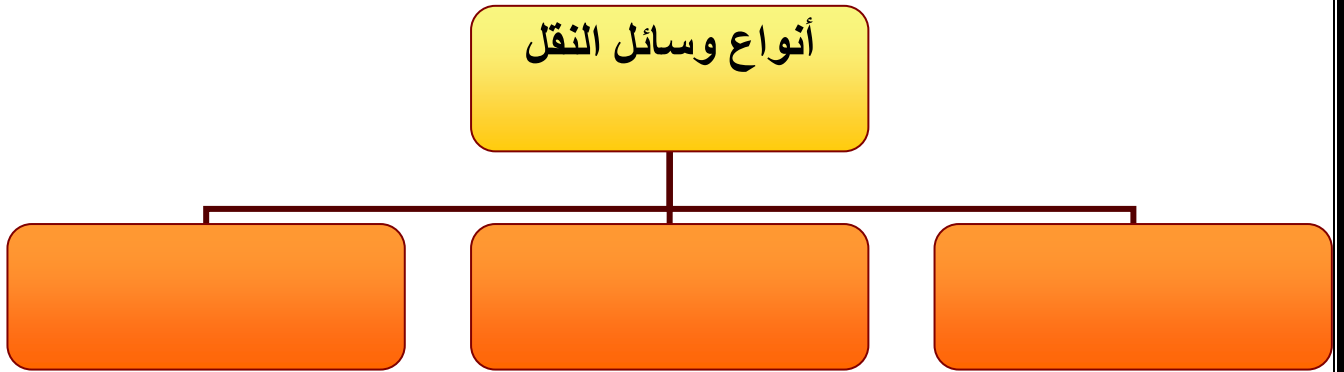
استعن بالله وفكر
قليلا قبل الإجابة
وأبدع في
إجابتك،،،،،

ورقة عمل درس (مشاريع رائدة في بلادي)

السؤال الأول: لاحظ يا صغيري الآتي ثم اكتشف (من أنما) :-

- (.....) الطرق التي ابتكرها الإنسان لخدمته في التنقل من مكان لآخر.
(.....) طريق تحت سطح الأرض بهدف الربط بين منطقتين.
(.....) إنشاء هندسي يقام فوق وادي منخفض أو نهر بهدف حجز المياه.

السؤال الثاني: أستكمل المخطط الآتي :-



أهمية وسائل النقل والمواصلات؟

.....

.....

.....

اسم النفق:-.....

المكان:.....

تاريخ الإنشاء:-.....

في عهد الشيخ:-.....



السؤال الثالث:- أكمل العبارات التالية:-

**من أهم السدود في دولة الإمارات العربية المتحدة:-

.....و.....

**أهمية السدود.....و.....

**تم افتتاح مترو دبي عام بخطين.....و.....الذان
يخدمان عدد كبير من المناطق.

**شبكة قطارات دبي تعمل بسائق ويعمل بالتغذية الكهربائية الأرضية هو

.....

** سمي عام 2020 بعام

فكر قليلا ثم
أجب لأنك
تمتلك عقل جميل
ومميز,,,,,

ورقة عمل درس (إبداعات جدي)

السؤال الأول: صل يا صغيري الصورة باستخداماتها من خلال الجدول الآتي:-

الصورة	الإستخدام
	البرقع.
	القدر
	الجفير.
	السرود.

السؤال الثاني: أستكمل العبارات التالية :-

*..... هي أداة تقوم على استخراج الماء من البئر باستخدام بعض الأدوات .

**..... هي مصنوعة من جلد الحيوانات وتستخدم لنقل وحفظ الماء.

*** طلى أجدادي سفنهم قديما بـ.....

تأمل الصورة التي أمامك جيدا ثم أجب عن الأسئلة:-



اسم المبنى :-

.....

يوجد في

إمارة:.....

سبب التسمية بالفلج :-

.....

.....

مميزات الشريعة:-

.....

.....

.....

.....

.....

.....

أهمية الشريعة:-

.....

.....

.....

.....

.....

.....

فكر قليلا ثم
أجب ولا تتعجل
لأنك متميز
وتستطيع
الاحالة.....

ورقة عمل درس (علم الطب)

السؤال الأول :- أكمل يا بطل الأبطال المخططات التالية :-

من العلوم العلمية التي برع فيها المسلمون القدامى :-

.....
.....

.....
.....

.....
.....

.....
.....

.....
.....

الابد للطبيب ن تكون له صفات تؤهله أن يمارس هذه المهنة منها :-

.....
.....
.....

.....
.....
.....

.....
.....
.....

السؤال الثاني : أكمل العبارات الآتية لتتعرف على شخصية أبو بكر الرازي :-

1- ولد أبو بكر الرازي في مدينة.....ببلاد.....

2- كان أبو بكر الرازي اول من ابتكر خيوط.....

3- استخدم الرازي في تجريب الأدوية.

4- فرق الرازي بين أمراضو.....

5- توفي الرازي بعد إصابته بـ.....
ومات عن عمر.....
وكانت وفاته في شهر.....عام 311 هـ

6- من جهود دولة الإمارات في مجال الطب:-

.....
.....
.....

أكتب عن شخصية إماراتية أبدعت في علم الطب
وإكتب عنها نبذة مختصرة:-

.....
.....
.....
.....

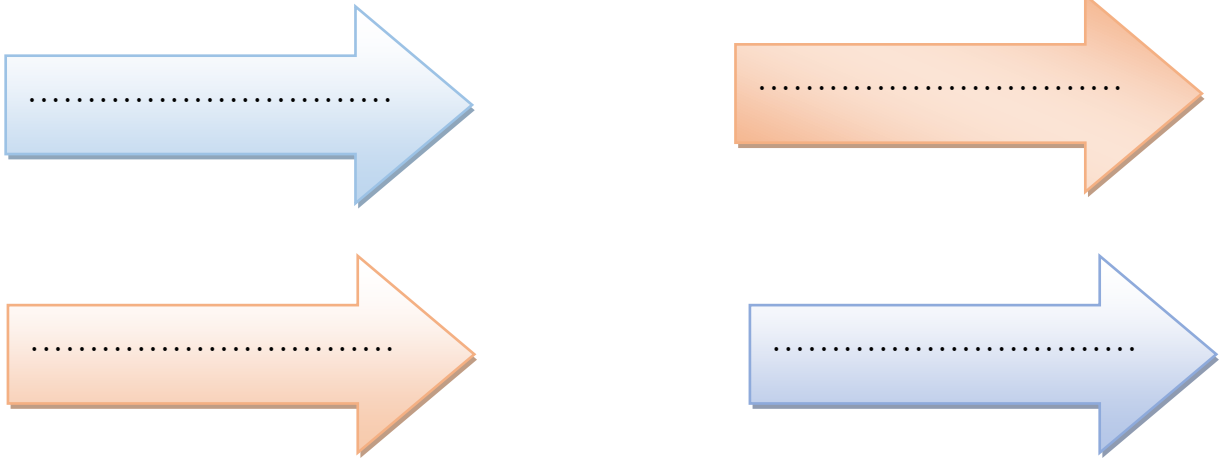
ورقة عمل درس (حضارتنا)

السؤال الأول: أكمل النقاط الآتية :-

من أنــــا :-

* ثمار أي جهد يقوم به الإنسان نتيجة تفاعله مع البيئة لتحسين ظروف حياته.
()

عوامل قيام الحضارة :-



(من ليس له ماض ليس له حاضر ولا مستقبل)

من القائل؟؟

.....

ما القيمة التي نستخلصها من هذه المقولة؟

.....

السؤال الثاني: صل يامبدع بين الموقع الأثري والمدينة التي يوجد فيها:-

الدور

مليحة

أم النار

القصيص

أبو ظبي

دبي

الشارقة

أم القيوين



*توجد قلعة الجاهلي في مدينة.....

