

تم تحميل هذا الملف من موقع المناهج الإماراتية



الملف أوراق عمل درس خصائص الماء متبوعة بالحل

موقع المناهج ← المناهج الإماراتية ← الصف الرابع ← علوم ← الفصل الثاني

روابط مواقع التواصل الاجتماعي بحسب الصف الرابع



روابط مواد الصف الرابع على تلغرام

[الرياضيات](#)

[اللغة الانجليزية](#)

[اللغة العربية](#)

[التربية الاسلامية](#)

المزيد من الملفات بحسب الصف الرابع والمادة علوم في الفصل الثاني

<a href="#">كل ما يخص الاختبار التكويني لمادة العلوم للصف الرابع يوم الثلاثاء 11/2/2020</a>	1
<a href="#">أسئلة الامتحانات التكوينية الأولى</a>	2
<a href="#">تحميل دليل المدرس pdf</a>	3
<a href="#">مطوية الطقس</a>	4
<a href="#">جميع أوراق عمل الفصل الثاني</a>	5

اسم الطالب: .....

الصف : الرابع الشعبة: .....



وزارة التربية والتعليم  
مدرسة الحكمة الخاصة  
العام الدراسي 2021-2022



المجموعة (A) منطقة عجمان التعليمية  
مدرسة الحكمة الخاصة  
قسم العليا بنات

ورقة عمل  
درس خصائص الماء

حوظ الاجابة الصحيحة مما يلي



- 1- ليس لديه لون 2- يوصل الكهرباء 3- ينقل الصوت 4- جميع ما سبق



almanahj.com/ae  
المنهج الإماراتية



(H3O)-4

( O2H ) -3

( HO ) -2

(H2O) -1

2- أي من التالي هو جزئ الماء ؟



-4

3- الماء السائل



2- بخار الماء

1- الماء البارد  
الجليد

3- الشكل الصلب للماء يسمى ؟



- 4 - ما هي خاصية للماء التي تمكن الحشرات من الوقوف على الماء دون الغرق ؟  
1- الكثافة 2- التوتر السطحي 3- حجم الماء 4- كتلة الماء



- 5- هي مقدار الطاقة اللازمة لرفع درجة الحرارة (1جرام) من المادة بمقدار ( 1 درجة سيليزي) :  
1- التوتر السطحي 2- الكثافة 3- الحرارة النوعية 4- درجة الحرارة



اسم الطالب: .....

الصف : **الرابع** الشعبة: .....

المجموعة (A) منطقة عجمان التعليمية  
مدرسة الحكمة الخاصة  
قسم العليا بنات

ورقة عمل  
درس خصائص الماء

حوط الاجابة الصحيحة مما يلي



- 1- ليس لديه لون  
2 - يوصل الكهرباء  
3- ينقل الصوت  
4 - جميع ما سبق



almanahj.com/ae

المنهج الإماراتية

(H3O)-4



( O2H ) -3

( HO ) -2

1- (H<sub>2</sub>O)

2- أي من التالي هو جزئ الماء ؟



4- الجليد

3- الماء السائل



2- بخار الماء

1- الماء البارد

3- الشكل الصلب للماء يسمى ؟



4 - ما هي خاصية الماء التي تمكن الحشرات من الوقوف على الماء دون الغرق ؟

4- كتلة الماء

3- حجم الماء

2- التوتر السطحي

1- الكثافة



5- هي مقدار الطاقة اللازمة لرفع درجة الحرارة (1جرام) من المادة بمقدار ( 1 درجة سيليزي) :

4- درجة الحرارة

3- الحرارة النوعية

2- الكثافة

1- التوتر السطحي



اسم الطالب: .....

الصف الأول الشعبة: .....

المجموعة (B)

منطقة عجمان التعليمية  
مدرسة الحكمة الخاصة  
قسم عليا بنات

ورقة عمل  
درس خصائص الماء

حوط الاجابة الصحية مما يلي

- 1- من استخدامات الماء ؟  
1- سقي النبات 2- طهي الطعام 3- غسل الايدي 4- جميع مما ذكر

صحيح

أي من التالي هو جزئ الماء ؟

- 1- (H<sub>2</sub>O) 2- (HO) 3- (O<sub>2</sub>H) 4- (H<sub>3</sub>O)



3- الشكل الغازي للماء يسمى ...

- 1- الجليد 2- بخار الماء 3- الماء السائل 4- الماء البارد



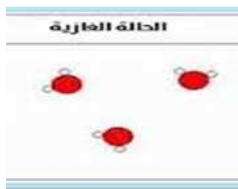
4- ماهي خاصية المادة التي يمكنك ملاحظتها بالصورة ؟

- 1- المغناطيسية 2- الطفو 3- التبخر 4- الذوبان



5- كيف تكون جزيئات الماء في الحالة الغازية ؟

- 1- متراسة 2- لها شكل محدد 3- متباعدة وتتحرك بحرية 4- متراسة ومتقاربة



اسم الطالب: .....

الصف الأول الشعبة: .....

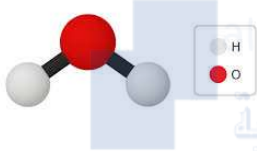
المجموعة (B)

منطقة عجمان التعليمية  
مدرسة الحكمة الخاصة  
قسم عليا بنات

ورقة عمل  
درس خصائص الماء

حوط الاجابة الصحية مما يلي

- 1- سقي النبات 2- طهي الطعام 3- غسل الايدي 4- جميع مما ذكر صحيح



(H3O)-4

( O2H ) -3

( HO ) -2

(H2O) -1

أي من التالي هو جزئ الماء ؟

3- الشكل الغازي للماء يسمى ...

4- الماء البارد

3- الماء السائل

2- بخار الماء

1- الجليد



4- ماهي خاصية المادة التي يمكنك ملاحظتها بالصورة ؟

4- الذوبان

3- التبخر

2- الطفو

1- المغناطيسية



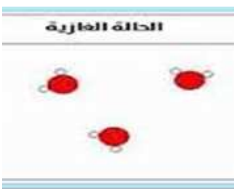
5- كيف تكون جزيئات الماء في الحالة الغازية ؟

2- لها شكل محدد

1- متراسة

4- متراسة ومتقاربة

3- متباعدة وتتحرك بحرية



اسم الطالب: .....

الصف : الرابع الشعبة: .....

منطقة عجمان التعليمية  
مدرسة الحكمة الخاصة  
قسم العليا بنات

ورقة عمل  
درس خصائص الماء

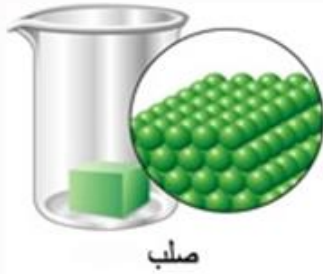
صل بين الصورة المناسبة و الاجابات الصحيحة :



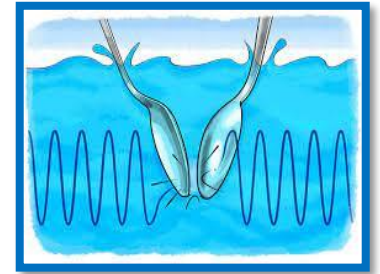
ج- جليد ينصهر

ب- جزئ الماء

أ- الطفو



صلب



و- ينتقل الصوت عبر الماء

د- متقاربة ومتراصة

انت رائعة يا زهرة الحكمة  
هيا بنا نلون علم الامارات الحبيبة



اسم الطالب: .....

الصف : الرابع الشعبة: .....

منطقة عجمان التعليمية  
مدرسة الحكمة الخاصة  
قسم العليا بنات  
المجموعة (C)

ورقة عمل  
درس خصائص الماء

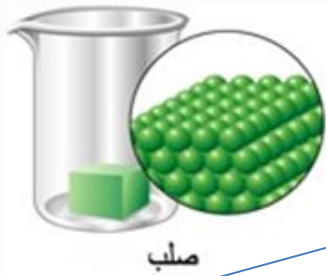
صل بين الصورة المناسبة و الاجابات الصحيحة :



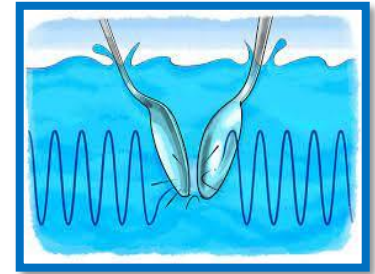
ج- جليد ينصهر

ب- جزئ الماء

أ- الطفو



صلب



و- ينتقل الصوت عبر الماء

د- متقاربة ومتراصة

انت رائعة يا زهرة الحكمة  
هيا بنا نلون علم الامارات الحبيبة

